

PREFEITURA MUNICIPAL DE BOM JESUS DO ITABAPOANA-RJ
SECRETARIA MUNICIPAL DE EDUCAÇÃO, ESPORTE E LAZER

Atividades Orientadoras



Educação de Jovens e Adultos

FASE II



UNIDADE ESCOLAR:

PROFESSORA

DATA

4ª SEMANA DE OUTUBRO

NOME:

FASE

CÓDIGO BNCC



SUBSTANTIVO PRÓPRIO: DENOTA UM ELEMENTO INDIVIDUAL QUE TENHA UM NOME PRÓPRIO DENTRO DE UM CONJUNTO, SENDO GRAFADO SEMPRE COM LETRA MAIÚSCULA. EX: PEDRO, FERNANDA, GIOVANNA, PORTUGAL, ROSAL, BRASÍLIA.

01 TODAS AS ALTERNATIVAS APRESENTAM SUBSTANTIVOS PRÓPRIOS, EXCETO (SÓ UMA NÃO TEM).

- A** TOCANTINS, ÁSIA, ARAGUAIA
- B** JOAQUIM, BRASIL, ARGENTINA
- C** CURUPIRA, SACI, IARA
- D** AMOR, XÍCARA, MOCHILA

SUBSTANTIVO COMUM: DENOMINA UM CONJUNTO DE SERES DE MANEIRA GERAL, OU SEJA, UM SER SEM DIFERENCIAR DOS OUTROS DO MESMO CONJUNTO. EX: LOBO, PIZZA, MÁSCARA.

02 TODAS AS ALTERNATIVAS APRESENTAM SUBSTANTIVOS COMUNS, EXCETO (SÓ UMA NÃO TEM).

- A** CHAPÉU, BONÉ, VASSOURA
- B** PANELA, FOGÃO, GELADEIRA
- C** JOÃO, MANOEL, MARIA
- D** CASA, JANELA, PORTA

03 ENCONTRE NO CAÇA-PALAVRAS AS PALAVRAS DA ATIVIDADE ABAIXO E CIRCULE.

O	A	H	P	E	U	H	E	M	E	A	E
I	G	N	Y	S	N	P	B	Ú	P	O	O
E	O	A	F	N	I	S	I	S	U	N	S
A	T	R	A	U	M	A	T	I	Z	A	R
P	S	E	B	A	C	F	E	C	N	Z	H
O	J	A	P	O	N	E	S	A	L	E	N
U	O	T	O	O	C	A	Y	Z	E	I	W
S	U	R	P	R	E	S	A	I	V	T	S
A	S	V	I	Z	I	N	H	A	E	O	P
D	L	M	M	O	K	I	J	A	Z	N	R
A	R	W	N	N	S	S	U	I	A	A	T
E	S	I	Y	T	D	C	D	A	T	P	O

04 CONSULTE O CAÇA-PALAVRAS ACIMA E COMPLETE AS PALAVRAS USANDO S OU Z NOS ESPAÇOS E ESCREVA AS PALAVRAS NOVAMENTE NA FRENTE.

A____EITONA	
A____IA	
JAPONE____A	
LEVE____A	
MÚ____ICA	
POU____ADA	
SURPRE____A	
TRAUMATI____AR	
VI____INHA	



UNIDADE ESCOLAR:

PROFESSORA

DATA

4ª SEMANA DE OUTUBRO

NOME:


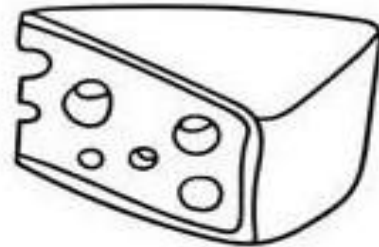
FASE

CÓDIGO BNCC

MA

MATEMÁTICA

01 CIRCULE OS PRODUTOS QUE COMPRAMOS POR LITRO.



02 COMPLETE COM OS ANTECESSORES E SUCESSORES DOS NÚMEROS ABAIXO.

	← 91 →	
	← 85 →	
	← 79 →	
	← 98 →	
	← 82 →	
	← 95 →	
	← 99 →	
	← 87 →	
	← 93 →	
	← 90 →	

03 RESOLVA AS MULTIPLICAÇÕES E COLOQUE OS NÚMEROS NAS CAMISAS DOS JOGADORES DA SELEÇÃO BRASILEIRA.

$$\begin{array}{c} \text{2} \\ \text{X} \\ \text{7} \\ \hline \end{array} = \begin{array}{c} \text{DANILO} \end{array}$$

$$\begin{array}{c} \text{3} \\ \text{X} \\ \text{6} \\ \hline \end{array} = \begin{array}{c} \text{FRED} \end{array}$$

$$\begin{array}{c} \text{2} \\ \text{X} \\ \text{5} \\ \hline \end{array} = \begin{array}{c} \text{NEYMAR} \end{array}$$

$$\begin{array}{c} \text{3} \\ \text{X} \\ \text{7} \\ \hline \end{array} = \begin{array}{c} \text{GABI} \end{array}$$

$$\begin{array}{c} \text{2} \\ \text{X} \\ \text{8} \\ \hline \end{array} = \begin{array}{c} \text{CÁSSIO} \end{array}$$

$$\begin{array}{c} \text{3} \\ \text{X} \\ \text{5} \\ \hline \end{array} = \begin{array}{c} \text{PAULINHO} \end{array}$$



UNIDADE ESCOLAR:

PROFESSORA

DATA
4ª SEMANA DE OUTUBRO

NOME:

FASE

CÓDIGO BNCC

LP

LÍNGUA PORTUGUESA

01 LEIA O TEXTO E RESPONDA:



A ESSE GÊNERO TEXTUAL É:

- CARTA.
- FÁBULA.
- TIRINHA.

B QUAL O ASSUNTO DISCUTIDO PELOS PERSONAGENS?

- ECONOMIA DE ÁGUA.
- ECONOMIA DE DINHEIRO.
- ECONOMIA DE ALIMENTOS.

C POR QUE O CASÇÃO GANHOU ESSA COMPETIÇÃO?

- PORQUE ELE TOMA BANHO DIA SIM E DIA NÃO.
- PORQUE ELE NEM TOMA BANHO.
- PORQUE ELE GOSTA DE TOMAR BANHO DE BANHEIRA.

SUBSTANTIVO CONCRETO.



MARIA



BOLA

SERES REAIS.

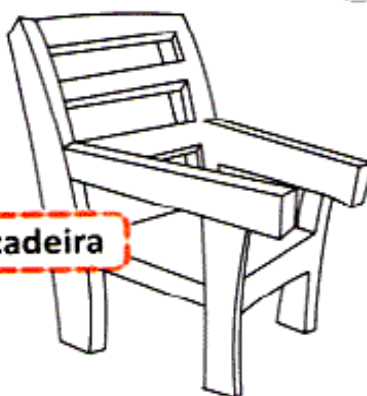
02 CIRCULE OS SUBSTANTIVOS CONCRETOS.



amor



pedra



cadeira



Ana



leão

03 QUAL DAS PALAVRAS DESTACADAS ABAIXO NÃO REPRESENTA UM SUBSTANTIVO ABSTRATO? MARQUE A ALTERNATIVA CORRETA.

- () A SUA **CONQUISTA** SE DEVE AO SEU ESFORÇO.
- () A **HUMILDADE** É A SUA PRINCIPAL CARACTERÍSTICA.
- () A SUA **APRENDIZAGEM** É BASTANTE RÁPIDA.
- () AS SUAS ATITUDES SE BASEIAM NA **JUSTIÇA**.
- () MUITOS **IDOSOS** TÊM PROBLEMAS DE SAÚDE.



UNIDADE ESCOLAR:

PROFESSORA

DATA
4ª SEMANA DE OUTUBRO

NOME:

FASE

CÓDIGO BNCC

MA

MATEMÁTICA

01 COMPLETE A SEQUÊNCIA COM OS NÚMEROS QUE ESTÃO FALTANDO, ANTES, ENTRE E DEPOIS.

	17	
--	----	--

14		16
----	--	----

	10	
--	----	--

9		11
---	--	----

18		20
----	--	----

	13	
--	----	--

	19	
--	----	--

	5	
--	---	--

	18	
--	----	--

8		10
---	--	----

	15	
--	----	--

10		12
----	--	----

	16	
--	----	--

12		14
----	--	----

7		9
---	--	---

17		19
----	--	----

	13	
--	----	--

	19	
--	----	--

15		17
----	--	----

	6	
--	---	--

16		18
----	--	----

	11	
--	----	--

	18	
--	----	--

	14	
--	----	--

02 RESOLVA AS ADIÇÕES ABAIXO E COLOQUE O RESULTADO NO QUADRINHO.

$4 + 2 = \square$

$9 + 1 = \square$

$2 + 5 = \square$

$1 + 7 = \square$

$6 + 7 = \square$

$5 + 8 = \square$

$2 + 9 = \square$

$4 + 4 = \square$

$7 + 0 = \square$

$4 + 5 = \square$

$7 + 1 = \square$

$4 + 2 = \square$

$3 + 6 = \square$

$3 + 7 = \square$

$1 + 5 = \square$

$7 + 7 = \square$

03 MARQUE COM UM X SOMENTE O QUE COMPRAMOS POR QUILOS:

ARROZ

BATATA

CARNE

VINAGRE

AÇÚCAR

FRANGO

FITA

FEIJÃO

FUBÁ

ÁLCOOL

REFRIGERANTE

OVOS



UNIDADE ESCOLAR:

PROFESSORA

DATA
4ª SEMANA DE OUTUBRO

NOME:

FASE

CÓDIGO BNCC

LP **LÍNGUA PORTUGUESA**

01 **FIQUE DE OLHO**

ESCREVA OS SUBSTANTIVOS COLETIVOS DE:



















02 **NUMERANDO COLETIVOS**

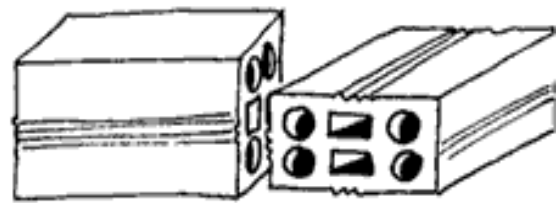
ACHE O COLETIVO, ORDENANDO OS NUMERAIS NA ORDEM CRESCENTE.



M	I	E	T
3	2	4	1





B	N	O	R	E	H	A
3	5	7	1	2	6	4



R	L	E	M	T	H	A	E	A
1	5	9	3	8	6	2	7	4

L	I	H	P	A
3	2	4	1	5



A	B	M	L	U
1	3	5	2	4

E	R	U	A	D	Q	S	A
1	7	4	5	6	3	2	8

CAÇA PALAVRAS

NO DIAGRAMA ABAIXO ESTÃO ESCONDIDOS OITO COLETIVOS. VAMOS ENCONTRÁ-LOS?



D	E	Ç	O	A	L	C	A	T	E	I	A
B	N	U	V	E	M	H	M	A	N	D	M
A	X	B	P	V	C	N	B	C	P	S	O
C	A	L	B	U	M	B	Q	A	P	R	M
T	M	Ã	P	S	A	Ã	U	R	E	T	O
I	E	O	L	D	T	L	V	D	V	T	L
J	E	K	Y	X	I	J	K	U	U	X	H
Ö	C	Z	Q	K	L	W	S	M	R	Q	O
F	J	R	W	B	H	U	K	E	F	I	E
I	S	Ö	G	T	A	Z	O	L	J	O	Y
A	Ç	Ã	H	Z	D	T	U	V	X	M	N
C	O	N	S	T	E	L	A	Ç	Ã	O	G

- MATILHA DE CÃES
- ENXAME DE ABELHAS
- NUVEM DE GAFANHOTOS
- ÁLBUM DE FOTOS OU SELOS
- ALCATEIA DE LOBOS
- CARDUME DE PEIXES
- MOLHO DE CHAVES
- CONSTELAÇÃO DE ESTRELAS

