

PREFEITURA MUNICIPAL DE BOM JESUS DO ITABAPOANA-RJ  
SECRETARIA MUNICIPAL DE EDUCAÇÃO, ESPORTE E LAZER

**SEMEEL**

*A mudança está em nossas mãos*

# Atividades Orientadoras



**1º**  
ano

# Ensino Fundamental

UNIDADE ESCOLAR:

PROFESSOR(A)

ANO DE ESCOLARIDADE

1º ano

DATA

41ª semana (5 a 9/12)

NOME:

HOJE É?

SEGUNDA

TERÇA

QUARTA

QUINTA

SEXTA

CÓDIGO BNCC

EF12LP02 / EF01LP03

## LÍNGUA PORTUGUESA

O TEXTO QUE VOCÊ VAI CONHECER NARRA A HISTÓRIA DE UMA BOLA QUE NÃO SABIA SER BOLA. VOCÊ VAI GOSTAR!

1. LEIA O TEXTO COM A AJUDA DA PROFESSORA E RESPONDA:

### A BOLA DE FUTEBOL

(CRÔNICA JORNALÍSTICA)



A PRIMEIRA VEZ QUE MEU DONO ME PÔS NO CHÃO E ME DEU UM PONTAPÉ, SUPUS QUE EU HAVIA COMETIDO UMA FALTA GRAVE E QUE ESTAVA ZANGADO COMIGO. “QUE BRUTO” – PENSEI. “SE ISSO É MODO DE ENSINAR!” MAS EU ESTAVA ENGANADA. O QUE FAZIA O MEU DONO ERA BRINCAR COMIGO. OBRIGAVA-ME A CORRER E VINHA ATRÁS DE MIM PARA ME ALCANÇAR.

CERTOS DIAS, LEVAVA-ME PARA O CAMPO. MUITOS MENINOS ME ESPERAVAM ALI, ANSIOSOS POR JOGAR COMIGO, CORRENDO PELA GRAMA. BRINCAM DE FAZER-ME ENTRAR NUMA REDE COMO SE EU FOSSE UM PEIXE. QUANDO ENTRO, ELES GRITAM: “GOOOL”, E ME PEGAM E ME ACARICIAM.

ACONTECEU-ME, CERTA VEZ, UMA DESGRAÇA. UM AMIGO DE MEU DONO PÔS-ME NO MEIO DO QUINTAL E DEU-ME UM PONTAPÉ. POR MAIS QUE EU FIZESSE, NÃO PUDE EVITAR... QUEBREI O VIDRO DA JANELA, ENTREI NA COZINHA E CAÍ NA FRIGIDEIRA COM AZEITE FERVENDO.

A COZINHEIRA GRITOU ASSUSTADA, DEPOIS FICOU FURIOSA; MAS SALVOU-ME DE MORTE CERTA. APESAR DE NÃO TER TIDO CULPA, PASSEI MUITOS DIAS E MUITAS NOITES DE CASTIGO, NUM CANTO ESCURO, COM BARATAS E CAMUNDONGOS POR ÚNICOS COMPANHEIROS.

(AUTOR DESCONHECIDO)

## ANALISANDO O TEXTO

A. QUAL É O TÍTULO DO TEXTO? \_\_\_\_\_

B. PINTE NO TEXTO AS PALAVRAS QUE VOCÊ CONSEGUE LER SOZINHO.

C. QUEM ESTÁ CONTANDO A HISTÓRIA É:

( ) O(A) AUTOR(A).

( ) O DONO DA BOLA.

( ) A BOLA.



D. QUEM CHUTOU A BOLA PELA PRIMEIRA VEZ? \_\_\_\_\_

E. QUE ENGANO COMETEU A BOLA QUANDO RECEBEU O CHUTE?  
\_\_\_\_\_

F. O QUE OS MENINOS GRITAM QUANDO A BOLA ENTRA NA REDE? \_\_\_\_\_

G. QUE FAVOR A COZINHEIRA PRESTOU À BOLA? \_\_\_\_\_  
\_\_\_\_\_

H. VOCÊ ACHA QUE A BOLA TEVE UM FINAL FELIZ? TRANSCREVA O DESFECHO DO TEXTO.  
\_\_\_\_\_  
\_\_\_\_\_

3. NUMERE OS FATOS DE ACORDO COM A ORDEM DOS ACONTECIMENTOS NO TEXTO:

( ) OBRIGAVA-ME A CORRER E IA ATRÁS DE MIM.

( ) MUITOS MENINOS ME ESPERAVAM ANSIOSOS PARA JOGAR.

( ) MEU DONO ME PÔS NO CHÃO E ME DEU UM PONTAPÉ.

( ) CERTOS DIAS, ME LEVAVA PARA O CAMPO.



4. USE (FE) PARA FRASES EXCLAMATIVAS E (FI) PARA FRASES INTERROGATIVAS.

A) ( ) QUE BRUTO!

B) ( ) O QUE FAZIA O MEU DONO?


C) ( ) GOOOOOOL!

D) ( ) POR QUE A COZINHEIRA GRITOU?

E) ( ) XIII!! QUEBREI O VIDRO DA JANELA!



5. OBSERVE AS CENAS ABAIXO E ESCREVA A PARTE DO TEXTO REFERENTE A CADA UMA DELAS.




---

---

---

---

---



---

---

---

---

---



---

---

---

---

---

UNIDADE ESCOLAR:

PROFESSOR(A)

ANO DE ESCOLARIDADE

DATA

NOME:

HOJE É?

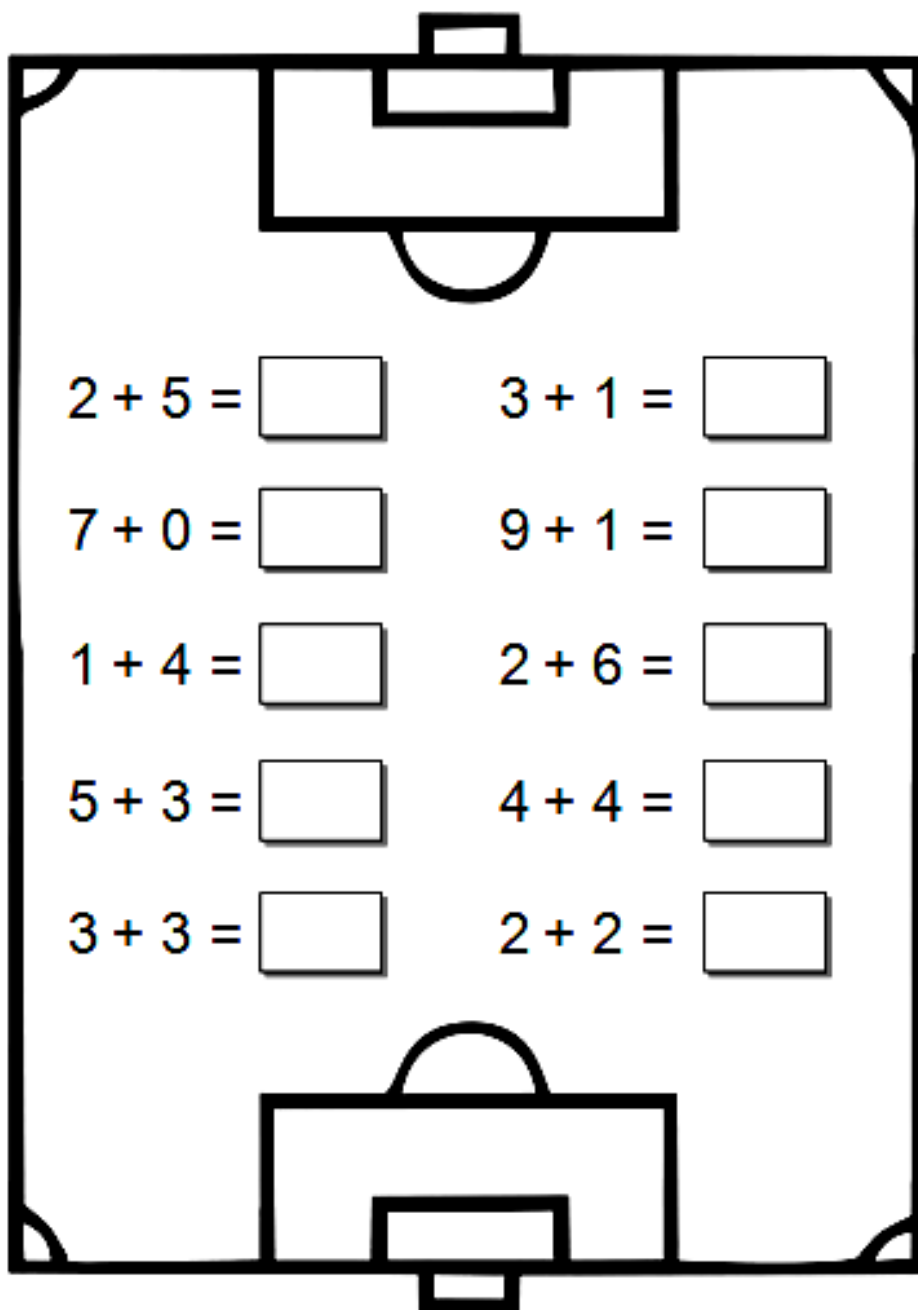
SEGUNDA  TERÇA  QUARTA  QUINTA  SEXTA

CÓDIGO BNCC

# MATEMÁTICA



1. RESOLVA AS ADIÇÕES:



2 + 5 =

7 + 0 =

1 + 4 =

5 + 3 =

3 + 3 =

3 + 1 =


9 + 1 =

2 + 6 =

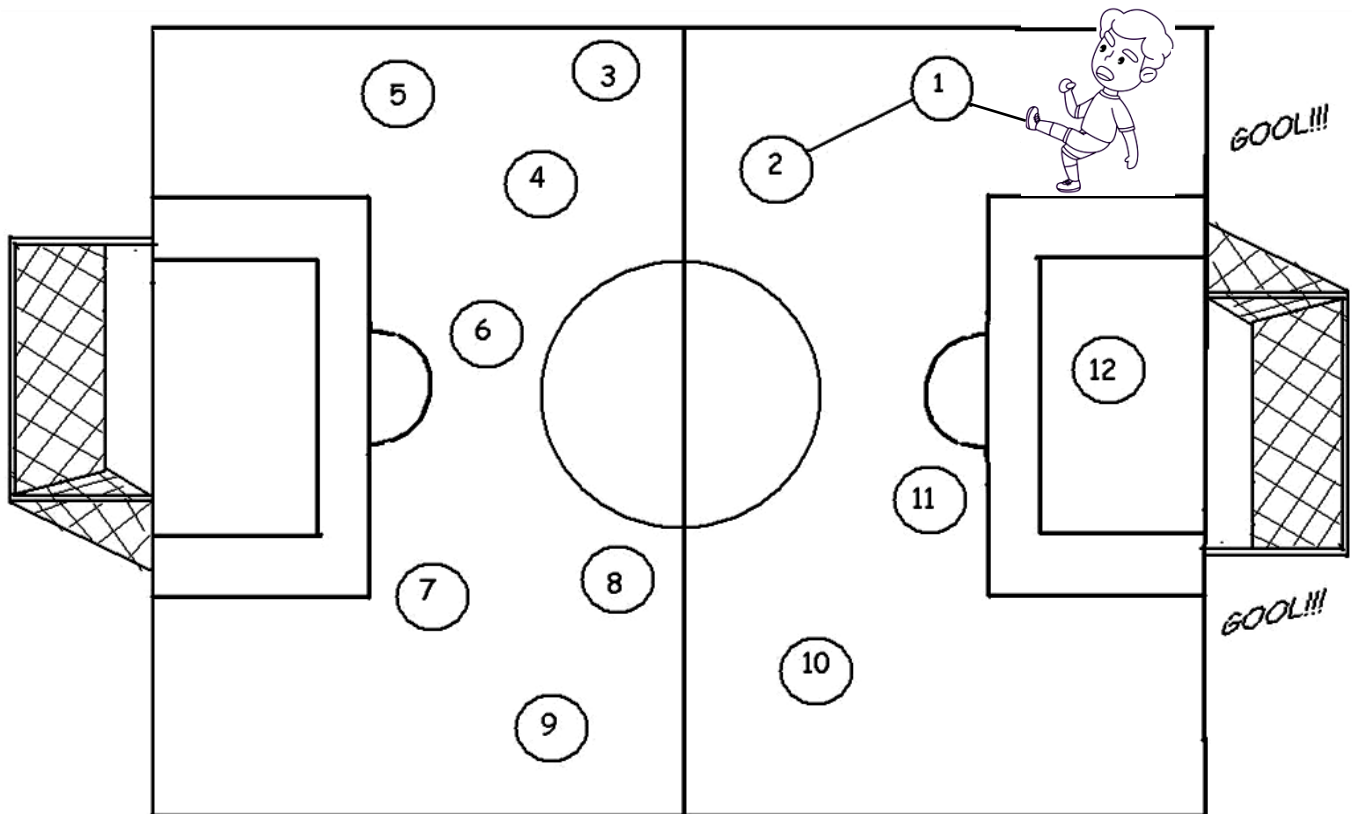
4 + 4 =

2 + 2 =

**GOOOOOL!**



2. AJUDE O JOGADOR PARA QUE ELE FAÇA O GOL.



3. CALCULE E COMPLETE OS QUADRINHOS COM OS NÚMEROS FALTOSOS:

$8 + \square = 15$
$\square + 5 = 12$
$7 + \square = 16$
$\square + 2 = 11$
$3 + \square = 10$
$\square + 9 = 18$
$8 + \square = 16$
$\square + 5 = 13$
$8 + \square = 12$

$\square + 9 = 14$
$8 + \square = 15$
$\square + 6 = 11$
$9 + \square = 12$
$\square + 5 = 14$
$6 + \square = 16$
$\square + 2 = 10$
$6 + \square = 13$
$\square + 7 = 11$





UNIDADE ESCOLAR:

PROFESSOR(A)

ANO DE ESCOLARIDADE

DATA

NOME:

HOJE É?

SEGUNDA  TERÇA  QUARTA  QUINTA  SEXTA

CÓDIGO BNCC

# LÍNGUA PORTUGUESA

**PEDRO**



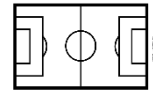
## 1. CARTA ENIGMÁTICA.



PEDRO É UM \_\_\_\_\_ DE FUTEBOL.



ELE PEGOU A \_\_\_\_\_, A \_\_\_\_\_, A \_\_\_\_\_.



A \_\_\_\_\_, E O \_\_\_\_\_ E FOI PARA O \_\_\_\_\_



\_\_\_\_\_ PEGOU A \_\_\_\_\_ E DEU UM CHUTE.



MAS O JUIZ PEGOU LOGO O \_\_\_\_\_. ELE ESTAVA IMPEDIDO.



DEPOIS \_\_\_\_\_ DRIBLOU E CHUTOU COM MUITA FORÇA!



A \_\_\_\_\_ FOI PARAR DENTRO DA \_\_\_\_\_.



E A \_\_\_\_\_ GRITOU: - GOOL! GOOL! GOOL!





UNIDADE ESCOLAR:

PROFESSOR(A)

ANO DE ESCOLARIDADE

DATA

NOME:

HOJE É?

SEGUNDA  TERÇA  QUARTA  QUINTA  SEXTA

CÓDIGO BNCC

# MATEMÁTICA

1. OBSERVE A LEGENDA E RESPONDA:

CADA QUADRINHO PINTADO REPRESENTA UM GOL MARCADO POR PEDRO EM CADA PARTIDA DA COPA DO MUNDO.

	1º DIA	2º DIA	3º DIA	4º DIA
	<input type="checkbox"/>	<input type="checkbox"/>	<input type="checkbox"/>	<input type="checkbox"/>
	<input checked="" type="checkbox"/>	<input type="checkbox"/>	<input type="checkbox"/>	<input type="checkbox"/>
	<input checked="" type="checkbox"/>	<input type="checkbox"/>	<input type="checkbox"/>	<input type="checkbox"/>
	<input checked="" type="checkbox"/>	<input type="checkbox"/>	<input type="checkbox"/>	<input checked="" type="checkbox"/>
	<input checked="" type="checkbox"/>	<input type="checkbox"/>	<input type="checkbox"/>	<input checked="" type="checkbox"/>
	<input checked="" type="checkbox"/>	<input type="checkbox"/>	<input checked="" type="checkbox"/>	<input checked="" type="checkbox"/>
	<input checked="" type="checkbox"/>	<input checked="" type="checkbox"/>	<input checked="" type="checkbox"/>	<input checked="" type="checkbox"/>
	<input checked="" type="checkbox"/>	<input checked="" type="checkbox"/>	<input checked="" type="checkbox"/>	<input checked="" type="checkbox"/>

A. QUANTOS GOLS PEDRO FEZ NO QUARTO DIA A MAIS QUE NO TERCEIRO DIA?

B. QUANTOS GOLS PEDRO FEZ NO PRIMEIRO DIA A MAIS QUE NO SEGUNDO DIA?

C. QUANTOS GOLS PEDRO FEZ NO QUARTO DIA A MENOS QUE NO PRIMEIRO?

D. QUANTOS GOLS PEDRO FEZ EM TODOS OS DIAS?

2. COMPLETE A SEQUÊNCIA NUMÉRICA:

1				5			8		10
		13			16			19	
			24						
31									40
	42					47			
51				55				59	
		63					68		
	72				76				80
			84			87			
91				95					



3. VOCÊ SABIA QUE O CATAR, PAÍS SEDE DA COPA DO MUNDO, TEM O FUSO HORÁRIO DE 6 HORAS DE DIFERENÇA DO NOSSO? SENDO ASSIM, ACERTE OS RELÓGIOS.

BRASIL	CATAR	CATAR	BRASIL

UNIDADE ESCOLAR:

PROFESSOR(A)

ANO DE ESCOLARIDADE

1º ano

DATA

41ª semana (5 a 9/12)

NOME:

HOJE É?

SEGUNDA

TERÇA

QUARTA

QUINTA

SEXTA

CÓDIGO BNCC

EF01HI03.RJ

# HISTÓRIA



## MOSTRE QUE VOCÊ É CRAQUE E RESPONDA!

1. QUANTAS ESTRELAS APARECEM NO EMBLEMA ABAIXO DA CONFEDERAÇÃO BRASILEIRA DE FUTEBOL (CBF)?



2. AS ESTRELAS QUE APARECEM NO EMBLEMA SIGNIFICAM QUE A SELEÇÃO BRASILEIRA DE FUTEBOL É:

- A) ( ) CAMPEÃ
- B) ( ) BICAMPEÃ
- C) ( ) TRICAMPEÃ
- D) ( ) TETRACAMPEÃ
- E) ( ) PENTACAMPEÃ



3. O QUE É COPA DO MUNDO?

---

---

---

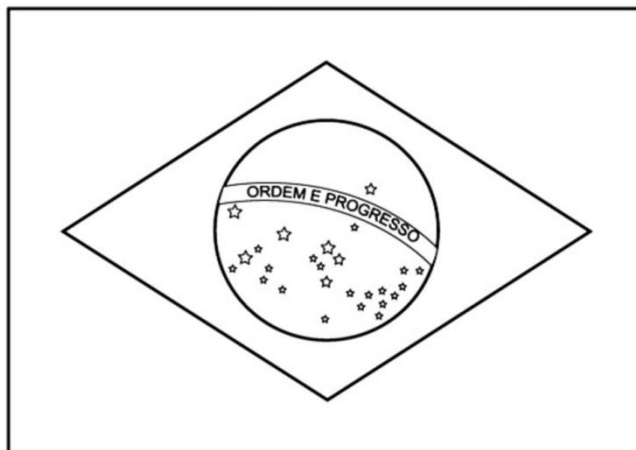
4. QUAL O PERÍODO DE INTERVALO QUE ACONTECE A COPA DO MUNDO?

---

5. NA COPA DO MUNDO TORCEMOS PELO:

I	J	B	T	A	R	O
X	M	S	P	L		

6. ESTA É A BANDEIRA DO BRASIL:



ESCREVA O NOME DE CADA UMA DAS CORES DA BANDEIRA DO BRASIL E DEPOIS PINTE-A: