

PREFEITURA MUNICIPAL DE BOM JESUS DO ITABAPOANA-RJ
SECRETARIA MUNICIPAL DE EDUCAÇÃO, ESPORTE E LAZER

SEMEEL

A mudança está em nossas mãos

Atividades Orientadoras



1º
ano

Ensino Fundamental

UNIDADE ESCOLAR:

PROFESSOR(A) ANO DE ESCOLARIDADE DATA

NOME:

HOJE É?

SEGUNDA TERÇA QUARTA QUINTA SEXTA

CÓDIGO BNCC

EF01LP07.RJ / EF01LP07/ EF01LP09



LÍNGUA PORTUGUESA



1. COMPLETE O ALFABETO COM AS LETRAS QUE FALTAM:


A	B	C	D	E	F	G
H	I	J		L	M	N
O	P	Q	R	S	T	U
V		X		Z		



2. ESCREVA QUEM VEM ANTES E QUEM VEM DEPOIS:



<input type="text"/>	J	<input type="text"/>	<input type="text"/>	O	<input type="text"/>	<input type="text"/>	X	<input type="text"/>
<input type="text"/>	C	<input type="text"/>	<input type="text"/>	M	<input type="text"/>	<input type="text"/>	V	<input type="text"/>
<input type="text"/>	F	<input type="text"/>	<input type="text"/>	Q	<input type="text"/>	<input type="text"/>	S	<input type="text"/>
<input type="text"/>	G	<input type="text"/>	<input type="text"/>	E	<input type="text"/>	<input type="text"/>	U	<input type="text"/>



LEMBRE-SE:
 Y TEM O MESMO SOM DO I.
 W TEM O MESMO SOM DO U / V.

3. COMPLETE AS PALAVRAS COM WA, WE, WI, WO.



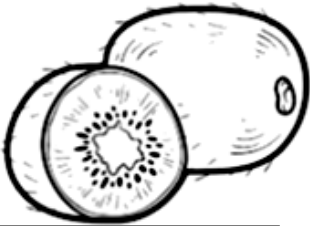
_____LVERINE



_____BCAM



_____LKMAN



KI_____



_____FI



_____ODY

4. CIRCULE AS PALAVRAS DE ACORDO COM O NOME DAS FIGURAS:

LETRA Y

	KOMBI
	ANTA
	YASMIN

	YAKISOBA
	KARAOKÊ
	ALMOFADA

	YOGURT
	JAULA
	KIT KAT

	JOIA
	KINDER OVO
	YOUTUBE

	YIN YANG
	KART
	JARRA

	KÁTIA
	YAKULT
	JANELA



UNIDADE ESCOLAR:

PROFESSOR(A)

ANO DE ESCOLARIDADE

DATA

NOME:

HOJE É?

SEGUNDA TERÇA QUARTA QUINTA SEXTA

CÓDIGO BNCC



MATEMÁTICA

1. RESOLVA:

MOSTRE QUE VOCÊ É
CRAQUE E RESOLVA A
CRUZADINHA:

$6 + 6 =$	D				
$10 + 3 =$		E			
$4 + 7 =$		Z			
$1 + 1 + 1 =$		E			
$10 - 5 =$		N			
$5 + 3 =$		O			
$13 + 7 =$	V				
$4 + 2 =$	E				



$17 + 13 =$	T					
$20 + 20 =$		R				
$11 + 6 =$		E				
$15 + 3 =$		Z				
$40 + 10 + 10 =$		E				

2. É HORA DO DESAFIO DOS CAMPEÕES! RESOLVA OS PROBLEMINHAS!

- CASCÃO E CEBOLINHA ESTÃO SE PREPARANDO PARA ASSISTIR AOS JOGOS DA COPA DO MUNDO NO CATAR. ELES FORAM AO SUPERMERCADO E COMPRARAM OS SEGUINTE PRODUTOS:

PRODUTOS	PREÇOS
1 SACO DE PIPOCA	4 REAIS
1 SACO DE AMENDOIM	3 REAS
APITOS	1 REAL
SUCOS	10 REAIS
VUVUZELA	5 REAIS



- CASCÃO TINHA 48 REAIS E COMPROU 1 SACO DE PIPOCA, 2 SACOS DE AMENDOIM, 2 APITOS, 1 CAIXA DE SUCO E 1 VUVUZELA. QUANTOS REAIS CASCÃO GASTOU?

CALCULE:

- CEBOLINHA TINHA 59 REIAS E COMPROU 3 SACOS DE PIPOCA, 2 SACOS DE AMENDOIM, 5 APITOS, 2 CAIXAS DE SUCO E UMA VUVUZELA. QUANTOS REAIS CEBOLINHA GASTOU?

CALCULE:

- QUEM GASTOU MAIS NO SUPERMERCADO? _____
- QUANTOS SACOS DE PIPOCA CEBOLINHA E CASCÃO COMPRARAM JUNTOS? _____
- QUANTOS APITOS ELES COMPRARAM JUNTOS? _____
- QUANTOS REAIS CEBOLINHA GASTOU A MAIS QUE CASCÃO? _____
- QUANTOS REAIS CEBOLINHA RECEBEU DE TROCO? _____
- QUANTOS REAIS CASCÃO RECEBEU DE TROCO? _____

UNIDADE ESCOLAR:

PROFESSOR(A)

ANO DE ESCOLARIDADE

DATA

NOME:

HOJE É?

SEGUNDA TERÇA QUARTA QUINTA SEXTA

CÓDIGO BNCC

 **LÍNGUA PORTUGUESA** 

1. LEIA O POEMA DE CECÍLIA MEIRELES E RESPONDA:

JOGO DE BOLA

A BELA BOLA ROLA
A BELA BOLA DO RAUL

A BOLA AMARELA
A DA ARABELA

A DO RAUL
AZUL.

ROLA A AMARELA
E PULA A AZUL.

A BOLA É MOLE,
É MOLE E ROLA.

A BOLA PULA,
É BELA E PULA.

É BELA, ROLA E PULA.
É MOLE, AMARELA E AZUL.

A DE RAUL É DE ARABELA,
E A DE ARABELA É DE RAUL.



2. ESTE POEMA É SOBRE UMA:

- A) BONECA
- B) BOLA
- C) BOTA
- D) BOLACHA

3. A COR DA BOLA DA ARABELA É:

- A) AZUL
- B) AMARELA
- C) VERMELHA
- D) VERDE



4. A BOLA É DO:

- A) RAÍ
- B) RAMON
- C) RAUL
- D) RONALDO



5. A BOLA DO RAUL É:

- A) AMARELA
- B) AZUL
- C) BRANCA
- D) VERDE

6. MARQUE A PALAVRA QUE RIMA COM BOLA:


- A) BICO
- B) MOLA
- C) PATO
- D) LIXO

7. MARQUE A PALAVRA QUE RIMA COM ARABELA:

- A) MOLA
- B) AMARELA
- C) PULA
- D) FEIA



8. ENCONTRE AS PALAVRAS DO QUADRO NO CAÇA-PALAVRAS DA COPA DO MUNDO:



UNIDADE ESCOLAR:

PROFESSOR(A)

ANO DE ESCOLARIDADE

DATA

NOME:

HOJE É?

SEGUNDA TERÇA QUARTA QUINTA SEXTA

CÓDIGO BNCC



LÍNGUA PORTUGUESA



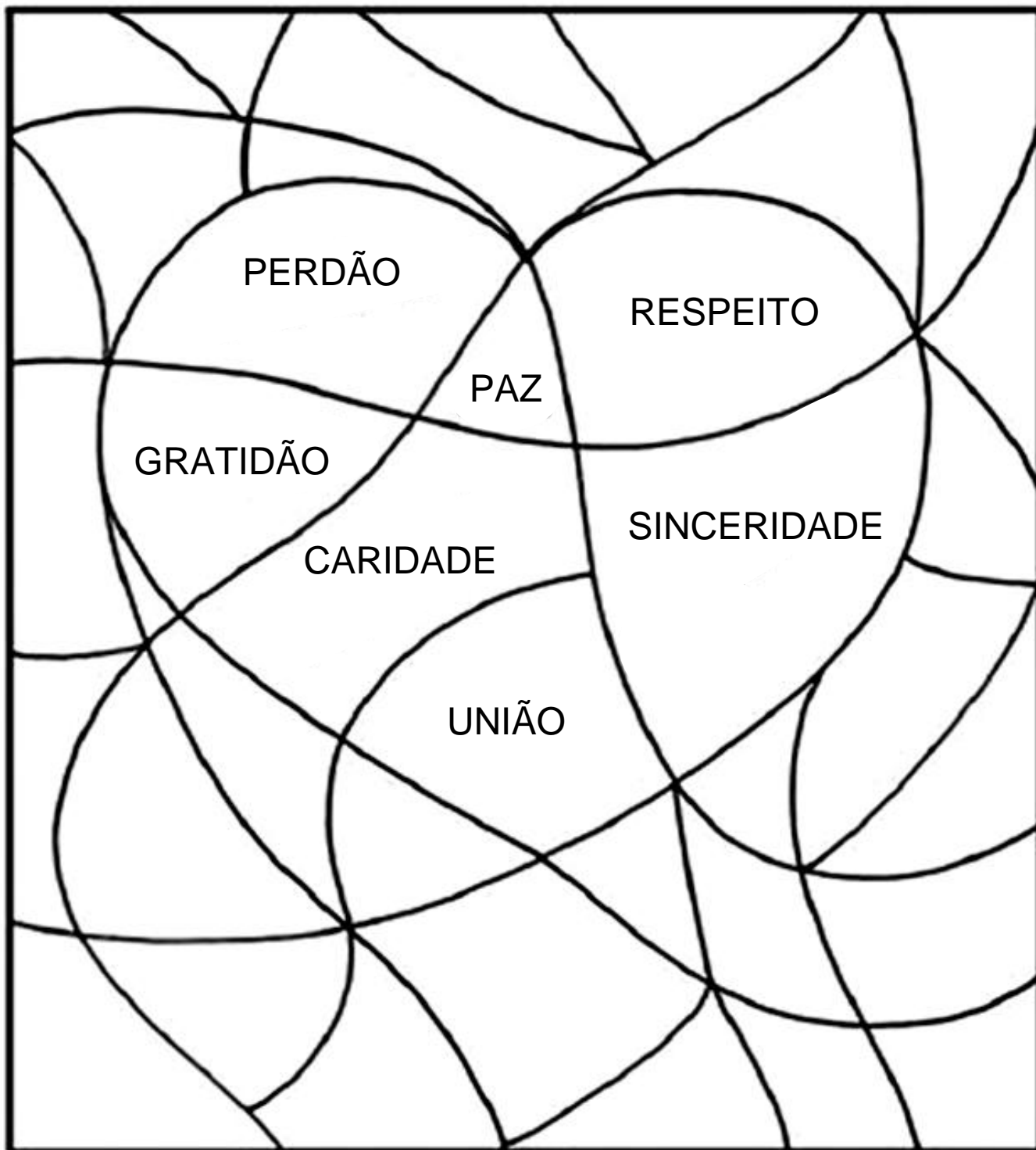
DIA DE AÇÃO DE GRAÇAS

“EM TUDO DAI GRAÇAS, PORQUE ESSA É A VONTADE DE DEUS” (1Ts 5:18)

1. O QUE VOCÊ GOSTARIA DE DAR GRAÇAS AO SENHOR? ESCREVA.



2. TODAS AS PALAVRAS ABAIXO SÃO VIRTUDES QUE DEVEMOS CULTIVAR. PINTE-AS PARA FORMAR O CORAÇÃO.



3. ESCREVA AS PALAVRAS QUE ESTÃO DENTRO DO CORAÇÃO:

UNIDADE ESCOLAR:

PROFESSOR(A)

ANO DE ESCOLARIDADE

DATA

NOME:

HOJE É?

SEGUNDA

TERÇA

QUARTA

QUINTA

SEXTA

CÓDIGO BNCC



MATEMÁTICA



1. COMPLETE O CALENDÁRIO DE NOVEMBRO DE 2022.

MÊS: ANO:

DOMINGO	SEGUNDA	TERÇA	QUARTA	QUINTA	SEXTA	SÁBADO



2. EM QUE MÊS ESTAMOS? _____

3. QUAIS AS DATAS COMEMORATIVAS DESTE MÊS? _____

4. PINTE DE VERDE A DATA DA ABERTURA DA COPA DE 2022.

5. EM QUE DIA DA SEMANA TEVE INÍCIO A COPA DO MUNDO? _____

6. DE QUANTO EM QUANTO TEMPO ACONTECE A COPA DO MUNDO? _____

7. SE O JOGO DO BRASIL ACONTECER 5 DIAS APÓS O INÍCIO DA COPA, QUE DATA SERÁ? _____

8. E EM QUAL DIA DA SEMANA? _____

9. OBSERVE AS CAMISAS DE ALGUMAS SELEÇÕES QUE VÃO JOGAR A COPA DO MUNDO EM 2022.

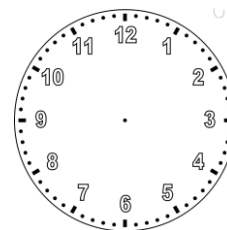


- ✚ PINTE DE VERMELHO A CAMISA QUE TEM O MAIOR NÚMERO.
- ✚ PINTE DE AZUL A CAMISA QUE TEM A SOMA DE $9 + 9$.
- ✚ PINTE DE VERDE A CAMISA QUE O NÚMERO REPRESENTA UMA DEZENA.
- ✚ PINTE DE AMARELO A CAMISA QUE TEM O MENOR NÚMERO.
- ✚ PINTE DE LARANJA O NÚMERO QUE ESTÁ ENTRE O OITO E O DEZ.
- ✚ PINTE DE ROXO A CAMISA QUE REPRESENTA 3 DEZENAS E 4 UNIDADES.

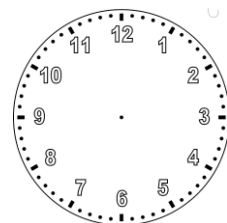
10. OS RELÓGIOS À SUA ESQUERDA INDICAM OS HORÁRIOS DE ALGUNS JOGOS DA COPA DO MUNDO. MARQUE OS DA DIREITA DE ACORDO COM AS ORIENTAÇÕES.



O JOGO ATRASOU 3H.



O JOGO ADIANTOU 5H.



O JOGO ATRASOU 4H.

