

PREFEITURA MUNICIPAL DE BOM JESUS DO ITABAPOANA-RJ
SECRETARIA MUNICIPAL DE EDUCAÇÃO, ESPORTE E LAZER

SEMEEL

A mudança está em nossas mãos

Atividades Orientadoras



2º
ano



Ensino Fundamental

UNIDADE ESCOLAR:

PROFESSOR(A)

ANO DE ESCOLARIDADE

DATA

NOME:

HOJE É?

SEGUNDA TERÇA QUARTA QUINTA SEXTA

CÓDIGO BNCC

EF02MA07

MATEMÁTICA



1- LIGUE CADA MULTIPLICAÇÃO À FIGURA CORRESPONDENTE:



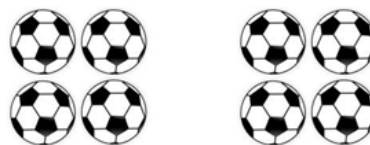
3×9



2×4



4×3



2 - OBSERVE OS EXEMPLOS E RESOLVA AS DIVISÕES.

$12 \div 2 = \underline{6}$

$\underline{\hspace{2cm}} \div 2 = \underline{\hspace{2cm}}$

$\underline{\hspace{2cm}} \div 3 = \underline{\hspace{2cm}}$

$\underline{\hspace{2cm}} \div 3 = \underline{\hspace{2cm}}$

$\underline{\hspace{2cm}} \div 4 = \underline{\hspace{2cm}}$

$\underline{\hspace{2cm}} \div 4 = \underline{\hspace{2cm}}$

UNIDADE ESCOLAR:

PROFESSOR(A)

ANO DE ESCOLARIDADE

2º ANO

DATA

41ª SEMANA (05 A 09/12)

NOME:

HOJE É?

SEGUNDA TERÇA QUARTA QUINTA SEXTA

CÓDIGO BNCC

EF02LP20



MASCOTE LA´EEB

QUASE TÃO ANTIGO QUANTO A PRÓPRIA COPA DO MUNDO, OS MASCOTES SÃO ESPERADOS POR TODOS OS AMANTES DO FUTEBOL.

O CATAR REVELOU O MASCOTE DA COPA DO MUNDO 2022: LA´EEB, QUE DE ACORDO COM

A FIFA SIGNIFICA "JOGADOR HABILIDOSO" OU NO JARGÃO ESPORTIVO, "CRAQUE".

O MASCOTE LA´EEB FOI BASEADO EM LENÇO DE CABEÇA TRADICIONAL DA CULTURA ÁRABE. EM CADA EDIÇÃO, O MASCOTE ESCOLHIDO REPRESENTA, DE ALGUMA FORMA, AS CARACTERÍSTICAS DO PAÍS SEDE.

O DESENHO FOI ANUNCIADO PELO COMITÊ ORGANIZADOR LOCAL ANTES DO SORTEIO DOS GRUPOS.

O MASCOTE OFICIAL DA COPA DO MUNDO DE 2022 ESTÁ CHEIO DE ENERGIA E VAI TRAZER A ALEGRIA DO FUTEBOL PARA TODOS.



ATIVIDADES

1- QUAL É O NOME DO MASCOTE DA COPA DO MUNDO DE 2022?

2- QUAL O SIGNIFICADO DO SEU NOME?

3- EM QUE FOI BASEADO O MASCOTE LA'EEB?

4- O QUE ELE REPRESENTA?

5- QUAL O PAÍS SEDE DA COPA DO MUNDO 2022?

❖ VAMOS COLORIR?

MASCOTE
LA'EEB





UNIDADE ESCOLAR:

PROFESSOR(A)

ANO DE ESCOLARIDADE

DATA

NOME:

HOJE É?

SEGUNDA

TERÇA

QUARTA


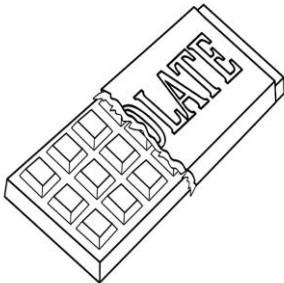
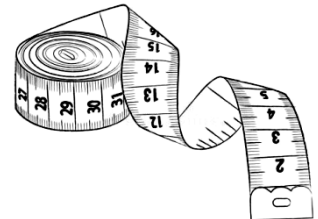
QUINTA

SEXTA

CÓDIGO BNCC

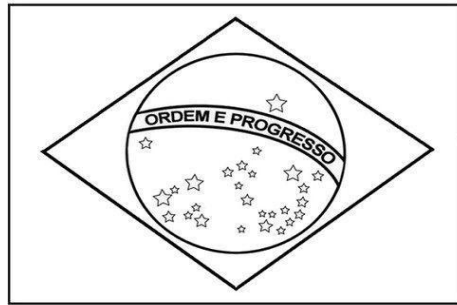
MATEMÁTICA

1- OBSERVE OS OBJETOS E LIGUE ÀS MEDIDAS CORRETAMENTE.



2- PARA FAZER UMA BANDEIRA DO BRASIL, RITA PRECISA DE 18 METROS DE TECIDO. ELA JÁ TEM 6 METROS. QUANTOS METROS DE TECIDO ELA PRECISA COMPRAR PARA COMPLETAR?

CÁLCULO



R: RITA PRECISA COMPRAR _____ METROS DE TECIDO.

3- SÉRGIO E MARCOS VIAJARAM PARA O CATAR. O TRAJETO TOTAL TEM 789 KM. ELES FIZERAM 564 KM DE AVIÃO E O RESTANTE DE CARRO. QUANTOS KM ANDARAM DE CARRO?

CÁLCULO



R: ANDARAM DE CARRO _____ KM.

4- VOVÓ LUIZA FEZ 2 LITROS DE SUCO DE LARANJA PARA SEUS NETINHOS BEBEREM NA HORA DO JOGO DO BRASIL. ELA DIVIDIU O SUCO EM COPOS DE 200ML. QUANTOS COPOS FORAM NECESSÁRIOS? PINTE.





UNIDADE ESCOLAR:

PROFESSOR(A)

ANO DE ESCOLARIDADE

DATA

NOME:

HOJE É?


SEGUNDA TERÇA QUARTA QUINTA SEXTA

CÓDIGO BNCC

EF02LP02

LÍNGUA PORTUGUESA

MOSTRE QUE VOCÊ É CRAQUE!



GOL!

1 - COMPLETE COM GOL E LEIA AS PALAVRAS.

<input type="text"/>	<input type="text"/> PE	<input type="text"/> FO
<input type="text"/> EADA	AN <input type="text"/> A	AR <input type="text"/> A
<input type="text"/> EIRO	DE <input type="text"/> A	EN <input type="text"/> IU
<input type="text"/> FINHO	<input type="text"/> FADA	<input type="text"/> IAS
<input type="text"/> GOL	<input type="text"/> A	<input type="text"/> E



2 - DESEMBARALHE AS LETRAS E ESCREVA OS NOMES DAS FIGURAS DO FUTEBOL.

