

PREFEITURA MUNICIPAL DE BOM JESUS DO ITABAPOANA-RJ
SECRETARIA MUNICIPAL DE EDUCAÇÃO, ESPORTE E LAZER

SEMEEL

A mudança está em nossas mãos

Atividades Orientadoras



**2º
ano**

Ensino Fundamental

UNIDADE ESCOLAR:

PROFESSOR(A) ANO DE ESCOLARIDADE DATA

2º ANO

42ª SEMANA (12 A 16/12)

NOME:

HOJE É?

SEGUNDA TERÇA QUARTA QUINTA SEXTA

CÓDIGO BNCC

EF02LP18

LÍNGUA PORTUGUESA




PRESENTE DE NATAL

NÓS QUEREMOS

UMA FOLHA DE PAPEL

PRA LEVAR UMA CARTA

AO SENHOR PAPAÍ NOEL.



EU QUERO UM CATA VENTO

PRA GIRAR NA MINHA MÃO

E MEU CÉU CHEIO DE ESTRELAS

PRA ALEGRAR O NOSSO CHÃO.



VOU PEDIR UMA CASA

DENTRO DESSA IMENSIDÃO

MAS QUE TENHA UM BRINQUEDO

PRA ALEGRAR MEU CORAÇÃO.



NÓS QUEREMOS VIAJAR

NO OLHAR DA MULTIDÃO

VENDO O SONHO FLORESCER

NO CALOR DESSA CANÇÃO.

VOU PEDIR UM PATINETE

UMA BOLA, UMA PETECA

E UMA REDE PRA TIRAR

UMA SONECA.



ANTONIO LUIZ



ATIVIDADES

1- FAÇA UM DESENHO PARA REPRESENTAR AS PALAVRAS QUE ESTÃO FALTANDO.

PRESENTE DE NATAL

NÓS QUEREMOS

UMA DE PAPEL

PRA LEVAR UMA

AO SENHOR PAPAÍ NOEL.

EU QUERO UM

PRA GIRAR NA MINHA MÃO

E MEU CÉU CHEIO DE

PRA ALEGRAR O NOSSO CHÃO.

VOU PEDIR UMA

DENTRO DESSA IMENSIDÃO

MAS QUE TENHA UM BRINQUEDO

PRA ALEGRAR MEU .

NÓS QUEREMOS VIAJAR

NO DA MULTIDÃO

VENDO O SONHO FLORESCER

NO CALOR DESSA .

VOU PEDIR UM PATINETE

UMA , UMA PETECA

E UMA REDE

PRA TIRAR UMA



UNIDADE ESCOLAR:

PROFESSOR(A)

ANO DE ESCOLARIDADE

DATA

NOME:

HOJE É?

SEGUNDA

TERÇA

QUARTA

QUINTA

SEXTA

CÓDIGO BNCC


EF02MA07

MATEMÁTICA




1- LÚCIA FOI BUSCAR FLORES PARA ENFEITAR A CASA. ELA COLHEU 9 MARGARIDAS E VAI ARRUMÁ-LAS EM 3 VASOS.

- PINTE OS VASOS QUE MOSTRAM COMO LÚCIA DISTRIBUIU AS MARGARIDAS.




2 – PINTE A QUANTIDADE PEDIDA:

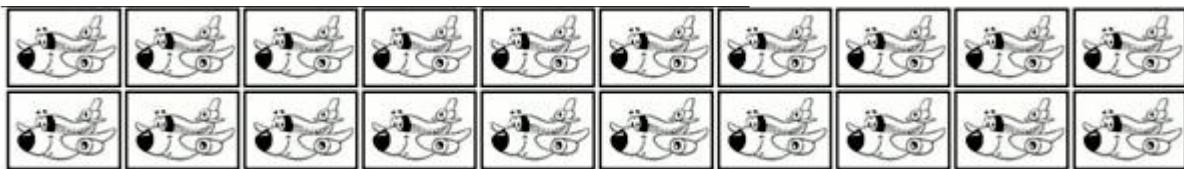
A) ANA COLHEU **3 X 2** FLORES NO SEU JARDIM.



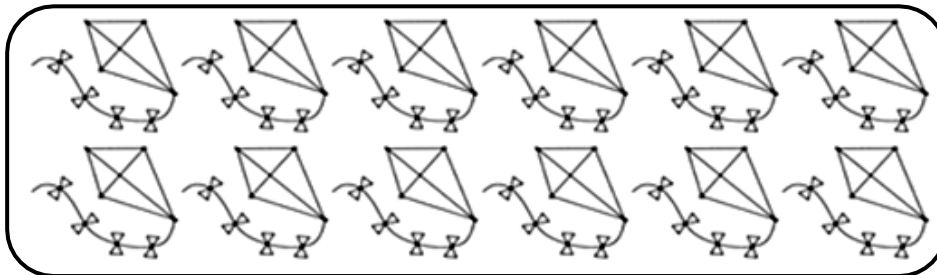
B) CLARA COMPROU **4 X 2** TORTAS DE MORANGO.



C) PEDRO COMPROU **2 X 8** FIGURINHAS.




D) TIAGO COMPROU **2 X 6** PIPAS.



3 – COMPLETE PARA CALCULAR O TOTAL. *FIQUE ATENTO!* OBSERVE AS IMAGENS:

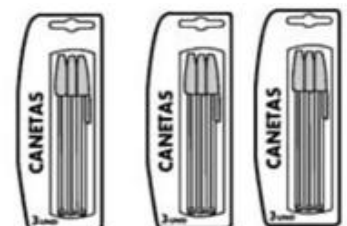
A) QUANTOS LÁPIS NO TOTAL?

ADIÇÃO	<input type="text"/>	+	<input type="text"/>	+	<input type="text"/>	=	<input type="text"/>
MULTIPLICAÇÃO	<input type="text"/>	x	<input type="text"/>	=	<input type="text"/>		
TOTAL	<input type="text"/>						



B) QUANTAS CANETAS NO TOTAL?

ADIÇÃO	<input type="text"/>	+	<input type="text"/>	+	<input type="text"/>	=	<input type="text"/>
MULTIPLICAÇÃO	<input type="text"/>	x	<input type="text"/>	=	<input type="text"/>		
TOTAL	<input type="text"/>						



UNIDADE ESCOLAR:

PROFESSOR(A)

ANO DE ESCOLARIDADE

DATA

2º ANO

42ª SEMANA (12 A 16/12)

NOME:

HOJE É?

SEGUNDA

TERÇA

QUARTA

QUINTA

SEXTA

CÓDIGO BNCC

EF12LP26

LÍNGUA PORTUGUESA



NATAL NA FLORESTA

QUEM DISSE QUE NÃO TEM FESTA DE NATAL NA FLORESTA?

AFINAL, O MENINO JESUS NASCEU PARA TODOS OS SERES DO PLANETA.

LÁ OS PREPARATIVOS PARA A FESTA DE NATAL COMEÇAM BEM ANTES DO MÊS DE DEZEMBRO.

O REI DA FLORESTA ESCOLHE A ÁRVORE MAIS BONITA ONDE TODOS OS ANIMAIS SE REÚNEM NA NOITE DE NATAL.

OS VAGA-LUMES FICAM POR CONTA DA ILUMINAÇÃO E OS PÁSSAROS DA DECORAÇÃO DA ÁRVORE.

CADA BICHO LEVA SEU PRATO FAVORITO, MENOS OS CARNÍVOROS, QUE NESSE DIA SÓ PODEM COMER FRUTAS E VEGETAIS.

DONA ONÇA JÁ TENTOU BANCAR A ESPERTA, MAS FOI ALERTADA PELO LEÃO QUE, CASO NÃO CUMPRISSE A ORDEM, SERIA ELA SEU PRATO DA NOITE. COMO NÃO QUERIA MEDIR FORÇAS COM O REI, ELA SE COMPORTOU DIREITINHO.

QUANDO CHEGA A NOITE DE NATAL, A FLORESTA FICA TODA ENFEITADA E A BICHARADA EM FESTA COMEMORA O NASCIMENTO DO MENINO JESUS.

KÁTIA TEIXEIRA



ATIVIDADES

1- QUAL É O ASSUNTO DO TEXTO?

2- QUEM ESCOLHE A ÁRVORE PARA A NOITE DE NATAL?

3- QUEM SÃO OS RESPONSÁVEIS PELA ILUMINAÇÃO? E A DECORAÇÃO DA ÁRVORE?


4- QUAL FOI A REGRA ESTABELECIDADA AOS ANIMAIS CARNÍVOROS?

5- O QUE A BICHARADA, EM FESTA, COMEMORA NA NOITE DE NATAL?

6- QUANTOS PARÁGRAFOS TÊM O TEXTO?

7- QUEM É O AUTOR DO TEXTO?

8- ILUSTRE O TEXTO. NÃO ESQUEÇA DA ÁRVORE, COMIDA E DE NENHUM ANIMAL!



UNIDADE ESCOLAR:

PROFESSOR(A)

ANO DE ESCOLARIDADE

DATA

NOME:

HOJE É?

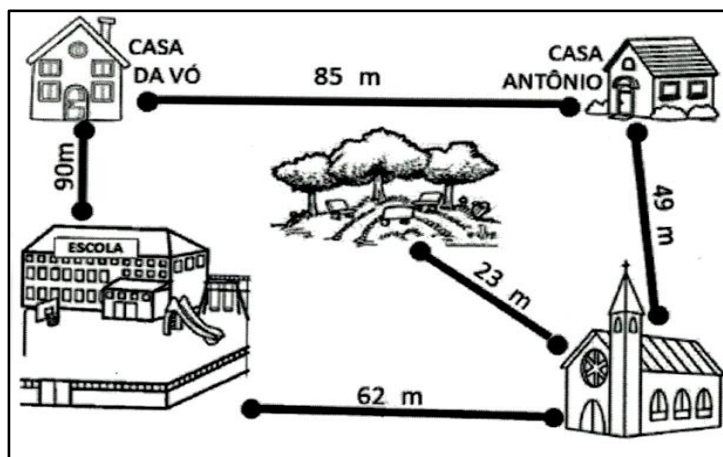
SEGUNDA TERÇA QUARTA QUINTA SEXTA

CÓDIGO BNCC

EF02MA16 / EF02MA17

MATEMÁTICA

1- OBSERVE OS TRAJETOS QUE ANTÔNIO FAZ NO SEU DIA A DIA.




A) ANTÔNIO VAI PARA ESCOLA PASSANDO PELA CASA DA VÓ. QUANTOS METROS ELE ANDA?

B) PARA VOLTAR DA ESCOLA, ELE PASSA PELO CAMINHO DA IGREJA. QUANTOS METROS ELE ANDA?

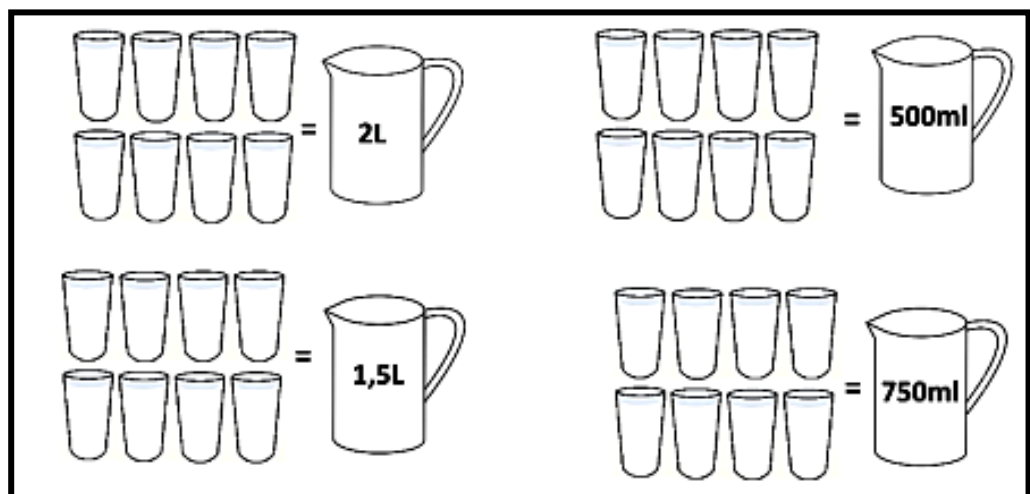
C) AOS DOMINGOS, ANTÔNIO VAI PARA IGREJA E DEPOIS, PARA O PARQUE. QUANTOS METROS ELE ANDA?

2- OBSERVE E COMPARE AS MEDIDAS DE ALTURA REPRESENTADAS ABAIXO.



- A) QUAL É A ALTURA DA CRIANÇA MAIS BAIXA? _____
- B) QUAL É O NOME DA CRIANÇA MAIS ALTA? _____
- C) QUAL É A DIFERENÇA ENTRE MARCOS E ANA? _____
- D) QUANTOS CENTÍMETROS MARIA TEM ACIMA DE UM METRO? _____

3- CADA JARRA ABAIXO TEM UMA CAPACIDADE DIFERENTE. PINTE QUANTOS COPOS SERÃO NECESSÁRIOS PARA ENCHER CADA JARRA. CADA COPO TEM 250 ML.





UNIDADE ESCOLAR:

PROFESSOR(A)

ANO DE ESCOLARIDADE

DATA

NOME:

HOJE É?

SEGUNDA

TERÇA

QUARTA

QUINTA

SEXTA

CÓDIGO BNCC





































EF02LP01.RJ



REVISANDO...

1- O PROFESSOR VAI DITAR DOZE PALAVRAS QUE VOCÊ APRENDEU. DEPOIS DA CORREÇÃO, PINTE UM SINO PARA CADA ACERTO.

❖ MOSTRE QUE VOCÊ É FERA! ACERTE TODAS PARA FICAR BEM LINDO SEU COLORIDO!

			1 _____
			2 _____
			3 _____
			4 _____
			5 _____
			6 _____
			7 _____
			8 _____
			9 _____
			10 _____
			11 _____
			12 _____

Feliz Natal!

2- ESCREVA AS PALAVRAS EM DESTAQUE NA ÁRVORE EM ORDEM ALFABÉTICA.

ESTE DEVE SER O VERDADEIRO ESPÍRITO DE NATAL:

JESUS, PAZ , AMOR , FRATERNIDADE , RESPEITO , GRATIDÃO.



MAURICIO