

PREFEITURA MUNICIPAL DE BOM JESUS DO ITABAPOANA-RJ
SECRETARIA MUNICIPAL DE EDUCAÇÃO, ESPORTE E LAZER

SEMEEL

A mudança está em nossas mãos

Atividades Orientadoras



2º
ano



Ensino Fundamental

UNIDADE ESCOLAR:

PROFESSOR(A)

ANO DE ESCOLARIDADE

2º ANO

DATA

40ª SEMANA (28/11 a 02/12)

NOME:

HOJE É?

SEGUNDA

TERÇA

QUARTA

QUINTA

SEXTA

CÓDIGO BNCC

EF02LP11



LÍNGUA PORTUGUESA

AUMENTATIVO E DIMINUTIVO



O SUBSTANTIVO PODE MUDAR DE FORMA PARA INDICAR O AUMENTO OU A DIMINUIÇÃO DO TAMANHO.

BIDU EM: ENTERRANDO O OSSO.








1- QUE PALAVRA MUDOU DE FORMA PARA REPRESENTAR O DIMINUTIVO? QUAL SERIA A FORMA NORMAL DESSA PALAVRA?



2- COMPLETE AS FRASES COM O DIMINUTIVO DAS PALAVRAS DO QUADRINHO.

- A) ESSA MENINA É A _____ DA ANA. ←
- B) ONDE VOCÊ COMPROU ESSE _____? ←
- C) PEGUE O _____ QUE CAIU NO CHÃO. ←
- D) AQUI ESTÁ MINHA AMADA _____ . ←
- E) VOU COMER ESSE _____ DELICIOSO. ←

3- LIGUE OS AUMENTATIVOS À FORMA NORMAL DOS SUBSTANTIVOS.

	<input type="text" value="NARIGÃO"/>	<input type="text" value="CÃO"/>
	<input type="text" value="VOZEIRÃO"/>	<input type="text" value="BOCA"/>
	<input type="text" value="FOGARÉU"/>	<input type="text" value="FOGO"/>
	<input type="text" value="CANZARRÃO"/>	<input type="text" value="VOZ"/>
	<input type="text" value="BOCARRA"/>	<input type="text" value="NARIZ"/>

4- CIRCULE DE VERMELHO AS PALAVRAS QUE ESTÃO NO DIMINUTIVO E DE AZUL AS QUE ESTÃO NO AUMENTATIVO.

- A) PEGUE O LIVRINHO QUE ESTÁ SOBRE A MESINHA.
- B) O LADRÃO ESTAVA USANDO UM CHAPELÃO.
- C) O GAROTINHO BRINCA SOZINHO NA SALINHA DA FRENTE.
- D) MEU CÃOZINHO MACHUCOU O FOCINHO.



UNIDADE ESCOLAR:

PROFESSOR(A)

ANO DE ESCOLARIDADE
2º ANO

DATA
40ª SEMANA (28/11 a 02/12)

NOME:

HOJE É?


SEGUNDA TERÇA QUARTA QUINTA SEXTA

CÓDIGO BNCC

EF02MA21)



MATEMÁTICA

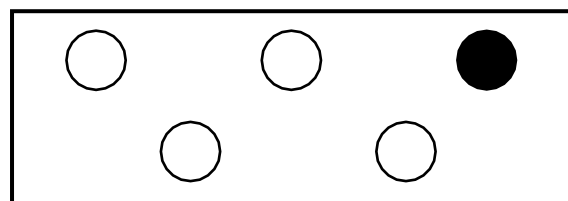


TODOS OS DIAS NOS DEPARAMOS COM SITUAÇÕES EM QUE PRECISAMOS PENSAR SOBRE POSSIBILIDADES DE ELAS ACONTECEREM OU NÃO.

	<p>É POSSÍVEL CHOVER NO FINAL DO DIA DE HOJE?</p>	
	<p>A PREVISÃO DO TEMPO INDICA QUE AMANHÃ É PROVÁVEL QUE FAÇA SOL E CALOR.</p>	
	<p>É IMPOSSÍVEL VER O SOL ÀS 23H.</p>	

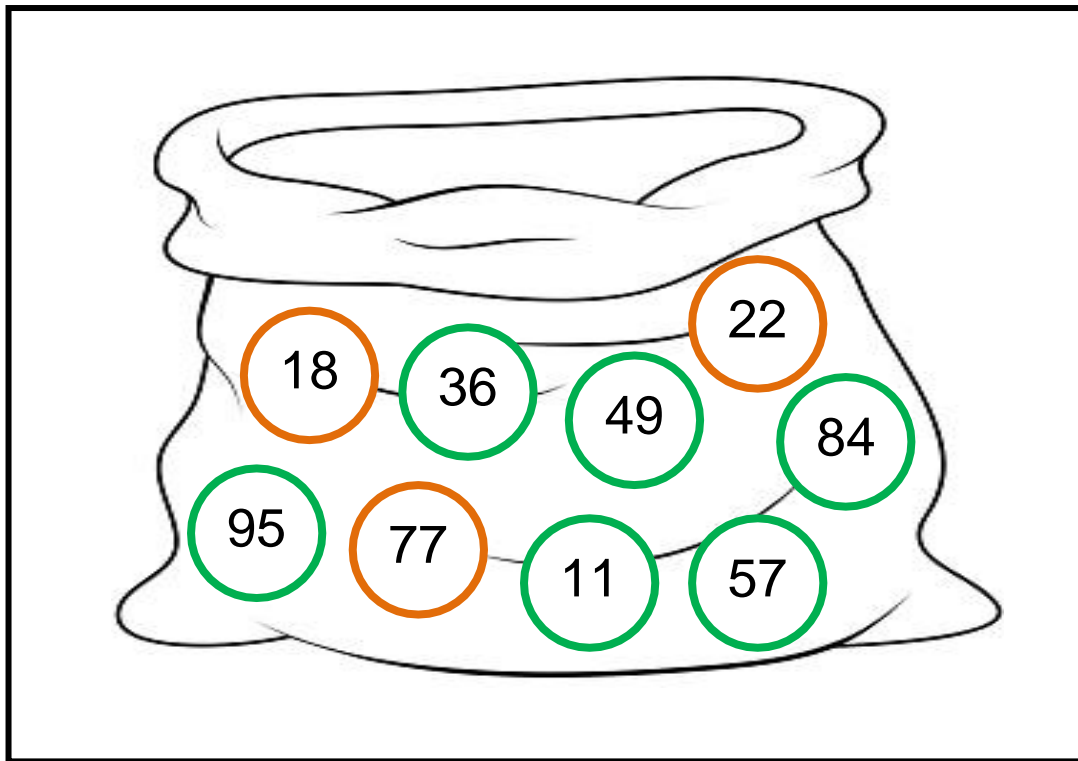
1- SE VOCÊ ESCOLHESSSE UMA BOLA SEM OLHAR, QUAIS AS CHANCES DE QUE VOCÊ TENHA ESCOLHIDO A DE COR BRANCA?

- () POSSÍVEL
() PROVÁVEL
() IMPOSSÍVEL



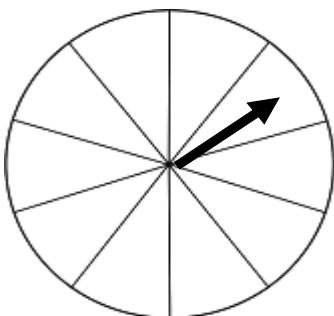
2- OBSERVE OS NÚMEROS E CORES QUE ESTÃO NO SAQUINHO E MARQUE UM X NA RESPOSTA MAIS ADEQUADA A CADA PERGUNTA.

ATENÇÃO: PINTE DE LARANJA (18 / 22 / 77) E DE VERDE (95 / 36 / 49 / 84 / 11 / 57).



- A) É MAIS FÁCIL EU TIRAR UMA BOLINHA VERDE? () POSSÍVEL () IMPOSSÍVEL
- B) POSSO TIRAR UMA BOLINHA ROSA? () POSSÍVEL () IMPOSSÍVEL
- C) POSSO TIRAR O NÚMERO 100? () POSSÍVEL () IMPOSSÍVEL
- D) POSSO TIRAR O NÚMERO 36? () POSSÍVEL () IMPOSSÍVEL
- E) COM CERTEZA POSSO TIRAR O NÚMERO 12? () POSSÍVEL () IMPOSSÍVEL

3- QUAIS AS CHANCES DE O PONTEIRO PARAR NO ESPAÇO BRANCO?



- () POSSÍVEL
- () PROVÁVEL
- () IMPOSSÍVEL



UNIDADE ESCOLAR:

PROFESSOR(A)

ANO DE ESCOLARIDADE
2º ANO

DATA
40ª SEMANA (28/11 a 02/12)

NOME:

HOJE É?

SEGUNDA TERÇA QUARTA QUINTA SEXTA

CÓDIGO BNCC

EF02GE03



GEOGRAFIA



MEIOS DE COMUNICAÇÃO




Disponível em: <<https://www.espacoeducar.net/2012/07/muitas-tirinhas-da-turma-da-monica-para.html>>. Acesso em: 23 jan. 2019. (P040608H6_SUP)

1) QUAL O MEIO DE COMUNICAÇÃO QUE APARECE NESTA TIRINHA?

- (A) TELEVISÃO
- (B) RÁDIO
- (C) TELEFONE
- (D) CELULAR

2) QUAL A FUNÇÃO DO MEIO DE COMUNICAÇÃO UTILIZADO NA TIRINHA?

- (A) COMUNICAR COM OUTRA PESSOA SEM PRECISAR SE LOCOMOVER.
- (B) TRANSPORTAR PESSOAS DE UM LUGAR PARA OUTRO.



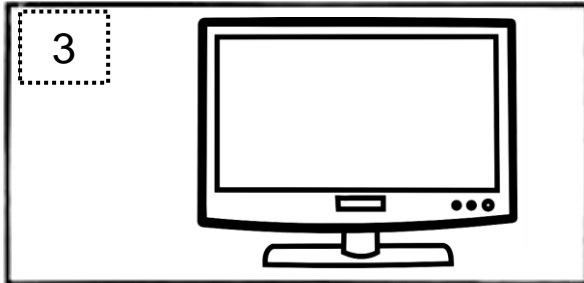
3- RELACIONE:




PARA ESCUTAR MÚSICA.




MENSAGEM QUE RECEBO
PELO CORREIO.



PARA FALAR COM UMA
PESSOA DISTANTE.



PARA LER REPORTAGENS,
NOTÍCIAS.



PARA VER NOTICIÁRIO,
NOVELA, DESENHO, FILME.



PARA NAVEGAR NA
INTERNET.