

PREFEITURA MUNICIPAL DE BOM JESUS DO ITABAPOANA-RJ  
SECRETARIA MUNICIPAL DE EDUCAÇÃO, ESPORTE E LAZER

**SEMEEL**

*A mudança está em nossas mãos*

# Atividades Orientadoras



**3º**  
ano



## Ensino Fundamental

UNIDADE ESCOLAR:

PROFESSOR(A)

ANO DE ESCOLARIDADE

3º ano

DATA

41ª semana (5 a 9/12)

NOME:

HOJE É?

SEGUNDA  TERÇA  QUARTA  QUINTA  SEXTA

CÓDIGO BNCC

EF35LP17

## LÍNGUA PORTUGUESA

### ❖ TEXTO INFORMATIVO

### A COPA DO MUNDO DE 2022

Em 2022, a copa do mundo de futebol está sendo realizada no Catar.  
O jogo de abertura foi no dia 21 de novembro e a final em 18 de dezembro.  
Geralmente, o mundial de futebol é disputado em junho e julho, mas, devido às altas temperaturas do verão no Catar, que passam dos 40°C, houve essa mudança. A copa de 2022 está sendo realizada em novembro e dezembro, quando o clima lá deve ficar entre 25°C e 30°C."

É uma linda festa que conta com a participação de 32 seleções:

- ★ GRUPO A: Catar, Equador, Senegal, Holanda
- ★ GRUPO B: Inglaterra, Irã, Estados Unidos, País de Gales
- ★ GRUPO C: Argentina, Arábia Saudita, México, Polônia
- ★ GRUPO D: França, Austrália, Dinamarca, Tunísia
- ★ GRUPO E: Espanha, Costa Rica, Alemanha, Japão
- ★ GRUPO F: Bélgica, Canadá, Marrocos, Croácia
- ★ GRUPO G: Brasil, Sérvia, Suíça, Camarões
- ★ GRUPO H: Portugal, Gana, Uruguai, Coreia



1. Assinale a resposta correta de acordo com o texto:

a) Onde está sendo realizada a Copa do mundo de 2022?

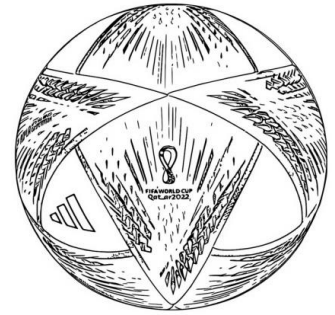
( ) Na Inglaterra

( ) No Japão

( ) No Catar

b) Em que período está sendo realizada a Copa do Mundo de 2022?

- ( ) Nos meses de junho e julho.
- ( ) Nos meses de agosto e setembro.
- ( ) Nos meses de novembro e dezembro.



c) Por que a Copa do Mundo de 2022 não aconteceu em junho e julho?

- ( ) Devido às altas temperaturas no Catar.
- ( ) Devido às baixas temperaturas no Catar.
- ( ) Devido às chuvas intensas nesta época do ano no Catar.

d) Quais foram os países adversários do Brasil no grupo G, na primeira fase da Copa?

- ( ) Portugal, Espanha e Japão.
- ( ) Sérvia, Suíça e Camarões.
- ( ) Argentina, Catar e Inglaterra.

2. Procure os nomes de 10 países que participam da copa do mundo de 2022:

Reescreva-os:

---

---

---

---

---

---

---

---

---

---



UNIDADE ESCOLAR:

PROFESSOR(A)

ANO DE ESCOLARIDADE

DATA

NOME:

HOJE É?

SEGUNDA  TERÇA  QUARTA  QUINTA  SEXTA

CÓDIGO BNCC


# MATEMÁTICA

## Revisando...

1. Observe abaixo a quantidade de pontos que cada criança marcou em uma brincadeira.

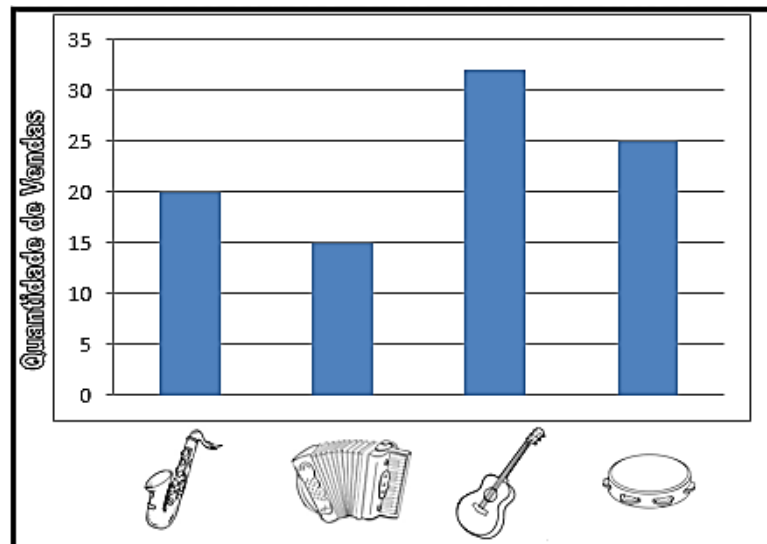
Quem marcou mais pontos?

- A) Artur.
- B) Igor.
- C) Juliana.
- D) Renata.



2. Observe no gráfico abaixo a quantidade de instrumentos musicais vendidos em uma loja durante um mês.

- De acordo com esse gráfico, qual foi o instrumento mais vendido nessa loja nesse mês?



A) B) C) D)



3. André começou um jogo com 20 figurinhas da copa de 2022, mas, depois de algumas rodadas, perdeu 6 figurinhas.

Faça um X onde mostra o total de figurinhas com que André ficou.

- A) 26
- B) 4
- C) 14
- D) 16



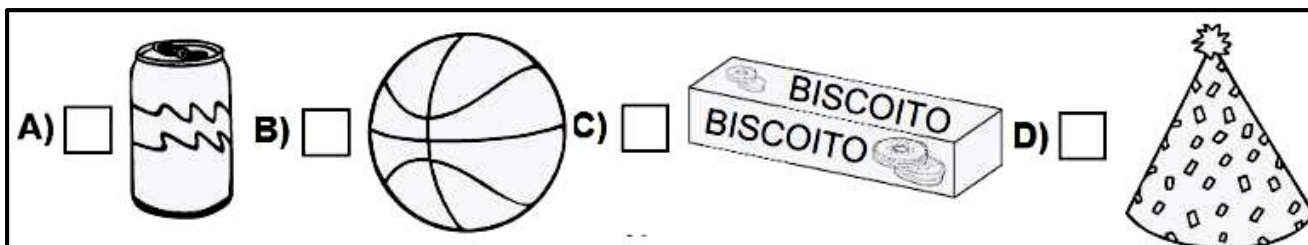
4. Lia e Artur colecionam selos. Lia tem 32 selos e Artur tem 28.

Faça um X onde mostra quantos selos Lia tem a mais que Artur.

- A) 4
- B) 14
- C) 60
- D) 18



5. Qual dos desenhos abaixo lembra a forma de um paralelepípedo?



6. Observe a conta abaixo.

$$26 \times 3 =$$

Qual é o resultado dessa conta?

- A) 23
- B) 76
- C) 78
- D) 68



UNIDADE ESCOLAR:

PROFESSOR(A)

ANO DE ESCOLARIDADE

DATA

NOME:

HOJE É?

SEGUNDA

TERÇA

QUARTA

QUINTA

SEXTA

CÓDIGO BNCC

# LÍNGUA PORTUGUESA

## Revisando pontuação

- Leia esta piada, observando os sinais de pontuação.

Um pescador, conhecido por contar vantagens, conversando com o amigo fazendeiro, disse:  
— Pesquei outro dia um peixe tão grande que quase nem coube no meu barco.

Aí o outro falou:

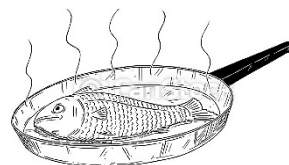
— Na minha fazenda tem uma panela tão grande, que quase não cabe na minha cozinha.

O pescador, então, perguntou:

— Mas pra que serve uma panela tão grande assim?

O fazendeiro respondeu:

— Pra cozinhar o peixe que você pescou!



1. Quando foi usado o travessão ( — )?

\_\_\_\_\_

2. Quando foram usados os dois pontos ( : ) ?

\_\_\_\_\_

3. Que palavras foram usadas para indicar que alguém ia falar?

\_\_\_\_\_

4. Reescreva a frase que apresenta o ponto de interrogação:

\_\_\_\_\_

5. Justifique quando utilizamos o ponto de interrogação em uma frase:

\_\_\_\_\_

6. Reescreva a frase que apresenta o ponto de exclamação:

\_\_\_\_\_

# Revisando

7. Complete os espaços abaixo com R ou RR.

- a) Aqua\_\_\_\_\_ela      b) Celula\_\_\_\_\_      c) Ba\_\_\_\_\_iga      d) Ca\_\_\_\_\_eca  
 e) Fe\_\_\_\_\_o      f) Ca\_\_\_\_\_ossel      g) Ciga\_\_\_\_\_a      h) Ca\_\_\_\_\_o  
 i) Co\_\_\_\_\_agem      j) Ca\_\_\_\_\_egador      k) Fe\_\_\_\_\_ugem      l) Esco\_\_\_\_\_ega

8. Complete os espaços abaixo com C ou Ç.

- a) Ma\_\_\_\_\_ã      b) Palha\_\_\_\_\_o      c) Ca\_\_\_\_\_ula      d)\_\_\_\_enoura  
 e) Mo\_\_\_\_\_o      f) Baga\_\_\_\_\_o      g)\_\_\_\_\_inema      h) Lou\_\_\_\_\_a  
 i) Ma\_\_\_\_\_io      j) La\_\_\_\_\_o      k) a\_\_\_\_\_erola      l) a\_\_\_\_\_aí

9. Leia a palavra, marque um X na letra que falta e, depois, reescreva a palavra no retângulo.

Palavra	S	SS	C	Ç	REESCREVA
<input checked="" type="checkbox"/> EMANA					
LA <input checked="" type="checkbox"/> O					
A <input checked="" type="checkbox"/> ADO					
MA <input checked="" type="checkbox"/> IO					
FUMA <input checked="" type="checkbox"/> A					
<input checked="" type="checkbox"/> IGANO					
PÊ <input checked="" type="checkbox"/> EGO					
<input checked="" type="checkbox"/> ELO					
CA <input checked="" type="checkbox"/> ADOR					
BA <input checked="" type="checkbox"/> IA					
<input checked="" type="checkbox"/> UBIDA					

UNIDADE ESCOLAR:

PROFESSOR(A)

ANO DE ESCOLARIDADE

DATA

NOME:

HOJE É?

SEGUNDA  TERÇA  QUARTA  QUINTA  SEXTA

CÓDIGO BNCC

# MATEMÁTICA



## Revisando...

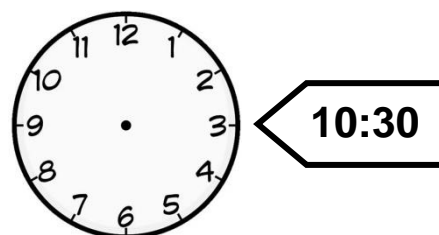
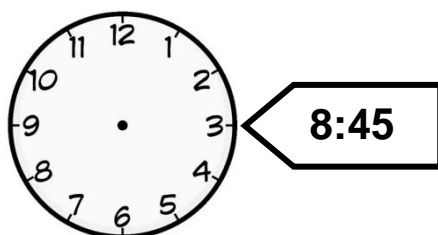
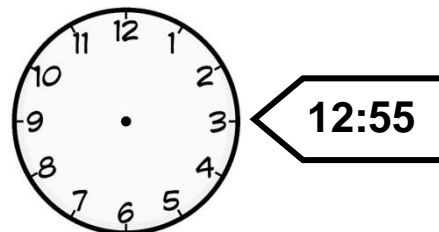
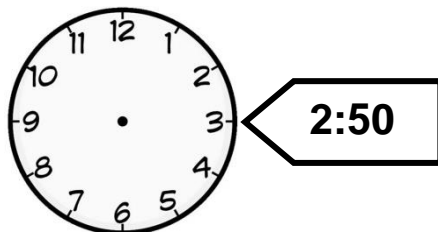
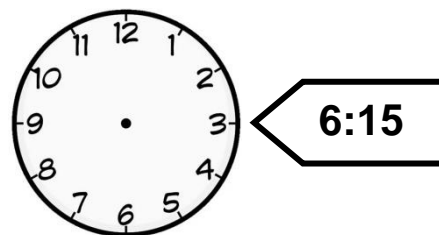
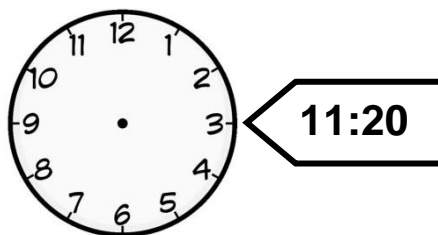
1. Gabriel faz aulas de futebol em sua escola. Sua aula tem início às 15:00 horas e término às 17 horas e 30 minutos.

➤ Quantas horas Gabriel fica na aula de futebol?

- A) ( ) 2 horas
- B) ( ) 3 horas
- C) ( ) 2 horas e 30 minutos
- D) ( ) 1 hora e 30 minutos



2. Marque os ponteiros em cada relógio com a hora certa indicada.





3. Calcule mentalmente e responda.

- a) Uma nota de R\$ 100,00 vale quantas notas de R\$ 10,00? \_\_\_\_\_
- b) Uma nota de R\$ 100,00 vale quantas notas de R\$ 50,00? \_\_\_\_\_
- c) Uma nota de R\$ 100,00 vale quantas notas de R\$ 20,00? \_\_\_\_\_
- d) Uma nota de R\$ 50,00 vale quantas notas de R\$ 10,00? \_\_\_\_\_
- e) Uma nota de R\$ 50,00 vale quantas notas de R\$ 5,00? \_\_\_\_\_
- f) Uma nota de R\$ 10,00 vale quantas notas de R\$ 5,00? \_\_\_\_\_
- g) Uma nota de R\$ 10,00 vale quantas notas de R\$ 2,00? \_\_\_\_\_

4. Pierre tem 5 moedas de 50 centavos. Quanto ele tem em dinheiro?

- (A) ( ) Ele tem R\$ 2,50.
- (B) ( ) Ele tem R\$ 2,00.
- (C) ( ) Ele tem R\$ 1,50.
- (D) ( ) Ele tem R\$ 1,00.



5. Resolva os problemas:

A) Alan comprou um patinete em 6 prestações de R\$ 75,00. Quanto ele pagou por este patinete?



▪ Resposta: \_\_\_\_\_

B) Inácio comprou um notebook, dando R\$ 200,00 de entrada e pagando o restante em 6 parcelas de R\$ 200,00. Quanto Inácio pagará pelo notebook?



▪ Resposta: \_\_\_\_\_