

PREFEITURA MUNICIPAL DE BOM JESUS DO ITABAPOANA-RJ  
SECRETARIA MUNICIPAL DE EDUCAÇÃO, ESPORTE E LAZER

**SEMEEL**

*A mudança está em nossas mãos*

# Atividades Orientadoras



**3º**  
ano



# Ensino Fundamental

UNIDADE ESCOLAR:

PROFESSOR(A)

ANO DE ESCOLARIDADE

DATA

3º ano

42ª semana (12 a 16/12)

NOME:

HOJE É?

SEGUNDA

TERÇA

QUARTA

QUINTA

SEXTA

CÓDIGO BNCC

EF35LP23

# LÍNGUA PORTUGUESA



1. Leia o texto com atenção e responda:

## Um feliz natal

Maria Carolina Castro

Neste natal  
Quero ganhar:  
Brilho, amor e alegria.  
O brilho das estrelas,  
O amor de Jesus,  
A alegria de partilhar  
E poder amar.

Quero formar:  
Uma família unida,  
Amizades queridas.

Quero ser:  
Uma boa amiga,  
Uma criança feliz.

Quero colocar:  
Um feliz natal!

Na noite do dia 24 de dezembro comemora-se o nascimento de Jesus. A Ele os Reis do oriente levaram muitos presentes e nós, como de costume, também presenteados nossos familiares e amigos, porém, mais importante que a troca de presentes, é comemorar o nascimento de Jesus!



A) Qual é o título do poema?

\_\_\_\_\_

B) Qual é a autora do poema?

\_\_\_\_\_

C) O que Carolina quer ganhar neste natal?

\_\_\_\_\_

D) Como ela quer que sua família seja?

---

E) Como ela quer ser?

---

2. De acordo com a estrutura do texto apresentado, complete:

➤ O texto apresenta \_\_\_\_\_ estrofes e \_\_\_\_\_ versos.

3. Copie do texto a primeira estrofe, na mesma ordem em que ela está sendo apresentada. Em seguida enfeite a árvore com muito carinho.

-----

-----

-----

-----

-----

-----



4. Escreva no cartão abaixo uma mensagem de natal para um amigo(a) ou familiar.

An outline drawing of a gift box with a bow on top. There are three snowflake icons around it: one on the top left, one on the top right, and one on the bottom left.

-----

-----

-----

-----

-----

-----

-----



UNIDADE ESCOLAR:

PROFESSOR(A)

ANO DE ESCOLARIDADE  
3º ano

DATA  
42ª semana (12 a 16/12)

NOME:

HOJE É?

SEGUNDA  TERÇA  QUARTA  QUINTA  SEXTA

CÓDIGO BNCC

EF02MA18/EF03MA01.RJ

# MATEMÁTICA

## Revisando...

1. Trabalhando com calendário:

DOMINGO	SEGUNDA FEIRA	TERÇA FEIRA	QUARTA FEIRA	QUINTA FEIRA	SEXTA FEIRA	SÁBADO
				1	2	3
4	5	6	7	8	9	10
11	12	13	14	15	16	17
18	19	20	21	22	23	24
25 Natal	26	27	28	29	30	31



➤ Responda as perguntas utilizando o calendário acima:

A) O calendário observado é do mês de \_\_\_\_\_, que é referente ao ano de \_\_\_\_\_.

B) Em que dia da semana foi o 1º dia do mês?  
\_\_\_\_\_

C) Há quantos domingos?  
\_\_\_\_\_

D) Esse mês têm quantos dias?  
\_\_\_\_\_

E) Quantos dias têm uma semana?  
\_\_\_\_\_




2. Escreva a data de hoje:

A) Com números: \_\_\_\_\_ / \_\_\_\_\_ / \_\_\_\_\_

B) Por extenso: \_\_\_\_\_

C) Qual é o dia da semana, hoje? \_\_\_\_\_



3. Observe o exemplo e complete.

➤ **5 de outubro de 2009 = 5/10/2009**

A) 25 de novembro de 2010 = \_\_\_\_\_ / 11 / 2010

B) 19 de setembro de 2016 = 19 / \_\_\_\_\_ / 2016

C) 27 de fevereiro de 2022 = \_\_\_\_\_ / \_\_\_\_\_ / \_\_\_\_\_

4. Observe os números:

**19 - 466 - 8 - 500 - 56 - 42 - 565**

a) Quais deles têm 3 algarismos? \_\_\_\_\_

b) Qual vale menos que uma dezena? \_\_\_\_\_

c) Em quais deles o 5 é o algarismo das centenas? \_\_\_\_\_

d) Em quais deles o 4 é o algarismo das dezenas? \_\_\_\_\_

e) Qual vale 5 centenas? \_\_\_\_\_

f) Qual é o maior? \_\_\_\_\_ E o menor? \_\_\_\_\_

g) Quais valem menos do que 400? \_\_\_\_\_

h) Quais são pares? \_\_\_\_\_

i) Quais são ímpares? \_\_\_\_\_

j) Escreva-os em ordem crescente: \_\_\_\_\_

\_\_\_\_\_



UNIDADE ESCOLAR:

PROFESSOR(A)  ANO DE ESCOLARIDADE  DATA

NOME:

HOJE É?


SEGUNDA  TERÇA  QUARTA  QUINTA  SEXTA

CÓDIGO BNCC

EF03LP04.RJ / EF03LP07

## LÍNGUA PORTUGUESA

1. Observe a tirinha e responda as questões:



A) Qual é o gênero textual apresentado?

- ( ) fábula  
( ) poema  
( ) tirinha

B) Quais os personagens da turma da Mônica que aparecem na história?

- ( ) Magali e Cascão  
( ) Mônica e Cebolinha  
( ) Chico Bento


C) Qual foi o presente que o Papai Noel deixou para a Mônica?

\_\_\_\_\_

D) Por que Papai Noel deixou esse presente para o Cebolinha?

\_\_\_\_\_



2. Copie as frases, completando os nomes dos desenhos.

a) Mamãe colocou muitos  na  de natal.

R: \_\_\_\_\_

b) Alguém colocou um  na minha  de natal.

R: \_\_\_\_\_

c) Minha  está iluminada com as  de natal.

R: \_\_\_\_\_

3. Encontre no caça – palavras oito palavras referentes ao natal e copie-as ao lado:

A	M	O	R	A	B	C	S	I	N	O	D	E
F	A	L	E	G	R	I	A	G	H	W	J	K
L	M	N	O	P	Q	P	C	R	I	S	T	O
E	S	T	R	E	L	A	R	S	V	E	L	A
T	U	V	X	Z	A	Z	B	C	D	L	E	F
G	H	P	R	E	S	E	N	T	E	S	I	J

\_\_\_\_\_

\_\_\_\_\_

\_\_\_\_\_

\_\_\_\_\_

\_\_\_\_\_

\_\_\_\_\_

\_\_\_\_\_

4. Escolha palavras da atividade anterior e forme frases usando os sinais de pontuação pedidos abaixo. Atenção com as letras maiúsculas no início de cada frase!

a) Ponto de exclamação:

\_\_\_\_\_

b) Ponto de interrogação:

\_\_\_\_\_

c) Ponto final:

\_\_\_\_\_

UNIDADE ESCOLAR:

PROFESSOR(A)

ANO DE ESCOLARIDADE

3º ano

DATA

42ª semana (12 a 16/12)

NOME:

HOJE É?

SEGUNDA

TERÇA

QUARTA

QUINTA

SEXTA

CÓDIGO BNCC

EF03MA24 / EF03MA26 / EF03MA08.RJ

# MATEMÁTICA



## Revisando...

➤ Marque com um X a resposta correta:

1. Gabriela é 2 anos mais velha que Gael. Quantos meses Gabriela é mais velha que Gael?


- a) 24 meses
- b) 29 meses
- c) 30 meses
- d) 36 meses

2. Viviane foi ao cinema e comprou para o lanche uma pipoca, um refrigerante e um chocolate. Observe abaixo o preço desses alimentos que Viviane comprou. Quanto Viviane pagou por esse lanche?

- a) R\$ 13,00
- b) R\$ 12,00
- c) R\$ 11,00
- d) R\$ 10,00



PIPOCA  
R\$ 7.00



REFRIGERANTE  
R\$ 4.00



CHOCOLATE  
R\$ 2.00

3. Um número foi decomposto em :

2 unidades de milhar, 4 centenas e 5 unidades.

➤ Qual é esse número?

- a) 2045
- b) 2405
- c) 2450
- d) 245

4. Arco-Íris é um dos menores municípios de São Paulo, cerca de **1856** habitantes. Como esse número pode ser decomposto?

- a) Uma unidade de milhar, 8 centenas, 5 dezenas e 6 unidades.
- b) Uma dezena de milhar, 8 centenas 5 dezenas e 6 unidades.
- c) Uma dezena de milhar 8 unidades de milhar, 5 centenas e 6 dezenas.
- d) Uma centena de milhar, 8 dezenas de milhar, 5 unidade de milhar e 6 centenas.



5. Observe as notas que estão representadas abaixo. Luciana trocou essas notas por moedas de cinquenta centavos.



Quantas moedas de cinquenta centavos Luciana recebeu nessa troca?

- a) 2
- b) 5
- c) 10
- d) 20

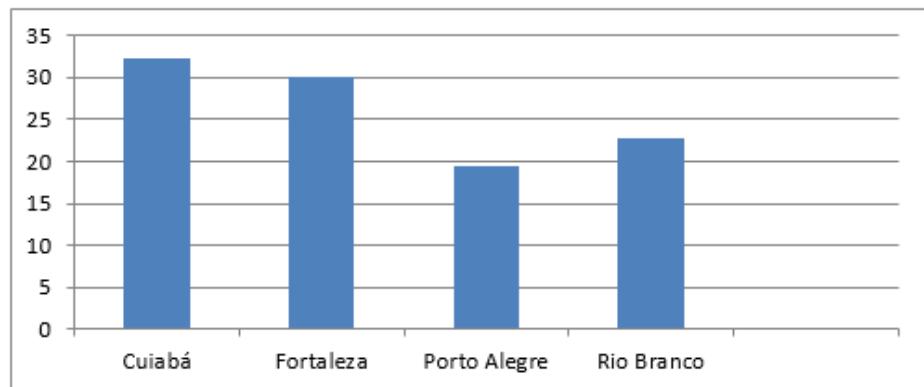
6. Rafael comprou 206 salgadinhos para a festa de Natal. Quantos salgadinhos Rafael comprou?

- a) Vinte e seis.
- b) Seiscentos e dois.
- c) Duzentos e seis.
- d) Sessenta e dois



7. O gráfico, abaixo, mostra temperaturas registradas em algumas capitais brasileiras, em um determinado dia.

Temperaturas nas Capitais



Em qual dessas capitais a temperatura foi mais alta?

- a) Cuiabá.
- b) Fortaleza.
- c) Porto Alegre.
- d) Rio Branco.

8. Um período de férias teve a duração de 3 semanas. Quantos dias, aproximadamente, teve esse período de férias?

- a) 10 dias
- b) 14 dias
- c) 21 dias
- d) 30 dias

UNIDADE ESCOLAR:

PROFESSOR(A)

ANO DE ESCOLARIDADE

DATA

NOME:

HOJE É?

SEGUNDA

TERÇA

QUARTA

QUINTA

SEXTA

CÓDIGO BNCC

EF03LP13

# LÍNGUA PORTUGUESA



Hora de usar a sua criatividade e produzir um lindo cartão de Natal, escrevendo uma mensagem para um amigo(a) ou familiar. Deixe o seu cartão bem colorido. Capriche!

Blank lined area for writing a message.

