

PREFEITURA MUNICIPAL DE BOM JESUS DO ITABAPOANA-RJ
SECRETARIA MUNICIPAL DE EDUCAÇÃO, ESPORTE E LAZER

SEMEEL

A mudança está em nossas mãos

Atividades Orientadoras



**3º
ano**



Ensino Fundamental

UNIDADE ESCOLAR:

PROFESSOR(A)

ANO DE ESCOLARIDADE

3º ano

DATA

39ª semana (21 a 25/11)

NOME:

HOJE É?

SEGUNDA TERÇA QUARTA QUINTA SEXTA

CÓDIGO BNCC

EF03LP18 / EF03LP22



LÍNGUA PORTUGUESA



Gênero textual: Notícia

A **notícia** é um gênero textual da esfera jornalística que informa sobre determinada ocorrência. Circula em jornais e revistas impressos, em rádio, na TV e na internet. Por estar relacionada a fatos de interesse público, a linguagem costuma ser objetiva e clara, para evitar interpretações que se distanciem da objetividade do fato narrado.

➤ Leia o texto e responda:

GAROTO PEDE LIVROS PARA MONTAR UMA BIBLIOTECA PÚBLICA

Ricardo Oliveira Costa, de 10 anos, adora ler e sempre quis que as pessoas da sua comunidade tivessem o mesmo prazer. Para tanto, desde os 6 anos, ele percorre a cidade de Santanópolis (BA), onde mora, e bate de porta em porta pedindo livros de doação para montar uma biblioteca pública. Ricardo conta que a mãe dele e a escola Dr. Juliano Moreira, onde ele estuda, o apoiam muito. Em quatro anos, ele já conseguiu reunir 5 mil livros, mas isso não o fará parar de pedir mais. Ricardo continua usando seu terno para caminhar pelas ruas e conseguir mais doações. O menino adora animais e plantas e quer ler muito sobre o assunto para se tornar biólogo.



Disponível em: https://issuu.com/magiadeler/docs/almanaque_joca_2018 p. 155 Acesso em 03 de nov. de 2020

1. O gênero do texto é:

a) () uma charge

b) () uma notícia

c) () um anúncio publicitário

d) () uma receita



UNIDADE ESCOLAR:

PROFESSOR(A)

ANO DE ESCOLARIDADE

3º ano

DATA

39ª semana (21 a 25/11)

NOME:

HOJE É?

SEGUNDA

TERÇA

QUARTA

QUINTA

SEXTA

CÓDIGO BNCC

EF03MA24









MATEMÁTICA

+ Conhecendo o nosso dinheiro.

- No Brasil, a moeda que utilizamos para comprar algo é o **Real**. O símbolo do real é **R\$**. Observe as moedas e seus valores:

					
1 CENTAVO	5 CENTAVOS	10 CENTAVOS	25 CENTAVOS	50 CENTAVOS	1 REAL

- Agora, observe as cédulas:

	2 REAIS
	5 REAIS
	10 REAIS
	20 REAIS
	50 REAIS
	100 REAIS

1. Na bilheteria de um cinema, o responsável começa o trabalho com três notas de R\$ 5,00, cinco notas de R\$ 2,00 e cinco moedas de R\$ 1,00 para facilitar no troco. Quanto de dinheiro ele tem ao iniciar o trabalho?

- A) () R\$ 20,00
- B) () R\$ 50,50
- C) () R\$ 30,00
- D) () R\$ 29,00




2. Complete o quadro abaixo de acordo com o exemplo:

VOCÊ COMPROU	DEU EM DINHEIRO	RECEBEU EM TROCO
 R\$ 4,00	R\$ 10,00	R\$ 6,00
 R\$ 6,50	R\$ 20,00	
 R\$ 33,00	R\$ 50,00	
 R\$ 150,00	R\$ 200,00	
 R\$ 55,00	R\$ 100,00	
 R\$ 41,00	R\$ 50,00	

3. Carlos prometeu uma bicicleta para seu afilhado. Ele comprou a bicicleta abaixo na promoção. Para comprar a bicicleta, Carlos entregou 6 notas de R\$ 100,00, quanto a moça do caixa voltou de troco?

- A) () R\$ 54,00
- B) () R\$ 36,00
- C) () R\$ 64,00
- D) () R\$ 46,00

Promoção
R\$ 546,00



UNIDADE ESCOLAR:

PROFESSOR(A) ANO DE ESCOLARIDADE DATA

NOME:

HOJE É? CÓDIGO BNCC



LÍNGUA PORTUGUESA

1. Este texto serve para:


- (A) divulgar notícias do dia.
- (B) receitar um remédio.
- (C) preparar uma pizza.
- (D) cantar uma música.



2. Ah! Na família de Gabriel e Luciana vai chegar um bebê. Olha o que eles prepararam para entregar aos amigos!

O texto é:

- (A) uma carta de agradecimento.
- (B) um convite de chá de bebê.
- (C) um convite de aniversário.
- (D) uma poesia infantil.



Fonte: <http://invited.blog.terra.com.br/files/2009/05/cha-de-bebe.jp>

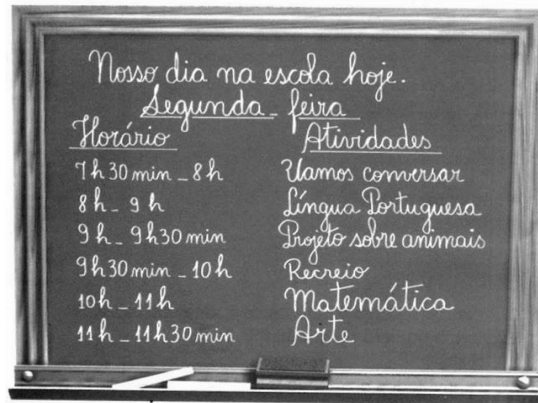
3. Após o Chá de Bebê, o outro acontecimento mais importante na família será:

- (A) o aniversário da mamãe.
- (B) o nascimento do bebê.
- (C) o batizado do bebê.
- (D) a chegada da vovó.



4. Quando lemos o quadro abaixo, entendemos que a turma:

- (A) gosta muito de desenhar.
- (B) faz a organização do dia.
- (C) planeja uma excursão.
- (D) pratica um esporte.




5. No primeiro balão, o dono do gato diz para Garfield que eles vão:

- (A) passear de carro.
- (B) andar no parque.
- (C) ao veterinário.
- (D) tomar banho.



6. Para divulgar um “Programa de alegria e saúde” o cartaz apresenta que, para manter a saúde, é preciso:

- (A) usar enfeites em toda a casa.
- (B) cozinhar com água filtrada.
- (C) manter tudo sempre muito limpo e lavado.
- (D) consumir verduras frescas na refeição.



UNIDADE ESCOLAR:

PROFESSOR(A)

ANO DE ESCOLARIDADE

3º ano

DATA

39ª semana (21 a 25/11)

NOME:

HOJE É?

SEGUNDA

TERÇA

QUARTA

QUINTA

SEXTA

CÓDIGO BNCC

EF03MA24



MATEMÁTICA



1. Observe os produtos e seus valores:

				
MOCHILA R\$ 48,00	CANETA R\$ 3,00	CADERNO R\$ 16,00	ESTOJO R\$ 9,00	LÁPIS R\$ 1,00

A) Qual produto é o mais barato?

B) Qual produto é o mais caro?

C) Qual é o valor da mochila mais o estojo?

D) Quanto gastarei se comprar um caderno e uma caneta?

E) Qual o valor total de todos os materiais?


F) Comprando todo o material e pagando com uma nota de R\$ 100,00, quanto terei de troco?



2. Responda:

➤ Flávia resolveu quebrar o seu porquinho no dia das mães para dar um presente bem lindo paraa sua mamãe. Ao quebrar o porquinho, ela encontrou:

- Quantos reais Flávia tem?



3. Observe as promoções neste panfleto:



➤ Agora, faça o cálculo:

A) 3 pacotes de arroz

C) 2 pacotes de farinha de trigo

B) 4 pacotes de café

D) 5 pacotes de molho de tomate

UNIDADE ESCOLAR:

PROFESSOR(A)

ANO DE ESCOLARIDADE

3º ANO

DATA

39ª semana (21 a 25/11)

NOME:

HOJE É?

SEGUNDA

TERÇA

QUARTA

QUINTA

SEXTA

CÓDIGO BNCC



GEOGRAFIA



- Com base nos estudos do **livro diático de geografia "Ligamundo"** páginas 128 à 131, leia as questões abaixo e responda junto com os colegas e com o professor:

1. Complete (**V**) para verdadeiro e (**E**) para errado:

() O ser humano não atua sobre a superfície terrestre, provocando diversas alterações e modificando as paisagens para atender às suas necessidades e interesses.

() Os seres vivos, o ar, a água, o solo e a luz do Sol (além de outros elementos naturais) e os elementos construídos pelo ser humano (vias de circulação, automóveis, plantações e construções, por exemplo), bem como as relações entre eles, formam o ambiente.

A POLUIÇÃO ATRAVÉS DAS ATIVIDADES HUMANAS

Quando falamos em poluição da água, estamos nos referindo a todo e qualquer tipo de contaminação desse recurso. Essa contaminação é feita pelo próprio ser humano através de atividades cotidianas. Existem três tipos de atividades humanas que ajudam a poluir a água, são elas:

- **Atividades agrícolas** (uso de agrotóxicos e fertilizantes nas plantações);
- **Atividades domésticas** (se jogamos lixo em locais inapropriados, deixamos óleo escorrer para o ralo da pia, consumimos em excesso especialmente os produtos que contêm plástico);
- **Atividades industriais** (quando as indústrias liberam produtos tóxicos nos rios e mares).



2. Responda:

A) Quais as ações do ser humano no dia a dia ajudam a aumentar a poluição das águas?

B) O que podemos fazer para diminuir essa poluição?

C) O que você acha que as indústrias podem fazer para diminuir os impactos ambientais como a poluição das águas?

D) Desenhe no quadro abaixo, primeiro, um lugar com águas poluídas e depois, um lugar com águas limpas e preservadas pelas pessoas:

ÁGUAS POLUÍDAS	ÁGUAS PRESERVADAS