

PREFEITURA MUNICIPAL DE BOM JESUS DO ITABAPOANA-RJ
SECRETARIA MUNICIPAL DE EDUCAÇÃO, ESPORTE E LAZER

SEMEEL

A mudança está em nossas mãos

Atividades Orientadoras



**5º
ano**



Ensino Fundamental

UNIDADE ESCOLAR:

PROFESSOR(A) ANO DE ESCOLARIDADE DATA

NOME:

HOJE É? SEGUNDA TERÇA QUARTA QUINTA SEXTA

CÓDIGO BNCC

LÍNGUA PORTUGUESA

Leia com atenção o Conto de Natal:

A árvore de Natal

Era uma vez, há muito tempo, um pequeno povoado situado em uma ilha. Nesse povoado vivia uma família muito pobre. Quando o Natal estava se aproximando, eles não sabiam como o celebraria porque não tinham dinheiro.

Então o pai da família começou a se perguntar como poderia ganhar dinheiro para passar a noite de Natal, dividindo um delicioso peru ao forno com sua família, desfrutando da festa das pessoas que tanto ama. Decidiu que ganharia dinheiro vendendo árvores de Natal. Assim, no dia seguinte, se levantou bem cedo e subiu a montanha para cortar alguns pinhos. Subiu a montanha, cortou cinco pinhos e os carregou em sua carroça para vendê-los no mercado. Quando só faltavam dois dias para o Natal, não tinha vendido nenhum dos pinhos.

Finalmente, decidiu que já que não vendia nada, que presentearia as árvores de Natal para as pessoas mais pobres que a sua família. As pessoas se mostraram muito agradecidas pelo presente.

Na noite de Natal, quando voltou à sua casa, o homem teve uma grande surpresa. Em cima da mesa havia um peru e ao lado uma pequena árvore de natal. Sua esposa lhe disse que alguém muito bondoso tinha deixado isso em sua porta. Naquela noite, soube que esse presente tinha sido concedido pela boa obra que ele havia feito, presentearo aqueles pinhos que havia cortado na montanha.



Interpretando o texto

1- Após a leitura do texto, responda:

a- Qual é o título do texto? _____

b- Quem é o personagem principal da narrativa? _____

c- Em qual lugar acontece a história? _____

2- O tema abordado pelo texto “A árvore de Natal” é:

- () O lucro que se pode ter com a venda de árvores de Natal.
- () A importância de saber dividir, de saber doar aos menos favorecidos.
- () Os ingredientes que fazem parte de uma ceia de Natal.
- () Como podemos ganhar dinheiro para comprar alimentos para o Natal.

3- O conto é uma narrativa que apresenta narrador. Sobre o narrador, o que é correto afirmar?

- () É um narrador observador, pois não participa da história.
- () O narrador da história é o pai da família.
- () O narrador da história é a esposa.
- () O narrador é um dos personagens da história.


4- Assinale a alternativa que apresenta o desfecho, ou seja, como terminou essa história.

- () O homem recebeu um peru de Natal como agradecimento pela boa ação que fez.
- () O homem não conseguiu vender os pinhos e resolveu presentear as famílias mais pobres com as árvores de Natal.
- () O homem resolveu vender pinhos simplesmente para ganhar dinheiro.
- () O homem subiu na montanha para cortar os pinhos.

5- Qual solução o pai encontrou para ganhar dinheiro para passar a noite de Natal dividindo um delicioso peru ao forno com sua família?

6- Por que alguém deixou de presente na porta do homem um peru e uma árvore de Natal para ele celebrar esta data com a família?

7- Localize no pinheiro abaixo os valores que fazem parte deste conto:



AFETO
SOLIDARIEDADE
SIMPLICIDADE
COMPAIXÃO
AMIZADE
AMOR.



UNIDADE ESCOLAR:

PROFESSOR(A)

ANO DE ESCOLARIDADE

DATA

NOME:

HOJE É?

SEGUNDA

TERÇA

QUARTA

QUINTA

SEXTA

CÓDIGO BNCC

MATEMÁTICA



1- Uma família resolveu investir na plantação de pinhos para vender no Natal. Eles decidiram organizar as mudas em 8 fileiras. Plantaram 24 mudas de pinho em cada fileira. Ao todo, quantos pinhos foram plantados?

Cálculo

Resposta: _____

2- Na sexta-feira, a família vendeu 192 pinhos, no sábado, venderam 187 e no domingo vendeu 231. Ao todo, quantos pinhos foram vendidos?

Cálculo

Resposta: _____

3- A família conseguiu 312 mudas de pinho para cada membro da família plantar. Como são 6 pessoas compondo a família, eles resolveram que cada um iria plantar a mesma quantidade de mudas. Quantas mudas ao todo plantaram juntos?

Cálculo

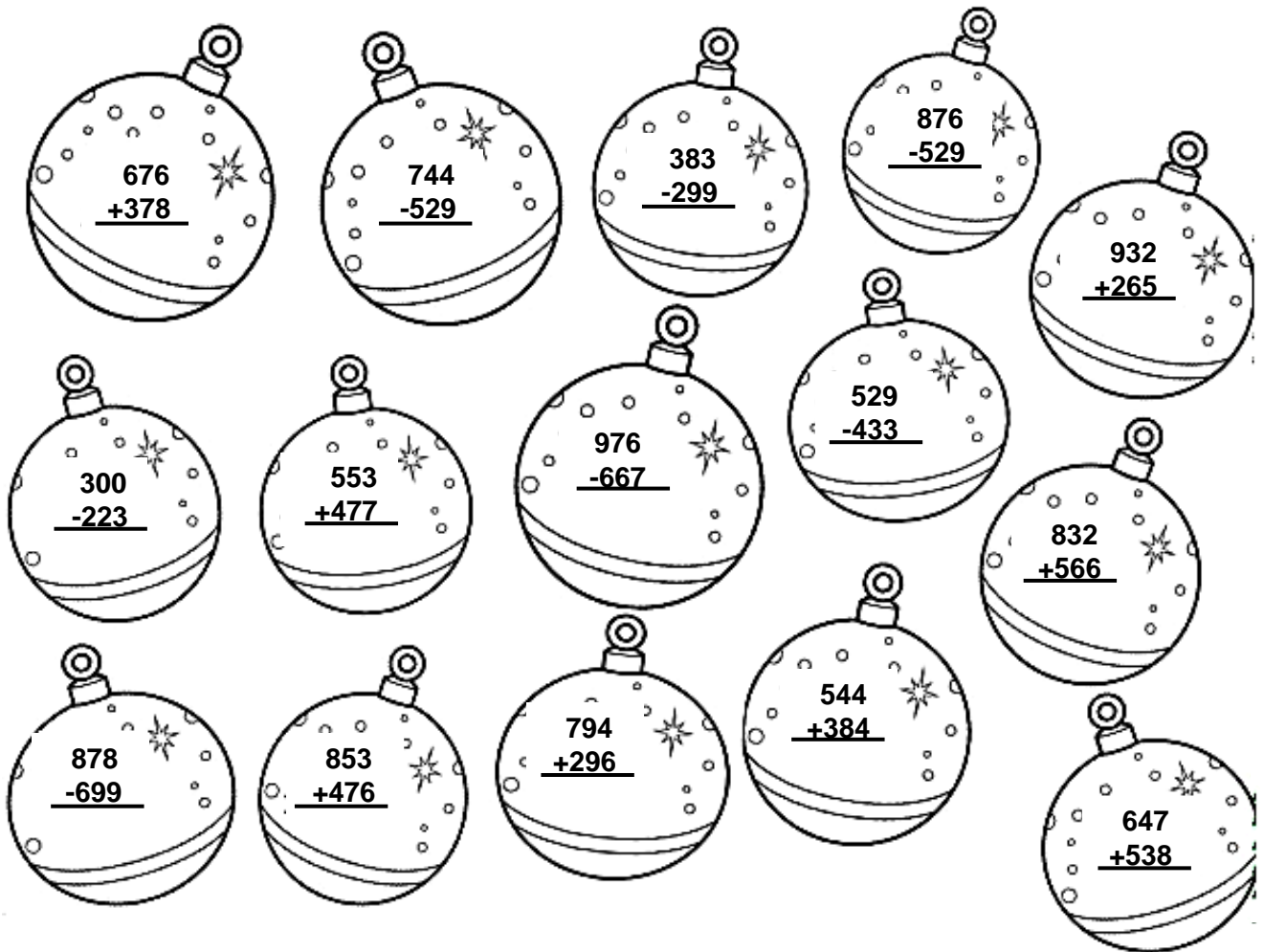
Resposta: _____



SIGA AS INSTRUÇÕES PASSO A PASSO E FAÇA O QUE SE PEDE:

- 1º Resolva as operações;
- 2º Pinte de **VERDE** as bolinhas de Natal que são pares;
- 3º Pinte de **VERMELHO** as bolinhas de Natal que são ímpares;
- 4º Coloque os resultados listados por ordem crescente (do menor para o maior) no espaço abaixo.

Vamos começar!



Agora, coloque dentro das estrelinhas os resultados, listando em ordem crescente: siga a seta →

Início





UNIDADE ESCOLAR:

PROFESSOR(A)

ANO DE ESCOLARIDADE

5º ano

DATA

42ª semana (12 a 16/12)

NOME:

HOJE É?

SEGUNDA

TERÇA

QUARTA

QUINTA

SEXTA

CÓDIGO BNCC

EF35LP21



O VERDADEIRO SENTIDO DO NATAL

Com a chegada do período natalino, podemos perceber o aumento do movimento das ruas, lojas e shoppings, devido à aquisição dos presentes para parentes e amigos.

É muito comum, nessa época, comerciais anunciando presentes, brinquedos, utensílios domésticos, móveis e artigos decorativos, carros, enfim, uma grande variedade de produtos, onde os lojistas mais criativos se destacam com preços melhores e algumas promoções para atrair maior quantidade de clientes, tendo um crescimento considerável das mesmas.

Acontece que o importante no natal não são os presentes nem tampouco o luxo das festas, mas sim, lembrarmos o nascimento de **Jesus Cristo**, nosso Salvador, aproveitando esse momento para agradecermos por nossas vidas, por nossas famílias, pela saúde, pelo trabalho, etc.

É Natal! Jesus nasceu!



De acordo com a história bíblica, Jesus Cristo nasceu em Belém (Palestina) e era filho de José e Maria. José era um judeu e precisava ir para Belém participar de um censo que seria realizado pelo Império Romano. José e Maria saíram de Nazaré até Belém, pelas margens do Rio Jordão. Maria fez a viagem montada em uma mula, pois precisava poupar energia para o parto. Chegando na cidade, Maria e José não conseguiram lugar nas hospedarias, que estavam lotadas. Eles então acharam um estábulo que usaram como abrigo. Maria deu à luz a **Jesus Cristo** naquela noite e colocou o bebê em uma manjedoura. Logo após seu nascimento, Maria e José receberam a visita dos Três Reis Magos. Os Reis Magos foram guiados pela estrela de Belém até o local do nascimento e entregaram como presentes à família ouro, mirra e incenso.

Porém, na sociedade capitalista e consumista em que vivemos, vemos que esses princípios andam bem esquecidos, onde as festas perdem seu verdadeiro sentido: união, paz, amor, momento de reflexão e oração, agradecendo por tudo de bom que recebemos e conquistamos ao longo de mais um ano que se passou.

O que vemos são pessoas preocupadas com a aparência física da festa, os luxos das mesas natalinas, dos enfeites e arranjos dispostos sobre suas casas, numa ceia com cardápio tão exagerado e variado que sobram grandes quantidades de alimentos que são jogados no lixo, no dia seguinte. Enfim, um exagero total, onde se perde o verdadeiro sentido da festa, tão bonita, que deveria servir como instrumento de união, harmonia, paz e doação entre as pessoas.

Há alguns anos, era comum as famílias trocarem cartões desejando boas festas, onde os mesmos eram dispostos no pé da árvore de natal, com o objetivo de trazer sorte, de acontecer tudo o que lhes era desejado nos mesmos. Mas, devido à modernidade do mundo virtual, essa prática foi esquecida. Hoje as pessoas enviam cartões virtuais, que não têm o mesmo significado nem a beleza dos cartões tradicionais.

- Agora, para relembrar essa prática vamos juntos em sala de aula confeccionar um lindocartão de Natal, para alguém que seja especial para você.

UNIDADE ESCOLAR:

PROFESSOR(A)

ANO DE ESCOLARIDADE

5º ano

DATA

42ª semana (12 a 16/12)

NOME:

HOJE É?

SEGUNDA

TERÇA

QUARTA

QUINTA

SEXTA

CÓDIGO BNCC

EF05MA07/EF05MA08

MATEMÁTICA



Recordando...

1- Uma pesquisa com estudantes de duas turmas do 5º ano sobre os programas de televisão preferidos registrou o resultado na tabela abaixo.

Programas preferidos dos estudantes do 5º ano

Programas	Turma 501	Turma 502
Desenhos animados	09	10
Filmes	01	06
Novelas	12	05
Séries	02	15

De acordo com essa tabela, qual foi o programa de televisão preferido da Turma 501?

- A) Desenhos animados.
- B) Filmes.
- C) Novelas.
- D) Séries.

2- Roberto correu a Maratona da Pampulha em 2008. Ele fez o percurso em 1 hora e 47 minutos. Qual foi o tempo em minutos gasto por Roberto para completar essa maratona?

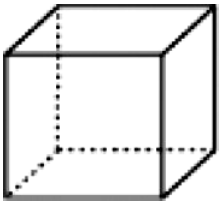
- A) 100 minutos.
- B) 107 minutos.
- C) 117 minutos.
- D) 147 minutos.

3- O número 2 046 pode ser escrito como:

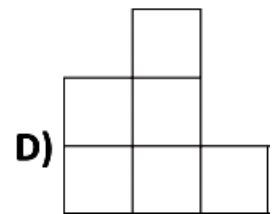
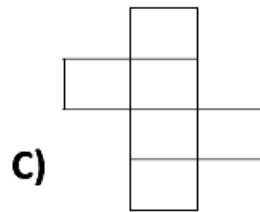
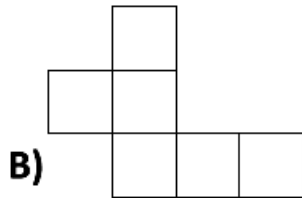
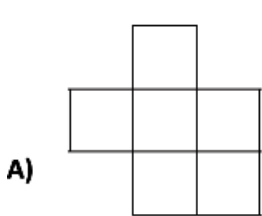
- A) $2 + 04 + 6$
- B) $20 + 4 + 6$
- C) $200 + 40 + 6$
- D) $2\ 000 + 40 + 6$




4- Veja o sólido abaixo:



Uma das planificações desse sólido é:



5- Veja a figura cinza desenhada na malha quadriculada abaixo. A medida da área de cada quadradinho da malha é igual a 1 cm^2 .




Qual é a medida da área dessa figura cinza?

- A) 19 cm^2 .
- B) 20 cm^2 .
- C) 28 cm^2 .
- D) 49 cm^2 .

6- Veja as figuras abaixo.



1



2



3



4

O losango é a figura:

- A) 1
- B) 2
- C) 3
- D) 4

7- Para fazer uma receita de rocambole para a ceia de Natal, Regina precisa de 1 kg de carne. Ao tirar o pacote de carne da geladeira, vê que ele tem apenas 625 gramas . De quantos gramas de carne ela ainda precisa para fazer a receita?

- A) 375 gramas
- B) 325 gramas .
- C) 425 gramas .
- D) 485 gramas .





UNIDADE ESCOLAR:

PROFESSOR(A)

ANO DE ESCOLARIDADE

DATA

NOME:

HOJE É?

SEGUNDA

TERÇA

QUARTA

QUINTA

SEXTA

CÓDIGO BNCC

LÍNGUA PORTUGUESA

Agora é sua vez!

- Produza um Conto de acordo com as informações abaixo. Não esqueça de dar um título para sua produção! Vamos te dar uma ajudinha. Siga as instruções.

Personagens	Papai Noel e um menino
Local em que acontece a história	Na sala da casa do menino
Fato gerador	Encontrou um presente
Início	Na noite de Natal
Final	E, esse foi o melhor Natal de todos