

**PREFEITURA MUNICIPAL DE BOM JESUS DO ITABAPOANA-RJ**  
**SECRETARIA MUNICIPAL DE EDUCAÇÃO, ESPORTE E LAZER**

# **Atividades Orientadoras**



## **Educação de Jovens e Adultos**

### **FASE I**



UNIDADE ESCOLAR:

PROFESSORA  DATA 5ª SEMANA DE NOVEMBRO

NOME:

FASE  CÓDIGO BNCC



## NÚMERO DOS SUBSTANTIVOS.

OS SUBSTANTIVOS TAMBÉM SÃO VARIÁVEIS EM NÚMERO, PODENDO SER **SINGULAR** OU **PLURAL**. A REGRA MAIS COMUM NA LÍNGUA PORTUGUESA PARA INDICAR O PLURAL É O ACRÉSCIMO DA LETRA -S AO FINAL DAS PALAVRAS.

**01** LEIA OS SUBSTANTIVOS E PINTE O QUADRINHO DE ACORDO COM A LEGENDA.

**AZUL - SINGULAR**

**VERDE - PLURAL**



A		IRMÃOS
B		CORAÇÃO
C		CAPITÃES
D		PÃO
E		VASOS
F		BOLSA
G		GATO
H		SAPATO
I		LIVROS
J		MESAS
K		MAÇÃ
L		CASAS

## GÊNERO DOS SUBSTANTIVOS

NA LÍNGUA PORTUGUESA, OS SUBSTANTIVOS SÃO VARIÁVEIS EM DOIS GÊNEROS: MASCULINO OU FEMININO.

SUBSTANTIVOS **MASCULINOS** SÃO ANTEPOSTOS PELOS ARTIGOS O, UM, OS, UNS.

SUBSTANTIVOS **FEMININOS** SÃO ANTEPOSTOS PELOS ARTIGOS A, UMA, AS, UMAS.

**02** ENCONTRE O MASCULINO DOS SUBSTANTIVOS NO DIAGRAMA E RESPONDA.

A	MADRINHA	
B	MULHER	
C	LEOA	
D	RAINHA	
E	PAVOA	

U	I	R	L	E	Ã	O	O	E	T	H	T
I	D	L	P	A	D	R	I	N	H	O	I
A	T	L	G	P	T	T	T	M	H	M	R
E	S	O	U	A	I	N	R	U	R	E	I
N	R	E	D	V	L	O	W	E	H	M	O
A	I	I	O	Ã	D	L	R	L	R	B	T
E	S	A	S	O	I	R	T	N	P	E	V
H	R	I	D	H	G	E	F	I	A	I	U
A	D	L	R	S	I	L	U	U	O	E	H
A	E	F	B	T	S	O	D	E	H	M	A
N	O	E	R	K	B	A	A	B	C	O	E
W	W	L	T	T	Y	P	A	D	P	D	O



UNIDADE ESCOLAR:

PROFESSORA

DATA

5ª SEMANA DE NOVEMBRO

NOME:

FASE

CÓDIGO BNCC

**MA**

**MATEMÁTICA**

**01** COMPLETE PARA CALCULAR O TOTAL.

**A** QUANTOS LÁPIS TÊM NO TOTAL?


ADIÇÃO

$$\square + \square + \square = \square$$

MULTIPLICAÇÃO

$$\square \times \square = \square$$

TOTAL DE LÁPIS:



**B** QUANTAS CANETAS TÊM NO TOTAL?

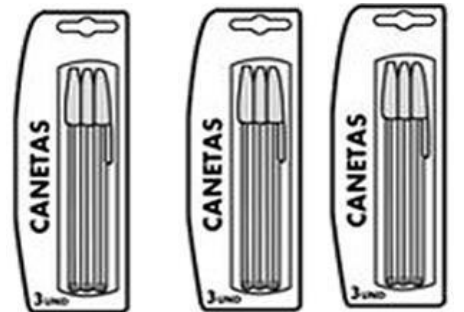
ADIÇÃO

$$\square + \square + \square = \square$$

MULTIPLICAÇÃO

$$\square \times \square = \square$$

TOTAL DE  
CANETAS:



**02** LIGUE CADA MULTIPLICAÇÃO COM A FIGURA CORRESPONDENTE.

**4 X 3** •

•



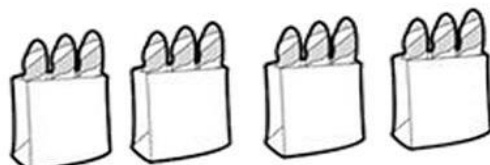
**2 X 2** •

•



**6 X 2** •


•




03 RESOLVA AS DIVISÕES ABAIXO.



$6 : 2 = \underline{\hspace{2cm}}$



$8 : 4 = \underline{\hspace{2cm}}$




$10 : 2 = \underline{\hspace{2cm}}$



$9 : 9 = \underline{\hspace{2cm}}$



$5 : 1 = \underline{\hspace{2cm}}$



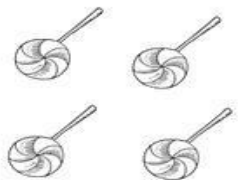
$12 : 3 = \underline{\hspace{2cm}}$




RESPIRA, INSPIRA E NÃO PIRA!!!



04 QUANTOS PIRULITOS PARA CADA CRIANÇA?


 $\div$ 

 $=$ 


PIRULITOS.      CRIANÇAS.      $4 : 2 = \underline{\hspace{2cm}}$



UNIDADE ESCOLAR:

PROFESSORA

DATA  
5ª SEMANA DE NOVENBRO

NOME:

FASE

CÓDIGO BNCC

# LP LÍNGUA PORTUGUESA

**01** RELACIONE OS SUBSTANTIVOS AOS ADJETIVOS CORRESPONDENTES.

- |                  |                |
|------------------|----------------|
| ( A ) BONDADE    | ( ) AMOROSO    |
| ( B ) VAIDADE    | ( ) PERIGOSO   |
| ( C ) AMOR       | ( ) ORGULHOSO  |
| ( D ) GULA       | ( ) CORAJOSO   |
| ( E ) FAMA       | ( ) BONDOSO    |
| ( F ) PERIGO     | ( ) CHARMOSO   |
| ( G ) MEDO       | ( ) HABILIDOSO |
| ( H ) PREGUIÇA   | ( ) VAIDOSO    |
| ( I ) ORGULHO    | ( ) GULOSO     |
| ( J ) CHARME     | ( ) PREGUIÇOSO |
| ( K ) HABILIDADE | ( ) FAMOSO     |
| ( L ) CORAGEM    | ( ) MEDROSO    |



02 ENCONTRE NO DIAGRAMA ABAIXO OS ADJETIVOS PÁTRIOS DAS SEGUINTE CIDADES E RESPONDA .

A CEARÁ \_\_\_\_\_

B NATAL \_\_\_\_\_

C BAHIA \_\_\_\_\_

D BELÉM \_\_\_\_\_

E CUIABÁ \_\_\_\_\_

F MACAPÁ \_\_\_\_\_



L	B	A	I	A	N	O	W	S	E	C	A
C	L	A	H	D	D	L	I	A	H	E	Y
U	Y	E	R	T	N	I	N	R	N	A	A
I	C	O	V	V	R	E	A	B	I	R	L
A	A	T	A	D	W	E	T	E	E	E	U
B	O	K	Y	I	C	F	A	L	E	N	O
A	P	I	E	S	B	S	L	E	I	S	Y
N	M	A	C	A	P	A	E	N	S	E	S
O	T	N	O	D	F	E	N	E	N	E	A
A	N	T	R	T	B	S	S	N	N	E	R
V	F	T	R	A	S	A	E	S	E	S	D
I	L	I	A	E	R	M	E	E	D	Y	E

UNIDADE ESCOLAR:

PROFESSORA

DATA  
5ª SEMANA DE NOVEMBRO

NOME:

FASE

CÓDIGO BNCC

# MA MATEMÁTICA

01 QUAL O VALOR DE:

4 NOTAS DE  ? \_\_\_\_\_

4 NOTAS DE  ? \_\_\_\_\_

4 NOTAS DE  ? \_\_\_\_\_

4 NOTAS DE  ? \_\_\_\_\_

4 NOTAS DE  ? \_\_\_\_\_

02 OBSERVE AS NOTAS ABAIXO.



A ESCREVA COMO SE LÊ  
O VALOR AO LADO.

\_\_\_\_\_



03 OBSERVE A QUANTIDADE EM DINHEIRO QUE LÍVIA RECEBEU DE SUA AVÓ:



A O VALOR QUE LÍVIA RECEBEU FOI:

- ( ) 2 REAIS.
- ( ) 3 REAIS.
- ( ) 10 REAIS.
- ( ) 12 REAIS.


04 JULIANA PRETENDE COMPRAR UM VESTIDO POR 35 REAIS E ELA POSSUI AS NOTAS ABAIXO:




A QUANTO VAI SOBRAR DO VALOR DE JULIANA AO COMPRAR O VESTIDO?

05 ENCONTRE O NOME DAS FIGURAS GEOMÉTRICAS PLANAS NO DIAGRAMA ABAIXO:

C	N	D	A	B	J	O	P	Y	Z
Í	A	Q	U	A	D	R	A	D	O
R	S	C	E	G	F	J	K	M	Ç
C	R	E	T	Â	N	G	U	L	O
U	W	A	U	I	G	U	Q	U	E
L	S	V	L	O	S	A	N	G	O
O	V	N	A	I	G	H	R	S	D
V	T	R	I	Â	N	G	U	L	O



06 PREENCHA A CRUZADINHA COM O NOME DAS FIGURAS GEOMÉTRICAS PLANAS:





UNIDADE ESCOLAR:

PROFESSORA

DATA  
5ª SEMANA DE NOVEMBRO

NOME:

FASE

CÓDIGO BNCC



SE O **GRAU AUMENTATIVO** INDICA UM TAMANHO **MAIOR** DO QUE A MÉDIA,  
O **GRAU DIMINUTIVO** INDICA UM TAMANHO **MENOR** DO QUE A MÉDIA.

**07** COMPLETE A TABELA ESCRREVENDO OS SUBSTANTIVOS NO DIMINUTIVO  
OU AUMENTATIVO.

	GRAU NORMAL	GRAU DIMINUTIVO	GRAU AUMENTATIVO	SEPARAR AS SÍLABAS.	QUANTAS SÍLABAS?
A	CADEIRA				
B	MOLA				
C	ESTRELA				
D	GARFO				
E	CAMA				
F	COPO				
G	CANETA				
H	CASA				
I	LIVRO				

