

PREFEITURA MUNICIPAL DE BOM JESUS DO ITABAPOANA-RJ
SECRETARIA MUNICIPAL DE EDUCAÇÃO, ESPORTE E LAZER

Atividades Orientadoras



Educação de Jovens e Adultos

FASE V



UNIDADE ESCOLAR:

PROFESSORA

DATA

NOME:

FASE

IV e V

CÓDIGO BNCC

EF04LP07 e EF05LP07

LP

LÍNGUA PORTUGUESA

ATIVIDADE

REVISÃO MENSAL

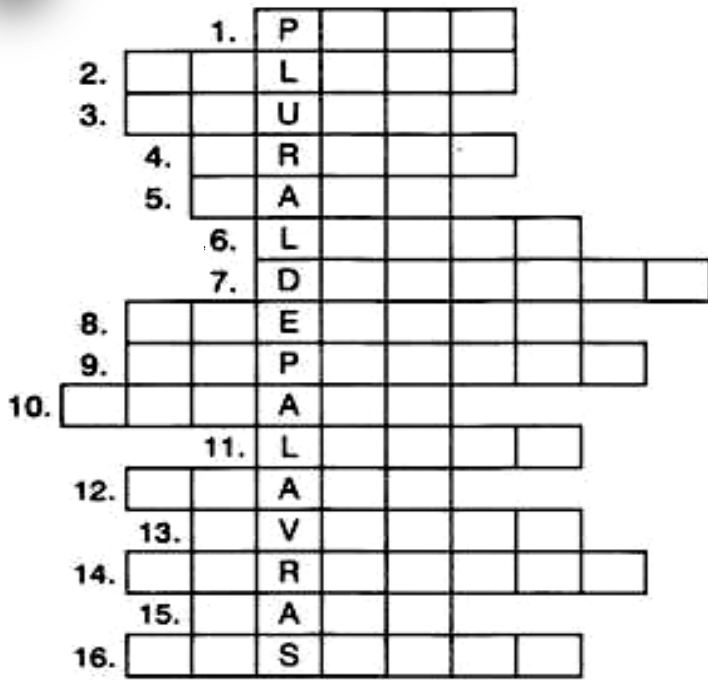
01

Complete o quadro escrevendo a informação correta sobre cada uma das palavras.

Palavra	Feminino ou masculino	Singular ou plural
Restaurantes		
Lua		
Avião		
Cor		
Hortelã		
Flores		
Cadernetas		
Óculos		
Mãe		
Farmácias		
Trabalhadores		
Professora		
Escola		
Escritório		
Gato		
Bodes		



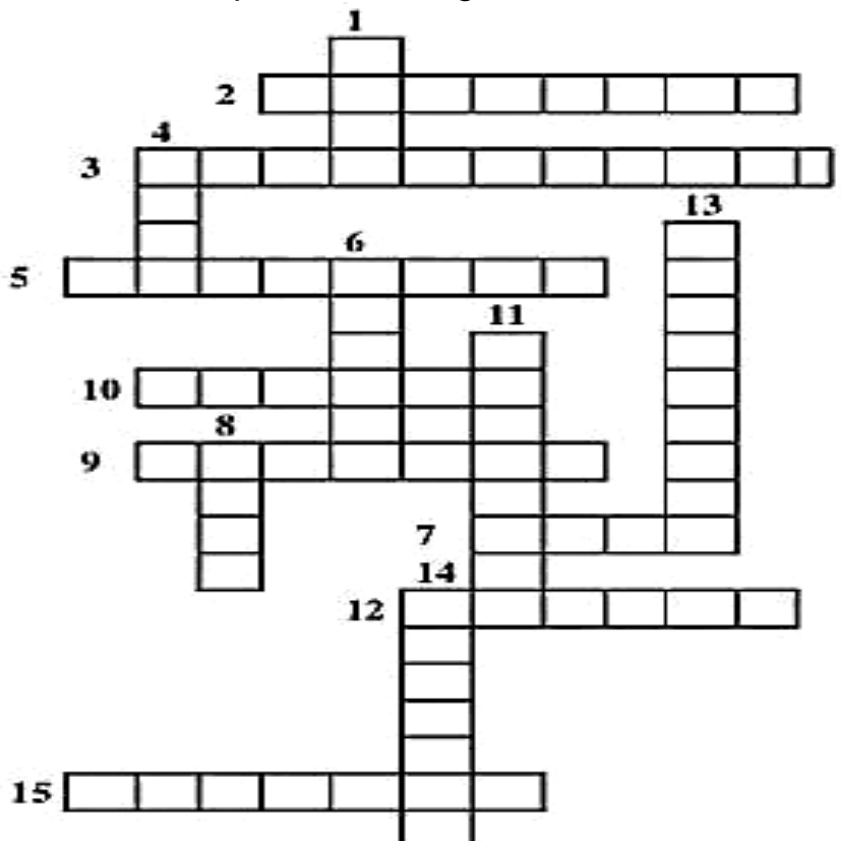
02 Complete a cruzadinha com o plural das palavras.



- | | |
|------------------|--------------------|
| 1. Pão: _____ | 9. Capitão: _____ |
| 2. Balão: _____ | 10. Irmão: _____ |
| 3. Azul: _____ | 11. Luz: _____ |
| 4. Irmã: _____ | 12. Grão: _____ |
| 5. Mãe: _____ | 13. Avião: _____ |
| 6. Leão: _____ | 14. Coração: _____ |
| 7. Dragão: _____ | 15. Cão: _____ |
| 8. Alemão: _____ | 16. Pastel: _____ |

03 Complete a cruzadinha com o feminino das palavras a seguir.

- | | |
|---------------|--------------|
| 1. CAVALHEIRO | 11. PADRINHO |
| 2. BARÃO | 12. CAPITÃO |
| 3. EMBAIXADOR | 13. VALENTÃO |
| 4. CAVALO | 14. CANTOR |
| 5. PADRASTO | 15. SENHOR |
| 6. ZANGÃO | |
| 7. GENRO | |
| 8. ÓRFÃO | |
| 9. COMPADRE | |
| 10. CARNEIRO | |





UNIDADE ESCOLAR:

PROFESSORA

DATA

NOME:

FASE **IV e V**

CÓDIGO BNCC EF03MA03

MA MATEMÁTICA

ATIVIDADE
REVISÃO MENSAL

01 Calcule as operações e pinte de verde e amarelo o caminho cujo resultado é um número par.

The maze contains the following math problems:

- $4 \times 8 =$
- $3 \times 5 =$
- $8 \times 7 =$
- $3 \times 0 =$
- $45 : 5 =$
- $3 \times 3 =$
- $27 : 3 =$
- $4 \times 3 =$
- $2 \times 4 =$
- $4 \times 6 =$
- $21 : 3 =$
- $7 \times 6 =$
- $3 \times 2 =$
- $2 \times 8 =$
- $16 : 4 =$
- $5 \times 7 =$
- $3 \times 1 =$
- $4 \times 5 =$
- $3 \times 6 =$
- $3 \times 9 =$
- $14 : 2 =$
- $32 : 4 =$
- $4 \times 7 =$
- $5 \times 8 =$
- $18 : 3 =$

02 Resolva a situações-problemas.

A Em uma fazenda, há um rebanho com 874 cabeças de gado. Se eu dividir este rebanho em 2 grupos, quantas cabeças de gado cada grupo terá ?



Blank space for writing the answer to problem A, consisting of a vertical box on the left and a horizontal box on the right, both with orange outlines and dots at the corners.

B Em um galinheiro, nasceram o total de 378 pintinhos. Se eu colocar estes pintinhos em 3 grupos, quantos pintinhos terão em cada grupo?



Blank space for writing the answer to problem B, consisting of a vertical box on the left and a horizontal box on the right, both with orange outlines and dots at the corners.

C Eliane é produtora de abacates. Ela colheu o total de 486 abacates e distribuiu em 2 caixas. Quantos abacates cada caixa recebeu?



Blank space for writing the answer to problem C, consisting of a vertical box on the left and a horizontal box on the right, both with orange outlines and dots at the corners.

D O senhor Alisson comprou uma poltrona em 5 prestações de R\$ 65,00. Qual foi o valor total da poltrona?



Blank space for writing the answer to problem D, consisting of a vertical box on the left and a horizontal box on the right, both with orange outlines and dots at the corners.

UNIDADE ESCOLAR:

PROFESSORA DATA

NOME:

FASE **IV e V** CÓDIGO BNCC **EF03LP09**

LP **LÍNGUA PORTUGUESA**
ATIVIDADE >
REVISÃO MENSAL

01 Escreva as expressões e substitua as palavras sublinhadas pelos respectivos adjetivos pátrios.

Comida da França.

Esporte da Inglaterra.

Televisor do Japão.

Jogador do Brasil.

Massa da Itália.

Seleção da Alemanha.

02 Complete as frases com os adjetivos adequados.

A Quem tem veneno é

B Quem tem coragem é

C Quem tem piedade é

D Quem tem vaidade é

E Quem tem preguiça é



Pinte o adjetivo mais adequado para cada figura.



BONITO ALTO GROSSO

CONFORTÁVEL ESPERTA LONGA



VAZIA QUADRADA NOVA

CURTA AQUÁTICA ESPAÇOSA



GELADO DELICADO FINO

DOCE CHEIO MORENO



MEDROSO CALADO VELOZ

FELIZ EDUCADA AFIADA



COLORIDO CONFORTÁVEL PESADO

MACIA TRISTONHA BONDOSA



GORDO ZANGADO SEGURO

ALEGRE SORRIDENTE PEQUENA



UNIDADE ESCOLAR:

PROFESSORA

DATA

NOME:

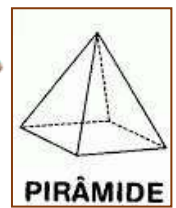
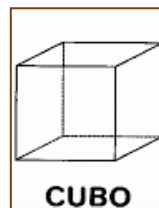

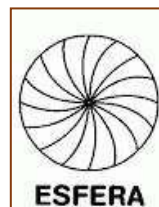
FASE **IV e V**

CÓDIGO BNCC EF05MA07, EF04MA25 e EF04MA17





MA MATEMÁTICA
ATIVIDADE
REVISÃO MENSAL

01 Procure no caça-palavras os nomes dos sólidos geométricos. Veja o quadro abaixo para recordar.

V	I	E	S	F	E	R	A	T
R	T	U	A	M	X	S	P	I
C	O	N	E	N	A	T	V	Z
B	D	J	O	P	E	L	S	F
C	I	L	I	N	D	R	O	R
X	A	M	R	E	U	V	N	P
S	F	U	Z	W	C	U	B	O
T	P	O	U	Y	A	I	F	T
P	I	R	Â	M	I	D	E	N
U	Z	B	T	N	O	I	S	V



02 Marque com um x o nome das figuras geométricas.

			
<input type="checkbox"/> Círculo	<input type="checkbox"/> Círculo	<input type="checkbox"/> Círculo	<input type="checkbox"/> Círculo
<input type="checkbox"/> Retângulo	<input type="checkbox"/> Retângulo	<input type="checkbox"/> Retângulo	<input type="checkbox"/> Retângulo
<input type="checkbox"/> Quadrado	<input type="checkbox"/> Quadrado	<input type="checkbox"/> Quadrado	<input type="checkbox"/> Quadrado
<input type="checkbox"/> Triângulo	<input type="checkbox"/> Triângulo	<input type="checkbox"/> Triângulo	<input type="checkbox"/> Triângulo

03 Quando compramos um objeto, pagamos um preço por ele. Se vendemos por um preço maior, obtemos lucro. Se vendemos por um preço menor, obtemos prejuízo. Marque com um x na coluna certa.

OBJETOS	PREÇO		LUCRO	PREJUÍZO
	COMPRA	VENDA		
	R\$ 350,00	R\$ 450,00		
	R\$ 95,90	R\$ 105,00		
	R\$ 290,00	R\$ 159,00		
	R\$ 1.500,00	R\$ 1.650,00		
	R\$ 190,00	R\$ 140,00		
	R\$ 89,99	R\$ 105,00		
	R\$ 980,00	R\$ 580,00		
	R\$ 56.000,00	R\$ 46.000,00		
	R\$ 36,00	R\$ 45,00		



UNIDADE ESCOLAR:

PROFESSORA

DATA

NOME:

FASE **IV e V**

CÓDIGO BNCC EF02LP11



LP **LÍNGUA PORTUGUESA**
ATIVIDADE
REVISÃO MENSAL

01 Marque com x as palavras no diminutivo.

- () galinha () vizinho () jarrinho () cachorrinho
() joaninha () pequenininho () marinha () sozinho

02 Quais dessas palavras estão no aumentativo? Marque:

- () avião () solidão () João () manhã
() casarão () narigão () amigoão () pezão

03 Escreva as palavras abaixo no aumentativo ou no diminutivo conforme o que se pede na tabela.

AUMENTATIVO	NORMAL	DIMINUTIVO
	Macaco	
	Cachorro	
	Sapato	
	Amigo	
	Nariz	

Procure no caça-palavras os substantivos no grau aumentativo e diminutivo, pintando os pares da mesma cor. Por exemplo: bolão, bola e bolinha.



B	O	Q	U	I	N	H	A	P	O	I	U	Y	A
S	D	F	G	C	A	S	I	N	H	A	G	H	J
B	O	N	E	Q	U	I	N	H	A	J	K	L	O
P	M	J	N	H	C	A	S	A	R	Ã	O	B	G
C	D	S	X	C	E	G	O	T	Í	C	U	L	A
R	T	Y	U	B	O	C	A	R	R	A	O	P	J
C	H	A	V	O	N	A	Z	X	C	V	B	N	H
Q	A	S	W	E	D	G	O	T	Ã	O	C	F	V
C	H	A	P	E	U	Z	I	N	H	O	Z	X	C
V	B	N	M	K	L	I	V	R	Ã	O	B	G	T
V	C	D	E	H	O	M	E	N	Z	I	N	H	O
Z	X	C	C	H	A	V	I	N	H	A	Z	A	S
H	O	M	E	N	Z	A	R	R	Ã	O	Z	S	X
D	C	F	L	I	V	R	I	N	H	O	T	G	B
N	H	Y	U	J	C	A	N	Z	A	R	R	Ã	O
B	G	L	E	V	I	A	O	T	V	C	D	E	R
C	H	A	P	E	L	Ã	O	Z	X	C	V	B	N
P	L	K	C	Ã	O	Z	I	N	H	O	R	T	Y
A	S	D	F	G	H	J	B	O	N	E	C	Ã	O

gotão

gotícula

bonequinha

bonecão

casinha

casarão

chapeuzinho

chapelão

cãozinho

canzarrão

livrinho

livrão

chavinha

chavona

boquinha

bocarra

homenzinho

homenzarrão