

PREFEITURA MUNICIPAL DE BOM JESUS DO ITABAPOANA-RJ
SECRETARIA MUNICIPAL DE EDUCAÇÃO, ESPORTE E LAZER

Atividades Orientadoras



Educação de Jovens e Adultos

FASE II



UNIDADE ESCOLAR:

PROFESSORA

DATA

1ª SEMANA

NOME:

FASE

CÓDIGO BNCC



COMEÇAREMOS NOSSO ANO LETIVO COM UMA DINÂMICA.

DINÂMICA É TODA ATIVIDADE QUE SE DESENVOLVE COM UM GRUPO E TEM POR OBJETIVO INTEGRAR, DESINIBIR, DIVERTIR, APRENDER, APRESENTAR E PROMOVER O CONHECIMENTO ENTRE AS PESSOAS.

DINÂMICA DO PIRULITO

COMO FAZER A DINÂMICA DO PIRULITO?

O PRIMEIRO PASSO É DISTRIBUIR UM PIRULITO PARA CADA UM DOS PARTICIPANTES E PEDIR PARA ELES FORMAREM UM CÍRCULO. APÓS ISSO, ELES DEVEM SER ORIENTADOS PARA QUE SEGUREM O PIRULITO COM A MÃO DIREITA E O BRAÇO ESTENDIDO PARA FRENTE E O BRAÇO ESQUERDO PARA TRÁS.

SEGUIDO DISSO, DEVE SER DITO QUE ELES DEVEM TER EM MENTE E SEGUIR AS SEGUINTE REGRAS: MANTER O BRAÇO ESQUERDO ATRÁS DO CORPO SEM UTILIZÁ-LO PARA NENHUM MOVIMENTO; SÓ É PERMITIDO MOVIMENTAR O BRAÇO DIREITO NAS DIREÇÕES ESQUERDA E DIREITA, SEM FLEXIONÁ-LO EM MOMENTO ALGUM.

A PARTIR DISSO, ELES DEVEM RECEBER AS ORDENS PARA DESEMBRULHAR O PIRULITO E COLOCÁ-LO NA BOCA. NESSE MOMENTO DEVE COMEÇAR UMA CONFUSÃO E DISCUSSÕES DE COMO FARÃO ISSO.



Atividade

- 01** LEIA O TEXTO ABAIXO E RESPONDA COM ATENÇÃO.
(SE PRECISAR PEÇA AJUDA!)

A POEIRA

MANOEL MORA EM BOM JESUS DO ITABAPOANA RJ, NO DISTRITO DE ROSAL. ELE E SUA FAMÍLIA PLANTARAM UMA LAVOURA DE TOMATE. ELES CULTIVAM O TOMATE E VENDEM PARA UM SUPERMERCADO QUE FICA NA CIDADE.

ESTES DIAS ESTAVA TENDO MUITA POEIRA, MAS HOJE VEIO A CHUVA PARA AGUAR A LAVOURA E APAGAR TODA A POEIRA.

https://docs.google.com/document/d/1yTpU_aNP8aFwNH_5vdNrUNHnRHnKXixru6ObATutHWI/edit

- A** ONDE MANOEL MORA?

- () NO BAIRRO JARDIM VALÉRIA.
- () NO DISTRITO DE ROSAL.
- () NO DISTRITO DE CARABUÇU.

- B** O QUE ELE E SUA FAMÍLIA PLANTARAM?


- () UMA LAVOURA DE TOMATE.
- () UMA LAVOURA DE PEPINO.
- () UMA LAVOURA DE MORANGOS.

- C** CIRCULE NO TEXTO, O NOME **TOMATE**, TODAS AS VEZES QUE ELE APARECER.

- D** CIRCULE AS VOGAIS DA PALAVRA ABAIXO.

T O M A T E

02 LEIA COM ATENÇÃO E CIRCULE O NOME DA FRUTA EM DESTAQUE.



MAMÃO
MELANCIA
MORANGO



LIMÃO
LIMA
LARANJA




MORANGO
MAMÃO
MELANCIA



MAMÃO
MAÇÃ
MELÃO



AMEIXA
CAQUI
TOMATE




ACEROLA
PITANGA
UVA



ABACAXI
ABACATE
AMEIXA



ABACATE
BANANA
MANGA



ACEROLA
PITANGA
CEREJA

VOCÊ SABIA QUE O TOMATE, APESAR DE SER COMIDO EM SALADAS, É UMA FRUTA? ISSO MESMO, ELE NÃO É UM LEGUME, MAS UMA FRUTA, ASSIM COMO A LARANJA, O LIMÃO E O MARACUJÁ.



UNIDADE ESCOLAR:

PROFESSORA

DATA
1ª SEMANA FEV.

NOME:

FASE

CÓDIGO BNCC



OBSERVE O CALENDÁRIO DE FEVEREIRO DE 2023.

FEVEREIRO 2023

DOM	SEG	TER	QUA	QUI	SEX	SÁB
 NOVA 5	 MING. 13	 CHEIA 20	01	02	03	04
05	06	07	08	09	10	11
12	13	14	15	16	17	18
19	20	21	22	23	24	25
26	27	28	 CRESC. 27			

21 - CARNAVAL

Atividade

01 RESPONDA DE ACORDO COM O CALENDÁRIO.

A QUANTOS DIAS TEM O MÊS DE FEVEREIRO?

() 28 DIAS () 31 DIAS () 30 DIAS () 29 DIAS

B TEMOS QUANTOS SÁBADOS NO MÊS DE FEVEREIRO?

() 5 SÁBADOS () 4 SÁBADOS () 6 SÁBADOS

C NO MÊS DE FEVEREIRO DE 2023, TODOS OS DIAS DA SEMANA TERÃO:

() 3 DIAS () 4 DIAS () 5 DIAS () 6 DIAS

02 COMPLETE A SEQUÊNCIA NUMÉRICA ABAIXO.

1									10
11									20
21									30
31									40
41									50

03 ESCREVA O ANTECESSOR E SUCESSOR DOS NÚMEROS.

	5	
--	---	--

	2	
--	---	--

	11	
--	----	--

	6	
--	---	--

	17	
--	----	--

	8	
--	---	--

	4	
--	---	--

	15	
--	----	--

04 RESOLVA AS ADIÇÕES E SUBTRAÇÕES ABAIXO E ESCREVA OS RESULTADOS NOS CÍRCULOS.

$4 + 1 = \bigcirc$

$2 + 0 = \bigcirc$

$5 - 3 = \bigcirc$

$2 + 1 = \bigcirc$

$1 + 3 = \bigcirc$

$5 - 4 = \bigcirc$

$2 + 3 = \bigcirc$

$3 - 3 = \bigcirc$

$5 - 1 = \bigcirc$

$2 + 2 = \bigcirc$

$4 - 1 = \bigcirc$

$3 - 1 = \bigcirc$

UNIDADE ESCOLAR:

PROFESSORA

DATA
1ª SEMANA FEV.

NOME:

FASE

CÓDIGO BNCC

LP **LÍNGUA PORTUGUESA**

01 ESCREVA AS LETRAS DO ALFABETO QUE ESTÃO FALTANDO NA SEQUÊNCIA ABAIXO.

	B			E	F
	G			J	
	L				P
	Q				
U		W			Z

02 CIRCULE AS VOGAIS ACIMA E ESCREVA-AS ABAIXO.

--	--	--	--	--

03

→ QUEM VEM ANTES?



04

→ QUEM VEM DEPOIS?



05

EM CADA PAR DE FIGURAS HÁ UM OBJETO A MAIS. CIRCULE-O E ESCREVA O NOME AO LADO COM A AJUDA DO PROFESSOR.

UNIDADE ESCOLAR:

PROFESSORA

DATA
1ª SEMANA FEV.



NOME:



FASE



CÓDIGO BNCC



MA **MATEMÁTICA**



01 RESOLVA AS ADIÇÕES E MARQUE AS RESPOSTAS CORRETAS.

 +  =

 +  =


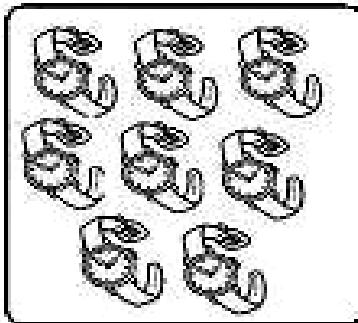

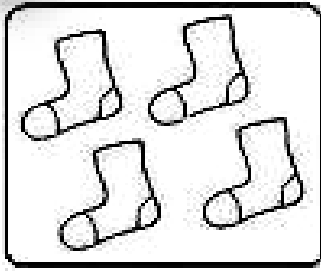
 +  =

 +  =


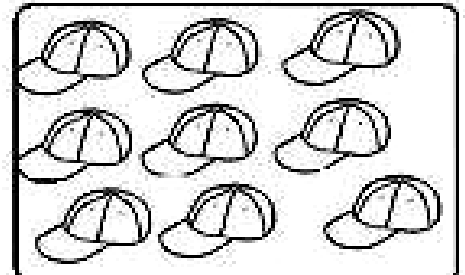


 +  =

02

LIGUE CADA CONJUNTO DE FIGURAS AO NÚMERO CORRESPONDENTE.



0
2
4
1
5
3
7
9
6
8













03

ESCREVA O NOME DOS NÚMEROS.

0 - ZERO	1 - UM	2- DOIS	3- TRÊS	4 - QUATRO
0-	1-	2-	3-	4-
5 - CINCO	6 - SEIS	7 - SETE	8 - OITO	9 - NOVE
5-	6-	7-	8-	9-

04 OBSERVE CADA IMAGEM E DESCUBRA A SEQUÊNCIA NUMÉRICA DE CADA UMA. DEPOIS, COMPLETE A TABELA.

1		3		5
	7		9	
11		13		15
	17		19	

1				
				20

05 COMPLETE COM OS NÚMEROS QUE VÊM ANTES E DEPOIS.

ANTES		DEPOIS
	11	

ANTES		DEPOIS
	19	

ANTES		DEPOIS
	14	

ANTES		DEPOIS
	12	

UNIDADE ESCOLAR:

PROFESSORA

DATA

1ª SEMANA FEV.

NOME:

FASE

CÓDIGO BNCC

LP

LÍNGUA PORTUGUESA

01 OBSERVANDO UMA TELA.



Fonte: gilsoncamargo.com.br

GUIDO VIARO
LAVADEIRAS, 1.944.

GUIDO VIARO FOI O GRANDE PINTOR MODERNO DO PARANÁ, QUE RETRATOU A NATUREZA PARANAENSE IMPETUOSAMENTE.

A QUAL O NOME DA TELA ACIMA?

() PAISAGEM () LAVADEIRAS () CIDADE

B QUAL O NOME DO AUTOR DA TELA ACIMA?

() GUIDO VIARO () DI CAVALCANTI () CANDIDO PORTINARI

C QUAL A DATA DA TELA ACIMA?

() 2.023 () 1.500 () 1.944

02 LEIA E COPIE O ALFABETO.

A	B	C	D	E	F	G
H	I	J	K	L	M	N
O	P	Q	R	S	T	U
V	W	X	Y	Z		

03 COMPLETE O QUADRO ABAIXO.

PALAVRAS	TOTAL DE LETRAS	LETRA INICIAL	LETRA FINAL	TOTAL DE VOGAIS	TOTAL DE CONSOANTES	QUANTAS SÍLABAS?
LAVADEIRAS						
NATUREZA						
PARANÁ						
PINTOR						

04 DESCUBRA A PALAVRA, ESCRREVENDO A LETRA INICIAL DO NOME DE CADA DESENHO. DEPOIS ESCREVA A PALAVRA NO RETÂNGULO ABAIXO.



A



B



C
