

PREFEITURA MUNICIPAL DE BOM JESUS DO ITABAPOANA-RJ
SECRETARIA MUNICIPAL DE EDUCAÇÃO, ESPORTE E LAZER

Atividades Orientadoras



Educação de Jovens e Adultos

FASE II



UNIDADE ESCOLAR:

PROFESSORA

DATA

3ª SEMANA FEV.

NOME:

FASE

CÓDIGO BNCC



01 LEIA A QUADRINHA COM A AJUDA DO PROFESSOR.

A ABELHA FAZ ZUM, ZUM...
VAI FORMANDO A LETRA **A**
SOBE E DESCE, VAI VOANDO
PARA SEU NOME FORMAR!



Isabel Cristina S. Soares

A CIRCULE A PALAVRA **ABELHA** NA QUADRINHA.

B ESCREVA-A ABAIXO.

LETRA INICIAL

LETRA FINAL

C A PRIMEIRA LETRA DA PALAVRA ABELHA É:









- () A () B
() E () O

D A PALAVRA **ABELHA** TEM _____ LETRAS.









02 OBSERVE O ALFABETO E RESPONDA.

A B C D E F G H I J K L M N O P Q R S T U V W X Y Z




A → QUEM VEM ANTES?

 <input type="text"/> B	 <input type="text"/> F	 <input type="text"/> I	 <input type="text"/> M
 <input type="text"/> P	 <input type="text"/> T	 <input type="text"/> V	 <input type="text"/> Z

B → QUEM VEM DEPOIS?

 A <input type="text"/>	 D <input type="text"/>	 G <input type="text"/>	 J <input type="text"/>
 N <input type="text"/>	 Q <input type="text"/>	 U <input type="text"/>	 X <input type="text"/>

03 COMPLETE AS PALAVRAS COM AS VOGAIS QUE ESTÃO FALTANDO.

	B		N		C	
	G		T			
	S		F			
	S		P		T	

UNIDADE ESCOLAR:

PROFESSORA

DATA
3ª SEMANA FEV.

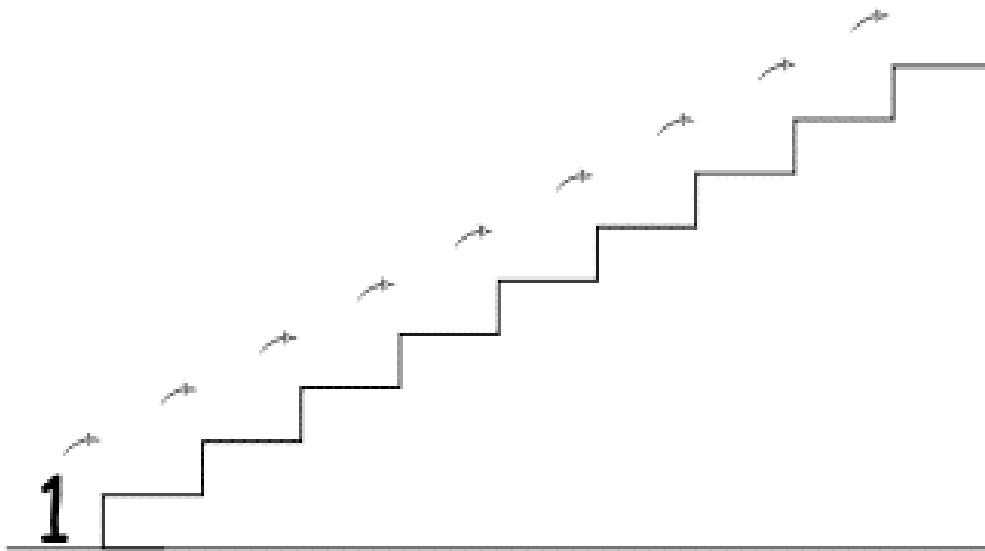
NOME:

FASE

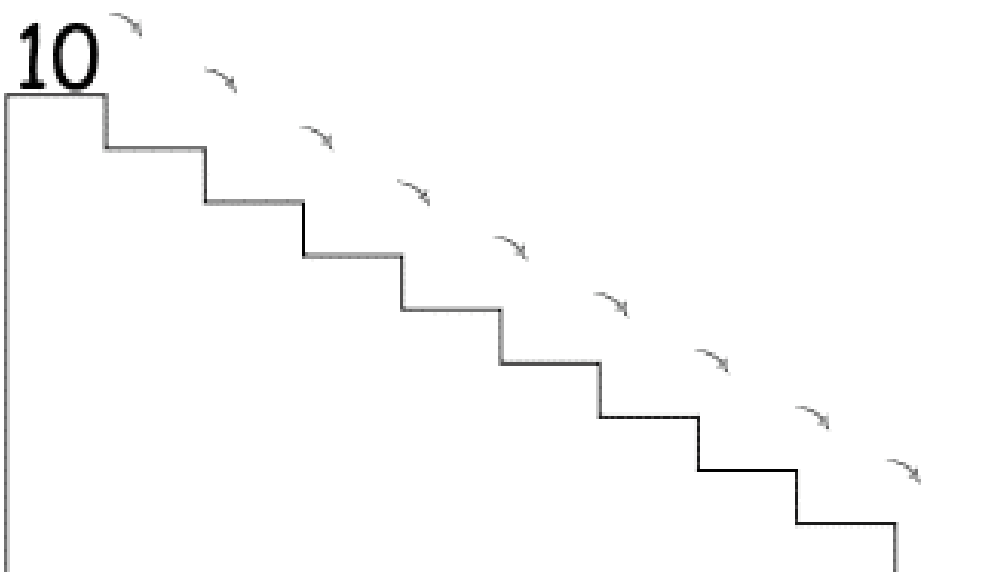
CÓDIGO BNCC

MA **MATEMÁTICA**


01 ESCREVA OS NÚMEROS EM ORDEM CRESCENTE.



02 ESCREVA OS NÚMEROS EM ORDEM DECRESCENTE.



03 OS NÚMEROS, ASSIM COMO AS PALAVRAS, ESTÃO PRESENTES NO NOSSO DIA A DIA. VEJA ALGUMAS SITUAÇÕES EM QUE OS NÚMEROS APARECEM.



A CIRCULE OS NÚMEROS QUE VOCÊ ENCONTRAR E ESCREVA-OS ABAIXO.

04

PROBLEMAS COM ADIÇÃO.

A CARLOS COLHEU 67 JACAS E 29 MAMÕES, PARA VENDER NA FEIRA. QUANTAS FRUTAS ELE LEVOU PARA A FEIRA?

B MARIA GANHOU 35 BALAS DO SEU TIO E 26 DA SUA TIA. QUANTAS BALAS ELA GANHOU?

C NA CASA DO MARCELO TEM 30 LARANJEIRAS, 15 MANGUEIRA, 23 LIMOEIROS, 12 MACIEIRAS E 21 BANANEIRAS. QUANTAS ÁRVORES HÁ NA CASA DO MARCELO.

D TITIA COMPROU 25 QUILOS DE ARROZ E DEPOIS COMPROU MAIS 17 QUILOS. QUANTOS QUILOS DE ARROZ ELA COMPROU.
