

PREFEITURA MUNICIPAL DE BOM JESUS DO ITABAPOANA-RJ  
SECRETARIA MUNICIPAL DE EDUCAÇÃO, ESPORTE E LAZER

**SEMEEL**

*A mudança está em nossas mãos*

# Atividades Orientadoras



**1º**  
**ano**

# Ensino Fundamental

UNIDADE ESCOLAR:

PROFESSOR(A)

ANO DE ESCOLARIDADE

DATA

NOME:

HOJE É?

SEGUNDA  TERÇA  QUARTA  QUINTA  SEXTA


CÓDIGO BNCC

# LÍNGUA PORTUGUESA



1. COMPARTILHE A LEITURA COM A PROFESSORA:

· APARECE NO DUDU  
· QUE NÃO GOSTA DE COMIDA.  
· MAS NÃO VEM COM A MAGALI  
· A GULOSA MAIS QUERIDA.  
· ELA ESTÁ NO DÓ,  
· ESTÁ NO DEDO E NO DEDAL,  
· NO DRAGÃO, NO DOMINÓ,  
· NO DIAMANTE E NO DEGRAU.



(ABC DA MÔNICA)


2. PINTE AS PALAVRAS COM D.

3. QUANTAS PALAVRAS VOCÊ PINTOU? \_\_\_\_\_

4. DE ACORDO COM O TEXTO, ONDE O **D** ESTÁ?

\_\_\_\_\_

5. RELACIONE AS PALAVRAS DO TEXTO COM O QUE SE PEDE ABAIXO:



- NOME DE PESSOA: \_\_\_\_\_

- NOME DE OBJETO: \_\_\_\_\_

- NOME DE ANIMAL: \_\_\_\_\_

6. COMPLETE O TEXTO COM AS PALAVRAS FALTOSAS OBSERVANDO O QUADRO DE PALAVRAS:

APARECE NO \_\_\_\_\_  
 QUE NÃO GOSTA DE \_\_\_\_\_  
 MAS NÃO VEM COM A MAGALI  
 A GULOSA MAIS \_\_\_\_\_

ELA ESTÁ NO \_\_\_\_\_,  
 ESTÁ NO \_\_\_\_\_ E NO \_\_\_\_\_,  
 NO \_\_\_\_\_ NO \_\_\_\_\_,  
 NO \_\_\_\_\_ E NO \_\_\_\_\_.










(ABC DA MÔNICA)



DEDO – DOMINÓ – QUERIDA – DÓ – DIAMANTE – DUDU  
 COMIDA – DEGRAU

7. ENCONTRE AS PALAVRAS DO QUADRO NO CAÇA-PALAVRAS:

DEDO – DADO – DENTE – DOMINÓ – DAMA – DOCE  
 DUREX – DUENDE – DINHEIRO

	D	A	D	O	Q	W	R	T	
	C	V	N	M	D	A	M	A	
	D	E	D	O	G	T	Z	X	
	D	I	N	H	E	I	R	O	
	D	U	R	E	X	S	F	G	
	Y	P	D	O	M	I	N	Ó	
	D	E	N	T	E	W	R	T	
	J	K	D	U	E	N	D	E	
	D	O	C	E	G	D	F	G	



UNIDADE ESCOLAR:

PROFESSOR(A)

ANO DE ESCOLARIDADE  
1º ANO

DATA  
10ª SEMANA (10 a 14/04)

NOME:

HOJE É?

SEGUNDA

TERÇA

QUARTA

QUINTA

SEXTA

CÓDIGO BNCC

EF01MA01 / EF01MA04

## MATEMÁTICA



1. NO COMEÇO DA AULA DE HOJE, A PROFESSORA FATINHA APRESENTOU UMA ATIVIDADE BEM DIFERENTE. CADA ALUNO DEVE DESCOBRIR QUAL É SEU NÚMERO NA BRINCADEIRA. AJUDE-OS A DESCOBRIR OS NÚMEROS E DEPOIS RELACIONE-OS DE ACORDO COM O NOME DE CADA UM E RESPONDA:

10 + 4 =	10 + 1 =	10 + 2 =	10 + 9 =
RAÍSSA	ROBERTO	JOELMA	GUTO
10 + 6 =	10 + 8 =	10 + 5 =	10 + 3 =
SOFIA	LURDES	DUDU	JOÃO



12



16



11



19



14



15



13




18

2. QUAL ALUNO FICOU COM O MAIOR NÚMERO?

3. QUAL ALUNO FICOU COM O MENOR NÚMERO?

4. O NÚMERO 16 CORRESPONDE A QUAL ALUNO?



2. SEPARE EM CADA QUADRO, GRUPOS COM 10 PERSONAGENS E VEJA QUANTOS VAO SOBRAR. EM SEGUIDA, COMPLETE CADA QVL (QUADRO VALOR DE LUGAR) E ESCREVA OS NÚMEROS FORMADOS POR EXTENSO:

	<table border="1"> <tr> <td>D</td> <td>U</td> </tr> <tr> <td> </td> <td> </td> </tr> </table>	D	U			<hr/> <hr/>
D	U					
	<table border="1"> <tr> <td>D</td> <td>U</td> </tr> <tr> <td> </td> <td> </td> </tr> </table>	D	U			<hr/> <hr/>
D	U					
	<table border="1"> <tr> <td>D</td> <td>U</td> </tr> <tr> <td> </td> <td> </td> </tr> </table>	D	U			<hr/> <hr/>
D	U					
	<table border="1"> <tr> <td>D</td> <td>U</td> </tr> <tr> <td> </td> <td> </td> </tr> </table>	D	U			<hr/> <hr/>
D	U					
	<table border="1"> <tr> <td>D</td> <td>U</td> </tr> <tr> <td> </td> <td> </td> </tr> </table>	D	U			<hr/> <hr/>
D	U					
	<table border="1"> <tr> <td>D</td> <td>U</td> </tr> <tr> <td> </td> <td> </td> </tr> </table>	D	U			<hr/> <hr/>
D	U					

UNIDADE ESCOLAR:

PROFESSOR(A)

ANO DE ESCOLARIDADE  
1º ANO

DATA  
10ª SEMANA (10 a 14/04)

NOME:

HOJE É?

SEGUNDA
  TERÇA
  QUARTA
  QUINTA
  SEXTA

CÓDIGO BNCC

EF01LP07/EF01LP08/EF01LP16

# LÍNGUA PORTUGUESA



1. COMPLETE O QUADRO ABAIXO COM ...


	PALAVRA	LETRA INICIAL	LETRA FINAL	TOTAL DE LETRAS	VOGAIS	CONSOANTES
	BOLA					
	ESPADA					
	BORBOLETA					
	AVIÃO					
	DOMINÓ					
	DINOSSAURO					
	DIAMANTE					
	VACA					



2. FAÇA A LEITURA COMPARTILHADA COM A PROFESSORA:

**A BOLA**

É BOLA NA MÃO  
É BOLA NA PAREDE  
É BOLA NO CHÃO  
É BOLA NA REDE...



3. PINTE OS ESPAÇOS ENTRE AS PALAVRAS:

4. QUANTAS PALAVRAS HÁ NO POEMA?

5. MARQUE A PALAVRA QUE DÁ NOME AO DESENHO:

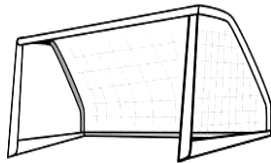
- ( ) BAOL
- ( ) OLAB
- ( ) BOLA




- ( ) MÃO
- ( ) SÃO
- ( ) PÃO



- ( ) REDE
- ( ) RODO
- ( ) REED



- ( ) PERADE
- ( ) REPAED
- ( ) PAREDE



6. MARQUE A SÍLABA MEDIANA DA PALAVRA EM DESTAQUE:

- ( ) DE
- ( ) PA
- ( ) RE

**PAREDE**

7. MARQUE A ALTERNATIVA EM QUE TODAS AS PALAVRAS TÊM TIL:

- ( ) MESA, PAI, SAPO, FOGÃO
- ( ) CHÃO, PÃO, VIOLÃO, MAMÃE
- ( ) IRMÃ, SABÃO, VACA, PIÃO.



8. COMPLETE, DO SEU JEITO, A FRASE ABAIXO:

A BOLA É \_\_\_\_\_





UNIDADE ESCOLAR:

PROFESSOR(A)

ANO DE ESCOLARIDADE  
1º ANO

DATA  
10ª SEMANA (10 a 14/04)

NOME:

HOJE É?

SEGUNDA

TERÇA

QUARTA

QUINTA

SEXTA

CÓDIGO BNCC

EF01MA01



## MATEMÁTICA



1. LEIA AS SÍLABAS ABAIXO E FORME O NOME DOS NUMERAIS.

DE	DO	NO	IS	DEZ	ZE
VE	ZES	TO	ZOI	SE	TE

2

<input type="text"/>	<input type="text"/>
----------------------	----------------------

17

<input type="text"/>	<input type="text"/>	<input type="text"/>	<input type="text"/>
----------------------	----------------------	----------------------	----------------------

10

<input type="text"/>
----------------------

18

<input type="text"/>	<input type="text"/>	<input type="text"/>
----------------------	----------------------	----------------------

12

<input type="text"/>	<input type="text"/>
----------------------	----------------------

19

<input type="text"/>	<input type="text"/>	<input type="text"/>	<input type="text"/>
----------------------	----------------------	----------------------	----------------------

2. COMPLETE COM ANTECESSOR E SUCESSOR:

<input type="text"/>	18	<input type="text"/>
----------------------	----	----------------------

<input type="text"/>	27	<input type="text"/>
----------------------	----	----------------------

<input type="text"/>	28	<input type="text"/>
----------------------	----	----------------------

<input type="text"/>	9	<input type="text"/>
----------------------	---	----------------------

<input type="text"/>	14	<input type="text"/>
----------------------	----	----------------------


<input type="text"/>	25	<input type="text"/>
----------------------	----	----------------------

<input type="text"/>	23	<input type="text"/>
----------------------	----	----------------------

<input type="text"/>	12	<input type="text"/>
----------------------	----	----------------------

<input type="text"/>	15	<input type="text"/>
----------------------	----	----------------------

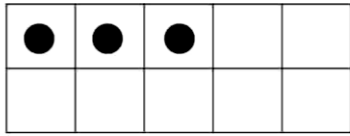
<input type="text"/>	20	<input type="text"/>
----------------------	----	----------------------



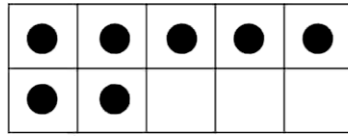


3. RESOLVA AS SOMAS:

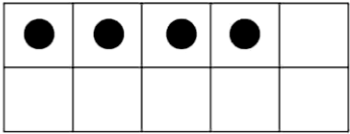
$3 + 5 = \square$



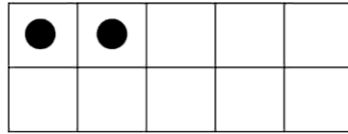
$7 + 2 = \square$



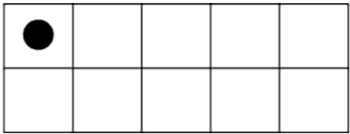
$4 + 1 = \square$




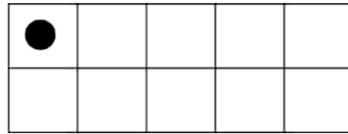
$2 + 4 = \square$




$1 + 6 = \square$





$1 + 3 = \square$




4. CONTE E REGISTRE:









UNIDADE ESCOLAR:

PROFESSOR(A)

ANO DE ESCOLARIDADE

DATA

NOME:

HOJE É?

SEGUNDA  TERÇA  QUARTA  QUINTA  SEXTA

CÓDIGO BNCC

# CIÊNCIAS



## OS ANIMAIS


1 – OBSERVE A IMAGEM E RESPONDA:




1. PINTE NA IMAGEM SOMENTE OS ANIMAIS QUE VOCÊ ENCONTRAR.

2. QUANTOS ANIMAIS VOCÊ ENCONTROU?


3. COM A AJUDA DA PROFESSORA, ESCREVA O NOME DOS ANIMAIS DA IMAGEM:




ÃLEO




ACOMCA



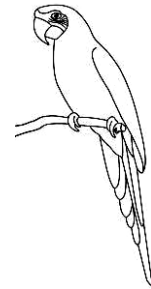
EFELANET



ÉCAJRA




GAFIRA



AAARR

4. PREENCHA A FICHA DOS ANIMAIS ABAIXO:




NOME: \_\_\_\_\_

SEU CORPO É COBERTO DE: \_\_\_\_\_

COMO SE LOCOMOVE: \_\_\_\_\_

NASCE DE: ( ) OVOS ( ) BARRIGA DA MÃE

ALIMENTA-SE DE: \_\_\_\_\_



NOME: \_\_\_\_\_

SEU CORPO É COBERTO DE: \_\_\_\_\_

COMO SE LOCOMOVE: \_\_\_\_\_

NASCE DE: ( ) OVOS ( ) BARRIGA DA MÃE

ALIMENTA-SE DE: \_\_\_\_\_