

PREFEITURA MUNICIPAL DE BOM JESUS DO ITABAPOANA-RJ  
SECRETARIA MUNICIPAL DE EDUCAÇÃO, ESPORTE E LAZER

**SEMEEL**

*A mudança está em nossas mãos*

# Atividades Orientadoras



2º  
ano



# Ensino Fundamental

UNIDADE ESCOLAR:

PROFESSOR(A)  ANO DE ESCOLARIDADE  DATA

NOME:

HOJE É?  
 SEGUNDA  TERÇA  QUARTA  QUINTA  SEXTA

CÓDIGO BNCC  
 EF02LP07 / EF02LP12

**LP**  **LÍNGUA PORTUGUESA**



As **Parlendas** são rimas infantis que divertem as crianças, ao mesmo tempo que trabalham com a memorização e a fixação de alguns conceitos. Segundo estudiosos, as parlendas servem como sistemas educativos que fazem parte da literatura popular oral e do folclore brasileiro.

## MACACA SOFIA

MEIO-DIA  
MACACO ASSOBIÁ  
PANELA NO FOGO  
BARRIGA VAZIA.

MEIO-DIA  
MACACA SOFIA  
FAZENDO CARETA  
PRA DONA MARIA.



➤ AGORA RESPONDA:

1- COMO SE CHAMA A MACACA? \_\_\_\_\_

2- PARA QUEM SOFIA FEZ CARETA? \_\_\_\_\_

3- QUE HORAS SÃO NO TEXTO? \_\_\_\_\_

4- ONDE A PANELA ESTÁ? \_\_\_\_\_





UNIDADE ESCOLAR:

PROFESSOR(A)

ANO DE ESCOLARIDADE

DATA

NOME:

HOJE É?

SEGUNDA

TERÇA

QUARTA

QUINTA

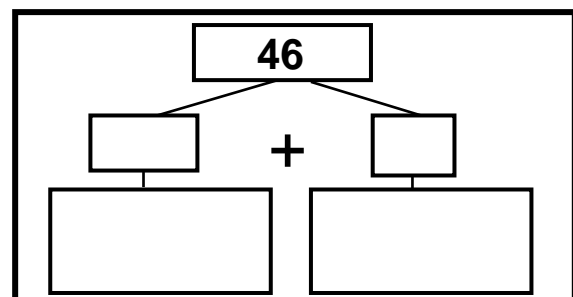
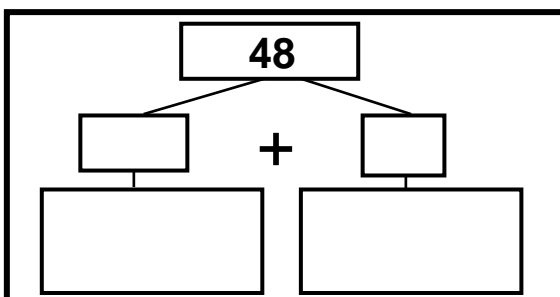
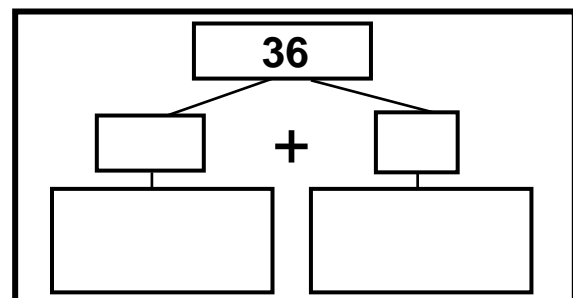
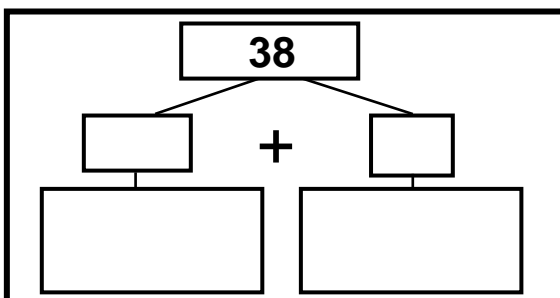
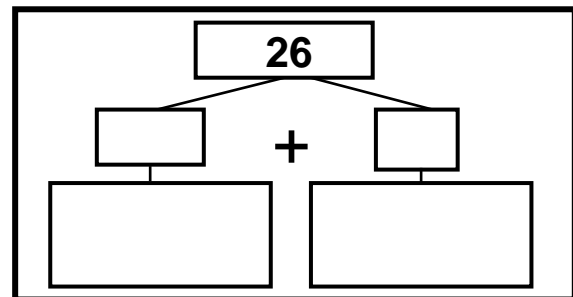
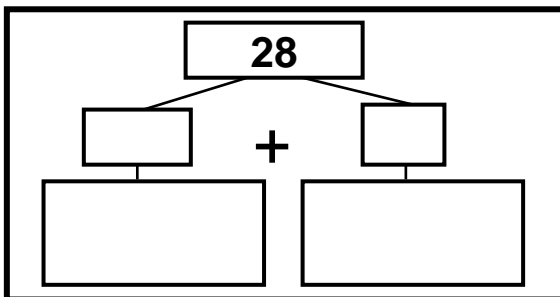
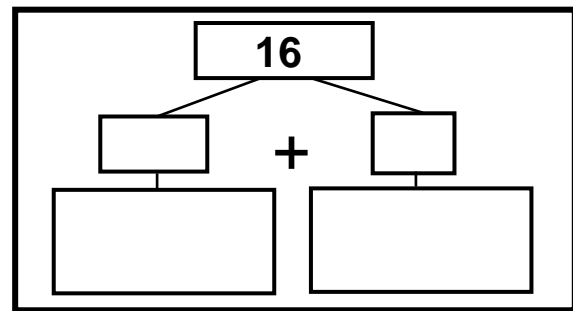
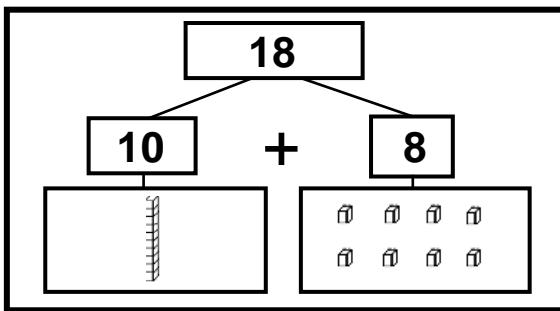
SEXTA

CÓDIGO BNCC

EF02MA04 / EF02MA05


**MA**  **MATEMÁTICA**

1- DECOMPONHA OS NÚMEROS E REPRESENTE AS DEZENAS E UNIDADES USANDO DESENHOS DE PEÇAS DO MATERIAL DOURADO. SIGA O EXEMPLO:



















2- ESCREVA POR EXTENSO OS ALGARISMOS DO EXERCÍCIO ANTERIOR.

18 \_\_\_\_\_  
 16 \_\_\_\_\_  
 28 \_\_\_\_\_  
 26 \_\_\_\_\_  
 38 \_\_\_\_\_  
 36 \_\_\_\_\_  
 48 \_\_\_\_\_  
 46 \_\_\_\_\_




3 – RESOLVA AS SUBTRAÇÕES:

			
$9 - 4 = \underline{\quad}$	$10 - 3 = \underline{\quad}$	$8 - 6 = \underline{\quad}$	$6 - 2 = \underline{\quad}$
			
$7 - 1 = \underline{\quad}$	$8 - 5 = \underline{\quad}$	$8 - 2 = \underline{\quad}$	$9 - 7 = \underline{\quad}$
			
$7 - 2 = \underline{\quad}$	$9 - 6 = \underline{\quad}$	$10 - 8 = \underline{\quad}$	$6 - 1 = \underline{\quad}$
			
$6 - 3 = \underline{\quad}$	$10 - 9 = \underline{\quad}$	$10 - 7 = \underline{\quad}$	$7 - 4 = \underline{\quad}$






2- ORDENE AS PALAVRAS E ESCREVA O NOME DAS FIGURAS.




CO  
E LHO




ES  
LA TRE




LI  
NHA GA




UR  
SO




LE BOR  
BO TA



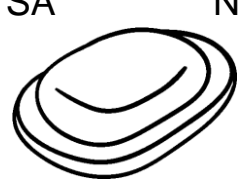
A ÃO  
VI




RAN  
MO GO




DO  
DA




SA NE  
BO TE




CO  
VA ES




CO LO  
ME GU




RE  
GIO LÓ




BO  
NE CA



CO  
ÇÃO RA



A PON  
TA DOR



TA TAR  
RU GA

