

PREFEITURA MUNICIPAL DE BOM JESUS DO ITABAPOANA-RJ
SECRETARIA MUNICIPAL DE EDUCAÇÃO, ESPORTE E LAZER

SEMEEL

A mudança está em nossas mãos

Atividades Orientadoras



2º
ano

Ensino Fundamental

UNIDADE ESCOLAR:

PROFESSOR(A)

ANO DE ESCOLARIDADE

DATA

NOME:

HOJE É?


SEGUNDA TERÇA QUARTA QUINTA SEXTA

CÓDIGO BNCC



MATEMÁTICA

1- OBSERVE AS CASAS ABAIXO E FAÇA O QUE SE PEDE:



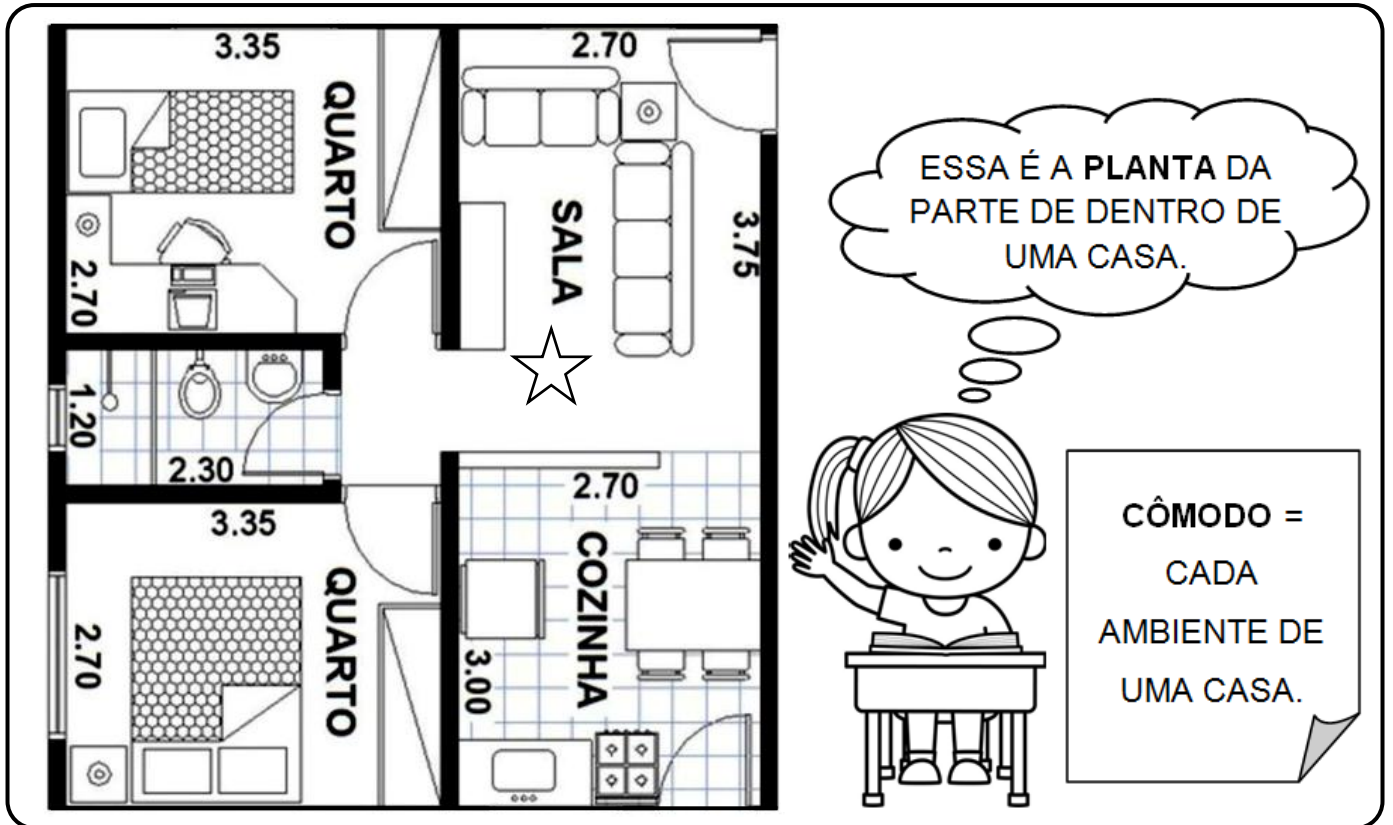
A) O SUCESSOR DO NÚMERO DA CASA QUE TEM CHAMINÉ:

B) O NÚMERO DA CASA QUE TEM CORTINAS NAS JANELAS É ÍMPAR E VEM ANTES DE UMA DÚZIA:

C) ESCREVA POR EXTENSO O NÚMERO DA CASA QUE FICA ENTRE A CASA 11 E 8:

D) A SOMA DA CASA DE NÚMERO PAR COM A CASA DA PORTA LISTRADA É:

PLANTAS OU ESQUEMAS



2- OBSERVANDO A PLANTA DA CASA ACIMA, RESPONDA:

A) QUANTOS CÔMODOS TEM?

B) QUANTOS QUARTOS?

C) QUAL CÔMODO ESTÁ MARCADO COM UMA ESTRELA?

E) MARQUE COM UM X AS DUAS PORTAS QUE DÃO ACESSO À PARTE DE FORA DA CASA.

F) FAÇA UMA JARRA COM FLORES NA MESA DA COZINHA.

G) PINTE DE AZUL O CÔMODO ONDE SE TOMA BANHO.



UNIDADE ESCOLAR:

PROFESSOR(A)

ANO DE ESCOLARIDADE

2º ANO

DATA

10ª semana (10 a 14/04)

NOME:

HOJE É?

SEGUNDA

TERÇA

QUARTA

QUINTA

SEXTA

CÓDIGO BNCC

EF12LP09

LÍNGUA PORTUGUESA



➤ OBSERVE O TEXTO ABAIXO:



VENDE-SE UMA CASA COM TRÊS QUARTOS, DOIS BANHEIROS, SALA, COZINHA, LAVANDERIA, GARAGEM E VARANDA, NA CIDADE DE CAMPO GRANDE, BAIRRO SÃO JERÔNIMO, RUA AMARAL COUTO.

PREÇO ÓTIMO!

OSVALDO MATTOS

(24) 882-9357-6420

JORNAL VOZ DO POVO



1- ESTE TEXTO É UM: () POEMA () ANÚNCIO () BILHETE

2- O ANÚNCIO ACIMA TRATA-SE DE: () UM CARRO () UMA CASA

3- QUAL A FINALIDADE DESTE TEXTO?

() CONSTRUIR UMA CASA.

() DESENHAR UMA CASA.

() VENDER UMA CASA.

4- ONDE O ANÚNCIO FOI PUBLICADO?

5- COM QUEM O INTERESSADO NO ANÚNCIO DEVE ENTRAR EM CONTATO?



6 - COMPLETE O POEMA COM AS PALAVRAS DO QUADRO. OBSERVE AS RIMAS.



CASA DA VOVÓ

A _____ DA VOVÓ


CERCADINHA DE _____

O _____ ESTÁ DEMORANDO

COM CERTEZA NÃO TEM _____



CASINHA



PÓ



CIPÓ



CAFÉ

UNIDADE ESCOLAR:

PROFESSOR(A)

ANO DE ESCOLARIDADE

DATA

NOME:

HOJE É?

SEGUNDA TERÇA QUARTA QUINTA SEXTA

CÓDIGO BNCC

EF02MA12



MATEMÁTICA




TRAJETOS

➤ OBSERVE O TRAJETO QUE BELA FEZ DE SUA CASA ATÉ CHEGAR NA ESCOLA.

	A	B	C	D	E	F
1						
2						
3						
4						
5						
6						




1- DE ACORDO COM AS SETAS, QUAL FOI O TRAJETO QUE BELA FEZ?

() 2 → / 2 ↑ / 3 → / 3 ↓ / 1 →


() 2 → / 3 ↑ / 2 → / 2 ↓ / 1 →



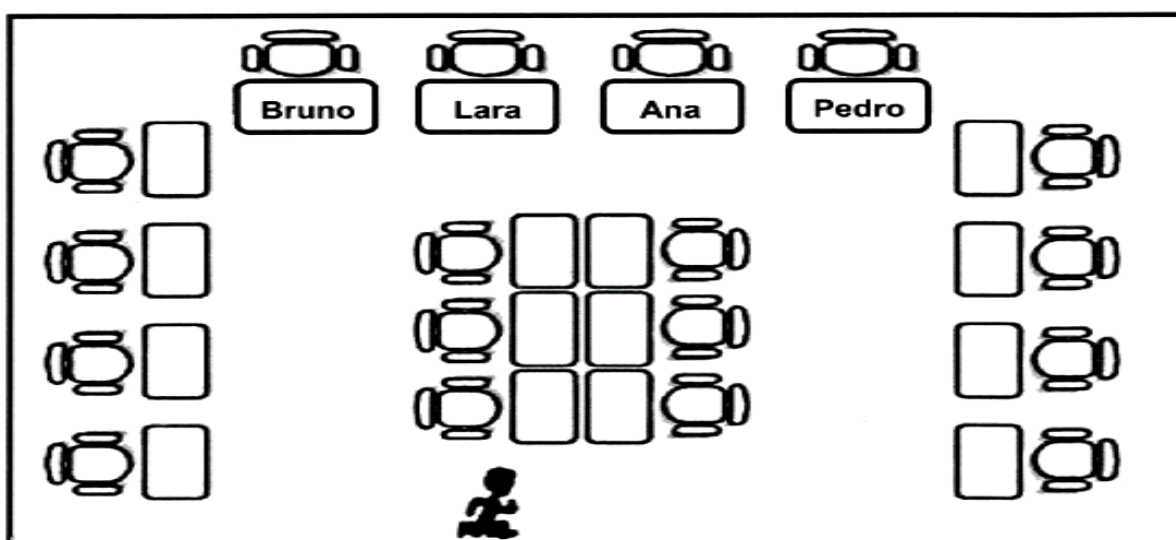
ATENÇÃO!
CONTE OS QUADRINHOS!



2 - ATENÇÃO NO PERCURSO! AJUDE A MÔNICA A CHEGAR ATÉ A CASA DA MAGALI.



3 – OBSERVE A IMAGEM ABAIXO:



➤ QUAL CAMINHO PEDRO DEVE FAZER PARA CHEGAR ATÉ SUA MESA?

- () IR EM FRENTE, VIRAR À ESQUERDA ATÉ O FIM DO CORREDOR.
- () VIRAR À ESQUERDA, DEPOIS À DIREITA E IR ATÉ O FIM DO CORREDOR.

UNIDADE ESCOLAR:

PROFESSOR(A)

ANO DE ESCOLARIDADE

2º ANO

DATA

10ª semana (10 a 14/04)

NOME:

HOJE É?

SEGUNDA

TERÇA

QUARTA

QUINTA

SEXTA

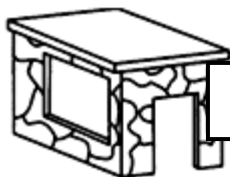
CÓDIGO BNCC

EF02LP03

LÍNGUA PORTUGUESA



1 - DESCUBRA O SEGREDO E CONTINUE. EM SEGUIDA, PINTE AS PALAVRAS QUE FORAM ESCRITAS COM **M** ANTES DE **P** E **B**.



BARRACO

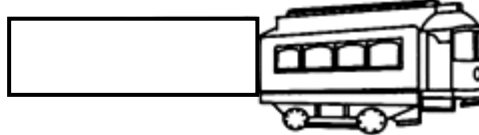
NÃO É

BARRANCO




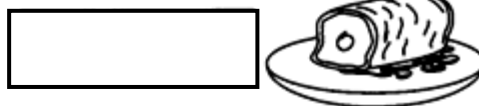
BODE

NÃO É



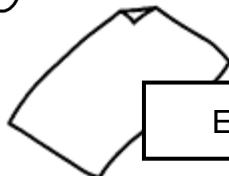
LOBO

NÃO É




TAPA

NÃO É



EXAME

NÃO É




CAPINA

NÃO É



2 - ESCREVA OS NOMES DAS FIGURAS NOS QUADROS ABAIXO:



Blank writing area with ten horizontal lines for labeling the objects from the 'B' box.



Blank writing area with ten horizontal lines for labeling the objects from the 'P' box.

UNIDADE ESCOLAR:

PROFESSOR(A)

ANO DE ESCOLARIDADE

DATA

NOME:

HOJE É?

SEGUNDA

TERÇA

QUARTA

QUINTA

SEXTA

CÓDIGO BNCC

GEOGRAFIA



A CASA DA GENTE
É LUGAR DE PROTEÇÃO,
POIS NOS ABRIGA NO FRIO
E NOS DÁ SOMBRA NO VERÃO!

EM DIAS DE CHUVA
NÃO HÁ SOLIDÃO,
FICAM TODOS LIGADOS
NA TELEVISÃO!

ONDE ESTÁ A SUA CASA?

TODA CASA TEM UM ENDEREÇO. ESCREVA O ENDEREÇO DA SUA:


RUA: _____

BAIRRO: _____

ESTADO: _____

CIDADE: _____

➤ OBSERVE A IMAGEM:



❖ ESSA CASA PERTENCE AOS PAIS DE MARIANA.

- A) MARIANA DORME COM A IRMÃ MARINA NO MESMO QUARTO. FAÇA UM X NO QUARTO DELAS.
- B) O IRMÃO DE MARIANA DORME SOZINHO NO QUARTO. CIRCULE O QUARTO DE MARCOS.
- C) QUAL NOME RECEBE O QUARTO QUE TEM BANHEIRO?

D) EM QUAL CÔMODO FICA A ENTRADA PRINCIPAL DESSA CASA?

- () COZINHA
() QUARTO
() SUÍTE
() GARAGEM

