

PREFEITURA MUNICIPAL DE BOM JESUS DO ITABAPOANA-RJ
SECRETARIA MUNICIPAL DE EDUCAÇÃO, ESPORTE E LAZER

SEMEEL

A mudança está em nossas mãos

Atividades Orientadoras



5º
ano

Ensino Fundamental

UNIDADE ESCOLAR:

PROFESSOR(A)

ANO DE ESCOLARIDADE

5º ANO

DATA

8ª semana (27 a 31/03)

NOME:

HOJE É?

SEGUNDA

TERÇA

QUARTA

QUINTA

SEXTA

CÓDIGO BNCC

EF15LP01/EF05LP01



Gênero textual: Carta de reclamação

Há vários tipos de carta e, para cada tipo, existe uma finalidade. Temos cartas pessoais (quando escrevemos para amigos, parentes, etc.), carta de solicitação (quando escrevemos para pedir algo) - carta comercial (quando uma empresa comunica informação importante para seus clientes), carta de reclamação, dentre outras.

A **carta de reclamação** é utilizada quando alguém relata um problema, seja da comunidade ou individual, sobre um produto, uma ação, uma atitude, a um destinatário (uma pessoa) que pode resolver a situação.

O que não pode faltar na carta de reclamação:

Remetente	Pessoa que escreve sobre o problema / que deseja solução.
Destinatário (pessoa ou empresa).	Quem receberá a carta e pode resolver o problema,
Objetivo da carta.	Reclamar, denunciar, prestar queixa, reivindicar, solicitar ou exigir para conseguir algo o que é de direito do autor da carta.
O que o texto deve ter	Explicações e/ou exposição de razões (argumentos) para convencer o destinatário a atender ao pedido.
Despedida e assinatura.	A despedida deve ser formal: até breve, aguardo um retorno, sem mais. Na assinatura o remetente deve colocar o número do CPF (documento). CPF é o cadastro de pessoas físicas. É o número que armazena as informações de cada cidadão, para que possam abrir conta no banco, receber o bolsa-família, realizar concursos públicos, etc.

➤ Leia a carta e responda as questões:

CARTA DE RECLAMAÇÃO

À Contos de Fadas-Loja de departamentos

No que diz respeito ao pedido nº 102, realizado em 12 de outubro de 2019, venho manifestar meu descontentamento, pois a entrega estava prevista para no máximo, até dia 17 de outubro de 2019.

Ou seja, já se passaram 10 dias no prazo limite de entrega e até o momento não recebi as mercadorias adquiridas ou qualquer explicação sobre o ocorrido.

Dessa forma, venho solicitar o cancelamento imediato do pedido, pois já desisti da compra em função do descumprimento do prazo de entrega, de modo que requeiro o valor pago pela mercadoria.

Aguardo resposta.

Anápolis, 27 de outubro de 2019.

Antônio Modesto de Oliveira

CPF: 9876543-21

Endereço: Rua do Consumidor, nº 1010, Vila das Fábricas- Anápolis-GO

1- Para quem a carta é dirigida?

- (a) À loja Celulares e Cia
- (b) À Contos de Fada – Loja de Departamentos
- (c) Ao Supermercado São Benedito
- (d) À Farmácia Santo Antônio.

2- Qual é o assunto da carta:

- (a) Mercadorias com defeitos.
- (b) Mercadorias trocadas.
- (c) Mercadorias não entregues.
- (d) Mercadorias quebradas.

3- Quem é o remetente:

- (a) Marcos Antônio Lara.
- (b) Luiz Henrique de Paula.
- (c) Felipe José de Souza.
- (d) Antônio Modesto de Oliveira.

4- Qual é a finalidade do texto:

- (a) Divertir o leitor.
- (b) Reivindicar um direito.
- (c) Ensinar uma regra de jogo.
- (d) Ensinar uma receita.

5- Quais argumentos foram utilizados? _____



6- Os fatos narrados na carta já aconteceram ou vão acontecer? Quais as informações presentes na carta e que o levou a essa conclusão? _____

7- Você teria a mesma atitude que o autor da carta? O que você faria se estivesse no lugar dele? _____

Revisando...

8- As palavras podem ter vários significados. As palavras e seus significados estão escritos em ordem alfabética no **DICIONÁRIO**.

Pilha s.f. **1.** Coluna de coisas colocadas umas sobre as outras. **2.** Pequeno cilindro que produz energia elétrica, próprio para fazer funcionar aparelhos. **3.** Pop. Pessoa muito nervosa.



a- Explique, com suas palavras, o significado da palavra pilha dos quadrinhos acima:

A- _____

B- _____

9- Coloque as palavras de cada grupo em ordem alfabética:

a- vassoura - livro - dado - rua - pente - Carlos - violão

b- rapaz - baleia - ilha - bigode - Marcelo - peteca - unha

c- pássaro - xadrez - salada - xarope - escova - Fábio - galo

9- Escreva **V** para verdadeiro ou **F** para falso: **No dicionário:**

(a) Disfarce vem depois de distraído.

(b) Pastel vem antes de pássaro.

(c) Grade vem depois de grande.

(d) Pedreiro vem depois de pedra.

10- Leia a tirinha abaixo: Disponível:



As palavras podem ter vários significados. Na tirinha, ao lado, o pai do menino pediu para que ele buscasse a porca. O que o pai do menino estava pedindo? O que o menino entendeu? _____

UNIDADE ESCOLAR:

PROFESSOR(A)

ANO DE ESCOLARIDADE

DATA

NOME:

HOJE É?

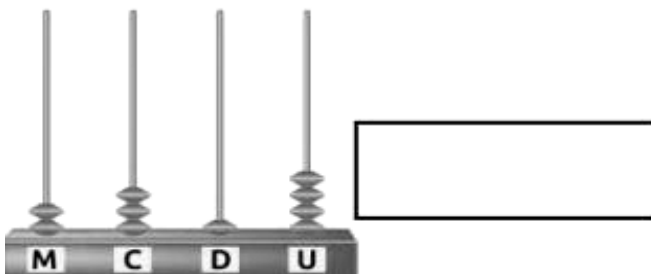

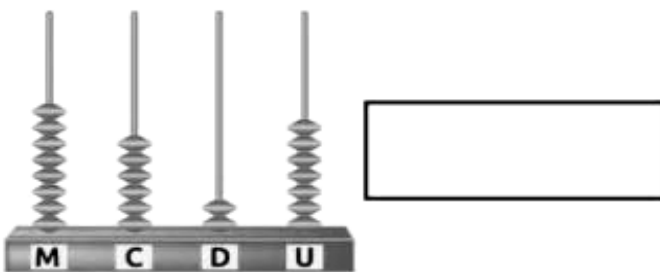
SEGUNDA TERÇA QUARTA QUINTA SEXTA

CÓDIGO BNCC



Revisando...

1- Escreva os numerais representados no ábaco:



2- Hélio já percorreu 750 quilômetros de uma viagem de 1600 quilômetros. Quantos quilômetros faltam para o término da viagem?

- (a) 520
- (b) 680
- (c) 750
- (d) 850

3- Márcio tinha 642 bolinhas de gude em sua coleção. Hoje, seu amigo Pedro deu-lhe 45 bolinhas de gude, mas ele perdeu 30 delas. Quantas bolinhas de gude ele tem em sua coleção agora?

- (a) 695
- (b) 687
- (c) 657
- (d) 640

4- Resolva a conta abaixo.

$$9743 - 2567$$

Qual é o resultado dessa conta?

- (a) 7 176
- (b) 7 224
- (c) 7 276
- (d) 7 285



4- Em um restaurante, foram servidas 123 refeições na segunda-feira, 151 refeições na terça-feira e, na quarta-feira, 164. Considerando esses três dias, quantas refeições foram servidas, no total, nesse restaurante?

- A) 274
- B) 315
- C) 338
- D) 438

5- Resolva as expressões abaixo:

a- $18 + 5 - 9 =$	b- $182 - 8 - 135 + 5 =$	c- $174 - 45 + 8 + 3 =$
d- $27 - [15 - (5 + 10 - 3) + 25] =$	e- $45 + \{5 + 9 + (26 - 12) - 10\} =$	f- $4 + (10 + 7) - 8 =$
g- $85 + 56 - 13 =$	h- $185 + (10 - 6) + 12 =$	i- $25 - 12 + 8 =$

UNIDADE ESCOLAR:

PROFESSOR(A)

ANO DE ESCOLARIDADE

5º ANO

DATA

8ª semana (27 a 31/03)

NOME:

HOJE É?

SEGUNDA

TERÇA

QUARTA

QUINTA

SEXTA

CÓDIGO BNCC

EF15LP01/EF05LP01/EF05LP03



Revisando...

Leia o texto para responder à questão 1.

Salvador, 30 de abril de 2009.

Querida avó,

Então, tudo bem? As férias estão correndo bem e nós estamos encantadas com este lugar: a praia é ótima, o tempo está muito bom, por isso passamos o tempo todo na água.

Eu e Cristina estamos esperando a senhora, lembre-se que prometeu vir aqui no próximo fim de semana. Já estou vendo os dias maravilhosos que vamos passar todos juntos. Tenho saudades das histórias do vovô!

Com a senhora, a praia ainda vai ficar mais bonita, vai ser bom estar em sua companhia. Ah, vovó, mal posso esperar para comer a tua comidinha boa. Esperamos ansiosamente a sua chegada.

Temos muitas saudades!

Um grande beijo, Sara.

1- Esse texto trata sobre uma:

- (A) festa que a avó de Sara irá oferecer.
- (B) praia muito interessante localizada em Salvador.
- (C) neta que escreve ao avô convidando-o para uma festa.
- (D) neta que escreve à avó convidando-a para as férias na praia.

Leia o texto

O meio ambiente em primeiro lugar

Em um pequeno vilarejo havia um jovem aventureiro, que se chamava Pedro. Ele era um rapaz esperto que amava o meio ambiente, passava a maior parte do dia na floresta, subindo em árvores, brincando com os animais. Pedro não tinha medo de nada, de nenhum animal e gostava muito de nadar em um rio que ficava perto de sua casa.

Certo dia, Pedro estava andando pela floresta, quando viu um movimento estranho, e depois um tiro e um grito de um animal, muito curioso ele foi lá olhar.

Quando chegou ao local do tiro, viu muitos homens, todos armados e com motosserras, cortando as árvores, matando e capturando animais. Pedro chegou à frente deles e disse:

– Por que estão fazendo isso com os animais e com as árvores?

– Pegue ele! Falou o líder do bando.

Pedro correu e os homens foram atrás. Preparados para atirar, o líder do bando disse:

– Não atirem! Ele será nosso refém! Pois a polícia está atrás de nós!

No tempo em que ele estava conversando, Pedro subiu em uma árvore e se escondeu.

A polícia chegou e prendeu o bando. Pedro, um jovem aventureiro, que amava o meio ambiente, arriscou sua vida por ele.

(Adaptado de <http://colegiomaanaim77.blogspot.com.br/2012/06/contos.html>) 2)

2- A partir da leitura do texto, podemos concluir que o Pedro tinha um grande amor pelo meio ambiente. Quais eram as atitudes que Pedro apresentava que confirmam este amor.

3- Houve um motivo que levou os bandidos a não atirarem em Pedro. Explique qual foi esse motivo.

4- Segundo a leitura que você realizou do texto, procure e retire dele as palavras que possuem encontros vocálicos:

Hiato	Ditongo	Tritongo

5- Leia com atenção novamente o texto, e no espaço abaixo encontre as palavras sugeridas:

Encontro consonantal	Dígrafo

UNIDADE ESCOLAR:

PROFESSOR(A)

ANO DE ESCOLARIDADE
5º ano

DATA
8ª semana (27 a 31/03)

NOME:

HOJE É?

SEGUNDA

TERÇA

QUARTA

QUINTA

SEXTA

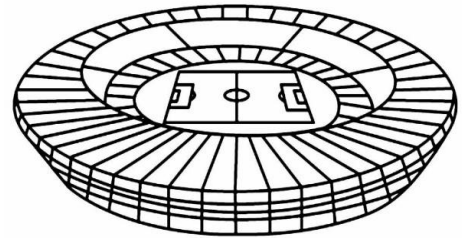
CÓDIGO BNCC

EF05MA01/EF05MA07/EF05MA10

MA  **MATEMÁTICA**

1- O recorde de público em um estádio de futebol foi de **202.919** pessoas. Esse número corresponde a:

- (a) duzentos e vinte mil, novecentos e noventa e um.
- (b) duzentos e dois mil, novecentos e dezenove.
- (c) vinte e dois mil, novecentos e dezenove.
- (d) vinte mil e vinte e nove.



2- O litoral brasileiro tem cerca de **7.500** quilômetros de extensão. Este número possui quantas centenas?

- (a) 5
- (b) 75
- (c) 500
- (d) 7.500



3- Um número pode ser decomposto em $5 \times 1000 + 6 \times 100 + 3 \times 10 + 7$. Que número é esse?

- (a) 7.365
- (b) 5000600307
- (c) 5.637
- (d) 56.137

4- Onde o número **cento e dez mil e cento e seis** está escrito corretamente.

- (a) 100 106
- (b) 110 160
- (c) 110 106
- (d) 100101006



5- Observe o número e responda as questões:

676 958

a) O valor posicional do algarismo 7 no número acima é:

() 7 () 700 () 7 000 () 70 000

b) O algarismo de maior valor posicional é:

() 5 () 8 () 6 () 9

c) O algarismo que ocupa a dezena de milhar é:

() 5 () 7 () 8 () 9



6- Beto quer comprar uma camiseta que custa R\$16,99. Ele já tem R\$14,20. Para Beto poder comprar a camiseta, ainda faltam:

(a) R\$ 2,79

(b) R\$ 15,57

(c) R\$ 18,41

(d) R\$ 31,19

7- Um fazendeiro tinha 285 bois. Comprou mais 176 bois e depois vendeu 85 deles. Quantos bois esse fazendeiro tem agora?

(a) 266

(b) 376

(c) 476

(d) 486

8- Observe a conta abaixo.

5412 + 319

Qual é o resultado dessa conta?

A) 5 721

B) 5 731

C) 8 502

D) 8 602



UNIDADE ESCOLAR:

PROFESSOR(A)

ANO DE ESCOLARIDADE

DATA

NOME:

HOJE É?

SEGUNDA
 TERÇA
 QUARTA
 QUINTA
 SEXTA

CÓDIGO BNCC



Revisando...

1- Com as sílabas do quadro, forme 6 palavras com encontros consonantais:

flo	pro	fle	ma	res	ris	ble	cha	ta	plu
-----	-----	-----	----	-----	-----	-----	-----	----	-----

2- Recorte de jornais e revistas 10 palavras com encontros vocálicos, cole-as e complete o quadro.

Palavra	Separação de sílabas	Classificação: hiato, ditongo ou tritongo

3- Leia as palavras a seguir e separe suas sílabas:

- a) vassoura: _____
- b) chuveiro: _____
- c) telhado: _____
- d) corrida: _____
- e) palhaçada: _____
- f) exceto: _____
- g) esperança: _____



4- Todas as palavras acima, com exceção de uma, apresentam dígrafos. Qual é a palavra?

5- Acentue as palavras abaixo:

- | | | |
|--------------|----------------|---------------|
| a- pa | f- la | k- quilometro |
| b- noticia | g- pe | l- porao |
| c- pessego | h- porem | m- atras |
| d- paciencia | i- mae | n- comodo |
| e- fuba | j- experiencia | |

6- Agora, copie as palavras nos lugares corretos.

Acento agudo	Acento circunflexo	Til

7- Leia as frases e acentue as palavras destacadas quando necessário:

- a- Em **maio** eu lhe darei outro **maio**.
- b- Os **pais** de Carolina vão sair do **pais**.
- c- Eu ainda não **domino** as regras do jogo **domino**.
- d- Estamos a apenas alguns **metros** da estação do **metro**.



8- Coloque til e cedilha nas palavras e separe as sílabas.

- | | |
|--------------------|-----------------------|
| a- atencao - _____ | d- pontuacao - _____ |
| b- oracao - _____ | e- observacao - _____ |
| c- eleicao - _____ | f- natacao - _____ |