

**PREFEITURA MUNICIPAL DE BOM JESUS DO ITABAPOANA-RJ**  
**SECRETARIA MUNICIPAL DE EDUCAÇÃO, ESPORTE E LAZER**

# **Atividades Orientadoras**



## **Educação de Jovens e Adultos**

### **FASE III**



UNIDADE ESCOLAR:

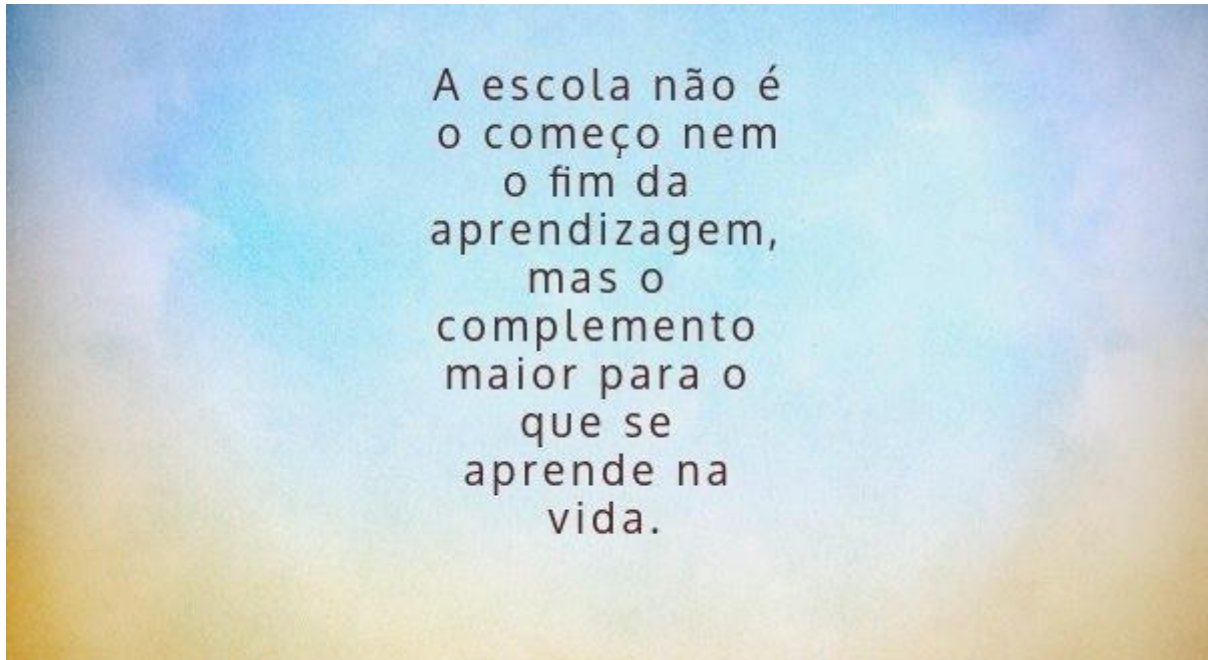
PROFESSORA

DATA

NOME:

FASE

CÓDIGO BNCC



## *Atividade*

01 Marque a palavra **escola** no texto e em seguida, copie ela abaixo.

02 Qual o nome da sua escola?

03 Qual o nome da diretora? \_\_\_\_\_

04 E o nome da professora? \_\_\_\_\_

05 Circule abaixo os ambientes que têm na sua escola.

**BIBLIOTECA PÁTIO INFORMÁTICA**

**QUADRA SALA DE AULA REFEITÓRIO**



**DIRETORIA BANHEIRO**

**REFEITÓRIO PARQUE TEATRO**

06 Construa uma frase sobre a sua escola.

07 Observe as figuras e responda as questões:

**ESCOLA**



Letra inicial \_\_\_\_\_

Letra final \_\_\_\_\_

Escreva as vogais que aparecem na palavra \_\_\_\_\_

Quantas letras tem a palavra? \_\_\_\_\_

**PROFESSORA**



Letra inicial \_\_\_\_\_

Letra final \_\_\_\_\_

Escreva as vogais que aparecem na palavra \_\_\_\_\_

Quantas letras tem a palavra? \_\_\_\_\_

08 Escreva a sílaba inicial de cada palavra que está faltando. Em seguida, copie a palavra completa.



	FÉ



	VRO



	CA



	ÇA



	LA



	TA



	LE



	LO







VA	LO







	XA	DA



09 Observe as imagens, leia os nomes e pinte o desenho que corresponde ao que está escrito.



	
CAIXA	

	
VASSOURA	

	
MAÇÃ	

	
SAPATO	

	
COPO	

	
ÔNIBUS	



UNIDADE ESCOLAR:

PROFESSORA

DATA

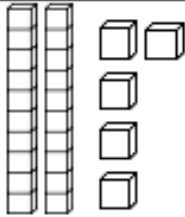
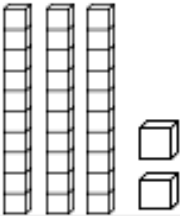
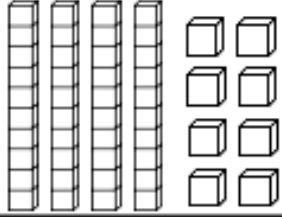
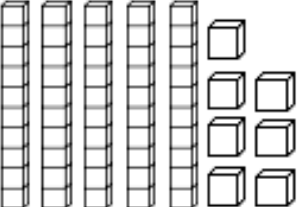
NOME:

FASE

CÓDIGO BNCC

**MA** **MATEMÁTICA**  
*Atividade*

01 Conte o material dourado de cada conjunto e complete.

	NÚMERO	DEZENAS	UNIDADES
			
			
			
			

CADA CUBINHO  
CHAMAMOS DE 1  
UNIDADE.



QUANDO JUNTAMOS  
10 CUBINHOS  
FORMAMOS 1  
DEZENA.



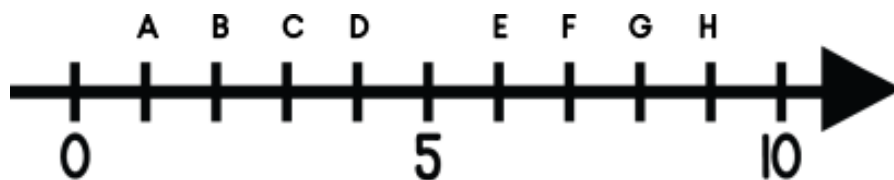
02 Faça como o modelo:

25		1 DEZENA E 6 UNIDADES
39		5 DEZENAS E 4 UNIDADES
54		2 DEZENAS E 5 UNIDADES
42		3 DEZENAS E 9 UNIDADES
16		3 DEZENAS E 3 UNIDADES
33		4 DEZENAS E 2 UNIDADES

03 Resolva as continhas e complete a tabela como no exemplo.


CONTINHA	RESULTADO	DEZENAS	UNIDADES	NÚMERO POR EXTENSO
$18 + 9 =$	27	2	7	VINTE E SETE
$25 + 8 =$				
$31 + 7 =$				
$57 + 3 =$				
$49 + 6 =$				
$34 + 8 =$				
$26 + 2 =$				
$59 + 7 =$				

04 Observe a reta numérica abaixo:



Indique abaixo quais os números que representam as letras da reta acima:

A	
B	
C	
D	



E	
F	
G	
H	

A Quais dessas letras têm números pares?

\_\_\_\_\_

B Qual dessas letras tem números ímpares?

\_\_\_\_\_

C Qual número que dá início à reta numérica?

\_\_\_\_\_

D Qual o último número da reta numérica acima?

\_\_\_\_\_

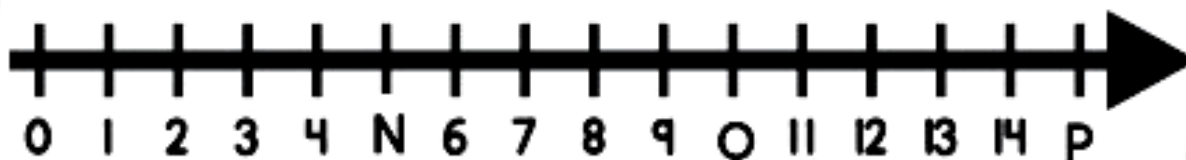
E Os números que estão na reta numérica estão em ordem crescente ou decrescente?

\_\_\_\_\_

F Organize os números da reta numérica em ordem decrescente.

\_\_\_\_\_

05 Quais são os números que estão nas letras N, O e P ?



A 7, 10 e 15.

B 5, 10 e 15.

C 6, 11 e 15.

D 5, 10 e 14.





UNIDADE ESCOLAR:

PROFESSORA

DATA

NOME:

FASE

CÓDIGO BNCC

**LP** **LÍNGUA PORTUGUESA**  
*Atividade*

01 Separe as sílabas das palavras abaixo e em seguida escreva o número de sílabas.

PALAVRAS	SEPARAÇÃO SILÁBICA	NÚMERO DE SÍLABAS
SAÚDE:		
CHAVEIRO:		
DIA:		
IGUAIS:		
NOITE:		
CENOURA:		
AULA:		
SUJEIRA:		

02 Encontre, no diagrama, as palavras com encontros vocálicos:

POESIA - SAÚDE - CAIXA  
SAGUÃO - MÃE - IGUAIS

R	D	F	T	G	E	G	A	X	C	W	G
A	B	P	O	E	S	I	A	H	T	S	W
C	D	Q	W	E	R	T	Y	U	O	A	P
E	G	S	A	G	U	Ã	O	S	D	Ú	F
F	H	K	I	G	U	A	I	S	B	D	N
C	A	I	X	A	M	J	U	Y	H	E	L
A	S	D	E	F	R	Y	M	Ã	E	B	N



03 Observe a tabela e forme palavras, de acordo com os códigos da legenda.

<b>1</b>	<b>2</b>	<b>3</b>	<b>4</b>	<b>5</b>
EN	VI	ÇA	TE	GUAIS
<b>6</b>	<b>7</b>	<b>8</b>	<b>9</b>	<b>10</b>
SA	LEI	BA	U	Ú
<b>11</b>	<b>12</b>	<b>13</b>	<b>14</b>	<b>15</b>
POU	O	TOU	LA	I
<b>16</b>	<b>17</b>	<b>18</b>	<b>19</b>	<b>20</b>
AU	XA	TO	RU	DE
<b>21</b>	<b>22</b>	<b>23</b>	<b>24</b>	<b>25</b>
PAN	RO	GUAR	LÃO	GUAI



CÓDIGO	PALAVRA
1 - 17 - 23	
16 - 14	
7 - 4	
13 - 22	
15 - 5	
6 - 10 - 20	
2 - 12 - 24	
9 - 19 - 25	
11 - 21 - 3	
8 - 10	

Observe o modelo e organize a página da agenda telefônica da sua turma com os nomes em ordem alfabética e escreva na frente os números de telefone.

	Nome	Telefone
A	Aline	12387130
		12351353
		12327043
		01880416
		53210009
		79935658
		18800523
		12396674



UNIDADE ESCOLAR:

PROFESSORA

DATA

NOME:

FASE

CÓDIGO BNCC

GE

GEOGRAFIA

## PAISAGEM NATURAIS E HUMANIZADAS

### PAISAGEM

Pode ser definida como tudo aquilo que vemos em um determinado espaço. Elas têm diferentes características e podem ser divididas em: Paisagem natural e Paisagem humanizadas.

### PAISAGEM NATURAL


É aquela que apresenta elementos naturais. Nesse tipo de paisagem não há interferência humana. Podemos citar como exemplo de elementos das paisagens naturais: rios, mares, montanhas, fauna, flora, etc.

### PAISAGEM HUMANIZADA

É aquela que apresenta elementos naturais e elementos que são criados pelo homem. Nesse tipo de paisagem há interferência humana em alguns casos, em menor quantidade, em outros, em maior quantidade. Podemos citar como exemplo de elementos das paisagens humanizadas: casas, prédios, ruas, avenidas, pontes, etc.



PAISAGEM  
NATURAL



PAISAGEM  
HUMANIZADA

01 O que é paisagem?

---

---

02 O que podemos encontrar em uma paisagem natural?

( ) montanhas, mares, prédios.

( ) montanhas, mares, plantas.

( ) montanhas, lojas, animais.

( ) pontes, mares, montanhas.

03 O que é uma paisagem humanizada?

---

---

04 Marque abaixo o que faz parte da paisagem do lugar onde você mora:

<input type="checkbox"/>	Árvores.
<input type="checkbox"/>	Casas.
<input type="checkbox"/>	Prédios.
<input type="checkbox"/>	Animais.

<input type="checkbox"/>	Rio.
<input type="checkbox"/>	Ponte.
<input type="checkbox"/>	Nuvens.
<input type="checkbox"/>	Ruas.

<input type="checkbox"/>	Mar.
<input type="checkbox"/>	Montanhas.
<input type="checkbox"/>	Praça.
<input type="checkbox"/>	Lojas.

A Você marcou mais elementos naturais ou humanizados?

---

05 Desenhe no espaço abaixo o local onde você mora.



UNIDADE ESCOLAR:

PROFESSORA

DATA

NOME:

FASE

CÓDIGO BNCC

ER

ENSINO RELIGIOSO

01 Faça a atividade abaixo, depois complete o poema e leia.

1 A A R

4 A M O S

2 L N E T A

5 P E S O

3 C D A R

6 D O Ç O

# Amor

Você sabe o que é .....?

Amar é cuidar do .....,

Amar é cuidar da Natureza.

Amar é cuidar dos outros.

Amar é ..... de si mesmo.

Todos merecem ser .....,

Mas nem todos dão amor.

Há tantas ..... abandonadas,

Precisando de calor humano.

Quem ama gosta de ficar junto,

Os gestos são de .....

Quem ama é feliz porque

A maior força do mundo é o amor.

