

PREFEITURA MUNICIPAL DE BOM JESUS DO ITABAPOANA-RJ
SECRETARIA MUNICIPAL DE EDUCAÇÃO, ESPORTE E LAZER

SEMEEL

A mudança está em nossas mãos

Atividades Orientadoras



1º
ano

Ensino Fundamental

UNIDADE ESCOLAR:

PROFESSOR(A)

ANO DE ESCOLARIDADE

DATA

NOME:

HOJE É?

SEGUNDA

TERÇA

QUARTA

QUINTA

SEXTA

CÓDIGO BNCC

EF01LP16 / EF01LP02

LÍNGUA PORTUGUESA



1. LEIA JUNTO COM A PROFESSORA E OS COLEGAS E RESPONDA:



TEM NO TÊNIS, NA TOALHA
TARTARUGA TEM TAMBÉM
ESTÁ NA TOCA DO TATU
NA TESOURA E NO TREM.



TESOURA


2. PINTE OS ESPAÇOS ENTRE AS PALAVRAS.

3. CIRCULE TODAS AS LETRAS T QUE VOCÊ ENCONTRAR NO POEMA.

4. QUANTAS LETRAS T VOCÊ CIRCULOU?


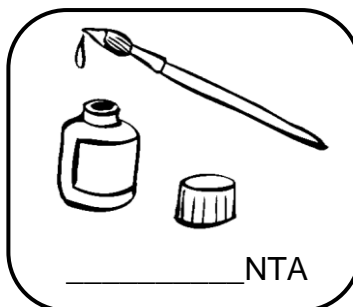



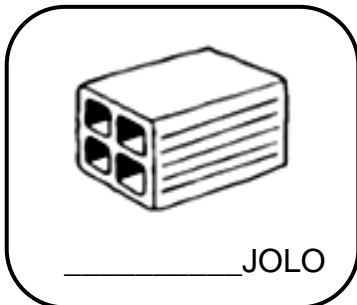



5. A QUAL LETRA ESTE POEMA SE REFERE?

6. ESCREVA AS PALAVRAS QUE COMEÇAM COM T: _____




7. OBSERVE AS SÍLABAS DESTACADAS E COMPLETE CORRETAMENTE:

TA TE TI TO TU



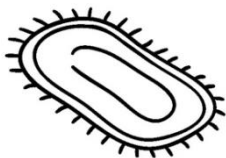
8. ESCREVA O NOME DOS DESENHOS SEPARANDO AS SÍLABAS:



□ □ □




□ □ □




□ □ □



□ □ □



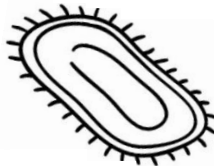

□ □ □



□ □ □

9. PROCURE OS NOMES DOS DESENHOS NO CAÇA-PALAVRAS:

T	U	B	A	R	Ã	O	A	S	D
T	A	T	U	F	G	T	I	M	E
H	T	E	L	E	F	O	N	E	J
J	M	T	I	G	E	L	A	Y	U
K	N	V	B	N	T	O	U	R	O
T	O	M	A	D	A	N	M	L	K
L	Z	X	C	T	A	P	E	T	E



10. ESCREVA ABAIXO O NOME DAS FIGURAS QUE VOCÊ ENCONTROU:







UNIDADE ESCOLAR:

PROFESSOR(A)

ANO DE ESCOLARIDADE

DATA

NOME:

HOJE É?

SEGUNDA TERÇA QUARTA QUINTA SEXTA

CÓDIGO BNCC

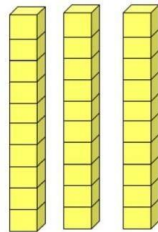
EF01MA01/EF01MA02 /EF01MA04

MATEMÁTICA



3 DEZENAS = 30 UNIDADES = TRINTA

30



DEZENA	UNIDADE

1. CONTE E COMPLETE CORRETAMENTE:

D	U

D	U

D	U

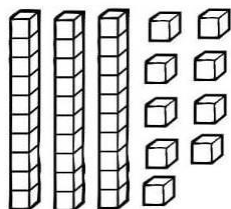
D	U

D	U

D	U

D	U

D	U



D	U



2. COMPLETE A SEQUÊNCIA NUMÉRICA:


0									
10									
20									
30									

3. ESCREVA POR EXTENSO:

- 30. _____
- 31. _____
- 32. _____
- 33. _____
- 34. _____
- 35. _____
- 36. _____
- 37. _____
- 38. _____
- 39. _____



4. FORME GRUPOS DE 10 E RESPONDA:



- QUANTOS GRUPOS VOCÊ FORMOU? _____
- QUANTOS SOBRARAM? _____

UNIDADE ESCOLAR:

PROFESSOR(A)

ANO DE ESCOLARIDADE
1º ANO

DATA
13ª SEMANA (02 A 05/05)

NOME:

HOJE É?

SEGUNDA

TERÇA

QUARTA

QUINTA

SEXTA

CÓDIGO BNCC

EF01LP16 / EF01LP02

LÍNGUA PORTUGUESA



1. LEIA JUNTO COM OS COLEGAS E RESPONDA:

AS TIAS



A TIA CATARINA
CATA A LINHA.

A TIA TEREZA
BOTA A MESA.

A TIA CONCEIÇÃO
AMASSA O PÃO.

A TIA LELA
ESPIA DA JANELA.

A TIA DORA
SÓ NAMORA.

A TIA CEMA
TEIMA QUE TEIMA.

A TIA MARIA
DORME DE DIA.

A TIA TININHA
FAZ ROSQUINHA.

(...)
A TIA SALIMA
FECHA A RIMA.

(Elias José, *Namorinho de portão*. São Paulo, 1986. Coleção Girassol.)



LINGUAGEM ESCRITA

2. COMPLETE OS NOMES DAS TIAS COM AS CONSOANTES FALTOSAS E ESCREVA-OS:

	A		A		I	N	
--	---	--	---	--	---	---	--

	E		E		A	
--	---	--	---	--	---	--

	O			E	I		Ã	O	
--	---	--	--	---	---	--	---	---	--

	E		A	
--	---	--	---	--

	O		A	
--	---	--	---	--

	E		A	
--	---	--	---	--

	A		I	A	
--	---	--	---	---	--

	I		I			A	
--	---	--	---	--	--	---	--

	A		I		A	
--	---	--	---	--	---	--



3. ESCREVA OUTRAS RIMAS PARA AS TIAS:



TIA CATARINA _____

TIA TEREZA _____

TIA TININHA _____

TIA CONCEIÇÃO _____

TIA DORA _____

4. RELACIONE:

(1) TIA TEREZA

(2) TIA SALIMA

(3) TIA CATARINA

(4) TIA TININHA

(5) TIA MARIA

(6) TIA CEMA

(7) TIA CONCEIÇÃO

(8) TIA LELA

(9) TIA DORA



() ESPIA DA JANELA.

() SÓ NAMORA.

() AMASSA O PÃO.

() TEIMA QUE TEIMA.

() FECHA A RIMA.

() DORME DE DIA.


() BOTA A MESA.

() CATA A LINHA.

() FAZ ROSQUINHA.



5. A TIA TEREZA BOTA A MESA DO CAFÉ DA MANHÃ. ESCREVA O NOME DOS ALIMENTOS QUE VOCÊ ACHA QUE ELA PÕE NA MESA PARA O CAFÉ DA MANHÃ:



UNIDADE ESCOLAR:

PROFESSOR(A)

ANO DE ESCOLARIDADE

DATA

NOME:

HOJE É?

SEGUNDA

TERÇA

QUARTA

QUINTA

SEXTA

CÓDIGO BNCC

MATEMÁTICA



1. PREENCHA O CALENDÁRIO DO MÊS ATUAL JUNTO COM OS COLEGAS E A PROFESSORA E FAÇA O QUE SE PEDE:

CALENDÁRIO


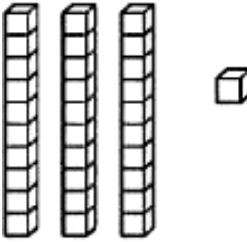


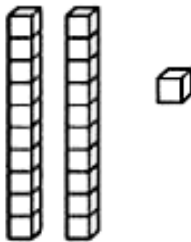


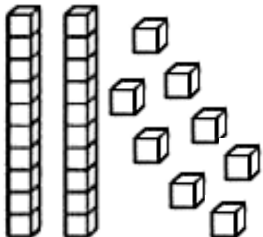


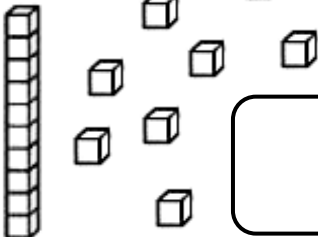





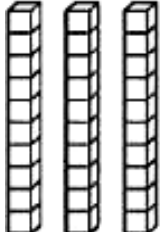


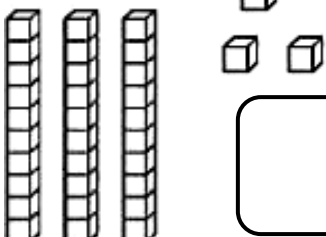


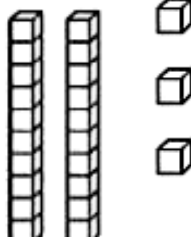

ANO: _____

MÊS: _____

DOM	SEG	TER	QUA	QUI	SEX	SAB

- EM QUE DIA DA SEMANA COMEÇA ESTE MÊS? _____
- EM QUE DIA DA SEMANA TERMINA O MÊS? _____
- QUANTOS DOMINGOS TEM ESTE MÊS? _____
- QUANTAS SEMANAS TEM ESTE MÊS? _____
- PINTE DE ROSA O DIA DAS MÃES. _____

7. OBSERVE A QUANTIDADE DE PEÇAS DE MATERIAL DOURADO QUE ALGUMAS CRIANÇAS CONSEGUIRAM JUNTAR NO JOGO “QUEM JUNTA MAIS PEÇAS” E FAÇA O QUE SE PEDE:

 <p>MARIA</p>  	 <p>GABRIEL</p>  
 <p>SAMUEL</p>  	 <p>HELEN</p>  
 <p>BRUNA</p>  	 <p>ANNY</p>  
 <p>EDUARDO</p>  	 <p>JULIA</p>  

8. ESCREVA, NOS QUADROS, O NÚMERO FORMADO POR CADA CRIANÇA.

9. PINTE O MAIOR NÚMERO DE AMARELO.

10. PINTE O MENOR NÚMERO DE VERDE.

11. QUAL CRIANÇA JUNTOU MAIS PEÇAS? _____

12. ESCREVA, POR EXTENSO, ESSA QUANTIDADE.

13. QUAL CRIANÇA JUNTOU MENOS PEÇAS? _____

14. ESCREVA, POR EXTENSO, ESSA QUANTIDADE.

UNIDADE ESCOLAR:

PROFESSOR(A)

ANO DE ESCOLARIDADE
1º ANO

DATA
13ª SEMANA (02 A 05/05)

NOME:

HOJE É?

SEGUNDA TERÇA QUARTA QUINTA SEXTA

CÓDIGO BNCC

CIÊNCIAS




O CORPO HUMANO

AS PESSOAS REALIZAM MUITAS ATIVIDADES DIÁRIAS: COMER, TOMAR BANHO, SE VESTIR, BRINCAR. PARA REALIZAR ESSAS E OUTRAS ATIVIDADES, UTILIZAMOS DIFERENTES PARTES DO CORPO. VOCÊ JÁ PRESTOU ATENÇÃO NAS PARTES QUE FORMAM O SEU CORPO?

1. LEIA E CANTE A MÚSICA JUNTO COM A PROFESSORA E OS COLEGAS:


CABEÇA, OMBRO, JOELHO E PÉ

CABEÇA, OMBRO, JOELHO E PÉ,
JOELHO E PÉ...



CABEÇA, OMBRO, JOELHO E PÉ,
JOELHO E PÉ...

OLHOS, OUVIDOS, BOCA E NARIZ,
CABEÇA, OMBRO, JOELHO E PÉ,
JOELHO E PÉ.



2. QUAIS AS PARTES DO CORPO SÃO ENCONTRADAS NO TEXTO?






3. COMPLETE AS FRASES COM AS PALAVRAS EM DESTAQUE:

PÉS	MÃO	NARIZ	BOCA
-----	-----	-------	------



- COMEMOS COM A _____.
- CHEIRAMOS COM O _____.
- TOCAMOS COM A _____.
- ANDAMOS COM OS _____.

4. QUANTOS TEMOS? REGISTRE A QUANTIDADE.

				
<input type="text"/>	<input type="text"/>	<input type="text"/>	<input type="text"/>	<input type="text"/>

5. DECIFRE AS DICAS E COMPLETE A CRUZADINHA:

1. ELE É FORMADO POR TRÊS PARTES;
2. NAS MÃOS, SÃO DEZ;
3. SÃO MEMBROS INFERIORES;
4. TEMOS DOIS E ESTÃO NOS MEMBROS INFERIORES;
5. COM ELES PODEMOS VER.

