

PREFEITURA MUNICIPAL DE BOM JESUS DO ITABAPOANA-RJ
SECRETARIA MUNICIPAL DE EDUCAÇÃO, ESPORTE E LAZER

SEMEEL

A mudança está em nossas mãos

Atividades Orientadoras



1º
ano

Ensino Fundamental

UNIDADE ESCOLAR:

PROFESSOR(A)

ANO DE ESCOLARIDADE

DATA

NOME:

HOJE É?

SEGUNDA

TERÇA

QUARTA

QUINTA

SEXTA

CÓDIGO BNCC


LÍNGUA PORTUGUESA



1. LEIA O TEXTO COM OS COLEGAS E A AJUDA DA PROFESSORA E RESPONDA:

ELA ESTÁ NO CEBOLINHA
NA CASCUDA E NO CASCÃO
NO CAIPIRA CHICO BENTO
E NO NOSSO CORAÇÃO.

TEM NO CABO, NO CABIDE
NO CACHORRO E NO CAMELO
NUM FAMOSO COELHINHO
QUE É DE PANO E NÃO DE PELO...



2. A QUAL LETRA O POEMA SE REFERE? _____






3. PINTE TODAS AS PALAVRAS QUE COMEÇAM COM A LETRA C.

4. QUANTAS PALAVRAS VOCÊ PINTOU? _____





5. DE ACORDO COM O POEMA, ONDE ENCONTRAMOS A LETRA C?



6. LEIA, PINTE A QUANTIDADE DE SÍLABAS E COPIE A PALAVRA:

				
COELHO	CASA	CARACOL	CEREJA	CENOURA
○ ○ ○ ○ ○	○ ○ ○ ○ ○	○ ○ ○ ○ ○	○ ○ ○ ○ ○	○ ○ ○ ○ ○
<input type="text"/>	<input type="text"/>	<input type="text"/>	<input type="text"/>	<input type="text"/>




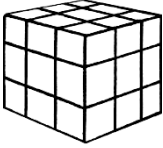

7. COMPLETE AS PALAVRAS COM UMA DAS SÍLABAS EM DESTAQUE:

 ____ VALO CA - CE - CI - CO - CU	 ____ REJA CA - CE - CI - CO - CU
 ____ SA CA - CE - CI - CO - CU	 ____ PIDO CA - CE - CI - CO - CU

8. PINTE AS FIGURAS QUE COMEÇAM COM AS SÍLABAS DESTACADAS:













CA					
CE					
CI					
CO					
CU					



9. ENCONTRE O NOME DOS DESENHOS NO CAÇA-PALAVRAS ABAIXO:

				
CASA	CEBOLA			
				
CIDADE				
				
CUBO	COCO			

CU	BO	PA	NE	FI
LA	BO	CA	SA	TO
TA	NI	LU	CO	CO
CE	RE	JA	FI	BU
DI	DA	CE	BO	LA
CI	DA	DE	BE	NO

10. AUTODITADO:

	<p>CORAÇÃO – CADERNO – COPO – COLHER – CABIDE – CAMELO CUCA – CANETA – COLAR – CIRCO – COBRA – CAMISA</p>	
---	--	---

UNIDADE ESCOLAR:

PROFESSOR(A)

ANO DE ESCOLARIDADE

DATA

NOME:

HOJE É?

SEGUNDA TERÇA QUARTA QUINTA SEXTA

CÓDIGO BNCC

MATEMÁTICA



1. COMPLETE A SEQUÊNCIA NUMÉRICA:

1					6				10
	12			15			18		
		23	24			27			30
	32		34					39	

2. COMPLETE COM ANTECESSOR E SUCESSOR:

12		14	30			14		16
----	--	----	----	--	--	----	--	----

13				19	20	34	35	
----	--	--	--	----	----	----	----	--

26		28	17				4	
----	--	----	----	--	--	--	---	--


9		11	23	24		37		
---	--	----	----	----	--	----	--	--



3. RESOLVA AS ADIÇÕES:

$\begin{array}{r} 2 \\ + 6 \\ \hline \square \end{array}$	$\begin{array}{r} 22 \\ + 14 \\ \hline \square \end{array}$	$\begin{array}{r} 43 \\ + 16 \\ \hline \square \end{array}$	$\begin{array}{r} 23 \\ + 14 \\ \hline \square \end{array}$	$\begin{array}{r} 6 \\ + 6 \\ \hline \square \end{array}$	$\begin{array}{r} 22 \\ + 44 \\ \hline \square \end{array}$
$\begin{array}{r} 32 \\ + 45 \\ \hline \square \end{array}$	$\begin{array}{r} 27 \\ + 11 \\ \hline \square \end{array}$	$\begin{array}{r} 30 \\ + 12 \\ \hline \square \end{array}$	$\begin{array}{r} 41 \\ + 14 \\ \hline \square \end{array}$	$\begin{array}{r} 51 \\ + 22 \\ \hline \square \end{array}$	$\begin{array}{r} 54 \\ + 33 \\ \hline \square \end{array}$
$\begin{array}{r} 78 \\ + 21 \\ \hline \square \end{array}$	$\begin{array}{r} 9 \\ + 6 \\ \hline \square \end{array}$	$\begin{array}{r} 14 \\ + 4 \\ \hline \square \end{array}$	$\begin{array}{r} 62 \\ + 16 \\ \hline \square \end{array}$	$\begin{array}{r} 8 \\ + 9 \\ \hline \square \end{array}$	$\begin{array}{r} 11 \\ + 7 \\ \hline \square \end{array}$

4. OS ALUNOS DO 2º ANO FIZERAM UMA VOTAÇÃO PARA ESCOLHER O ANIMAL PREFERIDO DA CLASSE. COM OS VOTOS OBTIDOS, FOI MONTADO UM GRÁFICO. OBSERVE-O E FAÇA O QUE SE PEDE:



A) QUAL O ANIMAL PREFERIDO DOS ALUNOS DO 2º ANO?

B) QUAL ANIMAL TEVE MENOS VOTOS?

C) QUANTOS VOTOS O GATO TEVE?

D) QUANTOS VOTOS TEVE O PASSARINHO?

E) PINTE OS QUADRINHOS DE ACORDO COM A QUANTIDADE DE VOTOS DE CADA ANIMAL.

UNIDADE ESCOLAR:

PROFESSOR(A)

ANO DE ESCOLARIDADE
1º ANO

DATA
14ª SEMANA (08 A 12/05)

NOME:

HOJE É?

SEGUNDA

TERÇA

QUARTA

QUINTA

SEXTA

CÓDIGO BNCC

EF01LP16 / EF01LP02 / EF01LP05

LÍNGUA PORTUGUESA



1. LEIA A POESIA COM OS COLEGAS E COM A AJUDA DA PROFESSORA:

TEM GATO NA TUBA

TODO DOMINGO HAVIA BANDA
NO CORETO DO JARDIM
E JÁ DE LONGE A GENTE OUVIA
A TUBA DO SERAFIM
PORÉM UM DIA ENTROU UM GATO
NA TUBA DO SERAFIM
E O RESULTADO
DESSA "MELÓDIA"
FOI QUE A TUBA TOCOU ASSIM:
PUM, PUM, PUM, MIAU
PUM PU RU RUM PUM PUM, MIAU
PUM, PUM, PUM, MIAU
PUM PU RU RUM PUM PUM, MIAU



2. ESTE TEXTO É:

() UMA RECEITA () UMA POESIA () UMA CARTA

3. DE QUEM ERA A TUBA?

() DO JORGE () DO GATO () DO SERAFIM


4. QUEM ENTROU NA TUBA?

() UM GATO () UM RATO () UMA BARATA

5. EM QUAL DIA DA SEMANA A BANDA TOCAVA? _____



6. OBSERVE A IMAGEM EM DESTAQUE E RESPONDA:



- QUAL A PRIMEIRA LETRA DO ANIMAL?

- FALE A PALAVRA GATO BATENDO PALMAS. QUANTAS PALMAS VOCÊ BATEU? PINTE A QUANTIDADE.



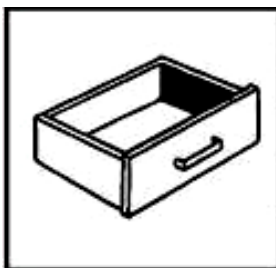
NÚMERO DE LETRAS:

NÚMERO DE VOGAIS:


NÚMERO DE CONSOANTES:



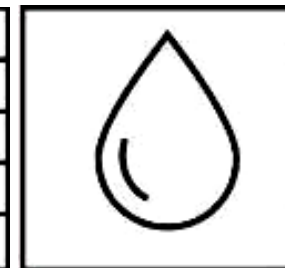
7. PINTE A SÍLABA INICIAL DO NOME DOS DESENHOS:



GA
GE
GI
GO
GU



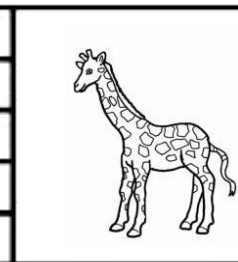
GA
GE
GI
GO
GU




GA
GE
GI
GO
GU



GA
GE
GI
GO
GU



GA
GE
GI
GO
GU



GA
GE
GI
GO
GU

8. CIRCULE AS SÍLABAS QUE FORMAM O NOME DAS FIGURAS E COPIE:



GA CA
BO GO
TO



GA BI
FI CA
GO



BA GO
BI GA
DE DA



GA GU
GO LA
LO



GA GU
GO LA
LO

UNIDADE ESCOLAR:

PROFESSOR(A)

ANO DE ESCOLARIDADE
1º ANO

DATA
14ª SEMANA (08 A 12/05)

NOME:

HOJE É?

SEGUNDA
 TERÇA
 QUARTA
 QUINTA
 SEXTA

CÓDIGO BNCC

EF01MA01/EF01MA07/EF01MA13

MATEMÁTICA



1. OBSERVE A TABELA E FAÇA COMO NO MODELO:

NÚMERO	D	U	DECOMPOSIÇÃO
23	2	3	2 DEZENAS + 3 UNIDADES
17			
36			
20			
15			
17			
32			

2. COMPONHA OS NÚMEROS COMO NO EXEMPLO:

$1 \text{ DEZENA} + 5 \text{ UNIDADES} = 25$

A) $1 \text{ DEZENA} + 3 \text{ UNIDADES} =$ _____

B) $2 \text{ DEZENAS} + 9 \text{ UNIDADES} =$ _____

C) $2 \text{ DEZENAS} + 1 \text{ UNIDADE} =$ _____

D) $0 \text{ DEZENA} + 2 \text{ UNIDADES} =$ _____

E) $3 \text{ DEZENAS} + 7 \text{ UNIDADES} =$ _____


F) $3 \text{ DEZENAS} + 3 \text{ UNIDADES} =$ _____

G) $2 \text{ DEZENAS} + 5 \text{ UNIDADES} =$ _____

H) $1 \text{ DEZENA} + 8 \text{ UNIDADES} =$ _____



3. OBSERVE A IMAGEM DO QUADRO E REGISTRE A QUANTIDADE QUE SE PEDE:



▪ QUANTAS NUVENS?

▪ QUANTOS CÍRCULOS?

▪ QUANTAS CASAS?


▪ QUANTOS QUADRADOS?

▪ QUANTAS ÁRVORES?

▪ QUANTOS TRIÂNGULOS?


▪ QUANTAS PLACAS?

▪ QUANTOS RETÂNGULOS?




4. PINTE NO ÁBACO DEZENA E UNIDADE DE ACORDO COM A QUANTIDADE INDICADA:

D U




25

D U




19

D U



32

D U



38

UNIDADE ESCOLAR:

PROFESSOR(A)

ANO DE ESCOLARIDADE
1º ANO

DATA
14ª SEMANA (08 A 12/05)

NOME:

HOJE É?

SEGUNDA TERÇA QUARTA QUINTA SEXTA

CÓDIGO BNCC

EF01HI03

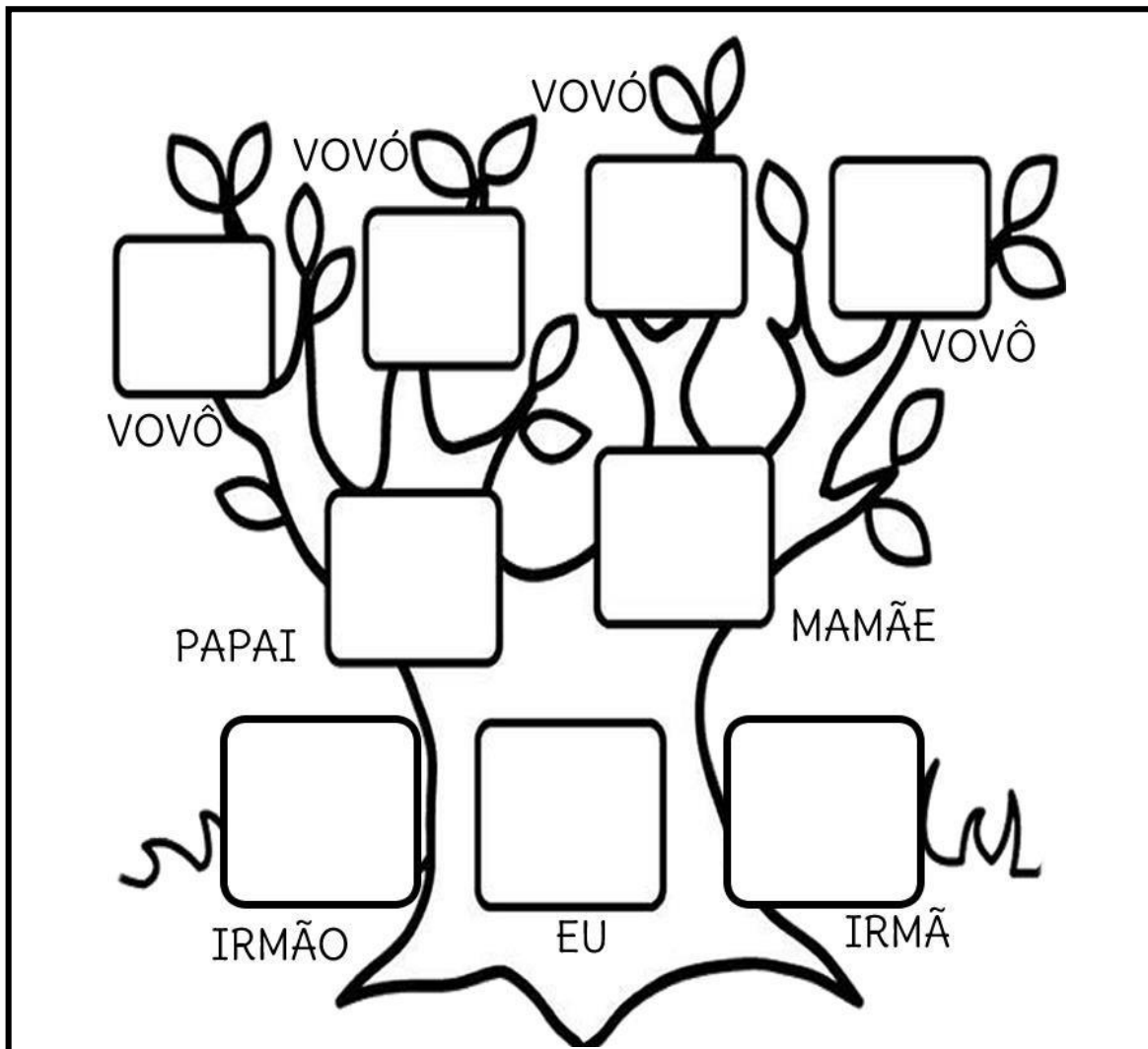
HISTÓRIA



FAMÍLIA E COMUNIDADE

A HISTÓRIA DE CADA PESSOA ESTÁ ASSOCIADA À HISTÓRIA DE SUA FAMÍLIA E DE SUA COMUNIDADE. PODEMOS CONHECER MELHOR A NOSSA HISTÓRIA ENTREVISTANDO UMA PESSOA DA NOSSA COMUNIDADE: VIZINHA, MADRINHA, AMIGOS DOS NOSSOS PAIS OU ALGUÉM QUE FREQUENTA A NOSSA CASA HÁ TEMPOS.

1. MOSTRE SUA FAMÍLIA DESENHANDO-A NA ÁRVORE GENEALÓGICA:



2. ESCREVA OS COSTUMES E TRADIÇÕES E SUA FAMÍLIA E SUA COMUNIDADE:

COMIDAS	FESTAS
DIVERSÃO	OBJETOS



3. COMPLETE A CRUZADINHA COM AÇÕES PARA VIVER BEM EM COMUNIDADE:

FAMÍLIAS	ESPAÇO	RESPEITO
VALORES	AMOR	EMPATIA

				S					
				O					
				C					
				I					
				E					
				D					
				A					
				D					
				E					

