

PREFEITURA MUNICIPAL DE BOM JESUS DO ITABAPOANA-RJ
SECRETARIA MUNICIPAL DE EDUCAÇÃO, ESPORTE E LAZER

SEMEEL

A mudança está em nossas mãos

Atividades Orientadoras



1º
ano

Ensino Fundamental

UNIDADE ESCOLAR:

PROFESSOR(A)

ANO DE ESCOLARIDADE

DATA

NOME:

HOJE É?

SEGUNDA

TERÇA

QUARTA

QUINTA

SEXTA

CÓDIGO BNCC

LÍNGUA PORTUGUESA



1. ACOMPANHE O TRAVA-LÍNGUAS QUE A PROFESSORA VAI LER:

**TRAVA-
LÍNGUAS**



**QUANDO DIGO DIGO,
DIGO DIGO,
NÃO DIGO DIOGO.
QUANDO DIGO DIOGO,
DIGO DIOGO,
NÃO DIGO DIGO.**

2. PINTE OS ESPAÇOS ENTRE AS PALAVRAS DO TRAVA-LÍNGUAS.

3. QUANTAS PALAVRAS HÁ NO TRAVA-LÍNGUAS?

4. QUAL A CONSOANTE QUE MAIS SE REPETE NO TRAVA-LÍNGUAS?

5. QUAL A VOGAL QUE MAIS SE REPETE NO TRAVA-LÍNGUAS?

6. SEPARE AS SÍLABAS DAS PALAVRAS ABAIXO:

DIGO

--	--

DIOGO


--	--	--



7. QUAL A LETRA QUE TRANSFORMA **DIGO** EM **DIOGO** ?

--

8. COMPLETE AS PALAVRAS COM AS LETRAS QUE FALTAM:



D	A	D	O
	A		O
			O
D			



D	E	D	O
	E	D	
D		D	O



C	A	D	E	A	D	O
	A		E	A		O
C		D			D	
C			E			



D	A	M	A
	A		A
D		M	
	A		

9. COMPLETE A CRUZADINHA:

10

10

10

10

10

10

10

10

10

10

10. AUTODITADO – CONSULTE O BANCO DE PALAVRAS. VOCÊ É CAPAZ!

12

12

12

12

12

12

12

12

12

12

12

12

DIA – DEDO – DADO – DOCE – DEZ – DAMA – DOMINÓ – DOZE

UNIDADE ESCOLAR:

PROFESSOR(A)

ANO DE ESCOLARIDADE

DATA

NOME:

HOJE É?

SEGUNDA

TERÇA

QUARTA

QUINTA

SEXTA


CÓDIGO BNCC

EF01MA15

MATEMÁTICA



1. OBSERVE A IMAGEM A FAÇA O QUE SE PEDE:



2. CONTINUE NUMERANDO OS PEIXINHOS:


3. PINTE DE AZUL UMA DÚZIA DE PEIXINHOS. QUANTOS PEIXES VOCÊ PINTOU?

4. PINTE DE VERDE OS QUE SOBRRAM E INDIQUE A QUANTIDADE.


5. QUANTOS PEIXES NO TOTAL?

6. OBSERVE AS IMAGENS E FAÇA O QUE SE PEDE:


➤ PINTE AS CRIANÇAS QUE ESTÃO DE FRENTE:



➤ CIRCULE A CRIANÇA MAIS BAIXA:



➤ PINTE A ÁRVORE MAIS ALTA:



UNIDADE ESCOLAR:

PROFESSOR(A)

ANO DE ESCOLARIDADE
1º ANO

DATA
12ª SEMANA (24 A 28/04)

NOME:

HOJE É?

SEGUNDA

TERÇA

QUARTA

QUINTA

SEXTA

CÓDIGO BNCC

EF01LP16/EF01LP05/EF01LP09

LÍNGUA PORTUGUESA



1. LEIA O POEMA COM OS AMIGOS E COPIE CADA VERSO NAS LINHAS ABAIXO:

É UM DEDO, É UM DADO, É UM DIA.
É UM DIA, É UM DADO, É UM DEDO.
É UM DEDO, É UM DIA, É UM DADO.
É UM DADO, É UM DEDO, É UM DIA.
É UM DIA, É UM DEDO, É UM DADO.



Handwriting practice area with five horizontal lines inside a dashed border.


2. LEIA O TEXTO E FAÇA O QUE SE PEDE:

BAMBINA

ADRIANA FELISBINO

BAMBINA ERA UMA BOLINHA
BELA E BEM BOLADA
MAS BATIA MUITO FORTE
NAS MÃOS DA MENINADA.

ESSA BOLA TÃO SAPECA
BATE, BATE, SEM PARAR
BATE NO BULE E NA BONECA
E NÃO PARA DE BRINCAR.



3. QUAL LETRA MAIS SE REPETE NO POEMA?

- () D
- () B
- () P

4. O POEMA SE REFERE A QUAL OBJETO?

- () COLA
- () BOLA
- () BULE












5. QUAL É O NOME DA BOLA? _____

6. MARQUE COM UM X O NÚMERO CORRESPONDENTE À QUANTIDADE DE SÍLABAS DAS PALAVRAS EM DESTAQUE:

	2	3	4
BONECA			
BOLA			
MENINADA			
BULE			



7. ESCREVA O NÚMERO DE SÍLABAS, DE LETRAS E DE SONS DE CADA PALAVRA:

PALAVRAS	SEPARADAS EM SÍLABAS	NÚMERO DE SÍLABAS	NÚMERO DE LETRAS	NÚMERO DE SONS
 BOLA				
 BONECA				
 PETECA				
 DOCE				
 PAPAGAIO				
 DINOSSAURO				
 PIPA				
 DIAMANTE				
 BALANÇO				

UNIDADE ESCOLAR:

PROFESSOR(A)

ANO DE ESCOLARIDADE
1º ANO

DATA
12ª SEMANA (24 A 28/04)

NOME:

HOJE É?

SEGUNDA

TERÇA

QUARTA

QUINTA

SEXTA

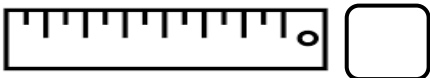
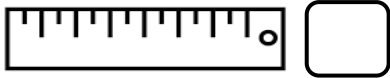
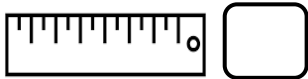
CÓDIGO BNCC
EF01MA15

MATEMÁTICA

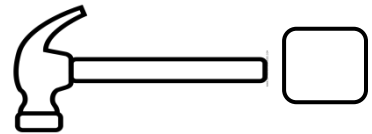
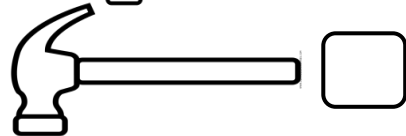
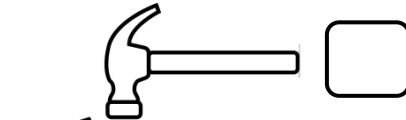


1. OBSERVE AS IMAGENS E ASSINALE DE ACORDO COM O QUE SE PEDE:

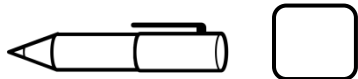
➔ ASSINALE A MAIOR RÉGUA:



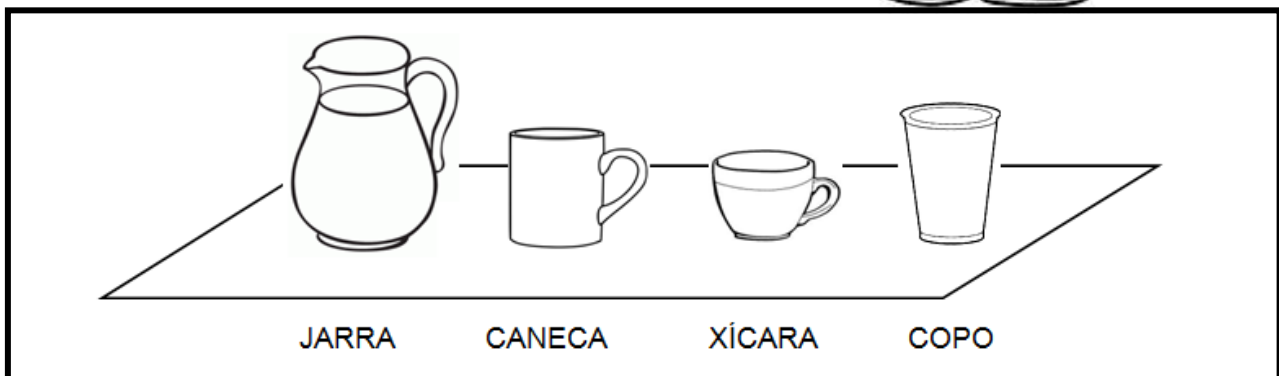
➔ ASSINALE O MARTELO MÉDIO:



➔ ASSINALE A MENOR CANETA:



2. OBSERVE AS IMAGENS E FAÇA O QUE SE PEDE:



➤ COMPLETE CADA FRASE USANDO **MAIS** OU **MENOS**:

- NA JARRA CABE _____ LÍQUIDO QUE NA CANECA.
- NA XÍCARA CABE _____ LÍQUIDO QUE NO COPO.
- NA CANECA CABE _____ LÍQUIDO QUE NA JARRA.
- NA JARRA CABE _____ LÍQUIDO QUE NA XÍCARA.

3. EM QUAL DOS OBJETOS CABE MAIS LÍQUIDO? _____.

4. PINTE O CAMINHO **MAIS CURTO** QUE LEVE JÚLIA ATÉ A ESCOLA:



5. NA ESCOLA, JÚLIA FEZ COLARES PARA SUA MÃE. PINTE DE **AZUL** O COLAR **MAIS CURTO** E DE **ROSA** O **MAIS LONGO**:



UNIDADE ESCOLAR:

PROFESSOR(A)

ANO DE ESCOLARIDADE
1º ANO

DATA
12ª SEMANA (24 A 28/04)

NOME:

HOJE É?

SEGUNDA TERÇA QUARTA QUINTA SEXTA

CÓDIGO BNCC

EF01LP17

LÍNGUA PORTUGUESA



PRODUÇÃO DE TEXTO - AGENDA

AGENDINHA



DADOS PESSOAIS

NOME: _____.

PAI: _____.

MÃE: _____.


TELEFONE: _____.

ENDEREÇO – RUA:

_____ Nº _____.

BAIRRO: _____.

CIDADE: _____.




SUMÁRIO

DADOS PESSOAIS

AGENDA

CONTATOS



AGENDA

DATA: _____ / _____ / _____

MANHÃ

TARDE

NOITE

CONTATOS

NOME

TELEFONE

AGENDA

DATA: _____ / _____ / _____

MANHÃ

TARDE

NOITE

CONTATOS

NOME

TELEFONE
