

PREFEITURA MUNICIPAL DE BOM JESUS DO ITABAPOANA-RJ
SECRETARIA MUNICIPAL DE EDUCAÇÃO, ESPORTE E LAZER

Atividades Orientadoras



Educação de Jovens e Adultos

FASE II



UNIDADE ESCOLAR:

PROFESSORA

DATA

4ª SEMANA ABRIL.

NOME:

FASE

CÓDIGO BNCC



QUANDO OS PORTUGUESES CHEGARAM, OS ÍNDIOS AQUI JÁ HABITAVAM!

01 LEIA A QUADRINHA ABAIXO COM AJUDA DO PROFESSOR.

MINHA GENTE, VENHA VER
COISA QUE NUNCA SE VIU:
PORTUGUESES SAÍRAM DA ROTA
E CHEGARAM NO BRASIL!

A CIRCULE NA QUADRINHA ACIMA A PALAVRA **BRASIL**.

02 OBSERVE A PALAVRA QUE VOCÊ CIRCULOU NA ATIVIDADE ANTERIOR. AGORA CIRCULE AS LETRAS QUE COMPLETAM O NOME DO NOSSO PAÍS.

A B C
I U
O H
E

	R		S		L
--	---	--	---	--	---

03 COMPLETE O QUADRO ABAIXO:

PALAVRA	QUANTAS SÍLABAS?	QUANTAS VOGAIS?	QUANTAS CONSOANTES?	SÍLABA MAIS FORTE.
GENTE				
ÍNDIO				
CHEGARAM				
PORTUGUESES				

04 ESCOLHA UMA PALAVRA ACIMA E FORME UMA FRASE:

--

05 OBSERVE O NOME DA GRAVURA E RESPONDA AS QUESTÕES ABAIXO:

CARRO



A QUAL PALAVRA ESTÁ CORRETA?

- () CARO
- () CARRO
- () KARRO

B ESCOLHA A SEPARAÇÃO SILÁBICA CORRETA.

- () CA-R-RO
- () CAR-RO
- () CA-RRO

C NÚMERO DE LETRAS.

- () 5 LETRAS
- () 4 LETRAS

D LETRA INICIAL

- () C
- () O
- () K

E NÚMERO DE SÍLABAS

- () 2
- () 3

UNIDADE ESCOLAR:

PROFESSORA

DATA

NOME:


FASE

CÓDIGO BNCC

MA **MATEMÁTICA**

01

LIGUE OS PONTOS DE 1 A 50 PARA FORMAR A CARAVELA.



02 ESCOLHA A OPÇÃO CORRETA E FAÇA UM X:

A MARQUE A SEQUÊNCIA DE **10 EM 10**.

() 5 - 15 - 25 - 35

() 10 - 100 - 1000 - 10.000

() 1 - 101 - 201 - 301

B MARQUE A SEQUÊNCIA DE **100 EM 100**.

() 458 - 508 - 558 - 608

() 772 - 872 - 972 - 1072

() 642 - 682 - 722 - 762

C MARQUE A SEQUÊNCIA DE **1.000 EM 1.000**.

() 2020 - 2120 - 2220 - 2320

() 4500 - 5500 - 6500 - 7500

() 1000 - 1001 - 1002 - 1003

03 UM TRABALHADOR REGISTROU A QUANTIDADE DE ENTREGAS REALIZADAS DIARIAMENTE DE SEGUNDA-FEIRA A SEXTA-FEIRA.

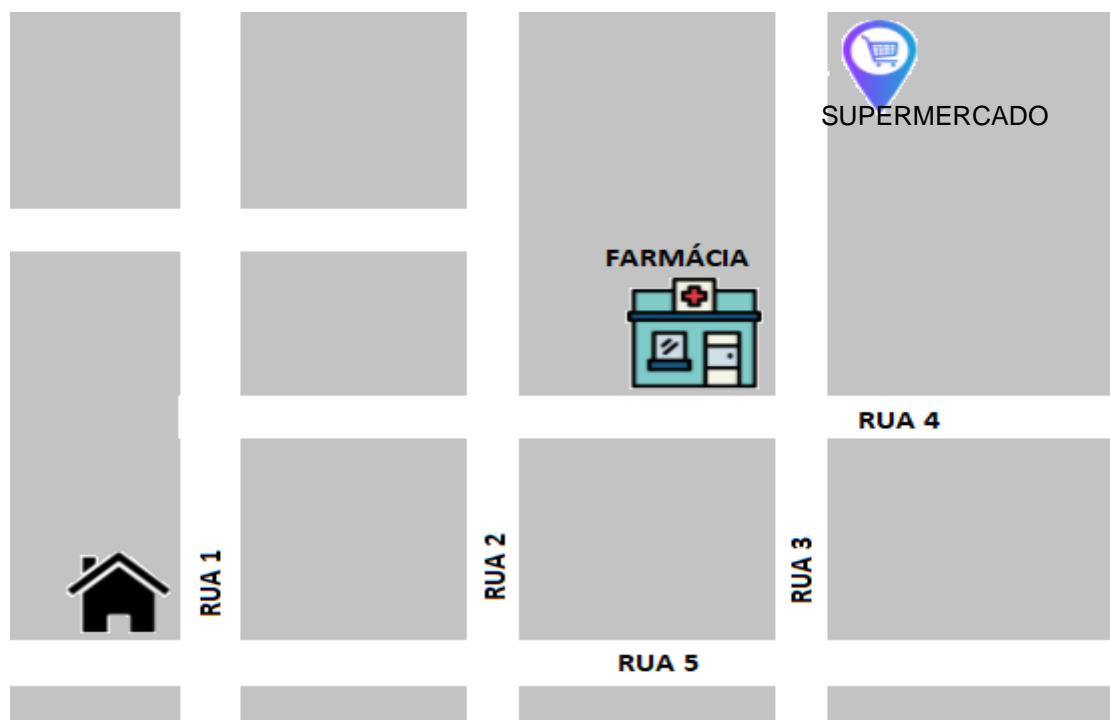
SEGUNDA-FEIRA	TERÇA-FEIRA	QUARTA-FEIRA	QUINTA-FEIRA	SEXTA-FEIRA
10	40	20	50	30

A ESCREVA AS QUANTIDADES DE ENTREGAS DA SEMANA EM ORDEM CRESCENTE (DO MENOR PARA O MAIOR).

04 PARA IR DA CASA ATÉ O SUPERMERCADO, O GPS INDICOU A SEGUINTE TRAJETÓRIA:

- SIGA EM FRENTE PELA RUA 1;
- VIRE À DIREITA NA RUA 4;
- SIGA EM FRENTE ATÉ A FARMÁCIA;
- VIRE À ESQUERDA NA RUA 3;
- SIGA EM FRENTE ATÉ O SUPERMERCADO.

REPRESENTE A TRAJETÓRIA NO MAPA ABAIXO.



FONTE: MAPA - ACERVO PESSOAL

05 OBSERVANDO O DESENHO E SABENDO QUE ROBERTA É VIZINHA DE JÚLIA E QUE JÚLIA MORA AO LADO DA PREFEITURA, DESCUBRA ONDE MORA ROBERTA.



- (A) NA CASA 1.
- (B) NA CASA 2.
- (C) NA CASA 3.
- (D) NA CASA 4.

UNIDADE ESCOLAR:

PROFESSORA

DATA

4ª SEMANA ABRIL.

NOME:

FASE

II

CÓDIGO BNCC

EFEJAFIILP48/EFEJAFIILP58/EFEJAFIILP56



01 COMPLETE O QUADRO ABAIXO:

PALAVRAS	SEPARAÇÃO SILÁBICA	NÚMERO DE SILABAS	SÍLABA MAIS FORTE
FÁCIL			
TATU			
CAJU			
ALGUÉM			
ESCOVA			

02 INDIQUE A ALTERNATIVA EM QUE TODAS AS PALAVRAS TÊM A ÚLTIMA SÍLABA FORTE:

- A** PARABÉNS, FÁCIL, MENTIRA.
- B** TATU, CAJU, ALGUÉM.
- C** BRINCADEIRA, NUVEM, CALDO.
- D** PICOLÉ, ESCOVA, SAUDADE.

03 COMPLETE O ALFABETO COM AS LETRAS QUE ESTÃO FALTANDO.

A				E		
	I					
O						U

04 ESCREVA AS LETRAS QUE COMPLETARAM A ATIVIDADE ACIMA.

05 CIRCULE SOMENTE AS VOGAIS.

H P S V
C D J R
K G N T
B L O
U M Y W
X F A Q I Z



UNIDADE ESCOLAR:

PROFESSORA

DATA
4ª SEMANA ABRIL.

NOME:

FASE

CÓDIGO BNCC

MA **MATEMÁTICA**

01 PARA COMPRAR ALGUMA COISA, USAMOS O DINHEIRO. NO BRASIL, A MOEDA QUE USAMOS É O **REAL** E SEU SÍMBOLO É O **R\$**.

ESCREVA ABAIXO O VALOR DE CADA CÉDULA:



02 PAULO FEZ A SUBTRAÇÃO: $478 - 156$. ELE ACERTOU O RESULTADO. MARQUE UM X NO RESULTADO QUE ELE ENCONTROU.

$$\begin{array}{r} 478 \\ -156 \\ \hline \end{array}$$

- A 534
- B 522
- C 322
- D 122

03 CLÁUDIA TEM 141 REAIS NA POUPANÇA E DEPOSITOU MAIS 138 REAIS. O TOTAL DE DINHEIRO QUE CLÁUDIA TEM NA POUPANÇA É DE:

$$\begin{array}{r} 141 \\ +138 \\ \hline \end{array}$$

- A 179 REAIS.
- B 219 REIAS.
- C 277 REAIS.
- D 279 REAIS.

04 MARCOS É REPRESENTANTE COMERCIAL E VISITOU ALGUNS CLIENTES NAS CIDADES A, B, C, D INDICADAS NA IMAGEM ABAIXO COM AS RESPECTIVAS DISTÂNCIAS ENTRE ELAS.

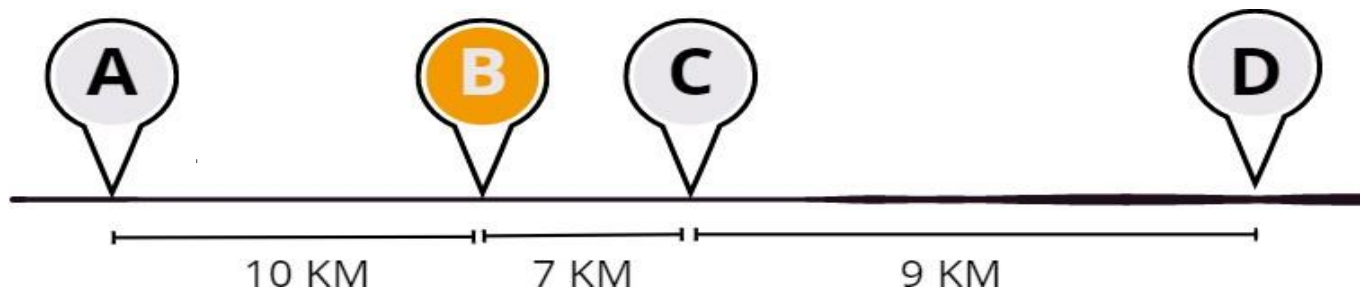


IMAGEM 3: TRAJETÓRIA - PRODUZIDA EM CANVA.COM

A CIDADE QUE ESTÁ **MAIS DISTANTE** DA CIDADE B É A:

- () CIDADE A
- () CIDADE B
- () CIDADE C
- () CIDADE D

05 OBSERVE A IMAGEM ABAIXO.



IMAGEM 2: AMIGOS - PRODUZIDA EM CANVA.COM

À **ESQUERDA** DE PEDRO ESTÃO:

- () TEREZA E JÚLIA.
- () JÚLIA E LARA.
- () LARA E PAULO.
- () TEREZA E PAULO.

UNIDADE ESCOLAR:

PROFESSORA

DATA
4ª SEMANA ABRIL.

NOME:

FASE

CÓDIGO BNCC



01 ASSINALE A SEQUÊNCIA CORRETA, MARCANDO UM X.

LETRAS DO ALFABETO	CERTO	ERRADO
J - L - M - N		
F - G - H - I		
M - N - P - R		
A - B - E - F		
R - S - T - U		
W - V - X - Z		

02 MARQUE UM X ONDE SÓ HÁ VOGAIS:

() A - E - I

() A - E - Q

() L - I - O

03 QUAL É A ÚLTIMA LETRA DO ALFABETO?

- () A LETRA X.
- () A LETRA Y.
- () A LETRA Z.

04 FAÇA UM X NA LETRA INICIAL DE CADA DESENHO. DEPOIS ESCREVA O NOME DO DESENHO:



C
K
A



I
N
M




T
D
E



F
V
A

05 OBSERVE AS GRAVURAS E COMPLETE O QUADRO ABAIXO USANDO A LETRA C.

GRAVURAS	ESCRITA DAS PALAVRAS	NÚMERO DE SÍLABAS	NÚMERO DE LETRAS	LETRA INICIAL	SÍLABA FORTE
	CASA	2	4	C	CA
