

PREFEITURA MUNICIPAL DE BOM JESUS DO ITABAPOANA-RJ
SECRETARIA MUNICIPAL DE EDUCAÇÃO, ESPORTE E LAZER

SEMEEL

A mudança está em nossas mãos

Atividades Orientadoras



1º ano

Ensino Fundamental

UNIDADE ESCOLAR:

PROFESSOR(A)

ANO DE ESCOLARIDADE
1º ANO

DATA
15ª SEMANA (15 A 19/05)

NOME:

HOJE É?

SEGUNDA

TERÇA

QUARTA

QUINTA

SEXTA

CÓDIGO BNCC

EF01LP16/EF02LP02/EF01LP03/EF01LP05

LÍNGUA PORTUGUESA



1. LEIA O TEXTO COM OS COLEGAS E COM A AJUDA DA PROFESSORA E RESPONDA:

A VACA FILOMENA E A FORMIGA VIOLETA

Isabel Cristina Silveira Soares

A VACA FILOMENA
MORA NA VILA FORMOSA
A FORMIGA VIOLETA
MORA NA CERCA COR DE ROSA.



A VACA FILOMENA
COME AS UVAS DA VIDEIRA
A FORMIGA VIOLETA
COME AS FOLHAS DA ROSEIRA.


A VACA FILOMENA
COME E FICA A DESCANSAR
A FORMIGA VIOLETA
CORTA FOLHA A TRABALHAR.



A VACA NA VIDEIRA
E A FORMIGA NA ROSEIRA
CADA UMA CONTRIBUI
COM NATUREZA TÃO ORDEIRA!

ATIVIDADES

2. QUAL O NOME DA VACA? _____
3. QUAL O NOME DA FORMIGA? _____
4. QUAL É O ANIMAL QUE MORA NA CERCA COR DE ROSA? _____
5. QUAL É O ANIMAL QUE MORA NA VILA FORMOSA? _____
6. QUAL O NOME DO ANIMAL QUE COME UVAS NA VIDEIRA? _____
7. QUAL O NOME DO ANIMAL QUE COME FOLHAS NA ROSEIRA? _____
8. QUAL O NOME DO ANIMAL QUE COME E FICA A DESCANSAR? _____
9. QUAL O NOME DO ANIMAL QUE CORTA FOLHA A TRABALHAR? _____
10. ORDENE AS LETRAS E FORME OS NOMES DOS PERSONAGENS DO TEXTO:



11. ESCREVA PALAVRAS COM AS LETRAS INICIAIS DOS NOMES ABAIXO:

V _____

A _____

C _____

A _____

F _____

O _____

R _____

M _____

I _____

G _____


A _____

12. PINTE A LETRA INICIAL DE CADA PALAVRA:


VIOLETA



FILOMENA




13. COMPLETE:



ESTE ANIMALZINHO É UMA _____.

SEU NOME É _____.



ESTE ANIMAL É UMA _____.

SEU NOME É _____.

14. VAMOS COMPLETAR AS PALAVRAS COM AS INICIAIS DE **VIOLETA** E **FILOMENA**:



____ADA



____INHO



____IVELA



____OGUEIRA



____ELA



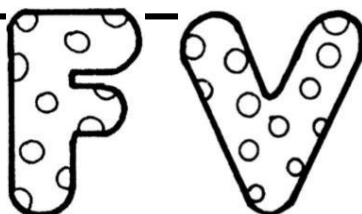
____ESTIDO



____AGALUME



____OGUETE



UNIDADE ESCOLAR:

PROFESSOR(A)

ANO DE ESCOLARIDADE

DATA

NOME:

HOJE É?

SEGUNDA TERÇA QUARTA QUINTA SEXTA









CÓDIGO BNCC

EF01MA01/EF01MA06

MATEMÁTICA



1. REALIZE AS SUBTRAÇÕES COMO NO MODELO:

 $3 - 1 = \underline{2}$	 $4 - 1 = \underline{\quad}$
 $4 - 2 = \underline{\quad}$	 $4 - 3 = \underline{\quad}$
 $3 - 2 = \underline{\quad}$	 $5 - 3 = \underline{\quad}$
 $5 - 1 = \underline{\quad}$	 $6 - 2 = \underline{\quad}$

2. OBSERVE O NUMERAL EM DESTAQUE:

20

➤ O NUMERAL QUE VEM ANTES É:

- () 15
- () 19
- () 21

3. A ESCRITA CORRETA DO NUMERAL **32** É:

- () TRINTA E TRÊS.
- () VINTE E SETE.
- () TRINTA E DOIS.



4. QUAL O PRÓXIMO NÚMERO DA SEQUÊNCIA?

25, 26, 27, 28, 29...

- () 30
- () 28
- () 31

5. COMPLETE AS SEQUÊNCIAS NUMÉRICAS COMO SE PEDE:

2 EM 2:



2 ○ ○ 8 ○ ○ 14 ○

3 EM 3:



○ 6 ○ 12 ○ 18 ○ ○

4 EM 4:



○ 8 ○ 16 ○ ○ ○ 32

UNIDADE ESCOLAR:

PROFESSOR(A) ANO DE ESCOLARIDADE DATA

1º ANO 15ª SEMANA (15 A 19/05)

NOME:

HOJE É?

SEGUNDA TERÇA QUARTA QUINTA SEXTA







CÓDIGO BNCC

EF01LP02 / EF01LP03 / EF01LP05







LÍNGUA PORTUGUESA



1. PINTE AS PALAVRAS CORRETAS E REGISTRE-AS:


	<input type="text"/> VULCÃO <input type="text"/> FULCÃO <input type="text"/>		<input type="text"/> FOLANTE <input type="text"/> VOLANTE <input type="text"/>		<input type="text"/> VESTIDO <input type="text"/> FESTIDO <input type="text"/>
	<input type="text"/> FIOLETA <input type="text"/> VIOLETA <input type="text"/>		<input type="text"/> LUVA <input type="text"/> LUFA <input type="text"/>		<input type="text"/> VOCA <input type="text"/> FOCA <input type="text"/>

2. MARQUE A LETRA QUE COMPLETA CORRETAMENTE O NOME DA FIGURA E COMPLETE:

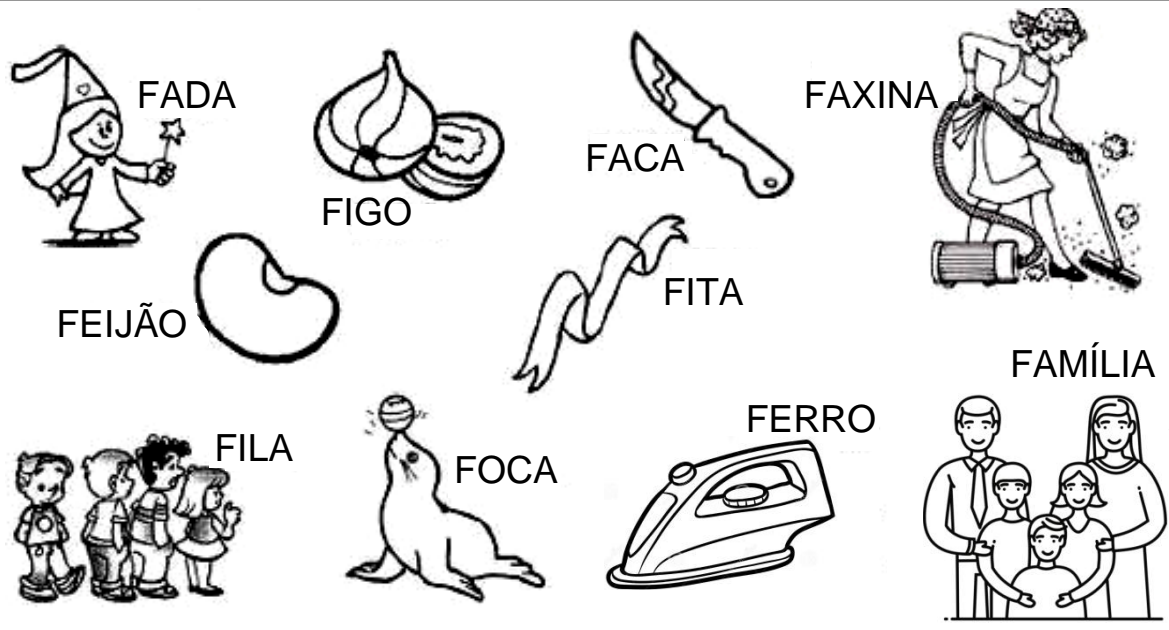
 <input type="text"/> ADA <input type="checkbox"/> F <input type="checkbox"/> V	 <input type="text"/> ACA <input type="checkbox"/> F <input type="checkbox"/> V	 <input type="text"/> ACA <input type="checkbox"/> F <input type="checkbox"/> V
 <input type="text"/> IOLÃO <input type="checkbox"/> F <input type="checkbox"/> V	 <input type="text"/> OCA <input type="checkbox"/> F <input type="checkbox"/> V	 <input type="text"/> ACINA <input type="checkbox"/> F <input type="checkbox"/> V

2. TROQUE O F PELO V E FORME OUTRAS PALAVRAS:

FALA	VALA	FARRA	
FOTO		FEIA	
FALSA		FARINHA	
FACA		FILA	



3. ENCONTRE O NOME DOS DESENHOS NO CAÇA-PALAVRAS:



A	F	A	D	A	E	I	J	O	U	I
B	O	F	A	M	Í	L	I	A	Q	L
U	F	I	T	A	H	R	C	Z	H	R
C	A	B	E	F	E	I	J	Ã	O	I
Q	F	O	C	A	Q	W	E	R	T	N
X	E	D	A	F	A	X	I	N	A	F
I	O	B	A	N	F	I	L	A	X	I
Z	C	O	F	I	G	O	T	Q	H	O
U	F	E	R	R	O	F	A	C	A	R

UNIDADE ESCOLAR:

PROFESSOR(A)

ANO DE ESCOLARIDADE

DATA

NOME:

HOJE É?

SEGUNDA TERÇA QUARTA QUINTA SEXTA

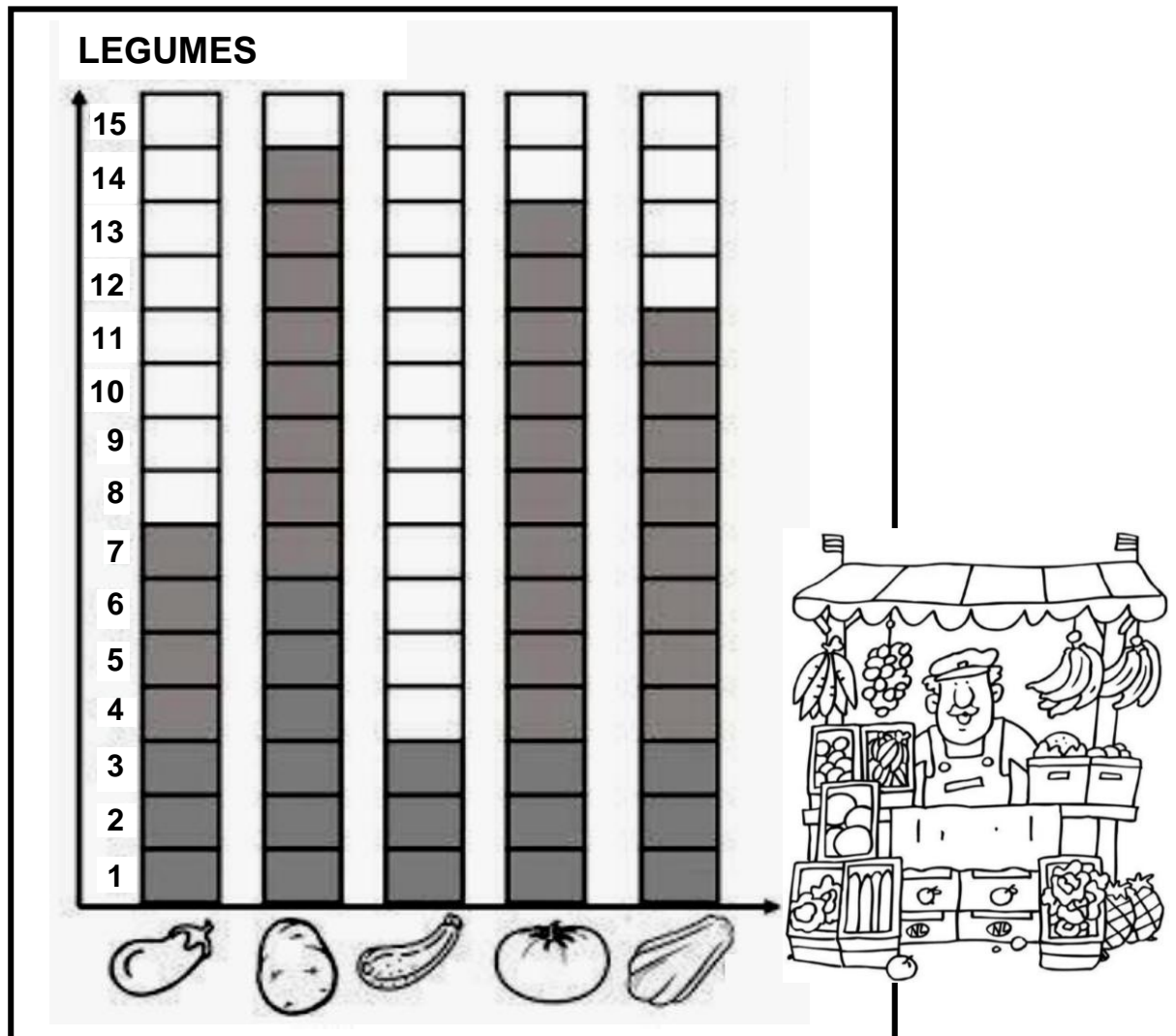
CÓDIGO BNCC

EF01MA01/EF01MA06

MATEMÁTICA



1. VEJA OS LEGUMES QUE UMA FEIRANTE CONSEGUIU VENDER EM UM DIA DE FEIRA E RESPONDA:



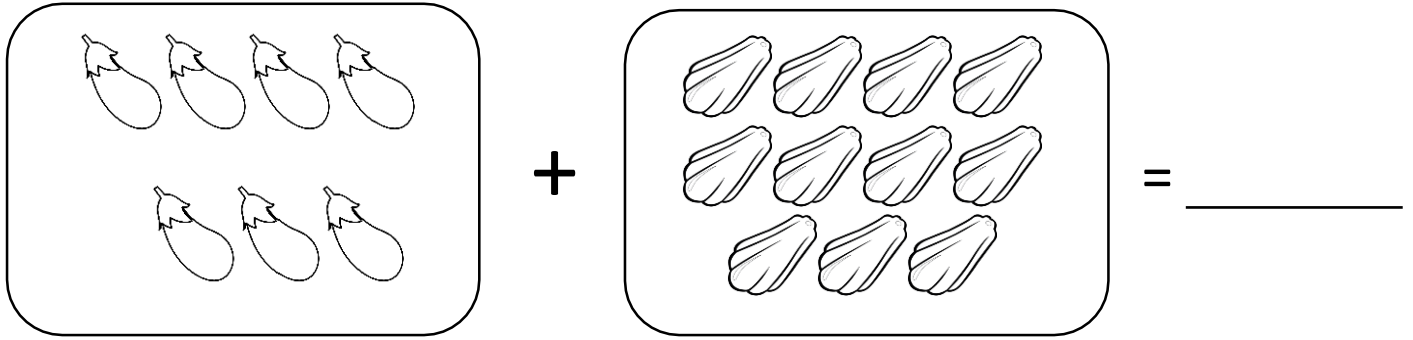
2. QUAL FOI O LEGUME MAIS VENDIDO? _____.

3. ESCREVA POR EXTENSO ESTE VALOR: _____.

4. QUAL O LEGUME MENOS VENDIDO? _____.

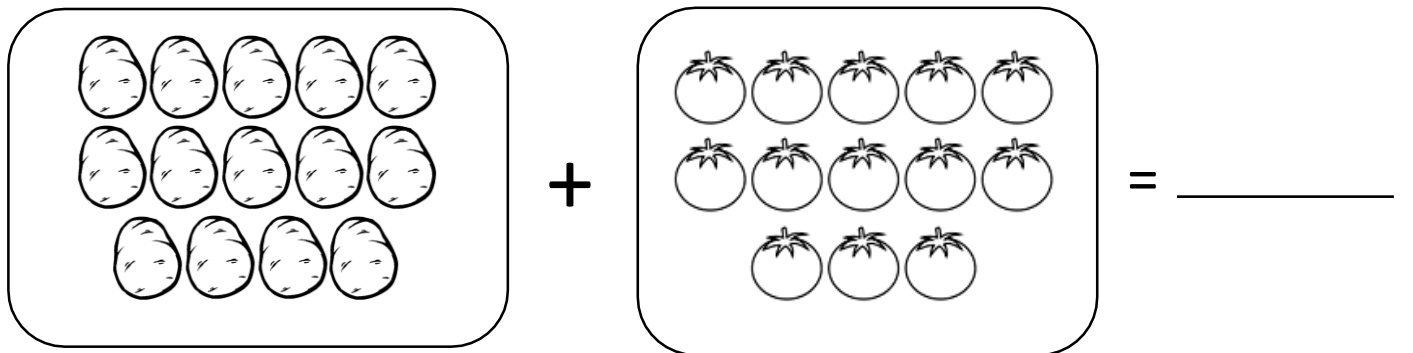
5. QUANTOS TOMATES FORAM VENDIDOS? _____.

6. CALCULE QUANTOS CHUCHUS E BERINJELAS FORAM VENDIDOS:













7. ESCREVA ESSE VALOR POR EXTENSO: _____.

8. CALCULE QUANTOS TOMATES E BATATAS FORAM VENDIDOS AO TODO:



9. ESCREVA ESSE NÚMERO POR EXTENSO: _____.

10. RESOLVA AS SUBTRAÇÕES COMO NO MODELO:

 $2-1 = \underline{1}$	 $4-2 = \underline{\quad}$
 $4-1 = \underline{\quad}$	 $3-2 = \underline{\quad}$
 $5-1 = \underline{\quad}$	 $5-3 = \underline{\quad}$
 $5-2 = \underline{\quad}$	 $3-1 = \underline{\quad}$
 $4-3 = \underline{\quad}$	 $5-4 = \underline{\quad}$



UNIDADE ESCOLAR:

PROFESSOR(A)

ANO DE ESCOLARIDADE
1º ANO

DATA
15ª SEMANA (15 A 19/05)

NOME:

HOJE É?

SEGUNDA

TERÇA

QUARTA

QUINTA

SEXTA

CÓDIGO BNCC


EF01GE02

GEOGRAFIA



BRINCADEIRAS

AO BRINCARMOS, TAMBÉM APRENDEMOS A CONVIVER MELHOR COM AS PESSOAS. VEJA A SEGUIR:



COMPARTILHAR IDEIAS E BRINQUEDOS.

RESPEITAR O OUTRO,
AGUARDANDO A SUA
VEZ E ENTENDENDO
QUE TEMOS DESAFIOS
DIFERENTES.



APRENDER A GANHAR E A PERDER.

TRABALHAR EM EQUIPE.

FURQUIMJR.LAERCIO,ACONQUISTA,GEOGRAFIA.ENSINOFUNDAMENTAL,ANOSINICIAIS,FTD.2021

1.VOCÊ ACHA IMPORTANTE SE DAR BEM COM OUTRA CRIANÇA DURANTE UMA BRINCADEIRA?

() SIM () NÃO

2.VOCÊ PREFERE BRINCAR: () SOZINHO () COM OS AMIGOS

3. ASSINALE AS ALTERNATIVAS, DE ACORDO COM O TEXTO, OS BENEFÍCIOS DAS BRINCADEIRAS PARA ALÉM DA DIVERSÃO:

- () INDIVIDUALIDADE
- () COMPARTILHAR IDEIAS E BRINQUEDOS.
- () QUEBRAR OS BRINQUEDOS.
- () EXCLUIR OS AMIGOS.
- () APRENDER A GANHAR E PERDER.
- () TRABALHAR EM EQUIPE.
- () SER MAL EDUCADO.
- () RESPEITAR O OUTRO.



4. AS CRIANÇAS BRINCAM EM CASA, NA RUA OU NA ESCOLA. PODEM BRINCAR SOZINHAS OU COM OS AMIGOS. FAÇA A ELEIÇÃO DE QUATRO BRINCADEIRAS PREFERIDAS DA SUA TURMA E PREENCHA O QUADRO ABAIXO:



BRINCADEIRAS	VOTOS



- QUAL É A BRINCADEIRA FAVORITA DA TURMA? _____.
- QUE BRINCADEIRA VOCÊ ESCOLHEU? _____.
- ESSA BRINCADEIRA, BRINCA-SE:

() SOZINHO(A)

() ACOMPANHADO(A)