

PREFEITURA MUNICIPAL DE BOM JESUS DO ITABAPOANA-RJ
SECRETARIA MUNICIPAL DE EDUCAÇÃO, ESPORTE E LAZER

Atividades Orientadoras



Educação de Jovens e Adultos

FASE I



UNIDADE ESCOLAR:

PROFESSORA

DATA

2ª SEMANA MAIO

NOME:

FASE

CÓDIGO BNCC EFEJAFILP01/EFEJAFILP20/EFEJAFI-III23



01 LEIA O TEXTO COM AJUDA DO PROFESSOR:

TODA MÃE É UMA FADA.

TODA FADA É UMA MÃE
TODA MÃE É UMA FADA
QUANDO CUIDA COM CARINHO
DE SUA CRIANÇA.

TEM MÃE BELA
TEM MÃE ALEGRE
TEM MÃE TRISTE
TEM MÃE CALADA.

MAS TODAS TÊM ENCANTO
DE UMA BELA E LINDA FADA.

A CIRCULE NO TEXTO TODAS AS
PALAVRAS **MÃE**.

02 LEIA O ALFABETO, REESCREVA AS VOGAIS E DEPOIS AS CONSOANTES:

A → OBSERVE O ALFABETO:



B → REESCREVA SOMENTE AS VOGAIS:

□ □ □ □ □

C → REESCREVA SOMENTE AS CONSOANTES:


□ □ □ □ □ □ □ □
□ □ □ □ □ □ □ □
□ □ □ □ □


03 COMPLETE O QUADRO ABAIXO:


PALAVRAS	LETRA INICIAL	LETRA FINAL	QUANTAS VOGAIS	QUANTAS CONSOANTES
MÃE				
FADA				
CARINHO				


04 JUNTE A LETRA M COM AS VOGAIS PARA FORMAR SÍLABAS, DEPOIS COMPLETE AS PALAVRAS:


M

A =  Ç Ã


E =  I A


I =  L H O

O =  R A N G O

U =  R O

05 ORDENE AS SÍLABAS E FORME PALAVRAS:

 VI O NA

 TE NOI

06 ENCONTRE NO CAÇA-PALAVRAS AS PALAVRAS DESTACADAS
ABAIXO E PINTE-AS:

**“NESTE DIA DA MAMÃE
VAMOS TODOS FESTEJAR
UMA ROSA E UM BEIJO
ALEGRIA VAMOS TE DAR...”**

A	LE	GRI	A	DRA	GUA	PA
CA	FA	BEI	JO	CA	BO	XA
RO	SA	ÇA	GRA	PE	SA	MU
FES	QUE	GA	JU	FES	TE	JAR
JE	LHA	GUA	DI	A	PO	E
AM	MAI	MA	MÃE	MA	MEU	MO



UNIDADE ESCOLAR:

PROFESSORA

DATA

2ª SEMANA MAIO.

NOME:

FASE

CÓDIGO BNCC

MA

MATEMÁTICA

01 COMPLETE A SEQUÊNCIA NUMÉRICA COM OS NÚMEROS QUE ESTÃO FALTANDO DE 1 A 40:

1				5			8		10
		13			16			19	
			24						
31									40

02 CIRCULE OS NÚMEROS QUE O PROFESSOR VAI DITAR:

1	2	3	4	5	6	7	8	9	10
11	12	13	14	15	16	17	18	19	20
21	22	23	24	25	26	27	28	29	30
31	32	33	34	35	36	37	38	39	40

03 ESCREVA O ANTECESSOR E O SUCESSOR DOS NÚMEROS ABAIXO:

	10	
--	----	--

	39	
--	----	--

	35	
--	----	--

	22	
--	----	--


	29	
--	----	--

	17	
--	----	--


	20	
--	----	--

	9	
--	---	--

04 CIRCULE O NUMERAL QUE INDICA A QUANTIDADE DE PONTOS REPRESENTADA PELOS DADOS:




9 | 10 | 6




7 | 9 | 11




12 | 10 | 16



18 | 12 | 13



15 | 13 | 8



9 | 11 | 13



UNIDADE ESCOLAR:

PROFESSORA

DATA

2ª SEMANA MAIO.

NOME:

FASE

CÓDIGO BNCC

LP

LÍNGUA PORTUGUESA

NA LÍNGUA PORTUGUESA HÁ DOIS GÊNEROS: MASCULINO E FEMININO. SERÁ **MASCULINO** O SUBSTANTIVO QUE ADMITIR OS ARTIGOS **O, OS, UM, UNS** E **FEMININO** AQUELE QUE ADMITIR OS ARTIGOS **A, AS, UM, UMAS**.

Hagar



Chris Browne



01

CIRCULE NO TEXTO ACIMA OS SUBSTANTIVOS **FEMININO** E **MASCULINO** QUE ENCONTRAR E ESCREVA-OS ABAIXO.

02 COMPLETE O QUADRO COM OS SUBSTANTIVOS: MASCULINO OU FEMININO.



SUBSTANTIVOS	
MASCULINO	FEMININO
	A VACA
O AVÔ	
	A TIA
O PAI	

03 COMPLETE A SEQUÊNCIA ALFABÉTICA COM AS CONSOANTES QUE ESTÃO FALTANDO:

A				E		
	I					
O						U

04

COMPLETE A CRUZADINHA COM A PALAVRA **MAMÃE**.

			M			
			A			
			M			
			Ã			
			E			

04

OBSERVE A CRUZADINHA DA MAMÃE E RESPONDA:

A

QUAL A LETRA INICIAL? _____

B

QUAL A LETRA FINAL? _____

C

QUANTAS LETRAS TEM A PALAVRA? _____

D

QUANTAS VEZES APARECE A LETRA **M** NA CRUZADINHA? _____

UNIDADE ESCOLAR:

PROFESSORA

DATA
2ª SEMANA MAIO.

NOME:

FASE

CÓDIGO BNCC

MA

MATEMÁTICA

01 NA FEIRINHA DA CIDADE, DONA ZILDA COMPROU 3 BOLOS E PAGOU A QUANTIA ABAIXO.



A QUANTO CUSTOU CADA BOLO?

() R\$10,00 () R\$12,00 () R\$2,00

B QUANTO ELA PAGOU NOS 3 BOLOS?

() R\$20,00 () R\$12,00 () R\$36,00

02 O NETINHO DO SENHOR ROBERTO FEZ ANIVERSÁRIO E GANHOU A QUANTIA ABAIXO DE PRESENTE. QUANTOS REAIS ELE TEM?



() R\$12,00 () R\$10,00 () R\$2,00

03 OBSERVE O FOLHETO DA MERCEARIA BOM PREÇO E RESPONDA:

 ABÓBORA CABOTIA R\$ 2,29 KG	 BETERRABA R\$ 3,59 KG	 MAÇA GALA R\$ 3,49 KG
 CEBOLA R\$ 3,99 KG	 CHUCHU R\$ 1,59 KG	 LARANJA PERA R\$ 1,49 KG
 MAMÃO FORMOSA R\$ 3,79 KG	 MEXERICA PONKAN R\$ 1,79 KG	 REPOLHO VERDE R\$ 1,59 KG
 TOMATE GRANDE R\$ 3,59 KG	 PIMENTÃO VERDE R\$ 3,49 KG	 RÚCULA R\$ 1,89 MAÇO

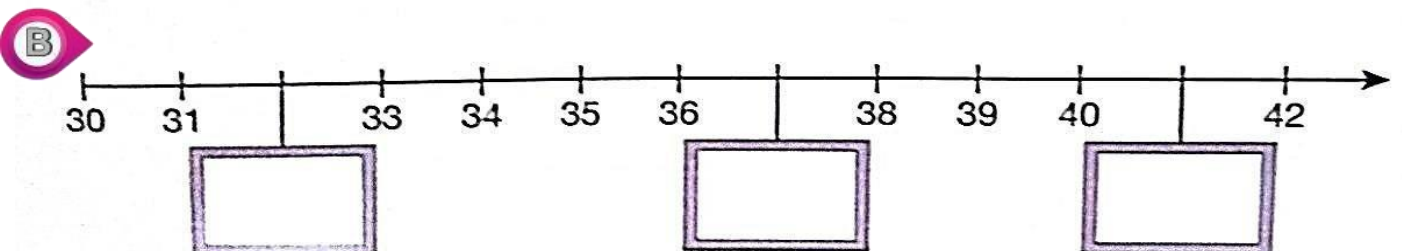
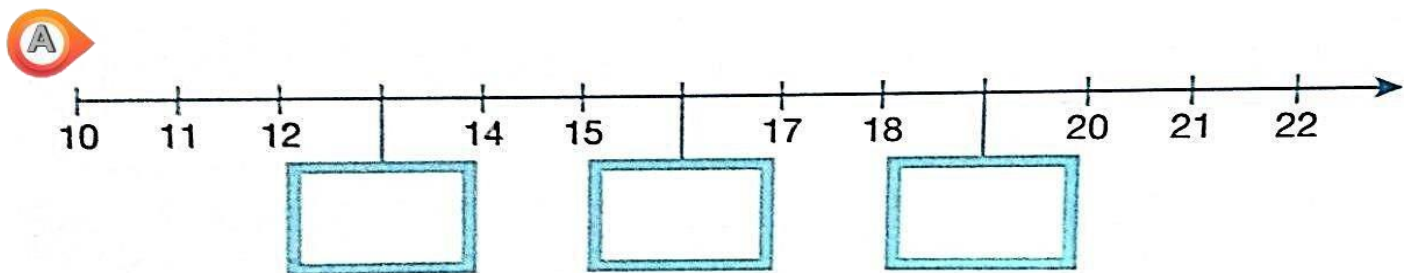
A QUAL ALIMENTO TEM O PREÇO MAIS CARO?

() CEBOLA () PIMENTÃO () REPOLHO

B QUAL ALIMENTO TEM O PREÇO MAIS BARATO?

() TOMATE () CHUCHU () BETERRABA

04 ANA DESENHOU PARTES DE RETAS NUMÉRICAS E DEIXOU DE MARCAR ALGUNS NÚMEROS. COMPLETE CADA UMA COM OS NÚMEROS QUE ESTÃO FALTANDO:



A SUBTRAÇÃO É A OPERAÇÃO INVERSA DA ADIÇÃO
E
A ADIÇÃO É A OPERAÇÃO INVERSA DA SUBTRAÇÃO.

05 FAÇA A OPERAÇÃO INVERSA E ENCONTRE A PARCELA QUE FALTA:

$9 + \square = 11$	$2 + \square = 9$
$4 + \square = 12$	$5 + \square = 10$
$6 + \square = 11$	$2 + \square = 12$
$3 + \square = 10$	$5 + \square = 11$
$3 + \square = 9$	$7 + \square = 9$
$4 + \square = 8$	$2 + \square = 10$
$2 + \square = 11$	$4 + \square = 10$
$9 + \square = 12$	$8 + \square = 12$
$1 + \square = 6$	$0 + \square = 7$
$0 + \square = 6$	$1 + \square = 4$



UNIDADE ESCOLAR:

PROFESSORA

DATA
2ª SEMANA MAIO.

NOME:

FASE

CÓDIGO BNCC



01

ENCONTRE NO DIAGRAMA OS SUBSTANTIVOS MASCULINOS E FEMININOS.

**PATO OVELHA CAVALO
MENINA CARNEIRO PATA
ÉGUA MENINO**

O	VE	LHA	LA	ÇU
VA	LO	CA	VA	LO
NE	PA	ME	NI	NA
CA	PA	TO	SA	NHO
ME	NI	NO	JO	GUE
KA	CAR	NEI	RO	LO
PA	TA	DE	VU	QUA
TO	ZU	XU	É	GUA

02

COMPLETE COM A LETRA INICIAL E ESCREVA A PALAVRA:



ALA



OTA



HAPÉU



ELÓGIO



ONÉ

03


DÊ O FEMININO:




GALO




04 CIRCULE AS SÍLABAS QUE FORMAM O NOME DO DESENHO E ESCREVA-OS ABAIXO:



MA BE LO
BO CO TO



















BI TO MU
VI KO CO



RO SI DE
JE BO DO

05 COMPLETE COM AS LETRAS DO ALFABETO QUE VÊM ANTES E DEPOIS:

 <input type="text"/> B	 <input type="text"/> F	 <input type="text"/> I	 <input type="text"/> M	 A <input type="text"/>	 D <input type="text"/>	 G <input type="text"/>	 J <input type="text"/>
 <input type="text"/> P	 <input type="text"/> T	 <input type="text"/> V	 <input type="text"/> Z	 N <input type="text"/>	 Q <input type="text"/>	 U <input type="text"/>	 X <input type="text"/>