

PREFEITURA MUNICIPAL DE BOM JESUS DO ITABAPOANA-RJ
SECRETARIA MUNICIPAL DE EDUCAÇÃO, ESPORTE E LAZER

Atividades Orientadoras



Educação de Jovens e Adultos

FASE III

UNIDADE ESCOLAR:

PROFESSORA

DATA

NOME:

FASE

CÓDIGO BNCC



1º de maio

DIA DO TRABALHADOR

A você que, com o suor do seu trabalho, luta e contribui diariamente para o desenvolvimento de um mundo melhor.

Parabéns trabalhador pelo seu trabalho, esforço e dedicação!



Atividade

01 De acordo com cada profissão, complete as frases observando os desenhos:

A _____ é do pedreiro.



O jardineiro utiliza-se da _____ para cortar a grama.



O _____ é um amigo inseparável do professor.



Jogar _____ tornou-se a paixão nacional.



E O que seria do repórter sem o seu _____.



F O fotógrafo e sua _____ formam uma bela dupla.



02 Leia a poesia abaixo:

Ainda não sei

Ainda não sei,
O que vou ser.
Padeiro ou professor
Quando crescer...

Ainda não sei
O que vou escolher
Profissões variadas
Qual delas vou merecer...



A Quais as profissões que aparecem na poesia?

B Você conhece alguém que tem essas profissões? Cite o nome dessas pessoas.

03 Marque somente o que o açougueiro vende.

O açougueiro vende carne,
Vende frango e vende peixe
Açougueiro só não vende
Picolé, bolo e sorvete.



04 Numere corretamente as profissões aos objetos que têm a ver com seu trabalho:

1	2	3	4
professor	costureira	sorveteiro	cantor
<input type="radio"/> GELO		<input type="radio"/> SABOR	<input type="radio"/> LINHA
<input type="radio"/> CADERNO	<input type="radio"/> MICROFONE	<input type="radio"/> MÚSICA	<input type="radio"/> ALUNO
<input type="radio"/> TECIDO		<input type="radio"/> ROUPA	<input type="radio"/> ESCOLA
<input type="radio"/> CANETA		<input type="radio"/> SORVETE	<input type="radio"/> CANÇÃO
<input type="radio"/> MODELO	<input type="radio"/> REFRESCO	<input type="radio"/> TESOURA	<input type="radio"/> QUADRO
<input type="radio"/> GIZ		<input type="radio"/> MELODIA	
<input type="radio"/> REFRESCO		<input type="radio"/> MOLDE	

05 Encontre as profissões no caça-palavras.


C	A	N	T	O	R	J	M	P	G
K	V	E	L	P	I	N	T	O	R
O	O	P	A	R	I	J	C	N	C
Y	M	E	C	A	N	I	C	O	O
B	O	L	T	F	V	Y	N	O	D
N	O	K	F	E	P	L	I	R	E
T	E	C	P	A	D	E	I	R	O
P	C	D	L	S	T	F	O	A	H
P	R	O	F	E	S	S	O	R	P
G	M	Y	O	P	B	D	J	R	L
J	A	R	D	I	N	E	I	R	O


CANTOR
 MECÂNICO
 PADEIRO
 PROFESSOR
 JARDINEIRO
 PINTOR




Singular e plural


SINGULAR
INDICA SÓ UM ELEMENTO.


 BOI


 MAÇÃ

 PÁSSARO

PLURAL
INDICA MAIS DE UM ELEMENTO.

 BOIS

 MAÇÃS

 PÁSSAROS

Atividade

01 Passe as palavras abaixo para o plural.

- A Balão
- B Pão
- C Amor
- D Moeda
- E Chave
- F Garfo
- G Gato
- H Armário



02 Encontre o plural das palavras acima no caça-palavras.

Q	F	G	A	T	O	S	M	L	C
G	A	R	F	O	S	Ç	G	A	H
W	Z	M	O	E	D	A	S	X	V
P	Ã	E	S	D	B	J	I	O	E
S	A	M	O	R	E	S	H	M	S
Z	E	B	A	L	Õ	E	S	F	N
A	R	M	Á	R	I	O	S	K	T

03 Forme o plural, acrescentando **s** no final da palavra.

A bicho

G coelho

B vaca

H bilhete

C planta

I mãe

D uva

J jabuti

E boneca

K baú

F troféu

L degrau

04 Forme o plural, acrescentando **es** no final da palavra.

A capuz

E pintor

B luz

F cantor

C rapaz

G mar

D cruz

H dor

05 Forme o plural, acrescentando **es** no final da palavra.

No plural, estas palavras não têm acento.

A japonês

E norueguês

B francês

F chinês

C português

G inglês

D irlandês

H finlandês

06 Forme o plural, substituindo:

-ão por -ães

A Alemão

G caminhão

B cão

H canhão

C capitão

I limão

D pão

J fogão

E tabelião

K coração

F escrivão

L canção

-ão por -ões



UNIDADE ESCOLAR:

PROFESSORA

DATA

NOME:

FASE

CÓDIGO BNCC

MA **MATEMÁTICA**

MAIO 2023						
D	S	T	Q	Q	S	S
	1	2	3	4	5	6
7	8	9	10	11	12	13
14	15	16	17	18	19	20
21	22	23	24	25	26	27
28	29	30	31	01. Dia do Trabalho 14. Dia das Mães		
05 CHEIA	12 MING	19 NOVA	27 CRESC			



Atividade

01 Observe o calendário e responda as questões a seguir.

A De que mês é este calendário? _____

B De que ano é este calendário? _____

C Quais os dias da semana?

04 Resolva as multiplicações:

$$\begin{array}{r} 72 \\ \times 2 \\ \hline \end{array}$$

$$\begin{array}{r} 63 \\ \times 2 \\ \hline \end{array}$$

$$\begin{array}{r} 54 \\ \times 2 \\ \hline \end{array}$$

$$\begin{array}{r} 94 \\ \times 2 \\ \hline \end{array}$$

$$\begin{array}{r} 83 \\ \times 2 \\ \hline \end{array}$$

$$\begin{array}{r} 92 \\ \times 3 \\ \hline \end{array}$$

$$\begin{array}{r} 73 \\ \times 3 \\ \hline \end{array}$$

$$\begin{array}{r} 41 \\ \times 2 \\ \hline \end{array}$$

$$\begin{array}{r} 52 \\ \times 3 \\ \hline \end{array}$$

$$\begin{array}{r} 83 \\ \times 3 \\ \hline \end{array}$$

$$\begin{array}{r} 71 \\ \times 4 \\ \hline \end{array}$$

$$\begin{array}{r} 92 \\ \times 4 \\ \hline \end{array}$$

$$\begin{array}{r} 52 \\ \times 4 \\ \hline \end{array}$$

$$\begin{array}{r} 81 \\ \times 4 \\ \hline \end{array}$$

$$\begin{array}{r} 42 \\ \times 4 \\ \hline \end{array}$$

$$\begin{array}{r} 72 \\ \times 3 \\ \hline \end{array}$$

$$\begin{array}{r} 23 \\ \times 3 \\ \hline \end{array}$$

$$\begin{array}{r} 61 \\ \times 3 \\ \hline \end{array}$$

$$\begin{array}{r} 62 \\ \times 4 \\ \hline \end{array}$$

$$\begin{array}{r} 22 \\ \times 4 \\ \hline \end{array}$$

05 Resolva as adições abaixo:

A

$$\begin{array}{r} C D U \\ 126 \\ + 126 \\ \hline \end{array}$$

B

$$\begin{array}{r} C D U \\ 228 \\ + 29 \\ \hline \end{array}$$

C

$$\begin{array}{r} C D U \\ 354 \\ + 187 \\ \hline \end{array}$$

D

$$\begin{array}{r} C D U \\ 339 \\ + 161 \\ \hline \end{array}$$

E

$$\begin{array}{r} C D U \\ 190 \\ + 112 \\ \hline \end{array}$$

F

$$\begin{array}{r} C D U \\ 481 \\ + 238 \\ \hline \end{array}$$

G

$$\begin{array}{r} C D U \\ 555 \\ + 217 \\ \hline \end{array}$$

H

$$\begin{array}{r} C D U \\ 510 \\ + 193 \\ \hline \end{array}$$



PORTAL SEMEEL

A mudança está em nossas mãos



PREFEITURA MUNICIPAL
BOM JESUS
DO ITABAPOANA

SECRETARIA MUNICIPAL
DE EDUCAÇÃO, ESPORTE E LAZER

UNIDADE ESCOLAR:

PROFESSORA

DATA

NOME:

FASE

CÓDIGO BNCC

HI

HISTÓRIA

O campo e a cidade



Trabalho no campo – Cultivar a terra e criar animais são atividades que predominam no campo.



A agricultura é a atividade de cultivo da terra.



A pecuária é a atividade de criação e reprodução de animais.

Por meio dessas atividades é possível obter alimentos para o consumo das pessoas e, também, matérias-primas para as fábricas. Uma das principais mudanças observadas no campo brasileiro foi a modernização da produção que contribuiu para modificar as paisagens, o trabalho e a vida no campo. Muitos aspectos fazem parte dessa modernização, como:

A utilização de fertilizantes químicos para desenvolver produtos grandes, bonitos e em grandes quantidades;

Uso de agrotóxicos para combater as pragas que atacam as plantações;

Trabalho de profissionais especializados, como engenheiros, técnicos em informática e biólogos;

Utilização de máquinas agrícolas, que possibilitam um grande aumento da produção.



Na cidade as atividades econômicas desenvolvidas são o comércio, a indústria e a prestação de serviços



No comércio, as pessoas trabalham comprando e vendendo mercadorias aos clientes, em lojas, supermercados, açougues, padarias e outros.



Na indústria, as pessoas trabalham fabricando os produtos



Já na prestação de serviços, as pessoas prestam serviços a outras pessoas. São prestadoras de serviço professores, médicos, enfermeiros, auxiliar de serviços gerais, engenheiros e outros.

Atividade

01 Responda as questões referente à sua cidade.

A O nome do seu município _____

B Onde fica situado o seu município? _____

C Qual o rio que passa pelo seu município _____

02 Quais atividades de trabalho são desenvolvidas no campo?

03 Qual a importância do trabalho no campo?

04 Escreva duas vantagens do uso da modernização e tecnologia no campo:

05 Escreva duas desvantagens do uso da modernização e tecnologia no campo:

06 Como é chamada a atividade prestada para uma pessoa ou empresa sem que haja a produção de mercadorias ou de bens materiais?

serviço indústria comércio

07 Como é chamada a atividade que consiste na compra e venda de mercadorias?

serviço indústria comércio

08 Observe os profissionais, escreva o nome de sua profissão e se é mais fácil encontrar no campo ou na cidade.





UNIDADE ESCOLAR:

PROFESSORA

DATA

NOME:

FASE

CÓDIGO BNCC



GEOGRAFIA

Tipos de trabalho

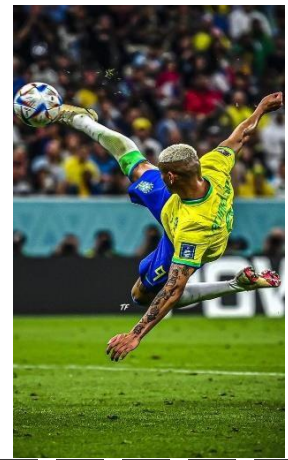
O trabalho é muito bom
engrandece o cidadão,
amando o que faço
não importa a profissão!



Atividade

01 Você conhece as profissões representadas na imagem? Escreva o nome delas.





02 Quem usa esses instrumentos? Escreva o nome dos profissionais.



03 Complete colocando as ações na forma correta:

A O pedreiro _____ casas.

(construir)

B O médico _____ vidas.

(salvar)

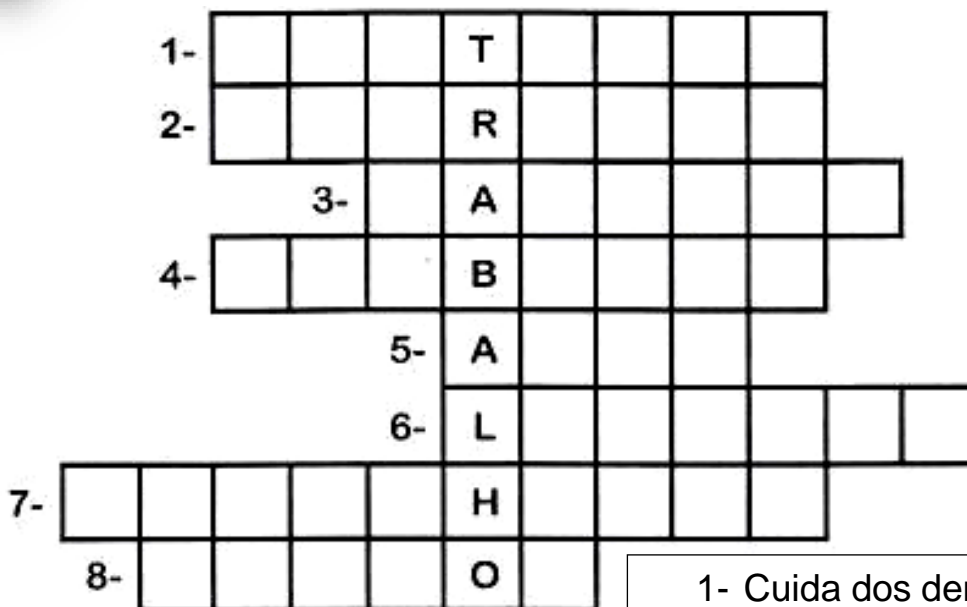
04

Localize as profissões no diagrama, usando o banco de palavras.

padeiro-pedreiro-gari-pescador-eletricista
lavrador-carteiro-bombeiro-feirante-policia

R	B	O	M	B	E	I	R	O	V	L	W	A
C	P	A	D	E	I	R	O	B	C	A	K	F
P	E	S	C	A	D	O	R	S	T	V	T	E
T	Y	L	K	P	E	D	R	E	I	R	O	I
W	P	O	L	I	C	I	A	L	A	A	B	R
X	W	G	A	R	I	E	B	U	E	D	R	A
S	E	Q	C	A	R	T	E	I	R	O	S	N
R	X	Y	U	O	W	K	M	N	D	R	A	T
E	L	E	T	R	I	C	I	S	T	A	X	E

05 Preencha a cruzadinha com profissionais, observando as dicas abaixo:



CONQUISTA
RESPEITO
DEDICAÇÃO
RESPONSABILIDADE
DIGNIDADE
LUTAS
ORGULHO
COMPROMISSO

1º de Maio
Dia do Trabalhador

- 1- Cuida dos dentes.
- 2- Constrói casas.
- 3- Faz pães.
- 4- Apaga incêndios.
- 5- Trabalha em teatros, filmes...
- 6- Recolhe lixo em frente às casas.
- 7- Faz desenhos.
- 8- Pinta quadros, paredes.