

**PREFEITURA MUNICIPAL DE BOM JESUS DO ITABAPOANA-RJ**  
**SECRETARIA MUNICIPAL DE EDUCAÇÃO, ESPORTE E LAZER**

# **Atividades Orientadoras**



## **Educação de Jovens e Adultos**

### **FASE V**



UNIDADE ESCOLAR:

PROFESSORA

DATA

NOME:

FASE

CÓDIGO BNCC



1º de maio

## DIA DO TRABALHADOR

A você que, com o suor do seu trabalho, luta e contribui diariamente para o desenvolvimento de um mundo melhor.

Parabéns trabalhador pelo seu trabalho, esforço e dedicação!



### Atividade

01 De acordo com cada profissão, complete as frases observando os desenhos:

A \_\_\_\_\_ é do pedreiro.



O jardineiro utiliza-se da \_\_\_\_\_ para cortar a grama.



O \_\_\_\_\_ é um amigo inseparável do professor.



Jogar \_\_\_\_\_ tornou-se a paixão nacional.



**E** O que seria do repórter sem o seu \_\_\_\_\_.



**F** O fotógrafo e sua \_\_\_\_\_ formam uma bela dupla.



**02** Leia a poesia abaixo:

### Ainda não sei

Ainda não sei,  
O que vou ser.  
Padeiro ou professor  
Quando crescer...

Ainda não sei  
O que vou escolher  
Profissões variadas  
Qual delas vou merecer...



**A** Quais as profissões que aparecem na poesia?

\_\_\_\_\_

**B** Você conhece alguém que tem essas profissões? Cite o nome dessas pessoas.

\_\_\_\_\_

**03** Marque somente o que o açougueiro vende.

O açougueiro vende carne,  
Vende frango e vende peixe  
Açougueiro só não vende  
Picolé, bolo e sorvete.



04 Numere corretamente as profissões aos objetos que têm a ver com seu trabalho:

1	2	3	4
professor	costureira	sorveteiro	cantor

GELO

CADERNO

TECIDO

MICROFONE

CANETA


MODELO

GIZ

REFRESCO

MELODIA

MOLDE



SABOR

LINHA

MÚSICA

ALUNO

ROUPA

ESCOLA

SORVETE

CANÇÃO

TESOURA

QUADRO

05 Encontre as profissões no caça-palavras.

C	A	N	T	O	R	J	M	P	G
K	V	E	L	P	I	N	T	O	R
O	O	P	A	R	I	J	C	N	C
Y	M	E	C	A	N	I	C	O	O
B	O	L	T	F	V	Y	N	O	D
N	O	K	F	E	P	L	I	R	E
T	E	C	P	A	D	E	I	R	O
P	C	D	L	S	T	F	O	A	H
P	R	O	F	E	S	S	O	R	P
G	M	Y	O	P	B	D	J	R	L
J	A	R	D	I	N	E	I	R	O

CANTOR  
MECÂNICO  
PADEIRO  
PROFESSOR  
JARDINEIRO  
PINTOR



# Singular e plural



BOI



MAÇÃ



PÁSSARO

SINGULAR  
INDICA SÓ  
UM  
ELEMENTO.



BOIS



MAÇÃS



PÁSSAROS

PLURAL  
INDICA MAIS  
DE UM  
ELEMENTO.



## Atividade

01 Passe as palavras abaixo para o plural.

- A Balão
- B Pão
- C Amor
- D Moeda
- E Chave
- F Garfo
- G Gato
- H Armário



02 Encontre o plural das palavras acima no caça-palavras.

Q	F	G	A	T	O	S	M	L	C
G	A	R	F	O	S	Ç	G	A	H
W	Z	M	O	E	D	A	S	X	V
P	Ã	E	S	D	B	J	I	O	E
S	A	M	O	R	E	S	H	M	S
Z	E	B	A	L	Õ	E	S	F	N
A	R	M	Á	R	I	O	S	K	T

03 Forme o plural, acrescentando **s** no final da palavra.

A bicho

B vaca

C planta

D uva

E boneca

F troféu

G coelho

H bilhete

I mãe

J jabuti

K baú

L degrau

04 Forme o plural, acrescentando **es** no final da palavra.

A capuz

B luz

C rapaz

D cruz

E pintor

F cantor

G mar

H dor

05 Forme o plural, acrescentando **es** no final da palavra.

No plural, estas palavras não têm acento.

A japonês

B francês

C português

D irlandês

E norueguês

F chinês

G inglês

H finlandês

06 Forme o plural, substituindo:

-ão por -ães

A Alemão

B cão

C capitão

D pão

E tabelião

F escrivão

-ão por -ões

G caminhão

H canhão

I limão

J fogão

K coração

L canção



UNIDADE ESCOLAR:

PROFESSORA

DATA

NOME:

FASE

CÓDIGO BNCC

**MA** **MATEMÁTICA**



**Atividade**

01 Observe o calendário e responda as questões a seguir.

A De que mês é este calendário? \_\_\_\_\_

B De que ano é este calendário? \_\_\_\_\_

C Quais os dias da semana?

\_\_\_\_\_

\_\_\_\_\_





04 Calcule as operações abaixo:

$$\begin{array}{r} 835 \\ +134 \\ \hline \end{array}$$

$$\begin{array}{r} 509 \\ +501 \\ \hline \end{array}$$

$$\begin{array}{r} 612 \\ +348 \\ \hline \end{array}$$

$$\begin{array}{r} 307 \\ +238 \\ \hline \end{array}$$

7. Calcule as subtrações:

$$\begin{array}{r} 648 \\ -392 \\ \hline \end{array}$$

$$\begin{array}{r} 467 \\ -394 \\ \hline \end{array}$$

$$\begin{array}{r} 253 \\ -148 \\ \hline \end{array}$$

$$\begin{array}{r} 834 \\ -487 \\ \hline \end{array}$$

8. Resolva as multiplicações:

$$\begin{array}{r} 32 \\ \times 3 \\ \hline \end{array}$$

$$\begin{array}{r} 51 \\ \times 2 \\ \hline \end{array}$$

$$\begin{array}{r} 40 \\ \times 4 \\ \hline \end{array}$$

$$\begin{array}{r} 24 \\ \times 3 \\ \hline \end{array}$$

$$\begin{array}{r} 64 \\ \times 2 \\ \hline \end{array}$$

05 Resolva:

centena	dezena	unidade	
1	0	5	105      cento e cinco
			2
			50
			14
			26
			127
			9
			10
			1

06 Escreva por extenso:

A R\$ 1,00: \_\_\_\_\_

B R\$0,30: \_\_\_\_\_

C R\$5,00: \_\_\_\_\_

D R\$0,08: \_\_\_\_\_

E 108: \_\_\_\_\_

F 13: \_\_\_\_\_

a)  $35\,200 - 16\,827 =$  \_\_\_\_\_

b)  $6\,487 - 3\,942 =$  \_\_\_\_\_

c)  $12\,000 - 2\,865 =$  \_\_\_\_\_

d)  $4\,080 - 1\,058 =$  \_\_\_\_\_

e)  $4\,778 + 839 =$  \_\_\_\_\_

f)  $8\,654 + 1\,255 =$  \_\_\_\_\_

g)  $5\,853 + 4\,899 =$  \_\_\_\_\_

h)  $17\,029 + 6\,562 =$  \_\_\_\_\_

Cálculo	Prova real	cálculo	Prova real
Cálculo	Prova real	cálculo	Prova real
Cálculo	Prova real	cálculo	Prova real
Cálculo	Prova real	cálculo	Prova real



UNIDADE ESCOLAR:

PROFESSORA

DATA

NOME:

FASE

CÓDIGO BNCC

**HI**

**HISTÓRIA**

## O campo e a cidade



Trabalho no campo – Cultivar a terra e criar animais são atividades que predominam no campo.



A agricultura é a atividade de cultivo da terra.



A pecuária é a atividade de criação e reprodução de animais.

Por meio dessas atividades é possível obter alimentos para o consumo das pessoas e, também, matérias-primas para as fábricas. Uma das principais mudanças observadas no campo brasileiro foi a modernização da produção que contribuiu para modificar as paisagens, o trabalho e a vida no campo. Muitos aspectos fazem parte dessa modernização, como:

A utilização de fertilizantes químicos para desenvolver produtos grandes, bonitos e em grandes quantidades;

Uso de agrotóxicos para combater as pragas que atacam as plantações;

Trabalho de profissionais especializados, como engenheiros, técnicos em informática e biólogos;

Utilização de máquinas agrícolas, que possibilitam um grande aumento da produção.



Na cidade as atividades econômicas desenvolvidas são o comércio, a indústria e a prestação de serviços.



No comércio, as pessoas trabalham comprando e vendendo mercadorias aos clientes, em lojas, supermercados, açougues, padarias e outros.



Na indústria, as pessoas trabalham fabricando os produtos.



Já na prestação de serviços, as pessoas prestam serviços a outras pessoas. São prestadoras de serviço professores, médicos, enfermeiros, auxiliar de serviços gerais, engenheiros e outros.

## Atividade

01 Responda as questões referente à sua cidade.

A O nome do seu município \_\_\_\_\_

B Onde fica situado o seu município? \_\_\_\_\_

C Qual o rio que passa pelo seu município? \_\_\_\_\_

02 Quais atividades de trabalho são desenvolvidas no campo?

---

---

03 Qual a importância do trabalho no campo?

---

---

04 Escreva duas vantagens do uso da modernização e tecnologia no campo:

---

---

05 Escreva duas desvantagens do uso da modernização e tecnologia no campo:

---

---

06 Como é chamada a atividade prestada para uma pessoa ou empresa sem que haja a produção de mercadorias ou de bens materiais?

serviço                       indústria                       comércio

07 Como é chamada a atividade que consiste na compra e venda de mercadorias?

serviço                       indústria                       comércio

08 Observe os profissionais, escreva o nome de sua profissão e se é mais fácil encontrar no campo ou na cidade.





UNIDADE ESCOLAR:

PROFESSORA

DATA

NOME:

FASE

CÓDIGO BNCC



## GEOGRAFIA

# Tipos de trabalho

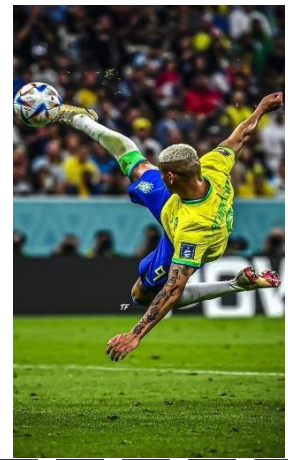
O trabalho é muito bom  
engrandece o cidadão,  
amando o que faço  
não importa a profissão!



## Atividade

**01** Você conhece as profissões representadas na imagem? Escreva o nome delas.





02 Quem usa esses instrumentos? Escreva o nome dos profissionais.



03 Complete colocando as ações na forma correta:

A O pedreiro \_\_\_\_\_ casas.

( construir )

B O médico \_\_\_\_\_ vidas.

( salvar )

04

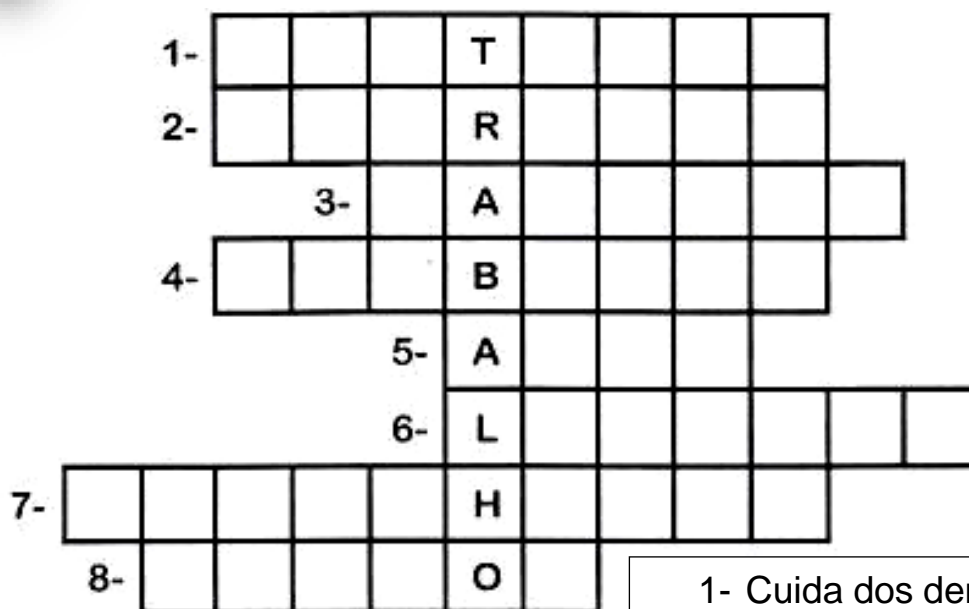
Localize as profissões no diagrama, usando o banco de palavras.

padeiro-pedreiro-gari-pescador-eletricista  
lavrador-carteiro-bombeiro-feirante-policia

R	B	O	M	B	E	I	R	O	V	L	W	A
C	P	A	D	E	I	R	O	B	C	A	K	F
P	E	S	C	A	D	O	R	S	T	V	T	E
T	Y	L	K	P	E	D	R	E	I	R	O	I
W	P	O	L	I	C	I	A	L	A	A	B	R
X	W	G	A	R	I	E	B	U	E	D	R	A
S	E	Q	C	A	R	T	E	I	R	O	S	N
R	X	Y	U	O	W	K	M	N	D	R	A	T
E	L	E	T	R	I	C	I	S	T	A	X	E

05

Preencha a cruzadinha com profissionais, observando as dicas abaixo:



**CONQUISTA**  
**RESPEITO**  
**DEDICAÇÃO**  
**RESPONSABILIDADE**  
**DIGNIDADE**  
**LUTAS**  
**ORGULHO**  
**COMPROMISSO**

1º de Maio  
Dia do Trabalhador

- 1- Cuida dos dentes.
- 2- Constrói casas.
- 3- Faz pães.
- 4- Apaga incêndios.
- 5- Trabalha em teatros, filmes...
- 6- Recolhe lixo em frente às casas.
- 7- Faz desenhos.
- 8- Pinta quadros, paredes.