

PREFEITURA MUNICIPAL DE BOM JESUS DO ITABAPOANA-RJ  
SECRETARIA MUNICIPAL DE EDUCAÇÃO, ESPORTE E LAZER

**SEMEEL**

*A mudança está em nossas mãos*

# Atividades Orientadoras



**1º ano**

# Ensino Fundamental

UNIDADE ESCOLAR:

PROFESSOR(A)

ANO DE ESCOLARIDADE  
1º ANO

DATA  
18ª SEMANA (05 a 07/06)

NOME:

HOJE É?

SEGUNDA

TERÇA

QUARTA

QUINTA

SEXTA

CÓDIGO BNCC

EF01LP16/EF01LP03/EF01LP02/EF01LP06

## LÍNGUA PORTUGUESA



# LINGUAGEM E LEITURA

**PARLENDAS** SÃO PEQUENOS VERSOS COM OU SEM RIMA, IMPORTANTES PARA ENTRETER E AGUÇAR A IMAGINAÇÃO DAS CRIANÇAS.

1. COMPARTILHE COM A PROFESSORA A LEITURA DA PARLENDA ABAIXO:

### PARLENDA



CORRE CUTIA  
NA CASA DA TIA  
CORRE CIPÓ  
NA CASA DA VÓ  
LENCINHO NA MÃO  
CAIU NO CHÃO  
MOÇA BONITA  
DO MEU CORAÇÃO.



2. COMPLETE COM AS PALAVRAS QUE RIMAM NO TEXTO:

CORRE \_\_\_\_\_

NA CASA DA \_\_\_\_\_


CORRE \_\_\_\_\_

NA CASA DA \_\_\_\_\_


LENCINHO NA \_\_\_\_\_

CAIU NO \_\_\_\_\_

MOÇA BONITA DO MEU \_\_\_\_\_.



3. OBSERVE A IMAGEM E RESPONDA:




A) QUAL É O NOME DA BRINCADEIRA? \_\_\_\_\_.

B) COMO AS CRIANÇAS ESTÃO POSICIONADAS PARA A BRINCADEIRA? \_\_\_\_\_.

C) IDENTIFIQUE E ESCREVA O NOME DE ALGUNS PERSONAGENS QUE ESTÃO NA BRINCADEIRA: \_\_\_\_\_.

4. PINTE AS BOLINHAS DE ACORDO COM O NÚMERO DE PALAVRAS EM CADA FRASE:

FRASE	Nº DE PALAVRAS
CORRE CUTIA, NA CASA DA TIA. ○ ○ ○ ○ ○ ○	
MOÇA BONITA DO MEU CORAÇÃO. ○ ○ ○ ○ ○ ○	
NA CASA DA VÓ. ○ ○ ○ ○ ○ ○	
CORRE CUTIA. ○ ○ ○ ○ ○ ○	



5. COPIE CORRETAMENTE O TRECHO DA PARLENDIA E OBEDEÇA O ESPAÇO ENTRE AS PALAVRAS:

LENCINHO NA MÃO  
CAIU NO CHÃO,  
MOÇA BONITA  
DO MEU CORAÇÃO.

1. \_\_\_\_\_

2. \_\_\_\_\_

3. \_\_\_\_\_

4. \_\_\_\_\_



UNIDADE ESCOLAR:

PROFESSOR(A)

ANO DE ESCOLARIDADE  
1º ANO

DATA  
18ª SEMANA (05 a 07/06)

NOME:

HOJE É?

SEGUNDA

TERÇA

QUARTA

QUINTA

SEXTA

CÓDIGO BNCC

EF01MA01/EF01MA02/EF01MA06

## MATEMÁTICA



1. FAÇA A LEITURA COMPARTILHADA COM A PROFESSORA E CIRCULE OS NOMES DOS NÚMEROS:

UM, DOIS,

FEIJÃO COM ARROZ.

TRÊS, QUATRO,

FEIJÃO NO PRATO.

CINCO, SEIS,

BOLO INGLÊS.

SETE, OITO,

COMER BISCOITO.

NOVE, DEZ,

COMER PASTÉIS.



2. INDIQUE ESSES NÚMEROS NAS ORDENS:

D) CRESCENTE: \_\_\_\_\_.

E) DECRESCENTE: \_\_\_\_\_.

3. COMPLETE A SEQUÊNCIA NUMÉRICA:

0 ZERO	0					
10 DEZ	10					
20 VINTE	20					
30 TRINTA	30					
40 QUARENTA	40					

4. ESCREVA OS NÚMEROS POR EXTENSO:

40. \_\_\_\_\_.

41. \_\_\_\_\_.

42. \_\_\_\_\_.

43. \_\_\_\_\_.

44. \_\_\_\_\_.

45. \_\_\_\_\_.

46. \_\_\_\_\_.







47. \_\_\_\_\_.

48. \_\_\_\_\_.


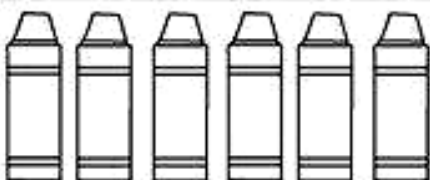
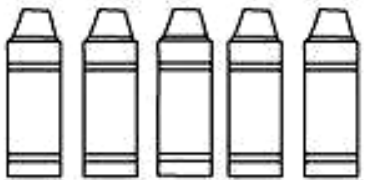
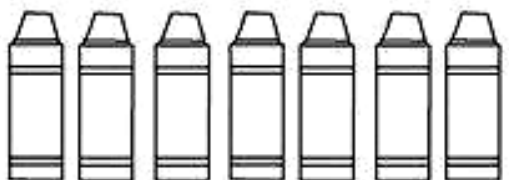


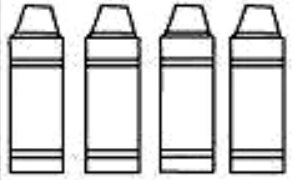

49. \_\_\_\_\_.



5. PINTE O ÁBACO DE ACORDO COM A QUANTIDADE INDICADA:

					
4 3	4 8	4 4	4 1	4 6	4 5

6. CALCULE AS SUBTRAÇÕES:

 $3 - 1 = \boxed{2}$	 $6 - 3 = \boxed{\phantom{00}}$
 $5 - 2 = \boxed{\phantom{00}}$	 $7 - 5 = \boxed{\phantom{00}}$
 $8 - 4 = \boxed{\phantom{00}}$	 $8 - 1 = \boxed{\phantom{00}}$
 $4 - 3 = \boxed{\phantom{00}}$	 $9 - 6 = \boxed{\phantom{00}}$

UNIDADE ESCOLAR:

PROFESSOR(A)

ANO DE ESCOLARIDADE  
1º ANO

DATA  
18ª SEMANA (05 a 07/06)

NOME:

HOJE É?

SEGUNDA

TERÇA

QUARTA

QUINTA

SEXTA

CÓDIGO BNCC

EF01LP16/EF01LP03/EF01LP02/EF01LP06

## LÍNGUA PORTUGUESA



### LINGUAGEM E LEITURA

1. LEIA A PARLENDAS COM A AJUDA DA PROFESSORA:



A CASINHA DA VOVÓ  
CERCADINHA DE CIPÓ.  
O CAFÉ ESTÁ DEMORANDO  
COM CERTEZA NÃO TEM PÓ.



2. OBSERVE A LEGENDA E TRANSCREVA DA PARLENDAS PALAVRAS QUE TENHAM A ESTRUTURA PEDIDA:

**V** = VOGAL

**C** = CONSOANTE

C + V + C + V = \_\_\_\_\_.

C + V + C + V = \_\_\_\_\_.

C + V + V = \_\_\_\_\_.

C + V = \_\_\_\_\_.

C + V + C = \_\_\_\_\_.

V + C + C + V = \_\_\_\_\_.

V = \_\_\_\_\_.

C + V + C = \_\_\_\_\_.



3. COMPLETE A PARLENDA COM AS PALAVRAS QUE RIMAM NO TEXTO:

A CASINHA DA \_\_\_\_\_  
CERCADINHA DE \_\_\_\_\_  
O CAFÉ ESTÁ DEMORANDO  
COM CERTEZA NÃO TEM \_\_\_\_\_.



4. COPIE CORRETAMENTE O TRECHO DA PARLENDA, OBEDECENDO OS ESPAÇOS ENTRE AS PALAVRAS:




A CASINHA DA VOVÓ  
CERCADINHA DE CIPÓ  
O CAFÉ ESTÁ DEMORANDO  
COM CERTEZA NÃO TEM PÓ.

1. \_\_\_\_\_
2. \_\_\_\_\_
3. \_\_\_\_\_
4. \_\_\_\_\_


5. RECORTE, MONTE E COLE AS SÍLABAS QUE COMPLETAM CORRETAMENTE O NOME DAS FIGURAS:



LE




TA




GA



FO



SA



CA

PO

ÃO

TU

TO

UNIDADE ESCOLAR:

PROFESSOR(A)

ANO DE ESCOLARIDADE

DATA

NOME:

HOJE É?









SEGUNDA  TERÇA  QUARTA  QUINTA  SEXTA

CÓDIGO BNCC













## MATEMÁTICA



1. RESOLVA AS SUBTRAÇÕES:

 $3 - 1 = \boxed{2}$	 $2 - 1 = \boxed{\phantom{0}}$
 $3 - 2 = \boxed{\phantom{0}}$	 $5 - 2 = \boxed{\phantom{0}}$
 $4 - 2 = \boxed{\phantom{0}}$	 $5 - 3 = \boxed{\phantom{0}}$
 $6 - 3 = \boxed{\phantom{0}}$	 $6 - 5 = \boxed{\phantom{0}}$

2. RESOLVA AS SOMAS:

	+		=	<input style="width: 40px; height: 30px;" type="text"/>	+	<input style="width: 40px; height: 30px;" type="text"/>	=	<input style="width: 40px; height: 30px;" type="text"/>
	+		=	<input style="width: 40px; height: 30px;" type="text"/>	+	<input style="width: 40px; height: 30px;" type="text"/>	=	<input style="width: 40px; height: 30px;" type="text"/>
	+		=	<input style="width: 40px; height: 30px;" type="text"/>	+	<input style="width: 40px; height: 30px;" type="text"/>	=	<input style="width: 40px; height: 30px;" type="text"/>
	+		=	<input style="width: 40px; height: 30px;" type="text"/>	+	<input style="width: 40px; height: 30px;" type="text"/>	=	<input style="width: 40px; height: 30px;" type="text"/>
	+		=	<input style="width: 40px; height: 30px;" type="text"/>	+	<input style="width: 40px; height: 30px;" type="text"/>	=	<input style="width: 40px; height: 30px;" type="text"/>
	+		=	<input style="width: 40px; height: 30px;" type="text"/>	+	<input style="width: 40px; height: 30px;" type="text"/>	=	<input style="width: 40px; height: 30px;" type="text"/>

3. RESOLVA AS ADIÇÕES:

	D	U		D	U		D	U		D	U
+	4	3	+	4	3	+	5	2	+	6	2
	3	4		2	5		3	3		2	3

4. RESOLVA AS SUBTRAÇÕES:

	D	U		D	U		D	U		D	U
-	1	7	-	2	6	-	2	4	-	1	9
	1	1		1	2		1	4			5

UNIDADE ESCOLAR:

PROFESSOR(A)

ANO DE ESCOLARIDADE

DATA

NOME:

HOJE É?

SEGUNDA  TERÇA  QUARTA  QUINTA  SEXTA

CÓDIGO BNCC

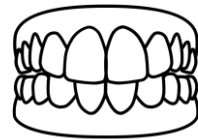
## CIÊNCIAS

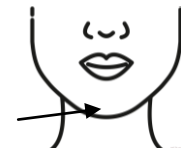


### 1. AUTODITADO:

## O CORPO HUMANO





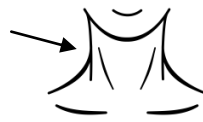


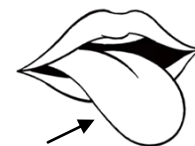




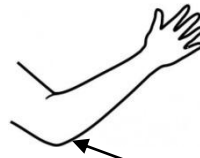





















2. PROCURE O NOME DAS PARTES DO CORPO NO CAÇA-PALAVRAS:


MÃO

PÉ


ORELHA

OLHO

NARIZ

BOCA

B	N	O	L	H	O	D
N	A	R	I	Z	D	O
T	Y	U	D	G	P	É
T	R	D	M	Ã	O	V
A	B	O	C	A	Y	X
O	R	E	L	H	A	C



3. ESCREVA AS PALAVRAS QUE VOCÊ ENCONTROU NO CAÇA-PALAVRAS:

<input type="text"/>	<input type="text"/>
<input type="text"/>	<input type="text"/>
<input type="text"/>	<input type="text"/>

