

PREFEITURA MUNICIPAL DE BOM JESUS DO ITABAPOANA-RJ  
SECRETARIA MUNICIPAL DE EDUCAÇÃO, ESPORTE E LAZER

**SEMEEL**

*A mudança está em nossas mãos*

# Atividades Orientadoras



**1º**  
**ano**

# Ensino Fundamental

UNIDADE ESCOLAR:

PROFESSOR(A)

ANO DE ESCOLARIDADE

1º ANO

DATA

21ª SEMANA (26 a 30/06)

NOME:

HOJE É?

SEGUNDA

TERÇA

QUARTA

QUINTA

SEXTA

CÓDIGO BNCC

EF01LP16/EF01LP02

## LÍNGUA PORTUGUESA



### LINGUAGEM, LEITURA E ESCRITA

1. LEIA COM A AJUDA DA PROFESSORA E RESPONDA:

## VAMOS LER?

### QUENTÃO INFANTIL

#### INGREDIENTES

6 XÍCARAS DE ÁGUA  
500G DE AÇÚCAR  
¼ DE XÍCARA DE GENGIBRE LASCADO  
1 MAÇÃ CORTADA  
CASCAS DE LIMÃO E LARANJA  
CRAVO DA ÍNDIA A GOSTO  
CANELA A GOSTO

#### MODO DE PREPARO

DERRETA O AÇÚCAR, AS CASCAS, AS ESPECIARIAS E O GENGIBRE EM UMA PANELA. ANTES QUE SE FORME O CARAMELO, COLOQUE A ÁGUA E COZINHE POR 20 MINUTOS. COE E SIRVA COM A MAÇÃ PICADA.







<http://revistacrescer.globo.com/Revista/Crescer/0,,EMI5723-16812,00.html>

2. ESSE TEXTO PERTENCE A QUAL GÊNERO TEXTUAL?

3. QUAL NOME DESSA RECEITA?

4. QUAIS OS INGREDIENTES DESSA RECEITA?

5. NOMEIE OS INGREDIENTES DA RECEITA:



6. PESQUISA! PERGUNTE À PROFESSORA OU AOS COLEGAS QUAIS SÃO AS COMIDAS TÍPICAS DE FESTA JUNINA QUE ELES CONHECEM E FAÇA SUAS ANOTAÇÕES ABAIXO:

## COMIDAS TÍPICAS



UNIDADE ESCOLAR:

PROFESSOR(A)

ANO DE ESCOLARIDADE  
1º ANO

DATA  
21ª SEMANA (26 a 30/06)

NOME:

HOJE É?

SEGUNDA

TERÇA

QUARTA

QUINTA

SEXTA

CÓDIGO BNCC

EF01MA01

## MATEMÁTICA



1. MAGALI PRECISA DOBRAR A RECEITA DO QUINTÃO. INDIQUE, NA RECEITA ABAIXO, A QUANTIDADE DE INGREDIENTES QUE ELA VAI PRECISAR:

### QUINTÃO INFANTIL

#### INGREDIENTES

\_\_\_\_\_ XÍCARAS DE ÁGUA.

\_\_\_\_\_ DE AÇÚCAR.

\_\_\_\_\_ XÍCARA DE GENGIBRE LASCADO.

\_\_\_\_\_ MAÇÃ CORTADA.

CASCAS DE LIMÃO E LARANJA.

CRAVO DA ÍNDIA A GOSTO.

CANELA A GOSTO.



2. OBSERVE A IMAGEM E FAÇA O QUE SE PEDE:



3. CONTE E REGISTRE O NÚMERO DE:

CRIANÇAS

MESA

ESTRELA

FOGUEIRA

SACO DE PIPOCA

BANDEIRINHAS

4. PINTO O QUADRINHO DE VERDE PARA AS AFIRMAÇÕES VERDADEIRAS E DE VERMELHO PARA AS FALSAS:

- HÁ MAIS CRIANÇAS DO QUE ESTRELAS.
- HÁ MAIS BANDEIRINHAS DO QUE MESINHAS.
- HÁ MAIS SACOS DE PIPOCA DO QUE CRIANÇAS.
- HÁ MAIS ESTRELAS DO QUE BANDEIRAS.
- HÁ MAIS FOGUEIRA DO QUE MESINHAS.



5. PINTO AS BANDEIRAS DE ACORDO COM A SEQUÊNCIA:

AZUL	VERMELHO	VERDE	AMARELO

6. ASSINALE CORRETAMENTE A IMAGEM QUE CORRESPONDE À SOMBRA:

<input type="checkbox"/>	<input type="checkbox"/>	<input type="checkbox"/>
<input type="checkbox"/>	<input type="checkbox"/>	<input type="checkbox"/>

UNIDADE ESCOLAR: \_\_\_\_\_

PROFESSOR(A) \_\_\_\_\_

ANO DE ESCOLARIDADE  
1º ANO

DATA  
21ª SEMANA (26 a 30/06)

NOME: \_\_\_\_\_

HOJE É?

SEGUNDA   TERÇA   QUARTA   QUINTA   SEXTA

CÓDIGO BNCC


EF01LP22/EF01LP01.RJ/EF01LP06

# LÍNGUA PORTUGUESA




## LINGUAGEM E ESCRITA


### 1. ACRÓSTICOS:




C \_\_\_\_\_  
A \_\_\_\_\_  
N \_\_\_\_\_  
J \_\_\_\_\_  
I \_\_\_\_\_  
C \_\_\_\_\_  
A \_\_\_\_\_



P \_\_\_\_\_  
A \_\_\_\_\_  
M \_\_\_\_\_  
O \_\_\_\_\_  
N \_\_\_\_\_  
H \_\_\_\_\_  
A \_\_\_\_\_



P \_\_\_\_\_  
I \_\_\_\_\_  
P \_\_\_\_\_  
O \_\_\_\_\_  
C \_\_\_\_\_  
A \_\_\_\_\_



B \_\_\_\_\_  
O \_\_\_\_\_  
L \_\_\_\_\_  
O \_\_\_\_\_

2. ENCONTRE O NOME DAS FIGURAS NO CAÇA-PALAVRAS E ESCREVA-OS NOS LUGARES CORRESPONDENTES:

B	A	N	D	E	I	R	A	F
A	M	B	U	S	C	B	P	O
L	E	A	X	K	H	R	I	G
Ã	N	R	T	H	A	N	P	U
O	D	R	R	P	P	P	O	E
C	O	A	H	X	É	U	C	I
B	I	C	Y	C	U	E	A	R
R	N	A	M	I	L	H	O	A


















3. COMPLETE A CRUZADINHA COM O NOME DAS FIGURAS:



4. PINTE UMA BOLINHA PARA CADA SÍLABA DAS PALAVRAS:



CANJICA



QUENTÃO



MILHO



AMENDOIM



RAPADURA



PINHÃO




BOLO



PIPOCA



PAMONHA



PAÇOCA



PASTEL



FOGUEIRA





UNIDADE ESCOLAR:

PROFESSOR(A)

ANO DE ESCOLARIDADE  
1º ANO

DATA  
21ª SEMANA (26 a 30/06)

NOME:

HOJE É?

SEGUNDA  TERÇA  QUARTA  QUINTA  SEXTA

CÓDIGO BNCC

EF01MA01/EF01MA06

## MATEMÁTICA



1. RESOLVA OS PROBLEMINHAS:

# PROBLEMINHAS

PARA MONTAREM A FOGUEIRA DA FESTA JUNINA, FORAM CORTADOS 56 PEDAÇOS DE MADEIRA. DURANTE A FESTA USARAM SOMENTE 43 PEDAÇOS. QUANTOS PEDAÇOS DE MADEIRA SOBRARAM?



<b>D</b>	<b>U</b>

NA FESTA JUNINA, UMA BARRACA VENDEU 34 ESPIGAS DE MILHO E A OUTRA BARRACA VENDEU 33 ESPIGAS. QUANTAS ESPIGAS DE MILHO FORAM VENDIDAS NA FESTA JUNINA?



<b>D</b>	<b>U</b>

PARA A FESTA JUNINA, COMPRARAM 75 FOGOS. AO LONGO DA FESTA, USARAM SOMENTE 32 FOGOS. QUANTOS FOGOS NÃO FORAM USADOS?



<b>D</b>	<b>U</b>

2. QUANTOS DOCES GOSTOSOS! SÃO PARA A FESTA JUNINA! CONTE QUANTOS DOCES TÊM EM CADA BANDEJA, INDIQUE A QUANTIDADE DE CADA DOCE POR PERSONAGEM E RESPONDA:


- QUEM TEM MENOS DOCES? \_\_\_\_\_
- QUEM TEM MAIS DOCES? \_\_\_\_\_
- QUANTOS DOCES TÊM AO TODO? \_\_\_\_\_
- QUANTOS DOCES MAGALI TEM A MAIS QUE MÔNICA? \_\_\_\_\_





UNIDADE ESCOLAR:

PROFESSOR(A)

ANO DE ESCOLARIDADE  
1º ANO

DATA  
21ª SEMANA (26 a 30/06)

NOME:

HOJE É?

SEGUNDA   TERÇA   QUARTA   QUINTA   SEXTA

CÓDIGO BNCC

EF01LP22 EF15LP05

## LÍNGUA PORTUGUESA





# PRODUÇÃO DE TEXTO

➤ FAÇA UMA LISTA COM AS COISAS QUE TEM NA FESTA JUNINA E QUE VOCÊ CONHECE:

**FESTA JUNINA**

**LISTA**

---

---

---

---

---

---

---

---

---

---

