

PREFEITURA MUNICIPAL DE BOM JESUS DO ITABAPOANA-RJ
SECRETARIA MUNICIPAL DE EDUCAÇÃO, ESPORTE E LAZER

Atividades Orientadoras



Educação de Jovens e Adultos

FASE II



UNIDADE ESCOLAR:

PROFESSORA

DATA

3ª SEMANA JUNHO.

NOME:

FASE

CÓDIGO BNCC



LÍNGUA PORTUGUESA

01 LEIA O TEXTO COM A AJUDA DO PROFESSOR:

O **BEIJA-FLOR** E O **PAPAGAIO**

O **BEIJA-FLOR** **BATE** ASAS, FLUTUANDO NO AR,
BEIJANDO AS FLORES.

O **PAPAGAIO**, NO ALTO DA ÁRVORE,
FICA OLHANDO O SEU **BAILADO**.

A PREENCHA OS ESPAÇOS ABAIXO, COMPLETANDO O TEXTO:

O _____-FLOR E O _____

O _____-FLOR _____ASAS, FLUTUANDO NO AR,
_____AS FLORES.

O _____, NO ALTO DA ÁRVORE,
FICA OLHANDO O SEU _____.

02 COMPLETE AS PALAVRAS COM P OU B:

AILARINA

ALADAR

ISCINA

EIXE

ANELA

ONTO

ERMUDA

ONECA

RINCAR

RESENTE

ONITA

ANFLETO

03 CIRCULE AS PALAVRAS QUE ESTÃO ESCRITAS DE FORMA INCORRETA E ESCREVA-AS NA FORMA CORRETA:

PERDÃO

BEQUENO

BLANTA

PALEIA

POCA

BANHEIRO

04 COMPLETE O QUADRO ABAIXO:

PALAVRAS	QUANTAS VOGAIS	QUANTAS CONSOANTES	QUANTAS SÍLABAS
PEQUENO			
BALEIA			
BOCA			
PLANTA			



UNIDADE ESCOLAR:

PROFESSORA

DATA
3ª SEMANA JUNHO.

NOME:

FASE

CÓDIGO BNCC



MATEMÁTICA

01 RESOLVA AS SUBTRAÇÕES ABAIXO:

$8 - 6 = \square$

$8 - 2 = \square$

$5 - 4 = \square$

$4 - 3 = \square$

$3 - 3 = \square$

$7 - 2 = \square$

$7 - 3 = \square$

$6 - 4 = \square$

02 RESOLVA AS ADIÇÕES ABAIXO:

$3 + 2 = \square$

$2 + 8 = \square$

$8 + 5 = \square$

$5 + 3 = \square$

$8 + 9 = \square$

$5 + 5 = \square$

$5 + 7 = \square$

$3 + 1 = \square$

$1 + 1 = \square$

03 COMPLETE A TABELA ABAIXO COM OS ANTECESSORES E SUCESSORES DOS NUMERAIS EM DESTAQUE:

	20	
	16	
	4	
	10	
	9	
	15	
	14	
	20	

	8	
	25	
	14	
	6	
	17	
	3	
	19	
	12	

04 ESCREVA OS NÚMEROS POR EXTENSO:

10 _____

30 _____

50 _____

70 _____

20 _____

40 _____

60 _____

80 _____

05 OBSERVE AS MOEDAS QUE LUCIANA JUNTOU EM 1 SEMANA.



A ELA TROCOU ESSAS MOEDAS POR 1 ÚNICA NOTA. QUAL FOI ESSA NOTA?

()



()



()



()



UNIDADE ESCOLAR:

PROFESSORA

DATA

3ª SEMANA JUNHO

NOME:

FASE

II

CÓDIGO BNCC

EFEJAFI-IIIILP59/EFEJAFIILP56



01 COMPLETE AS PALAVRAS ABAIXO COM **B** OU **P** E MARQUE UM **X** NA COLUNA CORRETA:

PALAVRAS	B	P
___ IPOCA		
___ ALHAÇO		
___ ONÉ		
___ EPINO		
___ UZINA		
___ ATATA		
___ ENTE		
___ OLACHA		
___ IRULITO		
___ OLA		
___ IANO		

02 LIGUE AS PALAVRAS ABAIXO, FAZENDO A CORRESPONDÊNCIA DE BASTÃO PARA CURSIVA.

PARAFUSO

pamonha

BOLACHA

banana

PAMONHA

pomada

PIRULITO

bingo

BOCA

parafuso

BANANA

pirulite


BINGO

bolacha

POMADA

boca

03 ENCONTRE AS PALAVRAS DO RETÂNGULO NO CAÇA-PALAVRAS:



PIPOCA, PIADA, PIRULITO, PAPO,
PAPAI, PATA, PICOLÉ

A SEPARE AS SÍLABAS DAS PALAVRAS QUE VOCÊ ENCONTROU:

PIPOCA

PAPAI

PIADA

PATA

PIRULITO

PICOLÉ

PAPO



UNIDADE ESCOLAR:

PROFESSORA

DATA
3ª SEMANA JUNHO

NOME:

FASE

CÓDIGO BNCC

MA **MATEMÁTICA**

01 OBSERVE ATENTAMENTE O NOME DO NÚMERO E PINTE:

 NOVE <input type="radio"/> 1 <input type="radio"/> 5 <input type="radio"/> 9	 CINCO <input type="radio"/> 4 <input type="radio"/> 5 <input type="radio"/> 6	 DEZ <input type="radio"/> 10 <input type="radio"/> 11 <input type="radio"/> 12
 OITO <input type="radio"/> 6 <input type="radio"/> 7 <input type="radio"/> 8		 QUATRO <input type="radio"/> 4 <input type="radio"/> 5 <input type="radio"/> 6
 UM <input type="radio"/> 0 <input type="radio"/> 1 <input type="radio"/> 2		 TRÊS <input type="radio"/> 1 <input type="radio"/> 2 <input type="radio"/> 3
 SEIS <input type="radio"/> 4 <input type="radio"/> 5 <input type="radio"/> 6	 DOIS <input type="radio"/> 2 <input type="radio"/> 4 <input type="radio"/> 5	 SETE <input type="radio"/> 5 <input type="radio"/> 6 <input type="radio"/> 7

02 COMPLETE A SEQUÊNCIA NUMÉRICA COM O ANTECESSOR, MEDIANO E SUCESSOR:

45		47
----	--	----

7		9
---	--	---

24		
----	--	--

35	36	
----	----	--

17	18	
----	----	--

14	15	
----	----	--

25		27
----	--	----

	47	
--	----	--

		44
--	--	----

	15	16
--	----	----

	31	32
--	----	----

74		76
----	--	----

	12	
--	----	--

67		69
----	--	----

	64	
--	----	--

12		14
----	--	----

43		
----	--	--

14		16
----	--	----

13		
----	--	--

	19	20
--	----	----

34	35	
----	----	--

27		28
----	--	----

47		
----	--	--







	64	
--	----	--

9		11
---	--	----

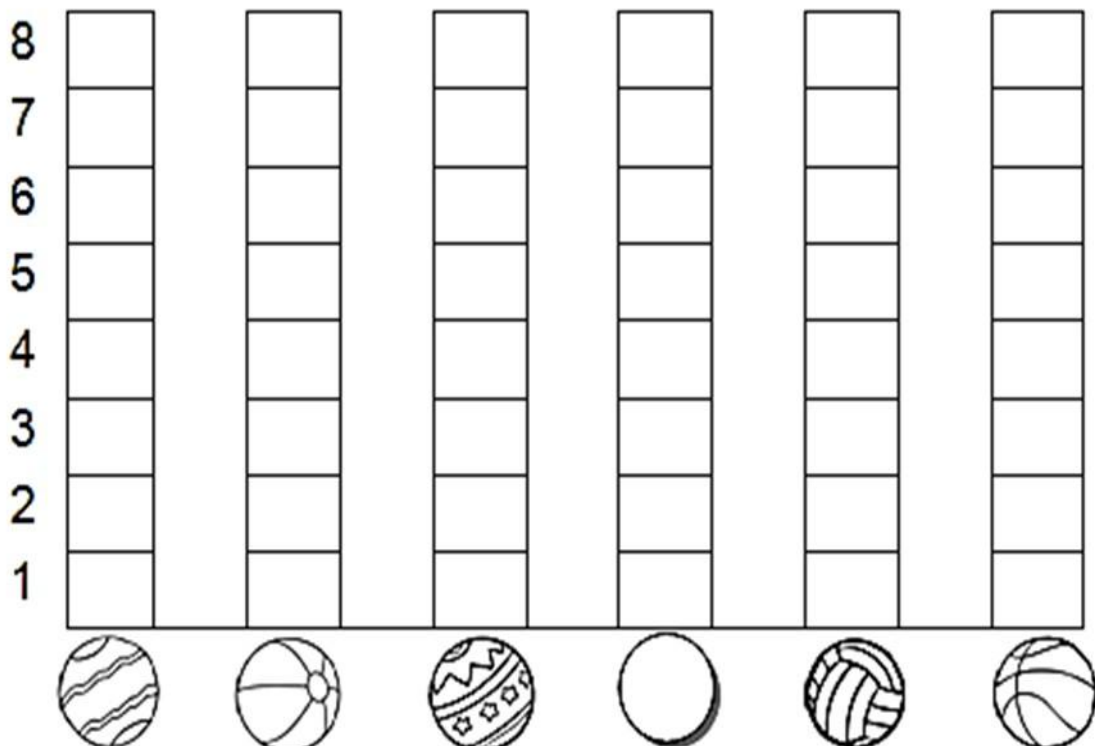
23	24	
----	----	--

74		
----	--	--

03 OS NETOS DO SENHOR PEDRO FORAM JOGAR BASQUETE, E ELE PROMETEU QUE DARIA UM PRÊMIO AO NETO QUE FIZESSE MAIS PONTOS. COLOQUE O NÚMERO DOS PONTOS NA TABELA ABAIXO:

CRIANÇAS	QUANTIDADE DE BOLAS NA CESTA	NÚMERO
CARLOS		
FELIPE		
PEDRO		
GIOVANI		
VÍTOR		
FÁBIO		

04 COM AS INFORMAÇÕES DA TABELA ACIMA, VOCÊ DEVERÁ COLORIR O GRÁFICO ABAIXO PARA SABER O GANHADOR DO PRÊMIO:





UNIDADE ESCOLAR:

PROFESSORA

DATA
3ª SEMANA JUNHO.

NOME:

FASE

CÓDIGO BNCC

LP **LÍNGUA PORTUGUESA**

01 COMPLETE A CRUZADINHA COM OS NOMES DESENHOS ABAIXO:

PORCO / PIÃO / PAVIO / PATO / PIPOCA /
PÁ / PENTE / PIANO / PIA / PANELA

4

3

8

9

10

6

2

5

10

1

02 ORDENE AS SÍLABAS E ESCREVA AS PALAVRAS:

PE CA LA	
BI NHA POM	
LA BO CHA	
NE PA LA	
MA DA PO	
PÊS GO SE	
NA BA NA	
RA FU PA SO	
JE RIN LA BE	
QUE PAN CA	

03 ESCREVA O NOME DOS DESENHOS:

