

PREFEITURA MUNICIPAL DE BOM JESUS DO ITABAPOANA-RJ  
SECRETARIA MUNICIPAL DE EDUCAÇÃO, ESPORTE E LAZER

# Atividades Orientadoras



## Educação de Jovens e Adultos

### FASE I



UNIDADE ESCOLAR:

PROFESSORA

DATA

4ª SEMANA DE AGOSTO

NOME:

FASE

CÓDIGO BNCC

**MA**

**MATEMÁTICA**

01

SEPARE O NÚMERO DAS LETRAS, PINTANDO OS NÚMEROS DE AZUL E AS LETRAS DE AMARELO.

2	B	8	N	J	9
Q	4	1	V	5	P
7	R	3	S	6	T

02

AGORA, ESCREVA CADA UM EM SEU RESPECTIVO LUGAR.

❖ LETRAS:

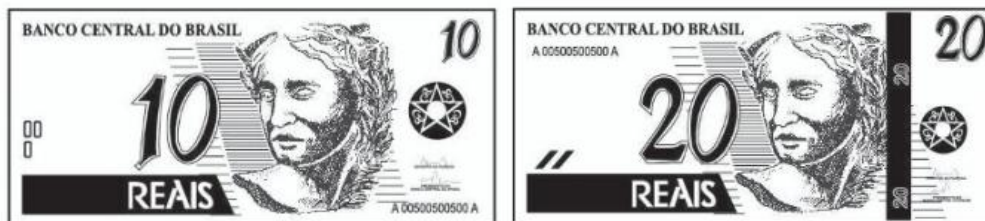
❖ NÚMEROS:

03

ENCONTRE UM OBJETO QUE ESTÁ NO PRIMEIRO QUADRO E NÃO ESTÁ NO SEGUNDO QUADRO:



04 VEJA AS NOTAS QUE SR. RAFAEL GANHOU DE SEU FILHO.



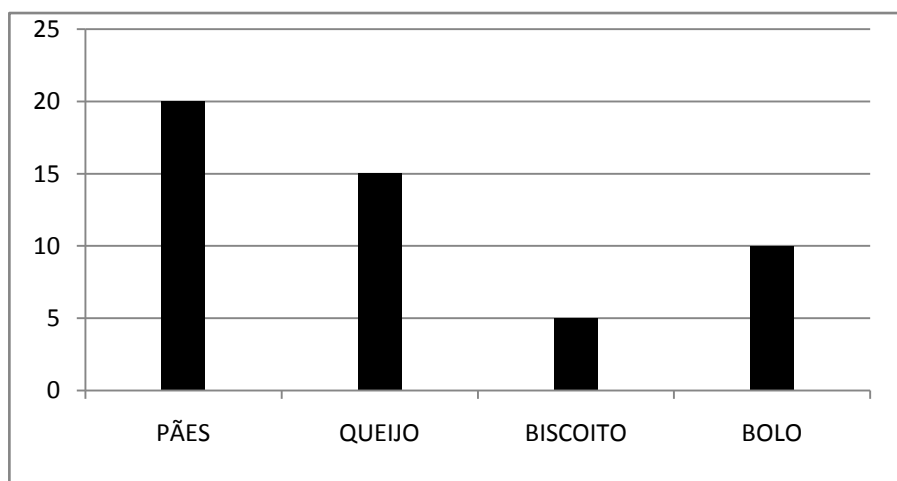
A O RESULTADO DA SOMA DESSAS NOTAS É DE?

- 10
- 20
- 30
- 40

05 EM UM JOGO DE CARTAS, SR. PAULO RECEBEU **DUAS** CARTAS QUE SOMANDO SEUS VALORES OBTEVE O RESULTADO **10**. QUE COMBINAÇÃO DE CARTAS ELE RECEBEU?

- 5, 4
- 6, 4
- 5, 6
- 7, 5

06 REALIZARAM UMA PESQUISA COM OS ALUNOS DA EJA PARA SABER QUAL REFEIÇÃO ELES MAIS GOSTAVAM. VEJA NO GRÁFICO ABAIXO O RESULTADO.



A QUANTOS ALUNOS PREFEREM BOLO?

- 20
- 15
- 10
- 5

UNIDADE ESCOLAR:

PROFESSORA

DATA

4ª SEMANA DE AGOSTO

NOME:

FASE

CÓDIGO BNCC



**01** LEIA A PARLENDIA COM A AJUDA DO PROFESSOR E CIRCULE A PALAVRA  
**MACACO:**


MEIO-DIA, PANELA NO FOGO.

BARRIGA VAZIA.

MACACO TORRADO, QUEM VEM DA BAHIA.

FAZENDO CARETA PARA DONA SOFIA.

**02** COMPLETE A FAMÍLIA SILÁBICA DA LETRA M:



03 DESCUBRA A LETRA DO ALFABETO QUE ESTÁ FALTANDO EM CADA GRUPO E ESCREVA NO CÍRCULO:

A B C D E G H I J K L M N O P Q R S T U V W X Y Z

B A B C D E F G H I J K L M N O P Q R S T U W X Y Z

C A B C D E F G H I J K L M N O Q R S T U V W X Y Z

04 FAÇA UM X SOMENTE NAS VOGAIS:

Q	J	I	E	Q	I	E	R	T
W	O	K	L	A	M	N	A	Y
R	U	Z	X	C	V	B	U	P
T	A	S	D	F	G	H	O	L
Y	E	T	R	B	L	J	I	K
P	H	I	D	V	M	E	C	J
S	G	C	O	N	A	Z	X	H
D	F	V	B	U	F	D	S	G

05 COMPLETE AS PALAVRAS USANDO AS VOGAIS:



B  T



P  N  L



B  L



F  C



UNIDADE ESCOLAR:

PROFESSORA

DATA

4ª SEMANA DE AGOSTO

NOME:

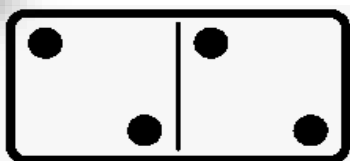
FASE

CÓDIGO BNCC EFEJAFI-IVM03/EFEJAFI-IV20

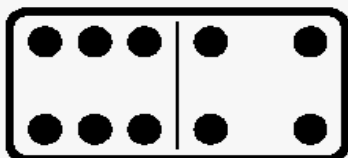
MA

MATEMÁTICA

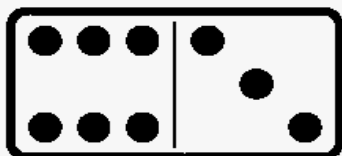
01 SOME AS PEÇAS DO DOMINÓ.



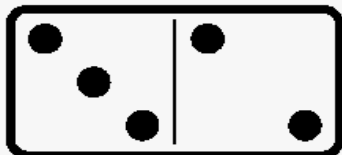
$$\square + \square = \square$$



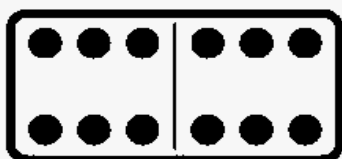
$$\square + \square = \square$$



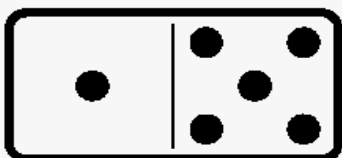
$$\square + \square = \square$$



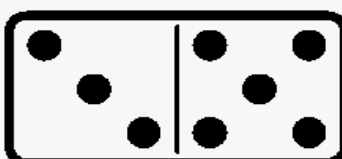
$$\square + \square = \square$$



$$\square + \square = \square$$



$$\square + \square = \square$$



$$\square + \square = \square$$

**02** OS NETOS DA DONA KÁTIA E SR. WALMIR GANHARAM DINHEIRO PARA COMPRAR BRINQUEDOS, MAS ELES TINHAM QUE DEVOLVER O TROCO PARA SEUS AVÓS. AJUDE-OS A FAZER AS CONTAS E MARQUE O VALOR ENCONTRADO DO TROCO NAS OPÇÕES:

PREÇO DOS BRINQUEDOS:	PAGARAM COM:	RECEBERAM DE TROCO:
 <b>R\$25,00</b>	<b>R\$50,00</b>	<input type="checkbox"/> R\$15,00 <input type="checkbox"/> R\$75,00 <input type="checkbox"/> R\$3,00 <input type="checkbox"/> R\$25,00
 <b>R\$68,00</b>	<b>R\$80,00</b>	<input type="checkbox"/> R\$22,00 <input type="checkbox"/> R\$13,00 <input type="checkbox"/> R\$148,00 <input type="checkbox"/> R\$12,00
 <b>R\$19,00</b>	<b>R\$20,00</b>	<input type="checkbox"/> R\$1,00 <input type="checkbox"/> R\$11,00 <input type="checkbox"/> R\$39,00 <input type="checkbox"/> R\$2,00
 <b>R\$86,00</b>	<b>R\$100,00</b>	<input type="checkbox"/> R\$188,00 <input type="checkbox"/> R\$14,00 <input type="checkbox"/> R\$86,00 <input type="checkbox"/> R\$26,00





UNIDADE ESCOLAR:

PROFESSORA

DATA

4ª SEMANA DE AGOSTO

NOME:

FASE

CÓDIGO BNCC



01

COMPLETE O ALFABETO ABAIXO:

<b>A</b>			<b>D</b>	
	<b>G</b>			
<b>K</b>				
	<b>Q</b>			<b>T</b>
				<b>Z</b>

02



AGORA, ESCREVA AS VOGAIS, EM ORDEM, NO QUADRO ABAIXO.

--	--	--	--	--

LIGUE AS FIGURAS À LETRA INICIAL DO SEU NOME.



A



E



I



O



U





UNIDADE ESCOLAR:

PROFESSORA

DATA

4ª SEMANA DE AGOSTO

NOME:

FASE

CÓDIGO BNCC

**MA**

**MATEMÁTICA**

**01** OBSERVE A QUANTIDADE DE DINHEIRO QUE DONA RITA GANHOU DA SUA FILHA DE PRESENTE DE ANIVERSÁRIO:



**A** O VALOR QUE GANHOU FOI DE?

- ( ) 10 REAIS.
- ( ) 33 REAIS.
- ( ) 80 REAIS.
- ( ) 37 REAIS.

**B** DONA RITA PRETENDE COMPRAR UMA BLUSA POR **R\$35,00**. QUANTOS REAIS SOBRARÁ PARA A SENHORA?

( ) 2 REAIS.

( ) 5 REAIS.

( ) 6 REAIS.

( ) 7 REAIS.

**02** A SENHORA YASMIM TEM **R\$2,00**, CIRCULE AS MOEDAS CORRESPONDENTES A ESSE VALOR:



**03** REALIZE AS ADIÇÕES E COLOQUE OS RESULTADOS NOS RETÂNGULOS.

A.  +  = 

B.  +  = 