

PREFEITURA MUNICIPAL DE BOM JESUS DO ITABAPOANA-RJ
SECRETARIA MUNICIPAL DE EDUCAÇÃO, ESPORTE E LAZER

Atividades Orientadoras



Educação de Jovens e Adultos

FASE I



UNIDADE ESCOLAR:

PROFESSORA

DATA

5ª SEMANA DE AGOSTO

NOME:

FASE

CÓDIGO BNCC

LP

LÍNGUA PORTUGUESA

01 LEIA A PARLENDIA COM A AJUDA DO PROFESSOR E RESPONDA:

OLHA O SAPO DENTRO DO SACO,
O SACO COM SAPO DENTRO,
O SAPO BATENDO PAPO,
E O PAPO SOLTANDO VENTO.



A QUEM ESTÁ DENTRO DO SACO?

() O TATU () O GATO () A GALINHA () O SAPO

B CIRCULE TODAS AS PALAVRAS **SAPO** DO TEXTO:

C QUANTAS VEZES A PALAVRA **SAPO** APARECE NO TEXTO?

() 2 VEZES () 3 VEZES () 4 VEZES () 5 VEZES

D CIRCULE O NOME DO DESENHO AO LADO:



SAPO

SACO

02 COMPLETE AS PALAVRAS COM A SÍLABA INICIAL, CONSULTE AS PALAVRAS AO LADO:

(SA) (SE) (SI) (SO) (SU)



____PO



____COLA



____PATO



____REIA



____NO



____FÁ



____PA

SAPO

SACOLA

SAPATO

SINO

SEREIA

SOFÁ

SOPA

03 COMPLETE COM AS LETRAS DO ALFABETO QUE ESTÃO FALTANDO.

A			D				H		
		M	N			Q			T
			X		Z				

UNIDADE ESCOLAR:

PROFESSORA

DATA

5ª SEMANA DE AGOSTO

NOME:

FASE

EFEJAFI-IVM16/EFEJAFI-IVM01/EFEJAFI-IVM03
CÓDIGO BNCC


MA

MATEMÁTICA

01 CIRCULE O NOME DA FORMA GEOMÉTRICA QUE OS OBJETOS MAIS PARECEM:

	<div>CONE</div> <div>CUBO</div> <div>ESFERA</div>		<div>CILINDRO</div> <div>ESFERA</div> <div>CONE</div>
	<div>CILINDRO</div> <div>ESFERA</div> <div>CUBO</div>		<div>CUBO</div> <div>CONE</div> <div>ESFERA</div>
	<div>CILINDRO</div> <div>CONE</div> <div>ESFERA</div>		<div>ESFERA</div> <div>CILINDRO</div> <div>CONE</div>
	<div>ESFERA</div> <div>CUBO</div> <div>CONE</div>		<div>CONE</div> <div>CUBO</div> <div>CILINDRO</div>

02 OBSERVE A CENA E RESPONDA ÀS PERGUNTAS PINTANDO A RESPOSTA CERTA.



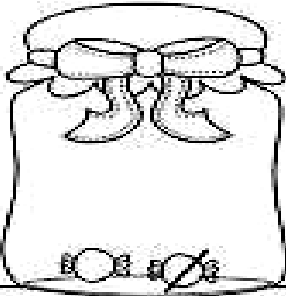
A QUANTAS CRIANÇAS ESTÃO NA FILA? **5** **6** **7**

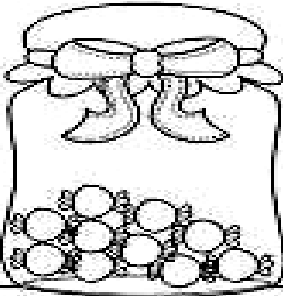
B QUANTOS MENINOS? **2** **3** **4**

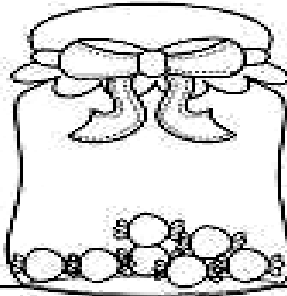
C QUANTAS MENINAS? **2** **5** **4**

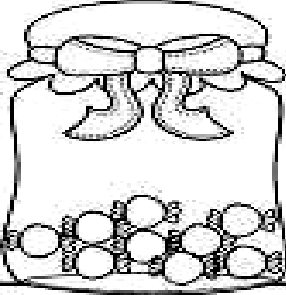
D QUANTAS CRIANÇAS ESTÃO DE BONÉ? **3** **2** **1**

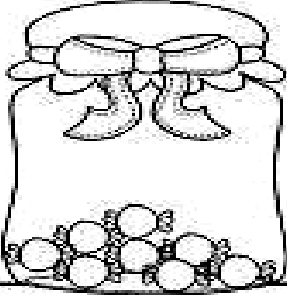
03 RESOLVA AS SUBTRAÇÕES:

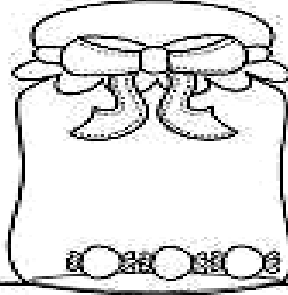

$$2 - 1 =$$


$$10 - 3 =$$


$$7 - 5 =$$


$$9 - 2 =$$


$$8 - 6 =$$


$$3 - 3 =$$



UNIDADE ESCOLAR:

PROFESSORA

DATA

5ª SEMANA DE AGOSTO

NOME:

FASE

CÓDIGO BNCC


EFEJAFI-III LP23



LÍNGUA PORTUGUESA

01 LEIA O TEXTO COM A AJUDA DO PROFESSOR:

CUIDADO, PORQUINHO!



PORQUINHO, PORCO, PORCÃO.

POR QUE VIVE FOCINHANDO COM O FOCINHO NO CHÃO?

PORQUINHO, PORCO, PORCÃO.

VAI FICANDO TÃO REDONDO QUE LHE PASSAM O FACÃO.

MARIA CÉLIA BUENO.

GRAU DO SUBSTANTIVO

GRAU É A PROPRIEDADE QUE O SUBSTANTIVO TEM DE EXPRESSAR AS VARIAÇÕES DO TAMANHO DO SER.



PORQUINHO



PORCO









PORCÃO

OS SUBSTANTIVOS PODEM ESTAR EM TRÊS GRAUS: O **DIMINUTIVO**, **NORMAL** E O **AUMENTATIVO**.

GRAU DIMINUTIVO: EXPRESSA A DIMINUIÇÃO DO TAMANHO DO SER.

GRAU AUMENTATIVO: EXPRESSA O AUMENTO DO TAMANHO NORMAL DO SER.

02 COMPLETE O QUADRO ABAIXO, COM OS GRAUS DOS SUBSTANTIVOS:

DIMINUTIVO	NORMAL	AUMENTATIVO
 _____	 _____	 _____
 _____	 _____	 _____

03 OBSERVE AS PALAVRAS DO RETÂNGULO ABAIXO, E SEPRE os
SUBSTANTIVOS NAS COLUNAS CORRETAS:

BOLINHA	BOQUINHA	GATÃO	CAVALINHO	DEDÃO
CARRÃO	JOGUINHO	PRATÃO	CACHORRÃO	LARANJINHA

GRAU DIMINUTIVO	GRAU AUMENTATIVO

04 COMPLETE AS FRASES COM AS PALAVRAS NO RETÂNGULO ABAIXO:

CASINHA	CAMINHA	CHINELINHO	CHUVINHA
---------	---------	------------	----------



UMA CHUVA FININHMA É UMA _____



UMA CAMA PEQUENA É UMA _____



UMA CASA PEQUENA É UMA _____



UM CHINELO PEQUENO É UM _____



UNIDADE ESCOLAR:

PROFESSORA

NOME:

FASE

DATA

5ª SEMANA DE AGOSTO

EFEJAFI-IVM20/EFEJAI-IVM01/

CÓDIGO BNCC


EFEJAFI-IVM03/EFEJAFI-IVM04

MA

MATEMÁTICA

01

MARQUE QUANTAS UNIDADES CADA CRIANÇA TÊM:



02

CADA CARTELA ABAIXO TEM UM NÚMERO.

15

5

29

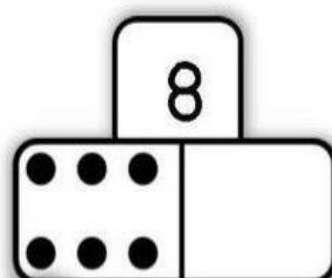
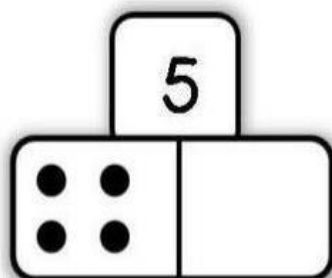
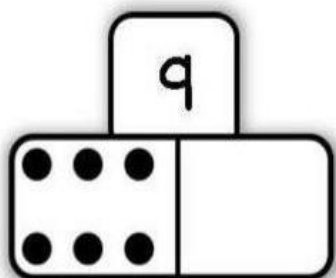
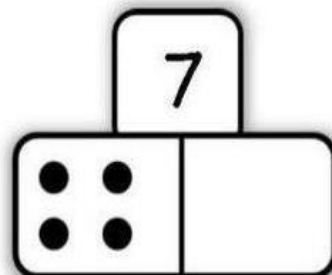
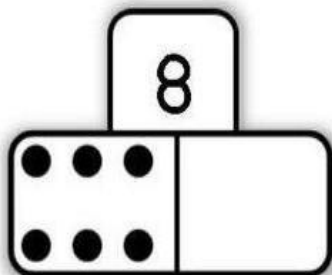
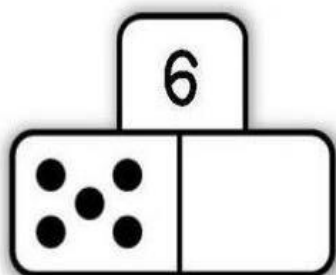
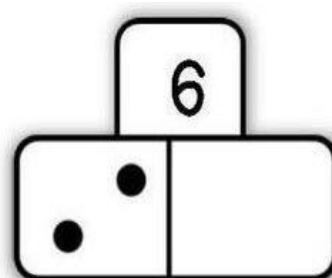
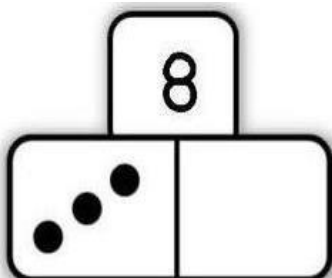
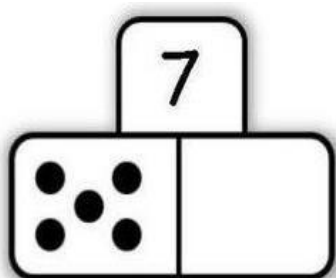
35

40

QUANDO ORGANIZAMOS OS NÚMEROS DO MENOR PARA O MAIOR, DA ESQUERDA PARA A DIREITA A ORDEM FICA:

03

COMPLETE AS PEÇAS DO DOMINÓ DE ACORDO COM O NÚMERO EM DESTAQUE:



UNIDADE ESCOLAR:

PROFESSORA

DATA
5ª SEMANA DE AGOSTO

NOME:

FASE

CÓDIGO BNCC



01 COMPLETE O ALFABETO ABAIXO:

	B			E	F
	G			J	
	L				P
	Q				
U		W			Z

02 MARQUE COM UM X O QUADRO QUE POSSUI SOMENTE LETRAS.

\$F6@K4ÇE9+

PWQUJMÇXZO

5793421590

03 LEIA A TIRINHA ABAIXO, COM AJUDA DO PROFESSOR:



A TIRINHA EXPLORA O HUMOR POR MEIO DA POSSIBILIDADE DE UMA EXPRESSÃO SER INTERPRETADA DE DUAS MANEIRAS. QUAL É ESSA EXPRESSÃO?

- ☐ ADORO PLANTAR BANANEIRA!
- ☐ MEU PAI TAMBÉM.
- ☐ MEU MELHOR TEMPO FOI DE SEIS SEGUNDOS.

04 LEIA A TIRINHA ABAIXO:

XAXADO / Antonio Cedraz



NA TIRINHA, O PERSONAGEM AGRADECE O QUÊ A SÃO PEDRO?

- ☐ A NUVEM
- ☐ A CASA
- ☐ O SOL
- ☐ A CHUVA