

PREFEITURA MUNICIPAL DE BOM JESUS DO ITABAPOANA-RJ
SECRETARIA MUNICIPAL DE EDUCAÇÃO, ESPORTE E LAZER

Atividades Orientadoras



Educação de Jovens e Adultos

FASE II



UNIDADE ESCOLAR:

PROFESSORA

DATA

4ª SEMANA DE AGOSTO

NOME:

FASE

CÓDIGO BNCC

MA

MATEMÁTICA

01 SEPARE O NÚMERO DAS LETRAS, PINTANDO OS NÚMEROS DE AZUL E AS LETRAS DE AMARELO.

2	B	8	N	J	9
Q	4	1	V	5	P
7	R	3	S	6	T

02 AGORA, ESCREVA CADA UM EM SEU RESPECTIVO LUGAR.

❖ LETRAS:

❖ NÚMEROS:

03 ENCONTRE UM OBJETO QUE ESTÁ NO PRIMEIRO QUADRO E NÃO ESTÁ NO SEGUNDO QUADRO:



04 VEJA AS NOTAS QUE SR. RAFAEL GANHOU DE SEU PAI.



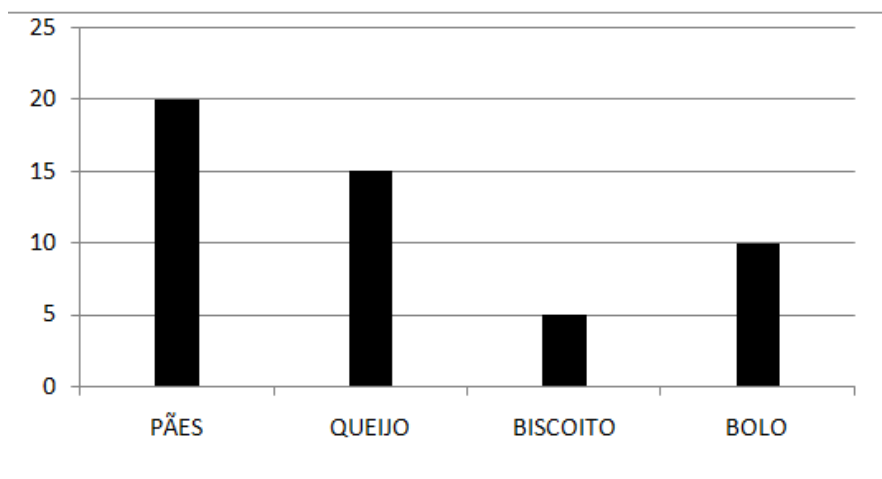
A O RESULTADO DA SOMA DESSAS NOTAS É DE?

- () 10
- () 20
- () 30
- () 40

05 EM UM JOGO DE CARTAS, SR. PAULO RECEBEU **TRÊS** CARTAS QUE SOMANDO SEUS VALORES OBTIVE O RESULTADO **20**. QUE COMBINAÇÃO DE CARTAS ELE RECEBEU?

- () 9, 3, 1
- () 5, 8, 4
- () 5, 6, 9
- () 6, 7, 5

06 REALIZARAM UMA PESQUISA COM OS ALUNOS DA EJA PARA SABER QUAL A REFEIÇÃO ELES MAIS GOSTAVAM. VEJA NO GRÁFICO ABAIXO O RESULTADO.



A QUANTOS ALUNOS PREFEREM BOLO?

- () 20
- () 15
- () 10
- () 5

UNIDADE ESCOLAR:

PROFESSORA

DATA
4ª SEMANA DE AGOSTO

NOME:

FASE

CÓDIGO BNCC EFEJAFII-IIIILP03/EFEJAFIILP22/EFEJAFIILP58

LP **LÍNGUA PORTUGUESA**

01 LEIA A PARLENDAS COM A AJUDA DO PROFESSOR E CIRCULE A PALAVRA **MACACO**:


MEIO-DIA, PANELA NO FOGO.

BARRIGA VAZIA.







MACACO TORRADO, QUEM VEM DA BAHIA.

FAZENDO CARETA PARA DONA SOFIA.

02 COMPLETE A FAMÍLIA SILÁBICA DA LETRA **M**:



03 VAMOS DESCOBRIR O NOME DO ANIMAL QUE APARECE NA PARLENDAS?
ESCREVA A LETRA INICIAL DE CADA FIGURA PARA DESCOBRIR.

04 COMPLETE AS PALAVRAS COM AS SÍLABAS **MA, ME, MO, MU** :



CACO



TO




LA



LA



LA

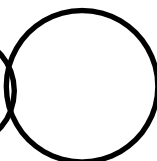


NINA

05 DESCUBRA A LETRA DO ALFABETO QUE ESTÁ FALTANDO EM CADA GRUPO E ESCREVA NO CÍRCULO:

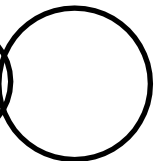
A

A B C D E G H I J K L M N O P Q R S T U V W X Y Z



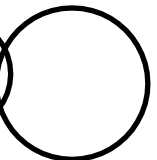
B

A B C D E F G H I J K L M N O P Q R S T U W X Y Z

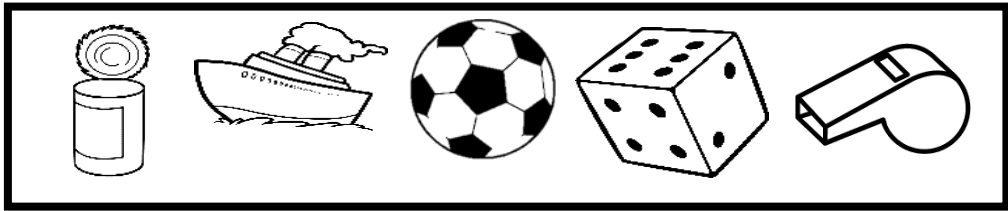


C

A B C D E F G H I J K L M N O Q R S T U V W X Y Z



06 ESCREVA OS NOMES DAS FIGURAS ABAIXO EM ORDEM ALFABÉTICA:



--	--	--	--	--

07 FAÇA UM X SOMENTE NAS VOGAIS:

Q	J	I	E	Q	I	E	R	T
W	O	K	L	A	M	N	A	Y
R	U	Z	X	C	V	B	U	P
T	A	S	D	F	G	H	O	L
Y	E	T	R	B	L	J	I	K
P	H	I	D	V	M	E	C	J
S	G	C	O	N	A	Z	X	H
D	F	V	B	U	F	D	S	G

08 COMPLETE AS PALAVRAS USANDO AS VOGAIS.



B		T	
----------	--	----------	--



P		N	L	
----------	--	----------	----------	--



B		L	
----------	--	----------	--



F		C	
----------	--	----------	--



UNIDADE ESCOLAR:

PROFESSORA

DATA

4ª SEMANA DE AGOSTO

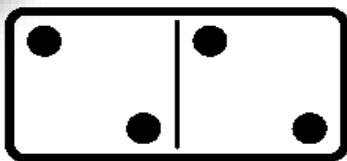
NOME:

FASE

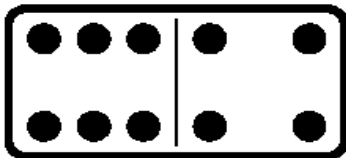
CÓDIGO BNCC

MA **MATEMÁTICA**

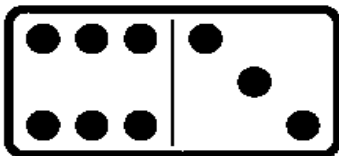
01 SOME AS PEÇAS DO DOMINÓ.



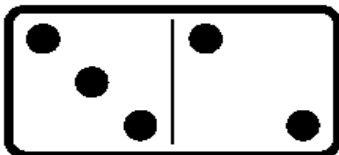
$$\square + \square = \square$$



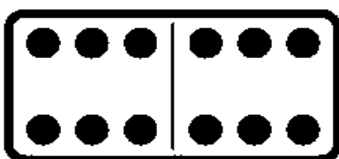
$$\square + \square = \square$$



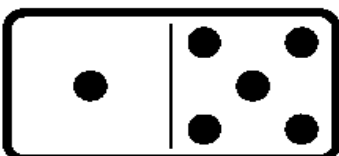
$$\square + \square = \square$$



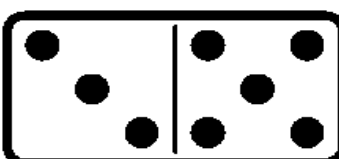
$$\square + \square = \square$$



$$\square + \square = \square$$







$$\square + \square = \square$$



$$\square + \square = \square$$

02 OS NETOS DE DONA KÁTIA E SR. WALMIR GANHARAM DINHEIRO PARA COMPRAR BRINQUEDOS, MAS ELES TINHAM QUE DEVOLVER O TROCO PARA SEUS AVÓS. AJUDE-OS A FAZER AS CONTAS E MARQUE O VALOR ENCONTRADO DO TROCO NAS OPÇÕES:

PREÇO DOS BRINQUEDOS:	PAGARAM COM:	RECEBERAM DE TROCO:
 R\$25,00	R\$50,00	<input type="checkbox"/> R\$15,00 <input type="checkbox"/> R\$75,00 <input type="checkbox"/> R\$3,00 <input type="checkbox"/> R\$25,00
 R\$68,00	R\$80,00	<input type="checkbox"/> R\$22,00 <input type="checkbox"/> R\$13,00 <input type="checkbox"/> R\$148,00 <input type="checkbox"/> R\$12,00
 R\$19,00	R\$20,00	<input type="checkbox"/> R\$1,00 <input type="checkbox"/> R\$11,00 <input type="checkbox"/> R\$39,00 <input type="checkbox"/> R\$2,00
 R\$86,00	R\$100,00	<input type="checkbox"/> R\$188,00 <input type="checkbox"/> R\$14,00 <input type="checkbox"/> R\$86,00 <input type="checkbox"/> R\$26,00



UNIDADE ESCOLAR:

PROFESSORA

DATA

4ª SEMANA DE AGOSTO

NOME:

FASE

CÓDIGO BNCC



01 COMPLETE O ALFABETO ABAIXO:


A			D	
	G			
K				
	Q			T
				Z


02 ESCREVA AS VOGAIS ABAIXO:


--	--	--	--	--

03

COMPLETE A PALAVRA COM A LETRA QUE FALTA:

P	C	O
		
_____VO		

T	F	S
		
_____ACA		

D	C	B
		
_____OTA		

04

CIRCuLE O NOME CORRETO DAS FIGURAS.



- ROMA
- ROSA
- RODA



- FURE
- BULE
- PULE



- COLA
- GOLA
- MOLA



- RUA
- NUA
- LUA



- SOFA
- SALA
- SOLA



- POTE
- GOLE
- FOLE



UNIDADE ESCOLAR:

PROFESSORA

DATA

4ª SEMANA DE AGOSTO

NOME:

FASE

CÓDIGO BNCC

MA

MATEMÁTICA

01 OBSERVE A QUANTIDADE EM DINHEIRO QUE DONA RITA GANHOU DA SUA FILHA DE PRESENTE DE ANIVERSÁRIO:



A O VALOR QUE RITA GANHOU FOI?

- () 102 REAIS.
- () 133 REAIS.
- () 180 REAIS.
- () 187 REAIS.

B DONA RITA PRETENDE COMPRAR UM VESTIDO POR R\$135,00. QUANTAS REAIS SOBRARÁ PARA ELA?

() 52 REAIS.

() 53 REAIS.

() 60 REAIS.

() 67 REAIS.

02 A SENHORA YASMIM TEM R\$2,00, CIRCULE AS MOEDAS CORRESPONDENTES A ESSE VALOR.



03 REALIZE AS ADIÇÕES E COLOQUE OS RESULTADOS NOS RETÂNGULOS:

A.  +  = 

B.  +  = 