

PREFEITURA MUNICIPAL DE BOM JESUS DO ITABAPOANA-RJ  
SECRETARIA MUNICIPAL DE EDUCAÇÃO, ESPORTE E LAZER

# Atividades Orientadoras



## Educação de Jovens e Adultos

### FASE IV

UNIDADE ESCOLAR:

PROFESSORA

DATA

NOME:

FASE

CÓDIGO BNCC

**LP** **LÍNGUA PORTUGUESA**

# A cidade



**01** Observe a ilustração acima de uma cidade. Escreva o que você consegue observar nela.

---

---

---

---

**02** O que é cidade?

---

---

---

03 Você reconhece de qual cidade são essas fotos?

---

04 Na cidade onde você mora tem ruas e avenidas?

---

05 Elas são asfaltadas?

---

06 Existe um movimento grande de veículo e de pessoas?

---

07 Ela possui edifícios?

---

08 Qual imagem acima é urbana e qual é rural?

---

---

09 Responda:

A Eu moro na cidade de: \_\_\_\_\_

B No estado \_\_\_\_\_

C Moro na rua \_\_\_\_\_

D Você mora perto ou longe do centro da cidade? \_\_\_\_\_

E Sua cidade tem shopping? \_\_\_\_\_

F O que você mais gosta na sua cidade? \_\_\_\_\_

---

---

10 Escreva o nome ou siglas, das empresas que prestam os serviços abaixo no seu município.

serviços	empresa
Luz elétrica	
Telefone	
Coleta de lixo	
Transporte coletivo	
Correspondência	
Água	



UNIDADE ESCOLAR:

PROFESSORA

DATA

NOME:

FASE

CÓDIGO BNCC



**01** Veja as anotações que Laura fez em sua agenda e depois responda as questões:

Papel pardo	R\$ 15,00
Papel crepom	R\$ 44,00
Cartolina	R\$ 24,00
Canetinhas	R\$ 53,00
Tubos de cola	R\$ 18,00

**A** Qual foi o produto mais caro que Laura comprou? \_\_\_\_\_

**B** Quanto ela gastou com papel crepom a mais que com papel pardo? \_\_\_\_\_

**C** Quanto Laura gastou na papelaria? \_\_\_\_\_

**D** Quanto faltou para Laura ter gastado 200 reais? \_\_\_\_\_

**E** Quanto ela teria gastado se não tivesse comprado as canetinhas? \_\_\_\_\_

**02** Agora veja as anotações que um aluno que participou da organização da festa da escola.

Pessoas que trabalharão na festa	
Barracas de brincadeiras	16
Barracas de comidas	22
Barracas de bebidas	15
Nos caixas	12
Som e iluminação	6



A Quantas pessoas trabalharão na festa? \_\_\_\_\_


B Quantas pessoas trabalharão nas barracas da parte da alimentação?  
\_\_\_\_\_

C Quais são as barracas que terão números pares de pessoas para trabalhar?  
\_\_\_\_\_

D De todas as pessoas que trabalharão na festa, se eu retirar as que vão trabalhar no som e iluminação, quantas pessoas restarão para trabalhar?  
\_\_\_\_\_

03 Resolva os probleminhas abaixo:

A Comprei um liquidificador por R\$ 96,00 e paguei com uma nota de R\$ 100,00. Quantos recebi de troco?



B Luísa foi comprar um tênis e levou 3 notas de 50 reais. O tênis custava R\$ 138,00. Faltou ou sobrou dinheiro? Calcule e descubra a resposta:



04 Resolva as subtrações.

$$\begin{array}{r} 9.467 \\ - 3.478 \\ \hline \end{array}$$

$$\begin{array}{r} 4.785 \\ - 3.456 \\ \hline \end{array}$$

$$\begin{array}{r} 9.378 \\ - 3.898 \\ \hline \end{array}$$

$$\begin{array}{r} 9.678 \\ - 7.987 \\ \hline \end{array}$$

$$\begin{array}{r} 5.376 \\ - 3.589 \\ \hline \end{array}$$

$$\begin{array}{r} 8.456 \\ - 5.568 \\ \hline \end{array}$$



$$\begin{array}{r} 9.456 \\ - 8.568 \\ \hline \end{array}$$

$$\begin{array}{r} 7.467 \\ - 4.598 \\ \hline \end{array}$$

$$\begin{array}{r} 4.655 \\ - 986 \\ \hline \end{array}$$



UNIDADE ESCOLAR:

PROFESSORA

DATA


NOME:

FASE

CÓDIGO BNCC

**LP** **LÍNGUA PORTUGUESA**

**01** Leia com atenção e pinte o nome das frutas.



MAMÃO  
MELANCIA  
MORANGO



LIMÃO  
LIMA  
LARANJA



MORANGO  
MAMÃO  
MELANCIA



ABACATE  
BANANA  
MANGA



MAMÃO  
MAÇÃ  
MELÃO



AMEIXA  
CAQUI  
TOMATE



ACEROLA  
PITANGA  
UVA



ABACAXI  
ABACATE  
ACEROLA



**Terça Verde**  
**AGROECOLÓGICA**

Frutas e verduras fresquinhas  
com o melhor preço!

Arrasta para o lado  
e confira o cardápio



**02** Ligue de forma correta a imagem ao seu nome:



REPOLHO  
ALHO  
BETERRABA  
CEBOLA  
MANDIOCA  
COUVE  
CENOURA



**03** Escreva o nome de três alimentos que você compra na feira.

04 Construa uma frase utilizando o nome do seu alimento preferido.






05 Paulo é um garoto que adora comer frutas. Ele resolveu comer uma fruta diferente a cada dia da semana.

1º dia	2º dia	3º dia	4º dia	5º dia	6º dia	7º dia
DOMINGO	SEGUNDA	TERÇA	QUARTA	QUINTA	SEXTA	SÁBADO
						




Observe as frutas que ele escolheu e escreva os nomes no dia correspondente:

Domingo	
Segunda	
Terça	
Quarta	
Quinta	
Sexta	
Sábado	

06 Escreva o nome das frutas separando-as em sílabas:

07 Relacione as figuras ao seu nome.



- ( ) REPOLHO
- ( ) CEBOLINHA
- ( ) BATATA
- ( ) MILHO
- ( ) CENOURA
- ( ) BRÓCOLIS
- ( ) CEBOLA
- ( ) TOMATE



UNIDADE ESCOLAR:

PROFESSORA

DATA

NOME:

FASE

CÓDIGO BNCC

**MA**

**MATEMÁTICA**

**01** Observe os preços no cartaz ao lado e responda as perguntas abaixo:

**A** Qual o valor da dúzia da banana prata?

\_\_\_\_\_

**B** E o valor da abóbora madura?

\_\_\_\_\_

**C** Se Marcos comprar 3 dúzias de banana e 1 abóbora, quanto Marcos irá gastar?

\_\_\_\_\_

**Produtos 100% ORGÂNICOS**

Banana prata dz.....	R\$ 6,00
Banana nanica dz.....	R\$ 5,00
Abóbora madura.....	R\$ 4,00
Coco seco und.....	R\$ 5,00
Quiabo .....	R\$4,00
Chocolate 70%.....	R\$ 15,00
Chocolate 60% .....	R\$15,00

Arrasta para o lado e confira o cardápio

**01/08 A PARTIR DAS 9H**

**02** Calcule os resultados das operações:

**A**  $4379 + 3657 =$  \_\_\_\_\_

**B**  $5644 - 975 =$  \_\_\_\_\_

**C**  $453 \times 3 =$  \_\_\_\_\_

**D**  $96 : 3 =$  \_\_\_\_\_

**E**  $6543 + 3655 =$  \_\_\_\_\_





















**F**  $4567 - 2765 =$  \_\_\_\_\_





















**G**  $376 \times 4 =$  \_\_\_\_\_

**H**  $154 : 2 =$  \_\_\_\_\_

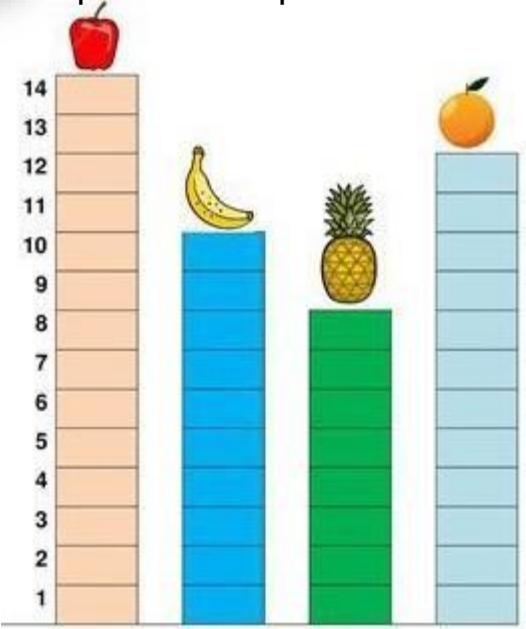


03 Descubra os números que estão no lugar dos símbolos.

1		3	4		6	7		9	
	12	13			16		18		20
	22		24	25		27		29	30
31		33			36	37	38		40
41			44	45	46	47	48		50

	<input type="text"/>		<input type="text"/>		<input type="text"/>		<input type="text"/>
	<input type="text"/>		<input type="text"/>		<input type="text"/>		<input type="text"/>
	<input type="text"/>		<input type="text"/>		<input type="text"/>		<input type="text"/>
	<input type="text"/>		<input type="text"/>		<input type="text"/>		<input type="text"/>
	<input type="text"/>		<input type="text"/>		<input type="text"/>		<input type="text"/>

04 A mamãe foi à feira comprar frutas, mas antes ela fez uma votação com seus filhos para saber qual fruta era a preferida deles.



Qual é a fruta preferida deles?

\_\_\_\_\_

Qual é a fruta que teve menos votos?

\_\_\_\_\_

Quantos votos teve a laranja?

\_\_\_\_\_



UNIDADE ESCOLAR:

PROFESSORA

DATA

NOME:

FASE

CÓDIGO BNCC



## Marcha a Bom Jesus

Oh! Bom Jesus!

Terra de hospitalidade,  
Longe de ti,  
Quase morro de saudade!

Oh! Bom Jesus!

Terra de hospitalidade!...  
Longe de ti, oh! Bom Jesus,  
Morro de saudade!

Tens os montes verdejantes,  
Lá no alto do Calvário,  
Todos nós juntos, em prece,  
Veneramos o Santuário.  
Tua garota é formosa e gentil  
Oh! Bom Jesus!  
Pedaço do meu Brasil!

(LETRA E MELODIA SALIM DARWICH TANNUS)




Foto antiga da capela Cristo Rei fundada por Pe. Mello



Foto atual da capela Cristo Rei

[O NORTE FLUMINENSE, Bom Jesus do Itabapoana \(RJ\): Capela do Monte Calvário foi inaugurada em 1934](#)

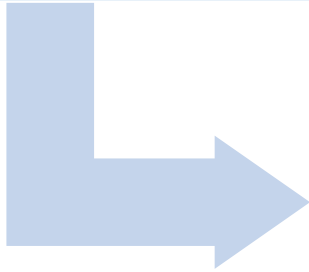
**01** Retire do hino de Bom Jesus do Itabapoana, três palavras com duas sílabas.

**02** Escreva o nome do autor da Marcha a Bom Jesus.

03 Qual o nome do Padre que fundou a capela no Monte Calvário?

04 Copie o trecho do hino usando a letra cursiva.

Oh! Bom Jesus!  
Terra de hospitalidade!...  
Longe de ti, oh! Bom Jesus,  
Morro de saudade!

05 Observe o mapa abaixo e escreva o nome das cidades que fazem divisa com Bom Jesus do Itabapoana pelo Estado do Rio de Janeiro.


[mapa de bom jeus do itabapoana - Bing images](#)