

PREFEITURA MUNICIPAL DE BOM JESUS DO ITABAPOANA-RJ
SECRETARIA MUNICIPAL DE EDUCAÇÃO, ESPORTE E LAZER

SEMEEL

A mudança está em nossas mãos

Atividades Orientadoras



1º ano

Ensino Fundamental

UNIDADE ESCOLAR:

PROFESSOR(A)

ANO DE ESCOLARIDADE

1º ANO

DATA

33ª SEMANA (02/10 – 06/10)

NOME:

HOJE É?

SEGUNDA

TERÇA

QUARTA

QUINTA

SEXTA

CÓDIGO BNCC

EF15LP02 / EF01LP04.RJ



LÍNGUA PORTUGUESA



1. FAÇA A LEITURA COMPARTILHADA DO TEXTO E COMPLETE COM O FEMININO DAS PALAVRAS:

A ARCA DE NOÉ

CHOVIA MUITO. O PLIC... PLIC... DAS ÁGUAS NÃO PARAVA. EM BREVE, OS ANIMAIS MORRERIAM AFOGADOS. NOSSO SENHOR TEVE PENA DELES. MANDOU QUE O VELHO NOÉ OS ABRIGASSE NA ARCA. O BONDOSO NOÉ SORRIU. DEPOIS ABRIU A PORTA DE SUA ARCA. PARA LÁ SUBIRAM OS ANIMAIS, AOS CASAIS...

UM ANIMAL MASCULINO E OUTRO FEMININO:

O GALO E A _____

O PERU E A _____

O COELHO E A _____

O PAVÃO E A _____

O MACACO E A _____



DEPOIS DE ALGUNS DIAS, A CHUVA PAROU. UMA POMBINHA BRANCA FOI VER A TERRA. ENCONTROU O SOL A SECÁ-LA. ENTÃO NOÉ ABRIU A PORTA DA ARCA. DE LÁ PARTIRAM OS ANIMAIS FORAM PARA SUAS ANTIGAS MORADAS. ATÉ HOJE VIVEM TRANQUILOS, CADA QUAL COM SUA COMPANHEIRA.

O BODE E A _____

O PORCO E A _____

O BOI E A _____

O LEÃO E A _____

O CAVALO E A _____

O CARNEIRO E A _____

O CÃO E A _____


LINGUAGEM ORAL, LEITURA E ESCRITA

GÊNERO DO SUBSTANTIVO REFERE-SE AO MASCULINO E FEMININO DOS SERES, OBJETOS E ENTIDADES.


2. CLASSIFIQUE OS SUBSTANTIVOS EM FEMININO OU MASCULINO:

HERÓI – GENRO – BOI – MAMÃE – GALINHA – ABELHA-
NORA – PAPAI – ZANGÃO – HEROÍNA – VACA - GALO

MASCULINO



FEMININO



3. PASSE AS FRASES PARA O FEMININO:

VOVÔ VIU O BOI NO PASTO.

O MENINO COMEU A MAÇÃ DO PROFESSOR.

O MÉDICO CUIDOU DO MEU PRIMO.

4.ESCREVA **F** PARA SUBSTANTIVOS FEMININOS E **M** PARA MASCULINOS.

() BARÃO

() PADRINHO

() BAILARINA

() GARÇOM

() PASTOR

() PATROA

() CAIO


() GATO

() TITIA

() MARIA

5.ESCREVA AS FRASES SUBSTITUINDO AS IMAGENS PELOS SUBSTANTIVOS CORRESPONDENTES. UTILIZE A PONTUAÇÃO QUE VOCÊ DESEJAR (. ! ?).

O



NADA NA



A



BRINCA COM A



O



É DO



O



COMEU A



A



GOSTA DE



O



PULOU NO



UNIDADE ESCOLAR:

PROFESSOR(A)

ANO DE ESCOLARIDADE

DATA

NOME:

HOJE É?

SEGUNDA TERÇA QUARTA QUINTA SEXTA

CÓDIGO BNCC

MATEMÁTICA


1. RESOLVA OS FATOS EM DESTAQUE E DEPOIS PINTE A QUANTIDADE CORRESPONDENTE AO VALOR ENCONTRADO, CONFORME O MODELO E RESPONDA:


14
13
12
11
10
9
8
7
6
5
4
3
2
1


$14 - 6 = \dots$ $14 - 8 = \dots$


$14 - 5 = 9$ $14 - 7 = \dots$ $14 - 9 = \dots$


2. PINTE SEGUINDO AS ORIENTAÇÕES:





Azul  NÚMERO QUE REPRESENTA 3 DEZENAS.

Rosa  ANTECESSOR DE 81 E SUCESSOR DE 79.

Verde  O RESULTADO DA SOMA DE 34 E 43.

Vermelho  REPRESENTA UMA DÚZIA.

Amarelo  OITO DEZENAS E NOVE UNIDADES.

Roxo  MEIA DÚZIA.

3. COMPONHA OS NÚMEROS:

$30 + 7 =$ _____

$20 + 5 =$ _____

$60 + 4 =$ _____

$40 + 9 =$ _____

$80 + 3 =$ _____



UNIDADE ESCOLAR:

PROFESSOR(A)

ANO DE ESCOLARIDADE

DATA

NOME:

HOJE É?

SEGUNDA

TERÇA

QUARTA

QUINTA

SEXTA

CÓDIGO BNCC

EF12LP01 / EF01LP03/ EF01LP05

LÍNGUA PORTUGUESA



LINGUAGEM ORAL, LEITURA E ESCRITA

1. LEIA O TEXTO ABAIXO COM A AJUDA DO PROFESSOR E RESPONDA:

O SAPO SAPECA

O SAPO SAPECA
PEGOU A PETECA,
SALTOU A JANELA,
CAIU NA PANELA,
BEBEU TODA A SOPA
QUE ESTAVA NELA,
VIROU O SUCO DE MARACUJÁ
NA ALMOFADA DAQUELE SOFÁ,
E FUGIU PARA O SÍTIO
NA BEIRA DO RIO,
SUJOU O SOLADO
DO MEU SAPATO,
PUXOU O RABO DO POBRE DO GATO
E, FINALMENTE, SUMIU NO MATO...



S

2. PINTE AS PALAVRAS QUE RIMAM NO TEXTO.

3. DESCUBRA DE QUAL LETRA A CHARADA SE REFERE:

**ESTOU NO SAPO E NO SUCO,
NO SINO E NO SELO.
NO SAPATO, NA SOPA
E NA SALADA.
QUEM SOU EU?**



4. OBSERVE A NUVEM DE PALAVRAS E SELECIONE-AS:

SOPA – BESOURO – SAPO – DINOSSAURO –
CASA – PÁSSARO - SAPATO – TESOURA –
PÊSSEGO – SALA – CASACO – ASSOPIO –
PASSEIO – SALADA - SELA

S (INICIAL)	S (SOM DE Z)	SS

FICHA DE LEITURA 12

A

A SEREIA

A SEREIA É

A SEREIA É AMIGA

A SEREIA É AMIGA DA

A SEREIA É AMIGA DA BALEIA.



FICHA DE LEITURA 13

O

O SINO

O SINO DA

O SINO DA CAPELINHA

O SINO DA CAPELINHA TOCOU

O SINO DA CAPELINHA TOCOU ALTO.



VAMOS ESCREVER COLETIVAMENTE MAIS FICHAS DE LEITURA. EU COMEÇO!

O

O DINOSSAURO

A

A TESOURA

UNIDADE ESCOLAR:

PROFESSOR(A)

ANO DE ESCOLARIDADE

DATA

NOME:

HOJE É?

SEGUNDA
 TERÇA
 QUARTA
 QUINTA
 SEXTA









CÓDIGO BNCC

EF01MA01 / EF01MA08

MATEMÁTICA




1. DONA MARIA ESTÁ FAZENDO UMA LIQUIDAÇÃO EM SUA LOJA E COLOCOU VÁRIOS PRODUTOS EM LIQUIDAÇÃO. PINTE AS NOTAS QUE VOCÊ PRECISA PARA FAZER AS COMPRAS:

 <p>R\$ 85,00</p>	
<p>R\$ 17,00</p> 	
<p>R\$ 35,00</p> 	
<p>R\$ 7,00</p> 	

2. SITUAÇÕES- PROBLEMA:

- MAMÃE COMPROU 35 LARANJAS. FEZ SUCO E USOU 15 LARANJAS. QUANTAS LARANJAS SOBRARAM?



D	U

R.: _____

- EM UMA ÁRVORE HAVIAM 46 PÁSSAROS, 24 VOARAM. QUANTOS PÁSSAROS FICARAM NA ÁRVORE?



D	U

R.: _____

- MAMÃE ENCOMENDOU 86 SALGADOS. SENDO 35 FRITOS E OS OUTROS ASSADOS. QUANTOS ERAM OS SALGADOS ASSADOS?

$86 - 35 = \underline{\hspace{2cm}}$
$35 + \underline{\hspace{2cm}} = 86$



D	U

- GABRIEL TINHA 65 BOLINHAS DE GUDE, PERDEU ALGUMAS DURANTE O JOGO E FICOU COM 24. QUANTAS BOLINHAS DE GUDE GABRIEL PERDEU?

$65 - 24 = \underline{\hspace{2cm}}$
$24 + \underline{\hspace{2cm}} = 65$



D	U

UNIDADE ESCOLAR:

PROFESSOR(A)

ANO DE ESCOLARIDADE

DATA

NOME:

HOJE É?

SEGUNDA

TERÇA

QUARTA

QUINTA

SEXTA

CÓDIGO BNCC


CIÊNCIAS



OBJETOS E MATERIAIS

VOCÊ JÁ NOTOU A VARIEDADE DE OBJETOS QUE ESTÃO AO NOSSO REDOR? VEJA, COMO UM MESMO MATERIAL PODE SER UTILIZADO PARA A FABRICAÇÃO DE DIFERENTES OBJETOS E COMO OS OBJETOS SÃO FEITOS DE DIFERENTES MATERIAIS . TAMBÉM PODEMOS DIZER QUE HÁ DIFERENTES MATERIAIS PARA UM MESMO OBJETO.

1. OBSERVE A IMAGEM E RESPONDA:



2. QUAL NOME DO OBJETO? _____

3. DE QUAL MATERIAL ELE É FEITO? _____

4. ASSINALE, QUAIS OUTROS MATERIAIS ESSE OBJETO PODE SER FEITO:

() VIDRO

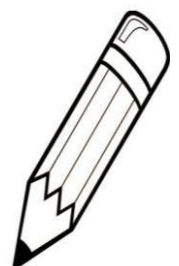
() ALUMÍNIO

() PAPEL

() FERRO

() PLÁSTICO

() AREIA



5. OBSERVE A IMAGEM E RESPONDA:



6. ANALISE A IMAGEM E ESCREVA:

DOIS OBJETOS FEITOS DE MADEIRA: _____

DOIS OBJETOS FEITOS DE METAL: _____

UM OBJETO FEITO DE VIDRO: _____

UM OBJETO FEITO DE TECIDO: _____

7. OBSERVE OS DIVERSOS OBJETOS ABAIXO E MARQUE A OPÇÃO EM QUE ELES NÃO SÃO FEITOS DO MESMO MATERIAL.

