

PREFEITURA MUNICIPAL DE BOM JESUS DO ITABAPOANA-RJ  
SECRETARIA MUNICIPAL DE EDUCAÇÃO, ESPORTE E LAZER

**SEMEEL**

*A mudança está em nossas mãos*

# Atividades Orientadoras



**4º**  
*ano*

# Ensino Fundamental

UNIDADE ESCOLAR:

PROFESSOR(A)

ANO DE ESCOLARIDADE

4º ANO

DATA

31ª SEMANA (18/09 – 22/09)

NOME:

HOJE É?

SEGUNDA

TERÇA

QUARTA

QUINTA

SEXTA

CÓDIGO BNCC

EF15LP02



## LÍNGUA PORTUGUESA

### Sustentabilidade

Sustentabilidade é um ato de bondade, de equilíbrio utilizar a terra, a água e o ar.

A natureza preservando, o mundo melhorando, nossa vida ficando melhor, e a todos ao nosso redor!

Seremos sempre felizes! Não haverá cicatrizes. E com nosso mundo sustentável, todos terão uma vida saudável!

Sustentabilidade é equilibrar todas as ações e decisões. Reciclando nossas mentes,

Vamos fazer diferente.

Ser sustentável é muito importante, tudo fica mais interessante, nosso coração fica pulsante.

Temos chance de mudar, vamos agir e não só falar. Para que nossa natureza seja variedade, temos que manter a sustentabilidade!



Lucas Weber Leite

1- Responda.

a) O que é sustentabilidade segundo o texto?

---

---

b) O que acontece quando preservamos a natureza?

---

c) O que significa o verso? "E com nosso mundo sustentável".

---

---

d) O que podemos fazer para que o mundo se torne melhor?

---

---

2- Leia o texto abaixo.

A **Terra** é um lugar verdadeiramente notável, mas seu meio ambiente é algo que muitas vezes é menosprezado. A beleza natural dos mares e florestas é incomparável, e ainda assim continuamos a poluí-los e corrompê-los.

Dependemos de nosso ambiente para nossa própria existência. Enquanto continuamos a destruí-lo para ganhos materialistas acabamos nos prejudicando. Se a humanidade deseja prosperar, precisamos aprender a proteger e abraçar este planeta e não trabalhar contra ele.

Marque um x na resposta correta.

- ( ) A terra é um lugar verdadeiramente notável, mas seu meio ambiente é algo que muitas vezes é menosprezado.
- ( ) A beleza natural dos mares e florestas é incomparável.
- ( ) Se não cuidarmos do nosso planeta podemos destruí-lo.
- ( ) Dependemos de nosso ambiente para nossa própria existência.
- ( ) Não dependemos do planeta para sobrevivermos.

3- Reescreva as frases abaixo substituindo as palavras destacadas por um pronome pessoal do caso reto.

a) **Betina** cuida do planeta.

---

b) **Juca** e **Valdemar** jogam o lixo na lixeira.

---

c) **Carla** plantou uma árvore.

---

UNIDADE ESCOLAR:

PROFESSOR(A)

ANO DE ESCOLARIDADE

DATA

NOME:

HOJE É?

SEGUNDA  TERÇA  QUARTA  QUINTA  SEXTA

CÓDIGO BNCC



## Frações

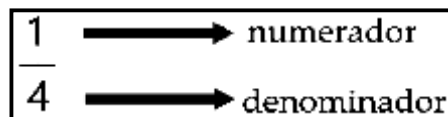
1- Pinte as partes de acordo com as frações.

	$\frac{1}{2}$		$\frac{3}{4}$
	$\frac{1}{8}$		$\frac{1}{3}$
	$\frac{3}{5}$		$\frac{4}{5}$
	$\frac{5}{7}$		$\frac{5}{8}$

2- Escreva as frações por extenso.

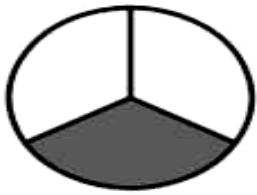
$\frac{2}{3}$	_____
$\frac{1}{2}$	_____
$\frac{3}{6}$	_____
$\frac{2}{8}$	_____
$\frac{5}{7}$	_____

3- Multiplique o **denominador** de uma fração pelo **numerador** da outra fração e verifique se as frações são equivalentes e complete o quadro central com os símbolos de igual = ou diferente  $\neq$ . Observe o exemplo.

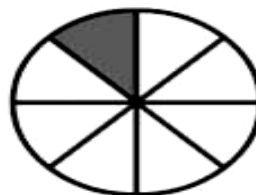


a.	b.	c.	d.
$\frac{32}{4} \xrightarrow{-2} \frac{8}{16} \xrightarrow{+2} 32$	$\frac{\square}{6} \xrightarrow{-5} \frac{10}{12} \xrightarrow{+5} \square$	$\frac{\square}{3} \xrightarrow{-4} \frac{12}{9} \xrightarrow{+4} \square$	$\frac{\square}{3} \xrightarrow{-2} \frac{6}{9} \xrightarrow{+2} \square$

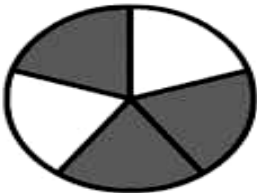
4- Escreva a fração correspondente à parte colorida de cada figura.



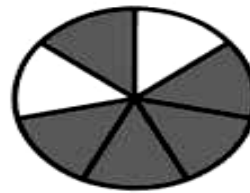
\_\_\_\_\_



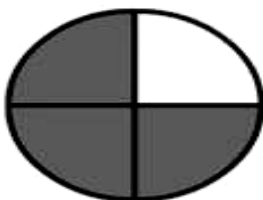
\_\_\_\_\_



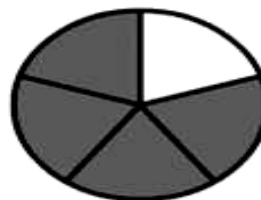
\_\_\_\_\_



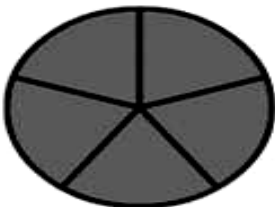
\_\_\_\_\_



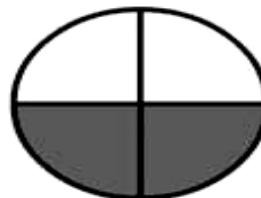
\_\_\_\_\_



\_\_\_\_\_




\_\_\_\_\_



\_\_\_\_\_

5- Desenhe as frações e pinte seguindo o modelo abaixo.



a)  $\frac{2}{5}$

b)  $\frac{1}{6}$

c)  $\frac{3}{8}$

d)  $\frac{1}{2}$

e)  $\frac{4}{8}$

f)  $\frac{3}{6}$





UNIDADE ESCOLAR:

PROFESSOR(A)

ANO DE ESCOLARIDADE

4º ANO

DATA

31ª SEMANA (18/09 – 22/09)

NOME:

HOJE É?

SEGUNDA

TERÇA

QUARTA

QUINTA

SEXTA

CÓDIGO BNCC

EF04LP06



## LÍNGUA PORTUGUESA

### Pronomes pessoais

1- Leia a tirinha de Leloca abaixo.



a) Na frase: “Porque **ela** gosta de estudar” a palavra destacada é:

- um pronome pessoal do caso oblíquo.
- um pronome pessoal do caso reto.
- um adjetivo.
- um substantivo.

b) No último quadrinho, a expressão “mas se **eu** gostasse” O pronome está se referindo a qual pessoa?

- 1ª pessoa do singular.
- 2ª pessoa do singular.
- 3ª pessoa do singular.
- 1ª pessoa do plural.

2-Troque o termo em destaque por pronomes oblíquos, como nos modelos abaixo:

Vou convidar **meu irmão**.  
Vou convidá-**lo**.  
Prepararam **a ceia**.  
Prepararam-**na**.

a) Preciso chamar **os adultos**.

---

b) Vou entregar **o bilhete**.

---

c) Preciso ver **as panelas**.

---

d) Preciso copiar **a lição**.

---

3- Reescreva as frases trocando o nome destacado por pronomes:

a) **O cacique** era o líder.

---

b) **Os pássaros** voam.

---

c) **As flores** murcharam.

---

d) **Vitória** amava o sol.

---

4- Complete as frases com pronomes pessoais do caso reto:

a) \_\_\_\_\_ admiro a serra do mar.


b) \_\_\_\_\_ admiras a serra do mar.

c) \_\_\_\_\_ admira a serra do mar.

d) \_\_\_\_\_ admira a serra do mar.

e) \_\_\_\_\_ admiramos a serra do mar.

f) \_\_\_\_\_ admirais a serra do mar.



UNIDADE ESCOLAR:

PROFESSOR(A)

ANO DE ESCOLARIDADE

4º ANO

DATA

31ª SEMANA (18/09 – 22/09)

NOME:

HOJE É?

SEGUNDA

TERÇA

QUARTA

QUINTA

SEXTA

CÓDIGO BNCC

EF04MA13


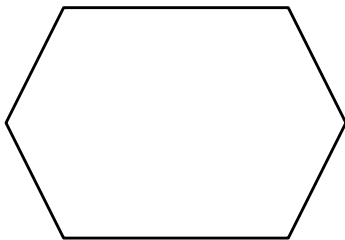


## As quatro operações

1- Resolva os problemas abaixo e tire a prova real das letras a e b.

a) Paulo resolveu pintar sua casa e viu que precisava de 2 latas de tinta. Cada lata custa 526,00 reais. Quanto Paulo gastará para pintar sua casa?

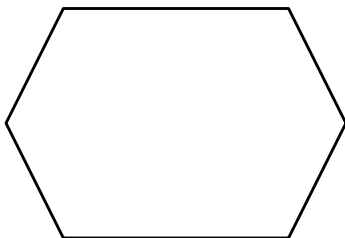
Cálculo:



Resposta: \_\_\_\_\_

b) Juliana comprou 3 pares de sapatos por 363,00 reais. Quanto ela pagou por cada par?


Cálculo:



Resposta: \_\_\_\_\_

c) Rose fez uma festa de aniversário para seu filho e gastou 4.348,00 reais. Dividiu esse valor em 5 prestações. Quanto Rose pagou em cada prestação?

Cálculo:

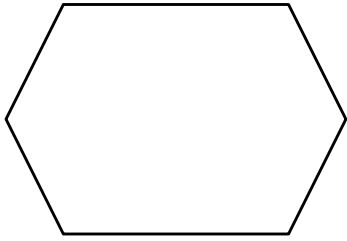


Resposta: \_\_\_\_\_



d) Vovó Eurides fez para o aniversário de sua neta Fernanda 245 empadinhas, 346 coxinhas e 412 quibes. Quantos salgadinhos foram feitos para o aniversário de Fernanda?

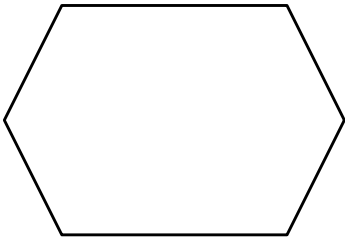
Cálculo:



Resposta: \_\_\_\_\_

e) De 1003 salgadinhos feitos por vovó Eurides, foram consumidos 622. Quantos salgadinhos sobraram?

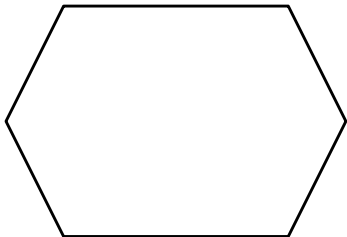
Cálculo:



Resposta: \_\_\_\_\_

f) Claudio tinha 567 laranjas para vender. Conseguiu vender 478. Quantas laranjas sobraram?

Cálculo:



Resposta: \_\_\_\_\_

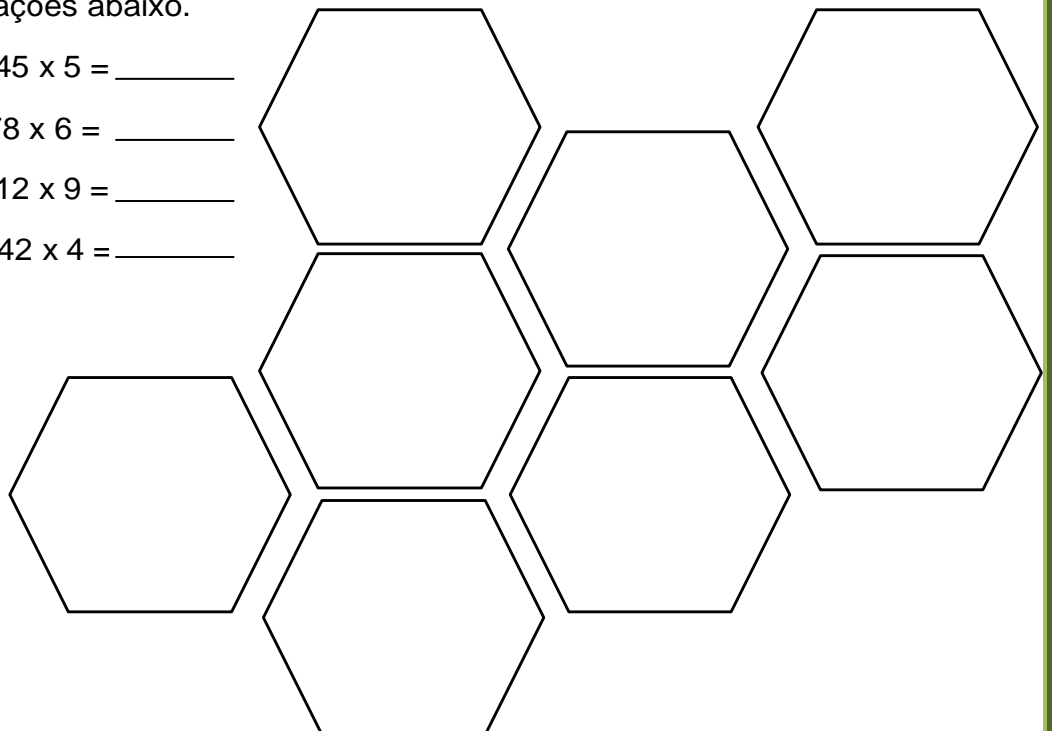
2- Arme e resolva as operações abaixo.

a)  $264 \div 2 =$  \_\_\_\_\_ e)  $345 \times 5 =$  \_\_\_\_\_

b)  $568 \div 3 =$  \_\_\_\_\_ f)  $478 \times 6 =$  \_\_\_\_\_

c)  $728 \div 8 =$  \_\_\_\_\_ g)  $912 \times 9 =$  \_\_\_\_\_

d)  $574 \div 7 =$  \_\_\_\_\_ h)  $542 \times 4 =$  \_\_\_\_\_





UNIDADE ESCOLAR:

PROFESSOR(A)  ANO DE ESCOLARIDADE  DATA

4º ANO 31ª SEMANA (18/09 – 22/09)

NOME:

HOJE É?

SEGUNDA  TERÇA  QUARTA  QUINTA  SEXTA

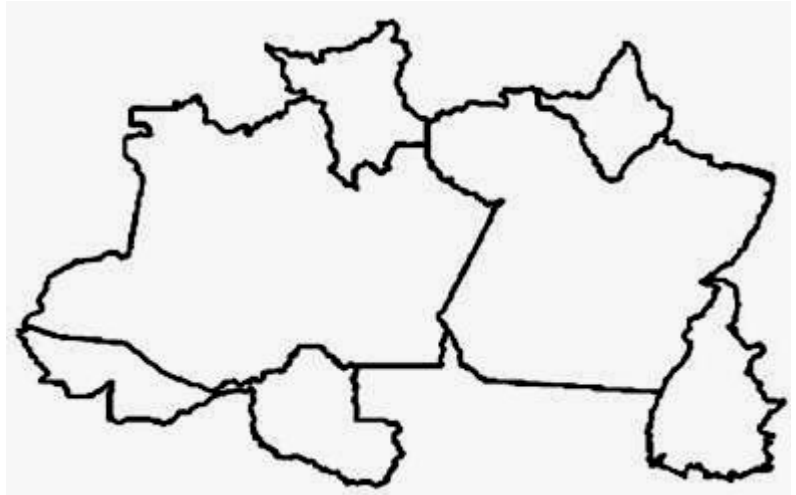
CÓDIGO BNCC

EF04GE10



## Vamos conhecer um pouco mais sobre as regiões do Brasil e seus estados

A **Região Norte** ocupa uma área de 3 853 676,948 km<sup>2</sup>. É a maior das regiões brasileiras, fazendo fronteira com a **Bolívia, Peru, Colômbia, Venezuela, Guiana, Suriname** e a **Guiana Francesa**. Essa região é formada por **7 Estados**:



- Amazonas (AM): capital Manaus;
- Pará (PA): capital Belém;
- Acre (AC): capital Rio Branco;
- Rondônia (RO): capital Porto Velho;
- Tocantins (TO): capital Palmas;
- Amapá (AP): capital Macapá;
- Roraima (RR): capital Boa Vista.

A **Região Nordeste** ocupa uma área de 1 554 291,607 km<sup>2</sup> sendo a região brasileira que possui a maior costa litorânea do país. Essa região é formada por **9 Estados**:



- Maranhão (MA): capital São Luís;
- Piauí (PI): capital Teresina;
- Ceará (CE): capital Fortaleza;
- Rio Grande do Norte (RN): capital Natal;
- Paraíba (PB): capital João Pessoa;
- Pernambuco (PE): capital Recife;
- Alagoas (AL): capital Maceió;
- Sergipe (SE): capital Aracaju;
- Bahia (BA): capital Salvador.

A **Região Cento Oeste** é a única região brasileira que não é banhada pelo mar. Ela ocupa uma área de 1 606 399,509 km<sup>2</sup>. Faz fronteira com a **Bolívia** e o **Paraguai**, e sua localização permite ligação de fronteira com todas as outras regiões brasileiras. Essa região é formada por **3 Estados e o Distrito Federal**:

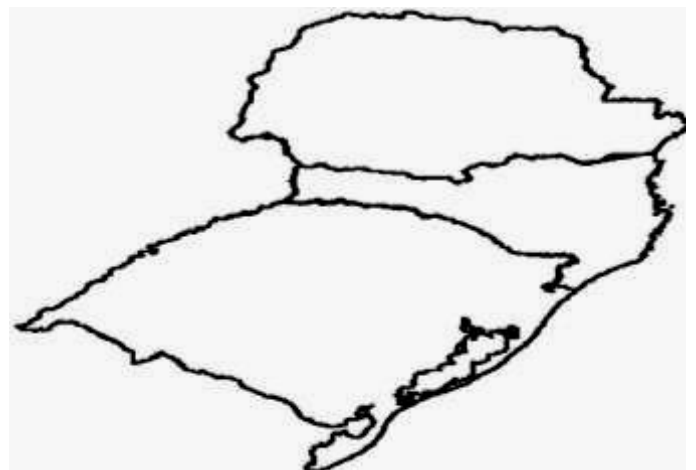
- Mato Grosso (MT): capital Cuiabá;
- Goiás (GO): capital Goiânia;
- Mato Grosso do Sul (MS): capital Campo Grande;
- Distrito Federal (DF): capital Brasília.

A **Região Sudeste** ocupa uma área de 924 620,678 km<sup>2</sup> sendo a segunda menor região brasileira em extensão territorial e a mais desenvolvida economicamente. Além disso, é considerada a mais populosa das regiões abrigando 44% da população brasileira. Essa região é formada por **4 Estados**:

- Minas Gerais (MG): capital Belo Horizonte;
- Espírito Santo (ES): capital Vitória;
- São Paulo (SP): capital São Paulo;
- Rio de Janeiro (RJ): capital Rio de Janeiro.

A **Região Sul** ocupa uma área de 576 744,310 km<sup>2</sup> sendo considerada a menor região brasileira. Essa região faz fronteira com o **Uruguai**, **Argentina** e **Paraguai** e é formada por **3 Estados**:

- Paraná (PR): capital Curitiba;
- Santa Catarina (SC): capital Florianópolis;
- Rio Grande do Sul (RS): capital Porto Alegre.



1- Responda.

a) Qual é área em extensão territorial da região norte?

---

b) A região norte faz fronteira com quais países?

---

c) A região norte tem quantos estados? \_\_\_\_\_

d) Escreva o nome dos estados da região nordeste.

---

---

---

e) Qual é a região brasileira que possui a maior costa litorânea do país?

f) Qual é a região brasileira que não é banhada pelo mar?

g) Quais países fazem fronteira com a região centro oeste?

h) Qual é a capital do Brasil?

i) Qual é a região considerada a mais populosa do Brasil?

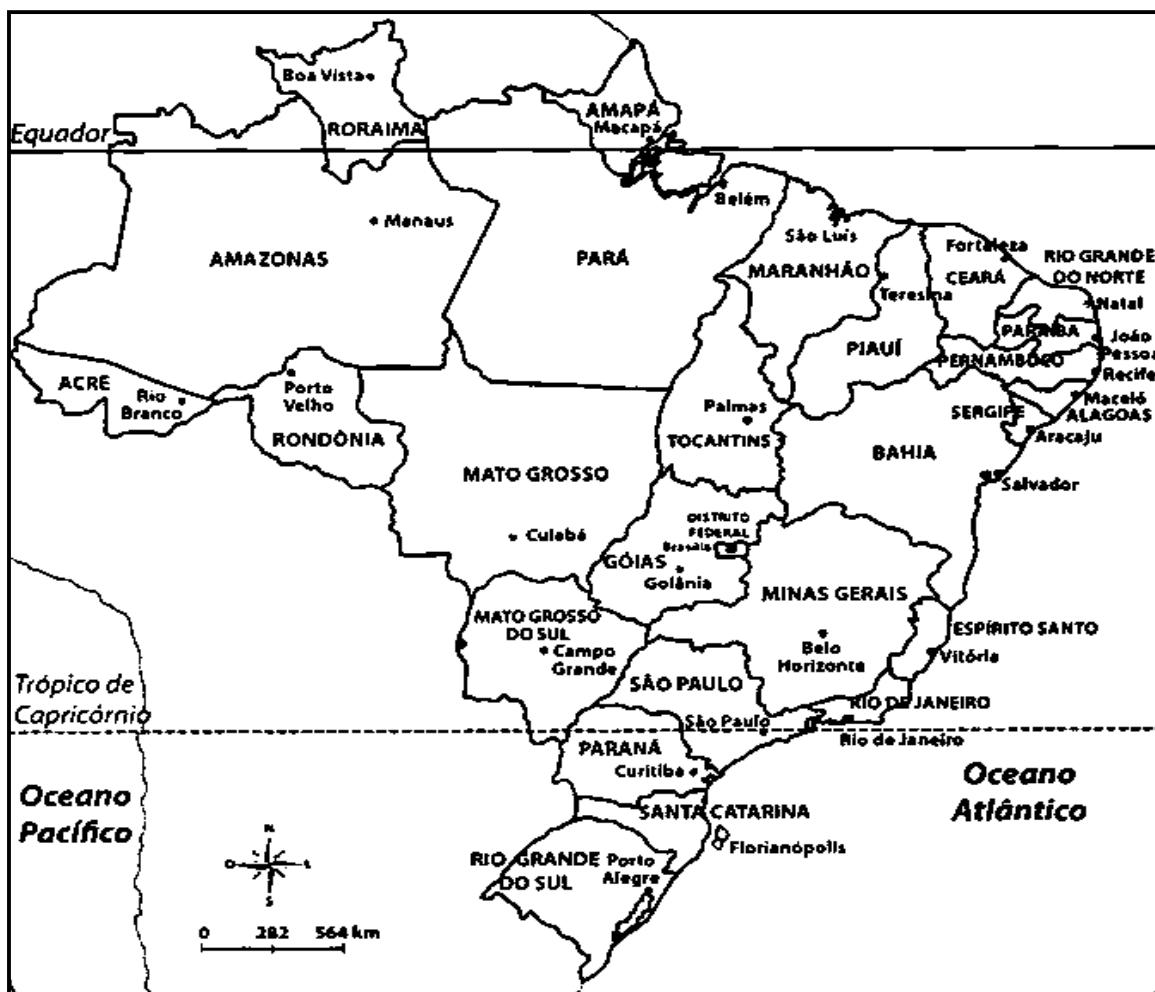
j) Em qual estado da região sudeste moramos?

k) Qual é a menor região brasileira?

l) Escreva o nome das regiões que possuem três estados.

2- Observe o mapa abaixo.

### Mapa Brasil Político - estados e capitais



a) Escreva o nome dos oceanos que aparecem no mapa acima.

b) Volte às páginas 9 e 10 e coloque os nomes dos estados nos mapas de cada região.