

PREFEITURA MUNICIPAL DE BOM JESUS DO ITABAPOANA-RJ
SECRETARIA MUNICIPAL DE EDUCAÇÃO, ESPORTE E LAZER

Atividades Orientadoras



Educação de Jovens e Adultos

FASE I



UNIDADE ESCOLAR:

PROFESSORA

DATA

2ª SEMANA DE OUTUBRO

NOME:

FASE

CÓDIGO BNCC



01 LEIA O TEXTO COM AJUDA DO PROFESSOR:

A ORIGEM DO DIA DOS PROFESSORES

A ORIGEM DO DIA DOS **PROFESSORES** SE DEVE AO FATO DE, EM UMA DATA DE 15 DE **OUTUBRO**, O IMPERADOR D. PEDRO I TER INSTITUÍDO UM DECRETO QUE CRIOU O **ENSINO** ELEMENTAR NO BRASIL, EM 1827, COM A CRIAÇÃO DAS **ESCOLAS** DE PRIMEIRAS LETRAS EM TODOS OS VILAREJOS E CIDADES DO PAÍS. ALÉM DISSO, O **DECRETO** ESTABELECEU A REGULAMENTAÇÃO DOS **CONTEÚDOS** A SEREM **MINISTRADOS** E AS CONDIÇÕES **TRABALHISTAS** DOS PROFESSORES.










02 ENCONTRE NO DIAGRAMA ABAIXO, AS PALAVRAS DESTACADAS NO TEXTO ACIMA:

CON	AS	ES	CO	LAS	TRA	GUE	DE
TE	TRA	BA	LHIS	TAS	SA	PRA	CRE
Ú	TU	KA	WE	EN	SI	NO	TO
DOS	RY	OU	TU	BRO	XA	CHA	ÇA
ZU	MI	VO	PRO	FES	SO	RES	BE
MI	NIS	TRA	DOS	JO	CI	ÇO	PE

03 COMPLETE AS LETRAS QUE FALTAM NA SEQUÊNCIA ALFABÉTICA:

	B		D		F	
H		J		L		N
	P		R		T	
V		X		Z		

04 OBSERVE AS FIGURAS E ESCREVA OS NOMES SEGUINDO A NUMERAÇÃO:

1-CASA 	2-CAMA 	3-PANELA 
4-PÃO 	5-JARRA 	6-BALDE 
7-MESA 	8-GELADEIRA 	9-FOGÃO 

ESCREVA OS NOMES DAS FIGURAS:

1-	2-	3-
4-	5-	6-
7-	8-	9-

UNIDADE ESCOLAR:

PROFESSORA

DATA
2ª SEMANA DE OUTUBRO


NOME:

FASE

CÓDIGO BNCC

MA **MATEMÁTICA**

01 OBSERVE O GRÁFICO QUE MOSTRA OS DOCES QUE FORAM SERVIDOS NO JANTAR DA EJA.



02 RESPONDA DE ACORDO COM O GRÁFICO ACIMA:

A QUAL DOCE TEM MAIS QUANTIDADE? _____

B QUAL DOCE TEM MENOS QUANTIDADE? _____

OS NÚMEROS NA SETA ESTÃO ORGANIZADOS, EM ORDEM CRESCENTE:

19 - 20 - 21 - 22 - 23 - 24 - ☀ - 26 - 27 - 28

A FAÇA UM X NO NÚMERO QUE OCUPA O LUGAR DO SOL.

() 15

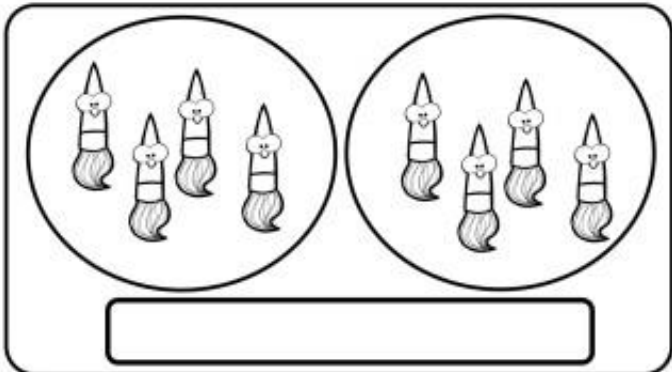
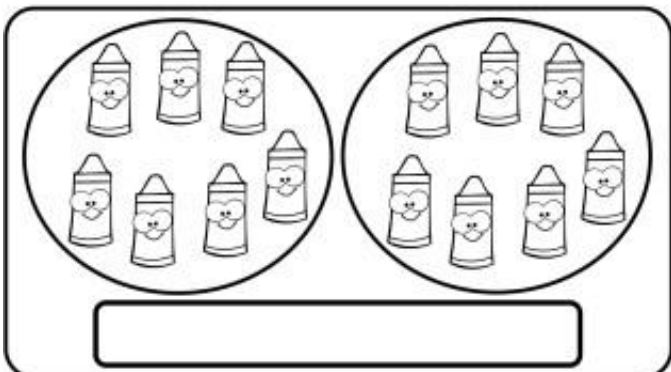
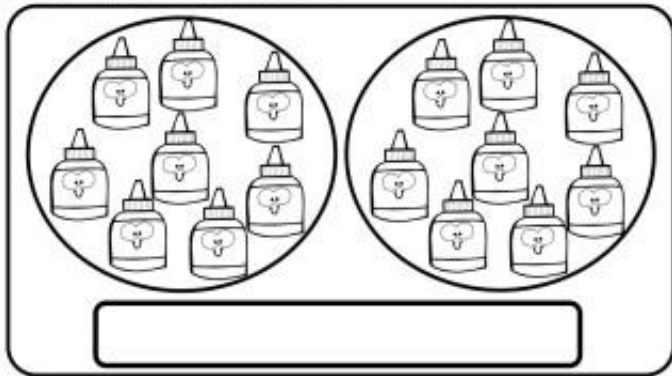
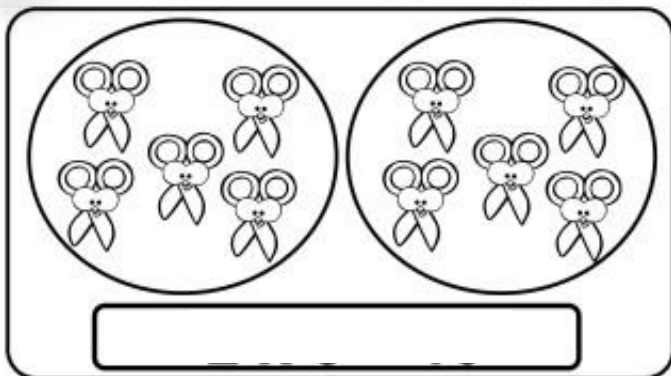
() 25

() 30

() 10

VOCÊ IRÁ OBTER O **DOBRO** DE UMA QUANTIDADE MULTIPLICANDO O NÚMERO POR 2 OU SOMANDO DUAS VEZES O NÚMERO.

04 ENCONTRE O DOBRO DAS QUESTÕES ABAIXO.





UNIDADE ESCOLAR:

PROFESSORA

DATA

2ª SEMANA DE OUTUBRO

NOME:

FASE

CÓDIGO BNCC

LP

LÍNGUA PORTUGUESA

01 OBSERVE A FIGURA ABAIXO. A PALAVRA QUE CORRESPONDE AO NOME DESSA FIGURA É:




- () FIVELA
- () MARTELO
- () FAROFA
- () CINTURÃO

02 ASSINALE COM UM X NA ALTERNATIVA ONDE A PALAVRA TEM TRÊS SÍLABAS:










- () JABUTICABA
- () MAÇÃ
- () AMORA
- () MANGA

03 FAÇA UM X NA PALAVRA QUE COMEÇA COM A MESMA SÍLABA (PEDAÇO) DO NOME DA FIGURA AO LADO.

- () BATATA
- () CENOURA
- () LARANJA



BANANA

	CAVIBOLOMUFE B__L__
	BEDUBANANAJU B__N__N
	BACIAAKAJEGU B__C__A__
	PACALUPANELA P__N__L__
	KEGUCAMAJUSA C__M__
	PAVIÃOOGAPON __V__
	MEZAPAMESALU M__S__
	GUAGELADEIRA G__L__D__R__
	FABAFOGÃOORAO F__G__