

**PREFEITURA MUNICIPAL DE BOM JESUS DO ITABAPOANA-RJ**  
**SECRETARIA MUNICIPAL DE EDUCAÇÃO, ESPORTE E LAZER**

# **Atividades Orientadoras**



## **Educação de Jovens e Adultos**

### **FASE II**



UNIDADE ESCOLAR:

PROFESSORA

DATA

1ª SEMANA DE OUTUBRO

NOME:

FASE

CÓDIGO BNCC



01

LEIA O TEXTO ABAIXO COM A AJUDA DO PROFESSOR:

## OUTUBRO ROSA

"QUE A SUA VIDA SEJA SEMPRE **ALEGRE, SAUDÁVEL E ROSA.**

LUTE CONTRA O CÂNCER DE MAMA E PARTICIPE DO OUTUBRO ROSA!

O AMOR-PRÓPRIO COMEÇA NOS DETALHES.

CUIDAR-SE É A MELHOR MANEIRA DE SE **AMAR** E SER **PLENAMENTE FELIZ.**"

02

COMPLETE O QUADRO ABAIXO:

PALAVRAS	QUANTAS VOGAIS	QUANTAS CONSOANTES	SEPRE AS SÍLABAS	QUANTAS SÍLABAS
ROSA				
AMAR				
ALEGRE				
SAUDÁVEL				
PLENAMENTE				

03 LEIA A TIRINHA ABAIXO COM A AJUDA DO PROFESSOR:



ORTOGRAFIA: MAL / MAU

O LOBO NÃO É BOM;  
ELE É MAU.

ASSIM DIZ A HISTÓRIA  
INFANTIL.

ELE NÃO É BOM,  
ELE É MAU.  
ELE NÃO É DO BEM;  
ELE É DO MAL.

PARA TIRAR A  
DÚVIDA É SÓ TROCAR  
PELO ANTÔNIMO.

MAU = BOM

MAL = BEM

A PARTINDO DAS FALAS DA TIRINHA ACIMA, COMPLETE AS LACUNAS COM AS PALAVRAS, **BEM** E **BOM**:

MAU É O CONTRÁRIO DE \_\_\_\_\_

MAU É O CONTRÁRIO DE \_\_\_\_\_



UNIDADE ESCOLAR:

PROFESSORA

DATA

1ª SEMANA DE OUTUBRO

NOME:

FASE

II

CÓDIGO BNCC

EFEJAFI-IVM19/EFELAFI-IVM02/EFEJAFI-IVM01

MA

MATEMÁTICA

01

OBSERVE O CALENDÁRIO E RESPONDA:

OUTUBRO							2023
DOM	SEG	TER	QUA	QUI	SEX	SÁB	
01	02	03	04	05	06	07	
08	09	10	11	12	13	14	
15	16	17	18	19	20	21	
22	23	24	25	26	27	28	
29	30	31					

A

VEJA O CALENDÁRIO DO MÊS DE OUTUBRO DE 2023 E COMPLETE.

ESTE CALENDÁRIO É DO MÊS DE \_\_\_\_\_ DO ANO DE \_\_\_\_\_.

ELE TEM \_\_\_\_\_ DIAS.

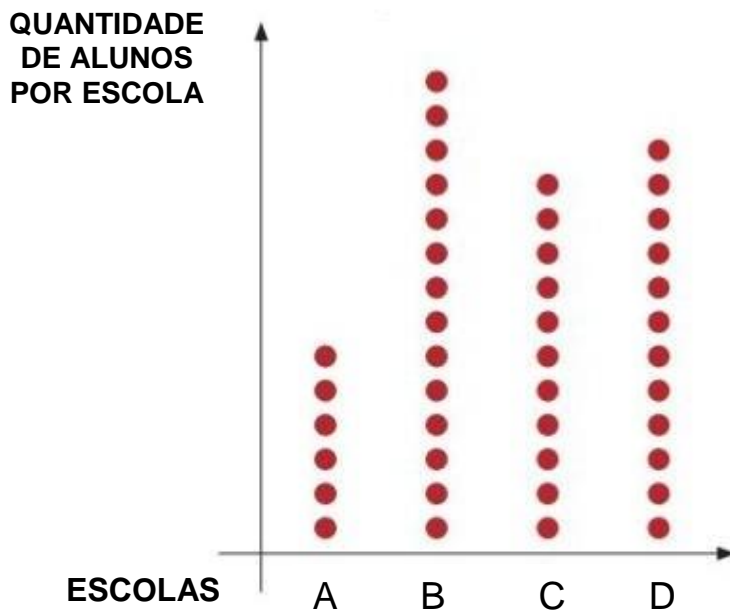
ELE TEM \_\_\_\_\_ DOMINGOS.

DEPOIS DA QUINTA-FEIRA VEM A \_\_\_\_\_ -FEIRA.

A SEMANA TEM \_\_\_\_\_ DIAS.

02 OBSERVE O GRÁFICO E RESPONDA:

NÚMERO DE ALUNOS QUE FORAM NO JANTAR, DE COMEMORAÇÃO DO DIA DOS IDOSOS.



A QUAL ESCOLA TEVE MAIS ALUNOS PRESENTES? \_\_\_\_\_

B QUANTOS ALUNOS PRESENTES TEVE A ESCOLA A? \_\_\_\_\_

C QUAL FOI O TOTAL DE ALUNOS PRESENTES NO JANTAR? \_\_\_\_\_

D QUANTAS ESCOLAS ESTAVAM PRESENTES NO JANTAR? \_\_\_\_\_

03 COMPLETE COM O ANTECESSOR E O SUCESSOR DOS NUMERAIS:






UNIDADE ESCOLAR:

PROFESSORA

DATA

1ª SEMANA DE OUTUBRO

NOME:

FASE

CÓDIGO BNCC

EFEJAFI-IIIILP56/EFEJAFI-IIIILP24/EFEJAFI-IIIILP59/  
EFEJAFIILP48/EFEJAFIILP50



### SUBSTANTIVO COMUM

É AQUELE QUE INDICA UM NOME COMUM A TODOS OS SERES DA MESMA ESPÉCIE.  
EX: CRIANÇA, BRINQUEDO, MÓVEIS, ROUPAS, MENINO...

### SUBSTANTIVO PRÓPRIO

É AQUELE QUE PARTICULARIZA UM SER DA ESPÉCIE.  
EX: JOÃO, BRAGA MÓVEIS, RIO DE JANEIRO, BRASIL...

**01** COLOQUE **C** PARA SUBSTANTIVO COMUM E **P** PARA SUBSTANTIVO PRÓPRIO.

TESOURA		FELIPE	
BOM JESUS DO ITABAPOANA		PANELA	
CADEIRA		MESA	
MOTO		RENATA	
CAMA		ANDRÉ	
RIO DE JANEIRO		BOLSA	
BOLO		COPO	
AUGUSTO		RÁDIO	

**02** PREENCHA COM A SEPARAÇÃO SILABICA E A QUANTIDADE DE SÍLABAS NO QUADRO ABAIXO.

PALAVRAS	SEPARE AS SÍLABAS	TOTAL DE SÍLABAS
CAMA		
COPO		
PANELA		
CADEIRA		
ITABAPOANA		

**03** A FRASE ABAIXO ESTÁ SEM ESPAÇO DE UMA PALAVRA PARA A OUTRA. SEPARE AS PALAVRAS COM UM TRAÇO E ESCREVA A FRASE CORRETAMENTE.

**ANASAIUCOMSEUCACHORRO.**

**04** COMPLETE O ALFABETO COM AS CONSOANTES:

A				E		
	I					
O						U



UNIDADE ESCOLAR:

PROFESSORA

DATA  
1ª SEMANA DE OUTUBRO


NOME:


FASE II


CÓDIGO BNCC EFEJAFI-IVM07/EFEJAFI-IVM18/ EFEJAFIIM26

**MA** **MATEMÁTICA**

**01** QUANTAS RODAS HÁ?

**A**  UMA MOTO TEM \_\_\_\_\_ RODAS.  
(2 X 1)

**B**  DUAS MOTOS TÊM \_\_\_\_\_ RODAS.  
(2 X 2)

**C**  TRÊS MOTOS TÊM \_\_\_\_\_ RODAS.  
(2 X 3)

**D**  QUATRO MOTOS TÊM \_\_\_\_\_ RODAS.  
(2 X 4)

**E**  CINCO MOTOS TÊM \_\_\_\_\_ RODAS.  
(2 X 5)

**02** ESCREVA OS NÚMEROS.

**QUINZE    DEZ    TRINTA    CEM    VINTE**

\_\_\_\_\_



## MEDIDA DE CAPACIDADE.

A UNIDADE DE  
MEDIDA DE  
CAPACIDADE É  
O LITRO.

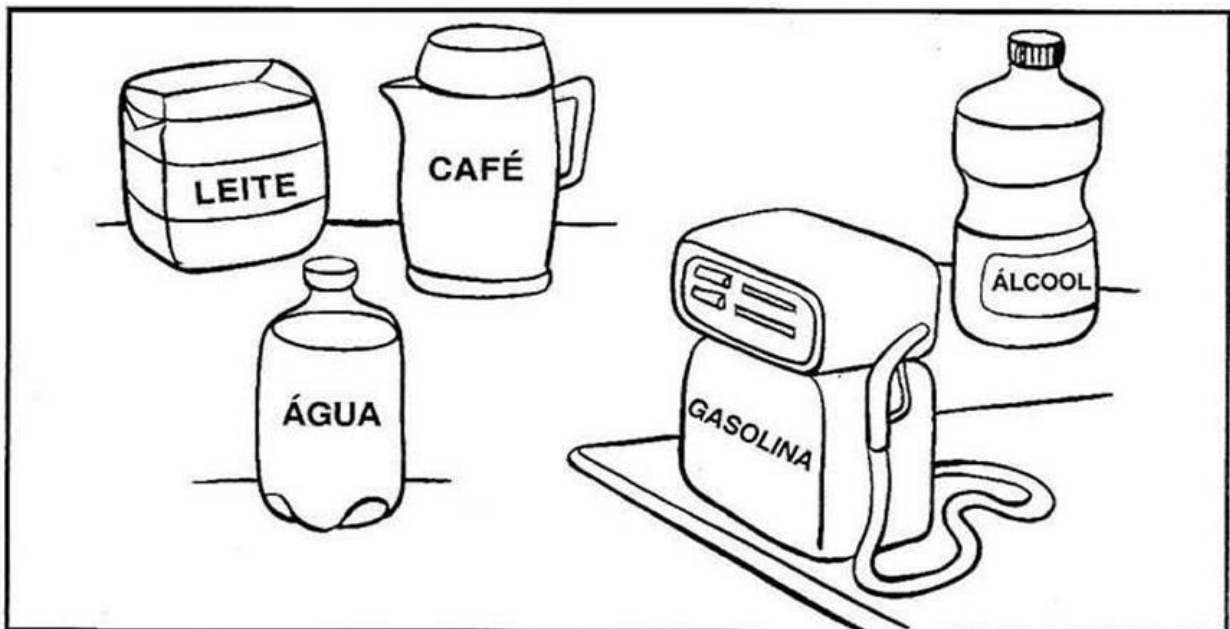
# LITRO



03 OS LÍQUIDOS SÃO MEDIDOS EM?

( ) BALANÇAS      ( ) LITROS      ( ) METROS

04 OBSERVE OS PRODUTOS ABAIXO, TODOS SÃO MEDIDAS DE CAPACIDADE E SÃO VENDIDOS A LITROS.



A QUAL DOS PRODUTOS ACIMA É O QUE GUARDA MAIS LÍQUIDOS (LITROS)?

( ) ÁGUA      ( ) ÁLCOOL      ( ) BOMBA DE GASOLINA



UNIDADE ESCOLAR:

PROFESSORA

DATA

1ª SEMANA DE OUTUBRO





NOME:

FASE

CÓDIGO BNCC

**LP** **LÍNGUA PORTUGUESA**

**01** ANALISE OS DESENHOS E PREENCHA O QUADRO ABAIXO.

DESENHOS	NOME DOS DESENHOS	SEPRE AS SÍLABAS	QUANTAS SÍLABAS?	QUANTAS LETRAS?
				
				
				
				

02 COMPLETE O ALFABETO:

A		C		E		G
	I		K		M	
O		Q		S		U
	W		Y			

03 COLOQUE AS LETRAS QUE VEM ANTES E DEPOIS DAS DESTACADAS ABAIXO:

	E			N	
	T			H	
	Q			K	
	B			W	
	Y			C	