

PREFEITURA MUNICIPAL DE BOM JESUS DO ITABAPOANA-RJ
SECRETARIA MUNICIPAL DE EDUCAÇÃO, ESPORTE E LAZER

SEMEEL

A mudança está em nossas mãos

Atividades Orientadoras



1º
ano

Ensino Fundamental

UNIDADE ESCOLAR:

PROFESSOR(A)

ANO DE ESCOLARIDADE

DATA

NOME:

HOJE É?

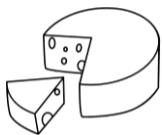
SEGUNDA TERÇA QUARTA QUINTA SEXTA


CÓDIGO BNCC


EF12LP17 /EF01LP03 /EF01LP05

LÍNGUA PORTUGUESA


- LEIA O TEXTO COM A AJUDA DA PROFESSORA E RESPONDA AS QUESTÕES ABAIXO.










ESTÁ NO QUADRO, ESTÁ NO QUEIJO,
ESTÁ NO QUEIXO DO QUINZINHO.





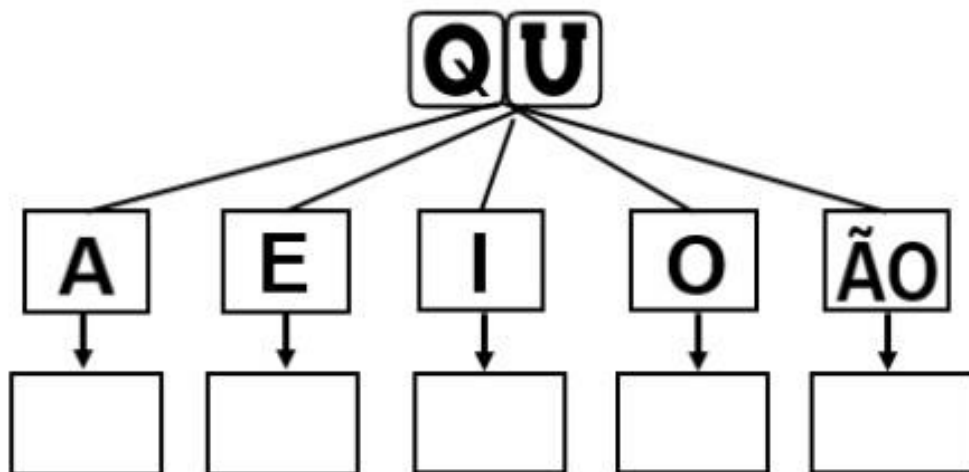
ESTÁ NO QUILO DO QUIABO
E NO MEIO DO FLOQUINHO.






TEM NO QUARTO E NA QUITANDA,
NO QUIMONO E NO QUIOSQUE,
NO COMEÇO DO QUINTAL,
E NO FIM DE TODO BOSQUE.

1. JUNTE AS LETRAS **QU** ÀS VOGAIS E LEIA AS SÍLABAS.



2. COMPLETE AS PALAVRAS COM AS SÍLABAS FALTOSAS: QUI, QUA, QUE.



A ___ RIO



ES ___ LETO




ES ___ LO



BAS ___ TE




MA ___ AGEN





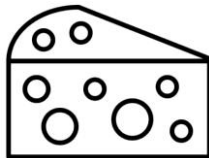
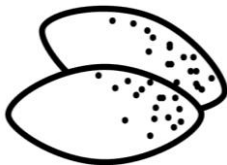
___ DRO

3. PINTE AS IMAGENS QUE COMEÇAM COM A LETRA Q.



4. AUTODITADO.

QUATRO – QUEIJO – QUIABO – QUADRADO – QUINDIM - QUADRO – QUARTO – QUIBE



- LEIA AS FICHAS DE LEITURA ABAIXO.

FICHA DE LEITURA 17

ESTÁ

ESTÁ NO

ESTÁ NO QUEIXO

ESTÁ NO QUEIXO DO

ESTÁ NO QUEIXO DO QUINZINHO



FICHA DE LEITURA 18

TEM

TEM NO

TEM NO QUARTO

TEM NO QUARTO E

TEM NO QUARTO E NA

TEM NO QUARTO E NA QUITANDA



- VAMOS ESCREVER COLETIVAMENTE MAIS FICHAS DE LEITURA. EU COMEÇO!

O

O QUEIJO

O

O QUIBE

UNIDADE ESCOLAR:

PROFESSOR(A)

ANO DE ESCOLARIDADE

DATA

NOME:

HOJE É?

SEGUNDA

TERÇA

QUARTA

QUINTA

SEXTA

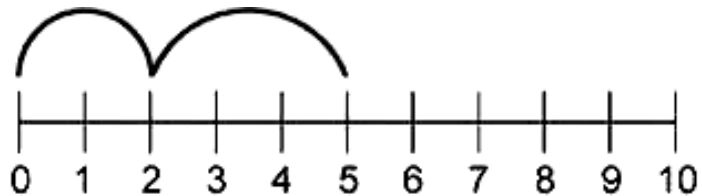
CÓDIGO BNCC

MATEMÁTICA

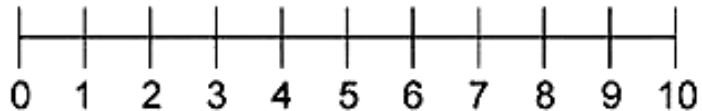


1. REALIZE AS SOMAS COM O AUXÍLIO DA RETA NUMÉRICA.

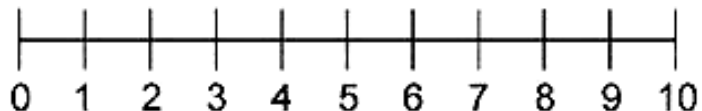
$2 + 3 = \boxed{5}$



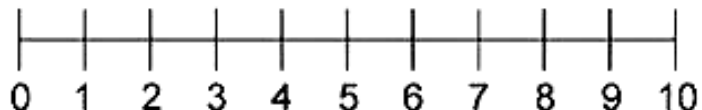
$3 + 1 = \square$



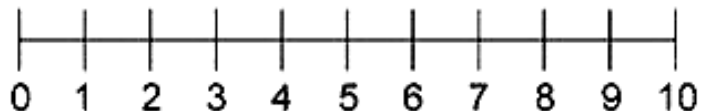
$1 + 8 = \square$



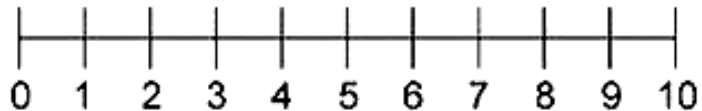
$5 + 5 = \square$



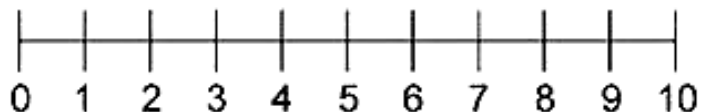
$4 + 2 = \square$



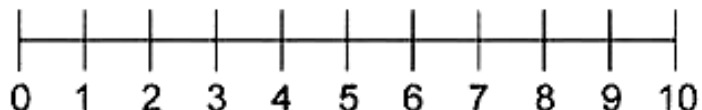
$3 + 4 = \square$



$9 + 1 = \square$

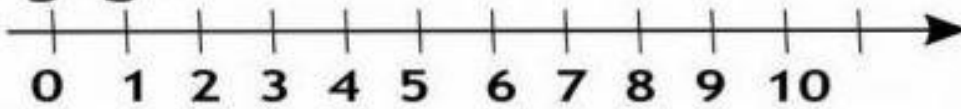


$2 + 2 = \square$

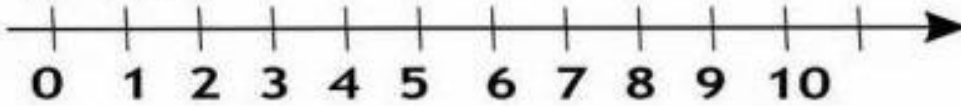


2. REALIZE AS SUBTRAÇÕES COM AUXÍLIO DA RETA NUMÉRICA.

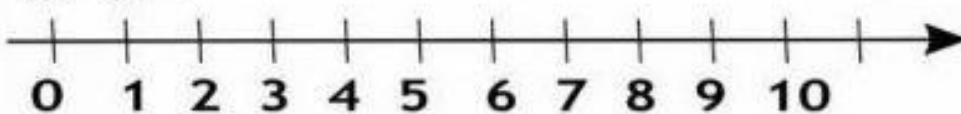
$$9 - 5 =$$



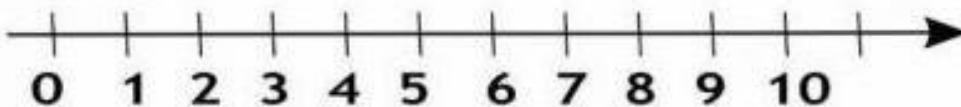
$$8 - 6 =$$



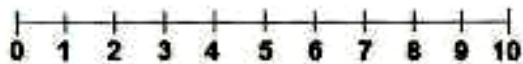
$$9 - 6 =$$



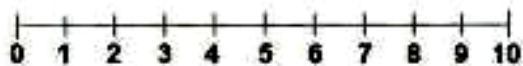
$$10 - 3 =$$



3. ENCONTRE NA RETA NUMÉRICA, OS ELEMENTOS AUSENTES NA OPERAÇÃO.



$$5 + \underline{\quad} = 7$$



$$4 + \underline{\quad} = 10$$



$$2 + \underline{\quad} = 9$$



$$3 + \underline{\quad} = 5$$



$$1 + \underline{\quad} = 8$$



$$4 + \underline{\quad} = 7$$



$$8 + \underline{\quad} = 10$$

UNIDADE ESCOLAR:

PROFESSOR(A)

ANO DE ESCOLARIDADE

DATA

NOME:

HOJE É?

SEGUNDA
 TERÇA
 QUARTA
 QUINTA
 SEXTA


CÓDIGO BNCC

LÍNGUA PORTUGUESA



1. PREENCHA A TABELA COMO NO MODELO:

SUBSTANTIVO PRÓPRIO		SUBSTANTIVO COMUM
PEDRO	É O NOME DE UM	MENINO
BRASIL	É NOME DE UM	
	É O NOME DE UMA	CIDADE
	É NOME DE UM	CACHORRO
ANA	É O NOME DE UMA	
A FOMIGUINHA E A NEVE	É O NOME DE UM	
RIO DE JANEIRO	É O NOME DE UMA	
	É O NOME DE UMA	FLOR
COCA - COLA	É O NOME DE UM	



2. INDIQUE O FEMININO DOS SUBTANTIVOS ABAIXO:

PORCO _____

IRMÃO _____

MENINO _____

LEÃO _____

REI _____

PRIMO _____

PRÍNCIPE _____

BOI _____

TIO _____

AVÔ _____

3.PASSE PARA O FEMININO.

- PAPAÍ COMPROU UM CÃO.

- O MENINO FOI AO MERCADO COM O AVÔ.



- O JOGADOR FEZ UM GOL PARA SEU PAI.

- HOJE O MÉDICO ESTÁ DE FOLGA.

- O REI CHAMOU O PRÍNCIPE PARA CAVALGAR.

-O PROFESSOR CORRIGIU A ATIVIDADE.

4.PASSE AS FRASES PARA O PLURAL.

A CASA COLORIDA. 	→	AS CASAS COLORIDAS.  
A VACA GORDA.	→	
A CAMISA AMARELA.	→	
O PICOLÉ GELADO.	→	
A BONECA BONITA.	→	
A GIRAFA COMPRIDA.	→	
A BLUSA NOVA.	→	
A BOLA PEQUENA	→	
O ABACAXI MADURO.	→	

UNIDADE ESCOLAR:

PROFESSOR(A) ANO DE ESCOLARIDADE DATA

NOME:

HOJE É?
 SEGUNDA TERÇA QUARTA QUINTA SEXTA

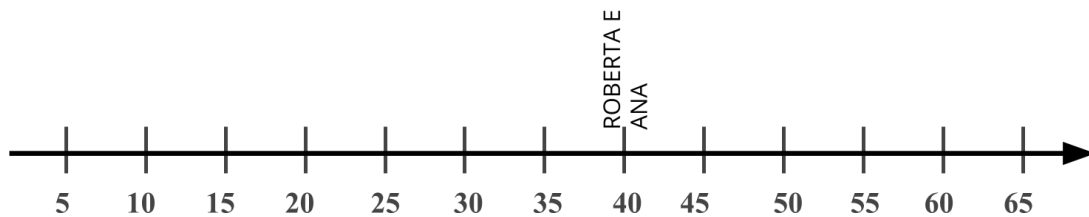
CÓDIGO BNCC
EF01MA01 / EF01MA08

MATEMÁTICA



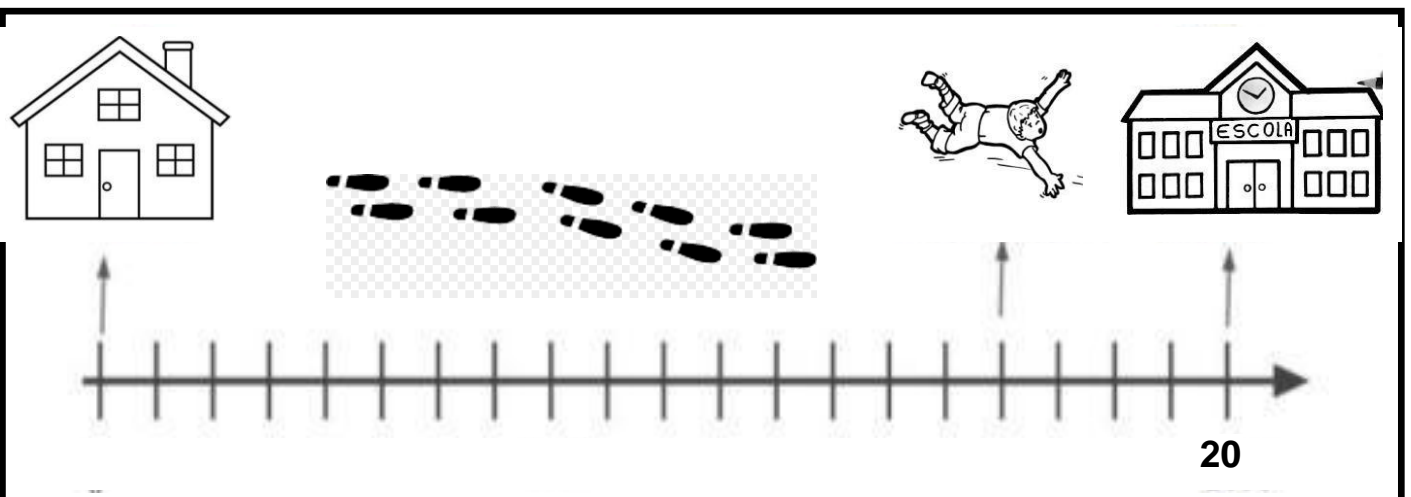
1. SITUAÇÕES- PROBLEMA COM RETA NUMÉRICA.

- DURANTE O RECREIO, ALGUNS ALUNOS FORMARAM DUPLAS PARA BRINCAR DE CARRINHO DE MÃO NO PÁTIO DA ESCOLA. VENCERIA A BRINCADEIRA, QUEM CONSEGUISSSE ANDAR MAIS LONGE SEM DEIXAR O COLEGA CAIR E SEM PARAR PARA DESCANSAR. PARA MARCAR A DISTÂNCIA NO CHÃO, FOI TRAÇADO UMA RETA NUMÉRICA. OBSERVE:



- QUANTOS PASSOS ROBERTA E ANA DERAM? _____
- PAULO E PEDRO ANDARAM 10 PASSOS **A MENOS** QUE ROBERTA E ANA. QUANTOS PASSOS ELES ANDARAM? _____
- JOICE E LUIZA ANDARAM 10 PASSOS **A MAIS** QUE ROBERTA E ANA. QUANTOS PASSOS JOICE E LUIZA ANDARAM? _____

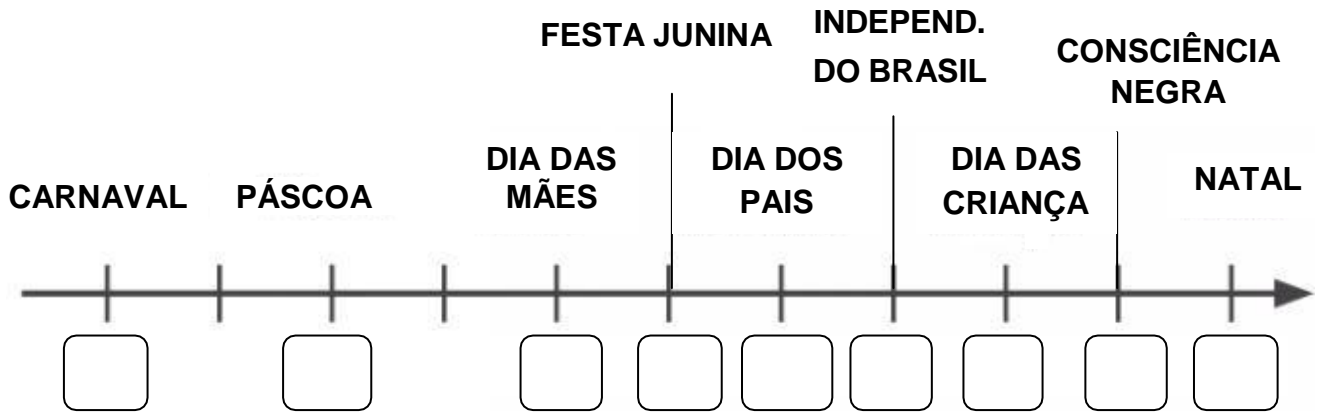
2. GUILHERME VAI A PÉ PARA ESCOLA. A DISTÂNCIA DE SUA CASA ATÉ A ESCOLA É DE 20 PASSOS. CERTO DIA GUILHERME CAIU NO CAMINHO. OBSERVE O PERCURSO QUE INDICA QUANTOS PASSOS GUILHERME PERCORREU ATÉ A SUA QUEDA: _____



- QUANTOS PASSOS AINDA FALTAM PARA ELE CHEGAR NA ESCOLA? _____

- PELO TAMANHO DO PERCURSO, GUILHERME MORA **LONGE** OU **PERTO** DA ESCOLA?

3. A RETA NUMÉRICA ABAIXO REPRESENTA UM CALENDÁRIO. INDIQUE QUAL O NÚMERO, DOS MESES DAS SEGUINTE COMEMORAÇÕES:



4. ESCREVA O NOME DO MÊS QUE REPRESENTA OS NÚMEROS ABAIXO:



MESES

UNIDADE ESCOLAR:

PROFESSOR(A)

ANO DE ESCOLARIDADE

DATA

NOME:

HOJE É?

SEGUNDA TERÇA QUARTA QUINTA SEXTA

CÓDIGO BNCC

EF01CI01

CIÊNCIAS



RECICLAGEM

É UMA FORMA DE REAPROVEITAMENTO DAS MATÉRIAS PRIMAS QUE SÃO DESCARTADAS. NESSE SENTIDO, **RECICLAR** SIGNIFICA DIMINUIR A QUANTIDADE DE RESÍDUOS PROVENIENTES DOS PRODUTOS CONSUMIDOS PELO HOMEM.

AZUL

VERMELHO

VERDE

AMARELO

MARROM

CINZA



PAPEL

PLÁSTICO

VIDRO

METAL

ORGÂNICO

NÃO
RECICLÁVEL

1. COLOQUE **R** PARA O LIXO REUTILIZÁVEL E **O** PARA LIXO ORGÂNICO.

() LÁPIS

() PAPEL HIGIÊNICO USADO

() FLORES NATURAIS

() CASCA DE FRUTAS

() PAPEL

() PLÁSTICO

() VIDROS

() METAIS

() LATINHA


() RESTO DE COMIDAS

() GARRAFAS PLÁSTICAS

() CASCA DE LEGUMES

() GUARDANAPO

() PAPELÃO



- OBSERVE O CARTAZ ABAIXO.



2. O DIA MUNDIAL DA RECICLAGEM PODE SER ESCRITO EM:

- () 17/02
- () 17/03
- () 17/04
- () 17/05

3. TRANSCREVA DO CARTAZ AS PALAVRAS DESTACADAS QUE COMEÇAM COM A LETRA ABAIXO:

R
