

PREFEITURA MUNICIPAL DE BOM JESUS DO ITABAPOANA-RJ
SECRETARIA MUNICIPAL DE EDUCAÇÃO, ESPORTE E LAZER

SEMEEL

A mudança está em nossas mãos

Atividades Orientadoras



1º
ano

Ensino Fundamental

UNIDADE ESCOLAR:

PROFESSOR(A)

ANO DE ESCOLARIDADE

DATA

1º ANO

37ª SEMANA (30/10 – 03/11)

NOME:

HOJE É?

SEGUNDA

TERÇA

QUARTA

QUINTA

SEXTA

CÓDIGO BNCC

EF15LP03/EF01LP05/EF01LP06

LÍNGUA PORTUGUESA



LINGUAGEM, LEITURA E ESCRITA

1. ACOMPANHE A LEITURA DA PROFESSORA E RESPONDA.



ZEBRINHA

COITADA DA ZEBRA!
É TÃO POBREZINHA,
SÓ TEM UMA ROUPA,
A COITADINHA!
DORME DE PIJAMA,
PIJAMA DE LISTRINHA,
E PASSA DIAS INTEIROS
VESTIDA DE PIJAMINHA.
QUE TAL A GENTE SE JUNTAR
E FAZER UMA VAQUINHA
PRA COMPRAR PRA ZEBRINHA
VESTIDO DE BOLINHA?



Wania Amarante. Cobras e lagartos.
Belo Horizonte, Migulim, 1993.

2. TRANSCREVA DO POEMA AS PALAVRAS QUE RIMAM COM:

- LISTRINHA: _____

- POBREZINHA: _____

- PIJAMINHA: _____

- VAQUINHA: _____



3. COMPLETE O QUADRO.

FIGURA	ESCRITA	LETRA INICIAL	SÍLABA INICIAL	SÍLABA FINAL
				
				
				
				
				
				

4. CIRCULE AS SÍLABAS QUE FORMAM O NOME DAS PALAVRAS E ESCREVA - AS.




TO A

SE



ZEI NA



PU ZE

U

BU SE




ZO LÓ

O

CO GI


FICHA DE LEITURA 15

- A
- A ZEBRA
- A ZEBRA TEM
- A ZEBRA TEM PIJAMA
- A ZEBRA TEM PIJAMA DE
- A ZEBRA TEM PIJAMA DE LISTRINHAS.



FICHA DE LEITURA 16

- O
- O ZANGÃO
- O ZANGÃO É
- O ZANGÃO É O MACHO
- O ZANGÃO É O MACHO DA
- O ZANGÃO É O MACHO DA ABELHA.



- VAMOS ESCREVER COLETIVAMENTE MAIS FICHAS DE LEITURA. EU COMEÇO!

A
A ZEBRA

O
O ZOOLOGICO

UNIDADE ESCOLAR:

PROFESSOR(A)

ANO DE ESCOLARIDADE

DATA

NOME:

HOJE É?

SEGUNDA

TERÇA

QUARTA

QUINTA

SEXTA

CÓDIGO BNCC

EF01MA01/ EF01MA10

MATEMÁTICA



1. COMPLETE A SEQUÊNCIA NUMÉRICA ABAIXO.

	2	3				7		
				15				19
		23						30
					36			
41							48	
			54			57		
	62							69
				75				80
81		83						
			94			97		100

2. COMPLETE A SEQUÊNCIA NUMÉRICA DE 10 EM 10.


10 _____ 100

3. COMPLETE O QUE SE PEDE.

- UMA DEZENA VALE? _____
- DUAS DEZENAS VALEM? _____
- TRÊS DEZENAS VALEM? _____
- QUATRO DEZENAS VALEM? _____
- CINCO DEZENAS VALEM? _____
- SEIS DEZENAS VALEM? _____
- SETE DEZENAS VALEM? _____
- OITO DEZENAS VALEM? _____
- NOVE DEZENAS VALEM? _____



4. SEPRE OS ELEMENTOS DE 10 EM 10 E RESPONDA.



- QUANTOS GRUPOS VOCÊ FORMOU? _____
- QUANTAS DEZENAS? _____
- QUANTAS BOLAS TÊM AO TODO? _____

UNIDADE ESCOLAR:

PROFESSOR(A)

ANO DE ESCOLARIDADE

DATA

NOME:

HOJE É?

SEGUNDA TERÇA QUARTA QUINTA SEXTA


CÓDIGO BNCC

EF01LP03 / EF01LP05


LÍNGUA PORTUGUESA



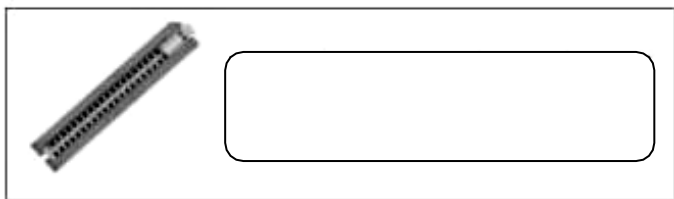
1. ESCREVA O NOME DE CADA UMA DAS FIGURAS E PINTE NO ALFABETO AS LETRAS QUE VOCÊ USOU PARA ESCREVÊ-LAS.




A	B	C	D	E	F	G
H	I	J	K	L	M	N
O	P	Q	R	S	T	U
V	W	X	Y	Z		



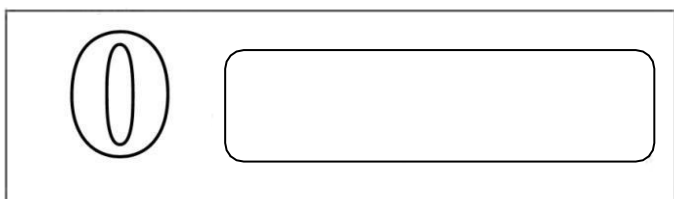
A	B	C	D	E	F	G
H	I	J	K	L	M	N
O	P	Q	R	S	T	U
V	W	X	Y	Z		



A	B	C	D	E	F	G
H	I	J	K	L	M	N
O	P	Q	R	S	T	U
V	W	X	Y	Z		






A	B	C	D	E	F	G
H	I	J	K	L	M	N
O	P	Q	R	S	T	U
V	W	X	Y	Z		







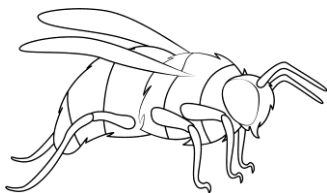




A	B	C	D	E	F	G
H	I	J	K	L	M	N
O	P	Q	R	S	T	U
V	W	X	Y	Z		

2. PINTE OS CÍRCULOS DE ACORDO COM O NÚMERO DE VEZES QUE VOCÊ ABRE A BOCA PARA PRONUNCIAR O NOME DAS IMAGENS.

 ○ ○ ○ ○	 ○ ○ ○ ○	 ○ ○ ○ ○
--	--	--

3. AUTODITADO.

ZERO – ZUMBI – ZABUMBA – BOI ZEBU – ZOOLOGICO –
ZAGUEIRO – ZEBRA – ZANGÃO - ZORRO

UNIDADE ESCOLAR:

PROFESSOR(A)

ANO DE ESCOLARIDADE

DATA

NOME:

HOJE É?

SEGUNDA
 TERÇA
 QUARTA
 QUINTA
 SEXTA

CÓDIGO BNCC

MATEMÁTICA



1. PINTE NO GRÁFICO A QUANTIDADE DE DEZENAS QUE COMPÕEM AS UNIDADES INDICADAS.

UNIDADES ↓										
100										
90										
80										
70										
60										
50										
40										
30										
20										
10										
DEZENAS →	1	2	3	4	5	6	7	8	9	10

2. SITUAÇÕES- PROBLEMAS: DESENHE E CALCULE.

- CARLA TINHA 15 BOMBONS. GANHOU MAIS ALGUNS BOMBONS DE ANA. AGORA CARLA TEM O TOTAL DE 23 BOMBONS. QUANTOS BOMBONS CARLA GANHOU?

$$15 + \underline{\hspace{2cm}} = 23$$

$$23 - \underline{\hspace{2cm}} = 15$$

- CAIO TINHA 20 FIGURINHAS. DEU ALGUMAS PARA ANTÔNIO E FICOU COM 16. QUANTAS FIGURINHAS CAIO DEU PARA ANTÔNIO?

$$20 - \underline{\hspace{2cm}} = 16$$

$$\underline{\hspace{2cm}} + 16 = 20$$

- EM UM JARDIM HAVIA 27 FLORES, 15 SÃO ROSAS E OUTRAS SÃO BRANCAS. QUANTAS ROSAS BRANCAS HAVIAM NO JARDIM?

$$27 - 15 = \underline{\hspace{2cm}}$$

$$15 + \underline{\hspace{2cm}} = 27$$

UNIDADE ESCOLAR:

PROFESSOR(A)

ANO DE ESCOLARIDADE

DATA

NOME:

HOJE É?

SEGUNDA

TERÇA

QUARTA

QUINTA

SEXTA

CÓDIGO BNCC

E15LP05

LÍNGUA PORTUGUESA



PRODUÇÃO DE TEXTO

1. REESCREVA O TEXTO CORRETAMENTE, OBEDECENDO OS ESPAÇOS ENTRE AS PALAVRAS.

ZEBRINHA

COITADA DA ZEBRA!
É TÃO POBREZINHA,
SÓ TEM UMA ROUPA,
A COITADINHA!
DORME DE PIJAMA,
PIJAMA DE LISTRINHA,
E PASSA DIAS INTEIROS
VESTIDA DE PIJAMINHA
QUE TAL A GENTE JUNTAR
E FAZER UMA VAQUINHA
PRA COMPRAR PRA ZEBRINHA
VESTIDO DE BOLINHA ?



Blank writing area with horizontal lines for text production.