

PREFEITURA MUNICIPAL DE BOM JESUS DO ITABAPOANA-RJ
SECRETARIA MUNICIPAL DE EDUCAÇÃO, ESPORTE E LAZER

SEMEEL

A mudança está em nossas mãos

Atividades Orientadoras



1º
ano

Ensino Fundamental

UNIDADE ESCOLAR:

PROFESSOR(A)

ANO DE ESCOLARIDADE
1º ANO

DATA
42ª SEMANA (04/12 - 08/12)

NOME:

HOJE É?

SEGUNDA

TERÇA

QUARTA

QUINTA

SEXTA

CÓDIGO BNCC

EF12LP17 / EF01LP03 / EF01LP05

LÍNGUA PORTUGUESA



1. LEIA O TEXTO JUNTO DA PROFESSORA E RESPONDA.


O MENINO NASCEU

ISABEL CRISTINA S. SOARES

O MENINO NASCEU
ESTRELINHA AVISOU
MARIA, MÃE FELIZ
NA MANJEDOURA O DEITOU!

O MENINO NASCEU
ESTRELINHA AVISOU
JOSÉ QUE É O PAI
A DEUS GLORIFICOU!

O MENINO NASCEU
ESTRELINHA AVISOU
JESUS É SEU NOME
O AMOR ENSINOUI!



2. NUMERE OS VERSOS DO POEMA;

3. PINTE, DE CORES DIFERENTES, OS PARES DE RIMAS QUE VOCÊ ENCONTRAR NO POEMA.

4. QUAIS OS PRINCIPAIS PERSONAGENS DA HISTÓRIA?

5. ONDE O MENINO FOI COLOCADO QUANDO NASCEU?

() BERÇO

() MANJEDOURA

() CAMA

6. VOCÊ SABE O NOME DO MENINO QUE NASCEU?

() JOSÉ

() JOÃO

() JESUS



7. ESSE NASCIMENTO REPRESENTA QUAL ÉPOCA DO ANO?

() PÁSCOA

() NATAL







() REVEILÓN

8. ENCONTRE NO DIAGRAMA ABAIXO O NOME DO PERSONAGEM QUE AVISOU SOBRE O NASCIMENTO DO MENINO:

E	S	C	A	D	A	P	O	I	Y
J	E	S	E	S	T	R	E	O	M
K	J	H	G	F	D	S	A	E	S
E	S	T	R	E	L	I	N	H	A
G	L	O	R	I	F	I	C	O	U
M	E	N	I	N	O	J	O	S	É



9. CONTE E ESCREVA A QUANTIDADE DE LETRAS, VOGAIS E CONSOANTES DE CADA PALAVRA ABAIXO:

 PRESENTE • LETRAS <input type="checkbox"/> • VOGAIS <input type="checkbox"/> • CONSOANTES <input type="checkbox"/>	 ÁRVORE • LETRAS <input type="checkbox"/> • VOGAIS <input type="checkbox"/> • CONSOANTES <input type="checkbox"/>	 GUIRLANDA • LETRAS <input type="checkbox"/> • VOGAIS <input type="checkbox"/> • CONSOANTES <input type="checkbox"/>
 BENGALA • LETRAS <input type="checkbox"/> • VOGAIS <input type="checkbox"/> • CONSOANTES <input type="checkbox"/>	 CHAMINÉ • LETRAS <input type="checkbox"/> • VOGAIS <input type="checkbox"/> • CONSOANTES <input type="checkbox"/>	 ESTRELA • LETRAS <input type="checkbox"/> • VOGAIS <input type="checkbox"/> • CONSOANTES <input type="checkbox"/>

10. CIRCULE O NOME CORRETO DE CADA FIGURA:

	ARMÁRIO	ÁRVORE	ARAME
	ESTRELA	ESTANTE	ESTADO
	SINAL	SELO	SINO
	GUIRLANDA	GUIA	GUILHERME
	BOLO	BALA	BOLA
	VALA	VELA	VIDA

UNIDADE ESCOLAR:

PROFESSOR(A)

ANO DE ESCOLARIDADE

DATA

NOME:

HOJE É?

SEGUNDA
 TERÇA
 QUARTA
 QUINTA
 SEXTA

CÓDIGO BNCC

MATEMÁTICA



1. RESOLVA AS OPERAÇÕES E PINTE A IMAGEM DE ACORDO COM O RESULTADO CORRESPONDENTE A CADA UMA DELAS:

$15 + 3 = \text{VERDE}$

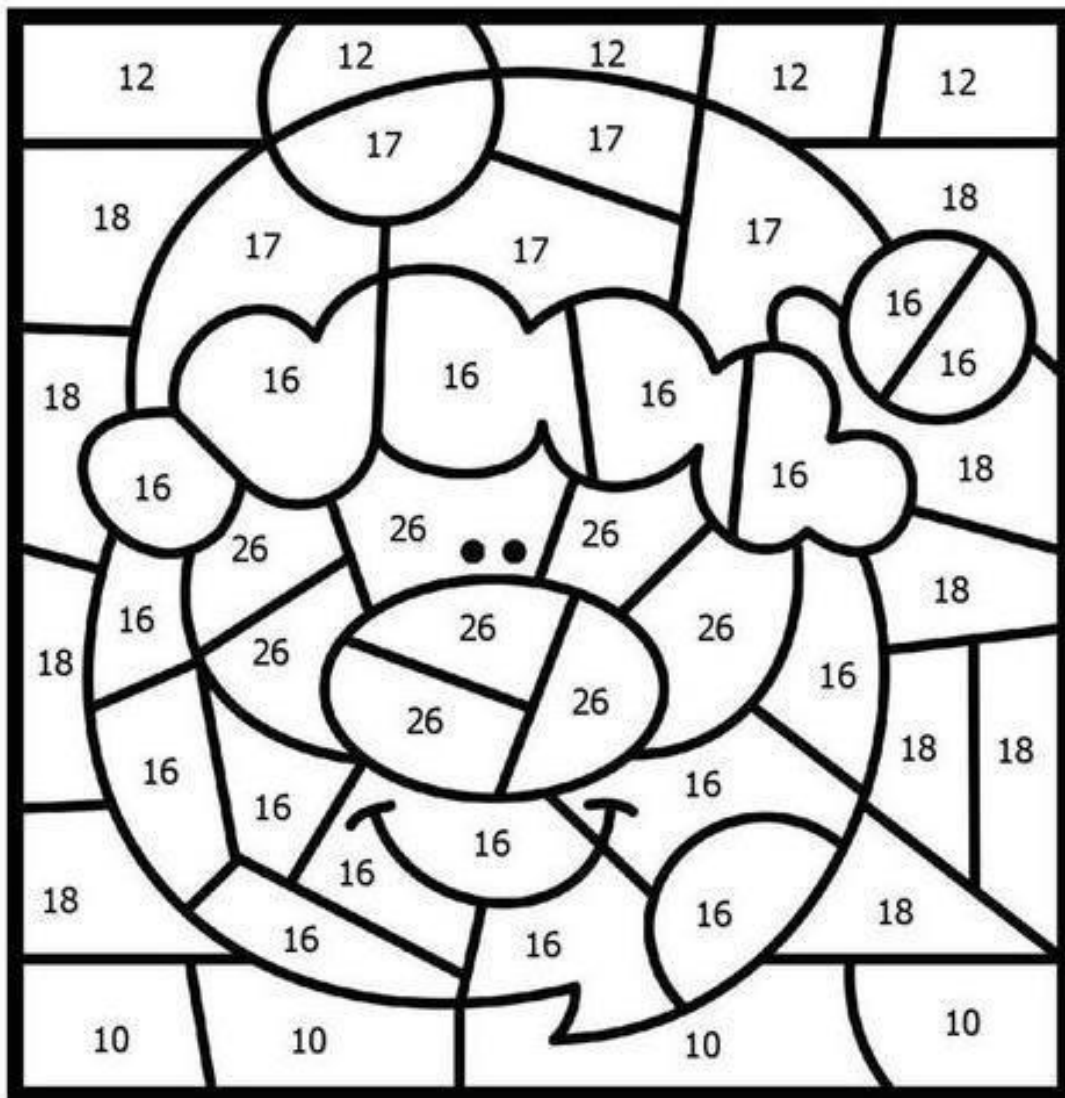
$5 + 5 = \text{AMARELO}$

$10 + 6 = \text{BRANCO}$

$6 + 6 = \text{AZUL}$

$13 + 13 = \text{BEGE}$

$15 + 2 = \text{VERMELHO}$



2. EFETUE AS ADIÇÕES:

33
+26

42
+13

23
+12

18
+11

15
+10

12
+11

19
+10

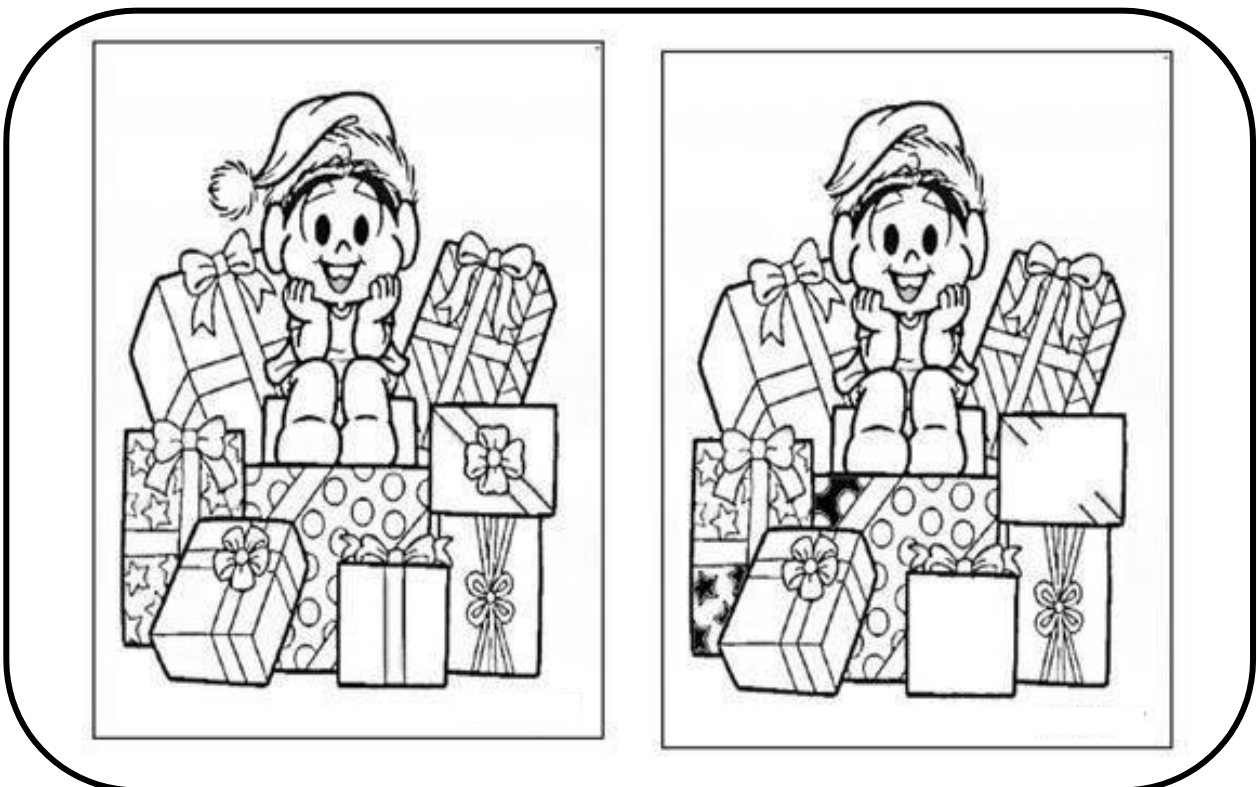
16
+12

32
+13




27
+22

54
+23










3. JOGO DOS 5 ERROS: ENCONTRE-OS.



2. PINTE AS LETRAS QUE COMPÕEM O NOME DOS SÍMBOLOS NATALINOS.

											
MEIA				SINO				BOLA			
G	M	E	L	E	S	I	B	M	B	O	P
I	A	X	Q	N	O	T	Q	F	L	A	D

3. DITADO-RECORTADO. RECORTE E COLE O NOME DOS DESENHOS QUE A PROFESSORA DITA.

		
<input style="width: 100%; height: 20px;" type="text"/>	<input style="width: 100%; height: 20px;" type="text"/>	<input style="width: 100%; height: 20px;" type="text"/>
		
<input style="width: 100%; height: 20px;" type="text"/>	<input style="width: 100%; height: 20px;" type="text"/>	<input style="width: 100%; height: 20px;" type="text"/>
		
<input style="width: 100%; height: 20px;" type="text"/>	<input style="width: 100%; height: 20px;" type="text"/>	<input style="width: 100%; height: 20px;" type="text"/>



CHAMINÉ	GORRO	SINO
ÁRVORE	GUIRLANDA	BENGALA
ANJO	PRESENTE	ESTRELA

UNIDADE ESCOLAR:

PROFESSOR(A)

ANO DE ESCOLARIDADE

DATA

NOME:

HOJE É?

SEGUNDA

TERÇA

QUARTA

QUINTA

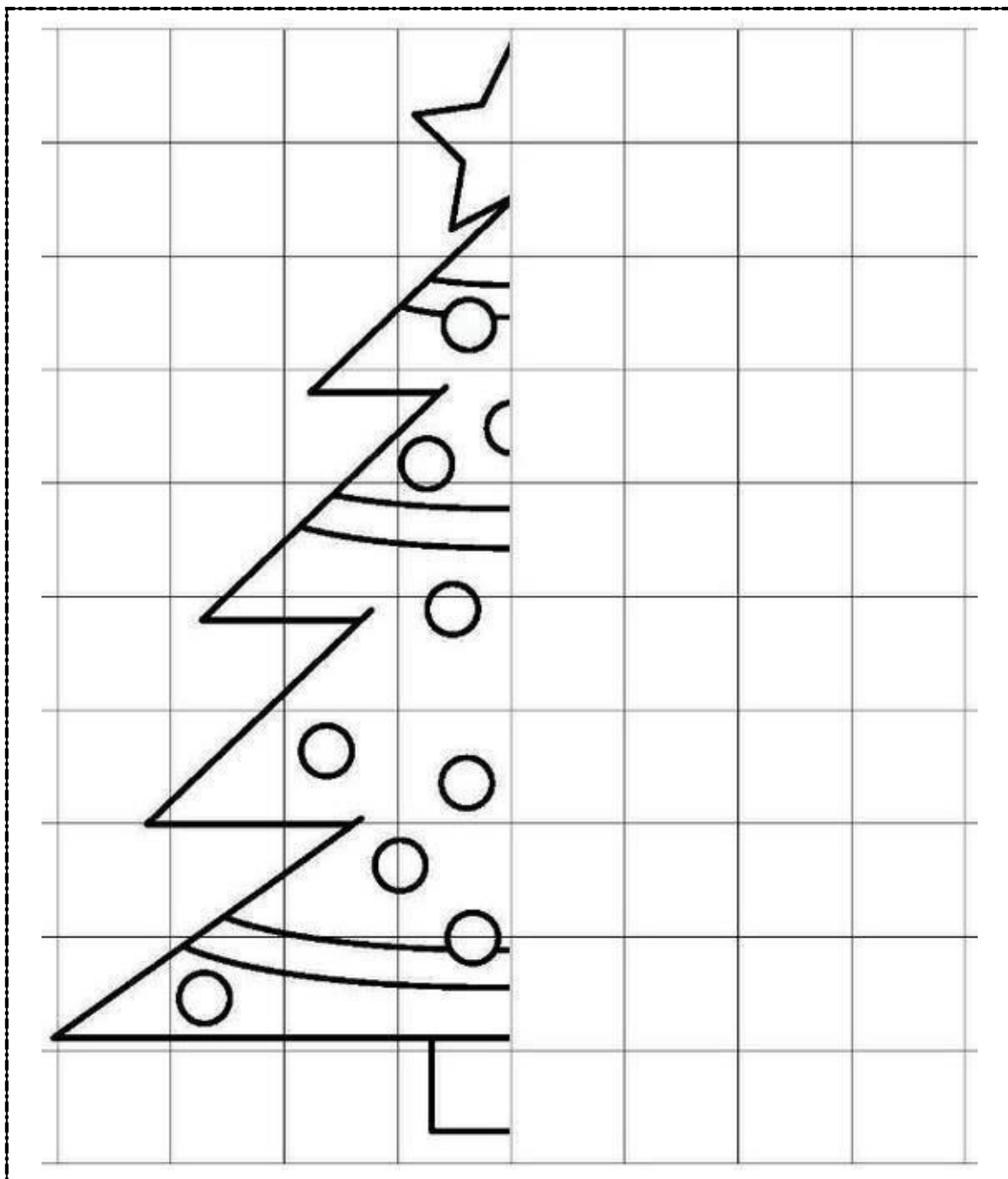
SEXTA

CÓDIGO BNCC



MATEMÁTICA



1. COMPLETE O DESENHO. SIGA A POSIÇÃO DE CADA FORMA NOS QUADRINHOS.



2. FAÇA A CONTAGEM DAS FIGURAS E PINTE UMA BOLINHA PARA CADA ITEM:



3. RESOLVA AS OPERAÇÕES:

D	U
5	2
+	
2	4

D	U
3	3
+	
1	5

D	U
5	0
+	
4	7

D	U
6	2
+	
2	1

D	U
4	8
-	
2	6

D	U
5	5
-	
3	5

D	U
5	3
-	
4	1

D	U
3	7
-	
2	5

D	U
5	6
-	
3	0

D	U
6	0
-	
2	0

D	U
4	3
+	
2	4

D	U
3	2
+	
2	5



UNIDADE ESCOLAR:

PROFESSOR(A)

ANO DE ESCOLARIDADE
1º ANO

DATA
42ª SEMANA (04/12 - 08/12)

NOME:

HOJE É?

SEGUNDA TERÇA QUARTA QUINTA SEXTA

CÓDIGO BNCC

EF12LP11 / EF15LP05

LÍNGUA PORTUGUESA



- A IMAGEM ABAIXO TE REMETE A QUAL ÉPOCA DO ANO? ESCREVA DO SEU JEITO SOBRE ELA. QUANTO MAIS VOCÊ ESCREVER, MAIS VAI APRENDER A ESCREVER!



FELIZES FÉRIAS!