

PREFEITURA MUNICIPAL DE BOM JESUS DO ITABAPOANA-RJ
SECRETARIA MUNICIPAL DE EDUCAÇÃO, ESPORTE E LAZER

SEMEEL

A mudança está em nossas mãos

Atividades Orientadoras



2º
ano

Ensino Fundamental

UNIDADE ESCOLAR:

PROFESSOR(A)

ANO DE ESCOLARIDADE

2º ANO

DATA

40ª SEMANA (20/11 – 24/11)

NOME:

HOJE É?

SEGUNDA

TERÇA

QUARTA

QUINTA

SEXTA

CÓDIGO BNCC

EF12LP18

LÍNGUA PORTUGUESA



- LEIA O POEMA ABAIXO E RESPONDA AS QUESTÕES DE 1 A 4.

MENINO

MENINO NEGRO
PELE QUE BRILHA NO SOL
LIGEIRO, BOM DE BOLA
ARTILHEIRO NO FUTEBOL!

MENINO ESPERTO
LUTADOR, VIVA COM AMOR
NA FAMÍLIA OU NA ESCOLA
SEJA BOM, DOUTOR OU JOGADOR!

MENINO, CRIANÇA COMO EU
NÃO IMPORTA SUA COR
SEU FUTURO TE PERTENCE
JÁ NASCEU UM VENCEDOR!

ISABEL CRISTINA SILVEIRA SOARES



1- O POEMA FALA DE UM?

() MENINO

() ADULTO

2- QUEM NARRA O POEMA É UMA?

() MÃE

() CRIANÇA

3- O CONSELHO QUE O NARRADOR DÁ AO MENINO É?

() QUE ELE SEJA LUTADOR DE BOXE.

() QUE ELE VIVA COM AMOR.

() QUE ELE SEJA PROFESSOR.


4- O POEMA NOS ENSINA QUE?

() ALGUMAS PESSOAS SÃO MAIS IMPORTANTES QUE OUTRAS.

() A PESSOA DE PELE NEGRA É MAIS IMPORTANTE.

() QUE NÃO IMPORTA NOSSA COR, TODOS NÓS MERECEMOS RESPEITO.

5- DESEMBARALHE AS LETRAS E DESCUBRA QUAL É O PRIMEIRO LUGAR ONDE A CRIANÇA DEVE APRENDER E PRATICAR O AMOR.



UNIDADE ESCOLAR:

PROFESSOR(A) ANO DE ESCOLARIDADE DATA

NOME:

HOJE É?
SEGUNDA ☐ TERÇA ☐ QUARTA ☐ QUINTA ☐ SEXTA ☐

CÓDIGO BNCC
EF02MA17

MATEMÁTICA

MEDIDAS DE COMPRIMENTO

1- VEJA COMO OS MENINOS MEDIRAM O COMPRIMENTO DO CANUDINHO. QUAL DELES ESTÁ ERRADO? CIRCULE.



A medida do comprimento do canudinho é igual a 3 centímetros.



Rodolfo



A medida do comprimento do canudinho é igual a 4 centímetros.



Cristiano




A medida do comprimento do canudinho é igual a 3 centímetros.




Rodrigo


2- ESTIME A MEDIDA DA ALTURA INDICADA EM CADA FIGURA E LIGUE AS FIGURAS ÀS MEDIDAS CORRESPONDENTES.



80 CM



20 CM



2M

3- A PROFESSORA RITA MEDIU A ALTURA DE ALGUNS ALUNOS DA ESCOLA. VEJA NO QUADRO A ALTURA DE CADA ALUNO.




A) QUEM É O MAIS ALTO? _____

B) QUEM É O MAIS BAIXO? _____

C) QUEM A PROFESSORA AINDA ESTÁ MEDINDO? _____

D) QUAL É A DIFERENÇA ENTRE A ALTURA DE FERNANDO E A DE SÉRGIO?

4- CRISTINA TINHA UM TECIDO COM 8 METROS DE COMPRIMENTO. USOU 3 METROS PARA FAZER UM CORTINA E 2 METROS PARA FAZER UMAS CAPAS DE ALMOFADAS. QUANTOS METROS SOBRARAM DO TECIDO?



CONTINHA DA LETRA D

NÚMERO 3

RESPOSTA: SOBRARAM _____ METROS DO TECIDO.

UNIDADE ESCOLAR:

PROFESSOR(A)

ANO DE ESCOLARIDADE

2º ANO

DATA

40ª SEMANA (20/11 – 24/11)

NOME:

HOJE É?

SEGUNDA

TERÇA

QUARTA

QUINTA

SEXTA

CÓDIGO BNCC

LÍNGUA PORTUGUESA



1. NUMERE OS PARÁGRAFOS NA ORDEM CERTA E FORME UMA HISTÓRIA.

	O CÃOZINHO FICA MUITO FELIZ LIMPINHO.
	TOBIAS É O ANIMAL DE ESTIMAÇÃO DE CELINA.
	A MENINA USA UM XAMPU BEM CHEIROSO PARA LAVÁ-LO.
	QUANDO O BANHO TERMINA, TOBIAS CORRE PARA COMER.
	CELINA DÁ BANHO EM TOBIAS UMA VEZ POR SEMANA.
	ELE FICA MUITO COMPORTADO PARA TOMAR BANHO.
	QUE BICHINHO MAIS FOFO, ESSE MEU AMIGUNHO.



O BANHO DE TOBIAS



UNIDADE ESCOLAR:

PROFESSOR(A)

ANO DE ESCOLARIDADE

DATA

2º ANO

40ª SEMANA (20/11 – 24/11)

NOME:

HOJE É?

CÓDIGO BNCC

SEGUNDA

TERÇA

QUARTA

QUINTA

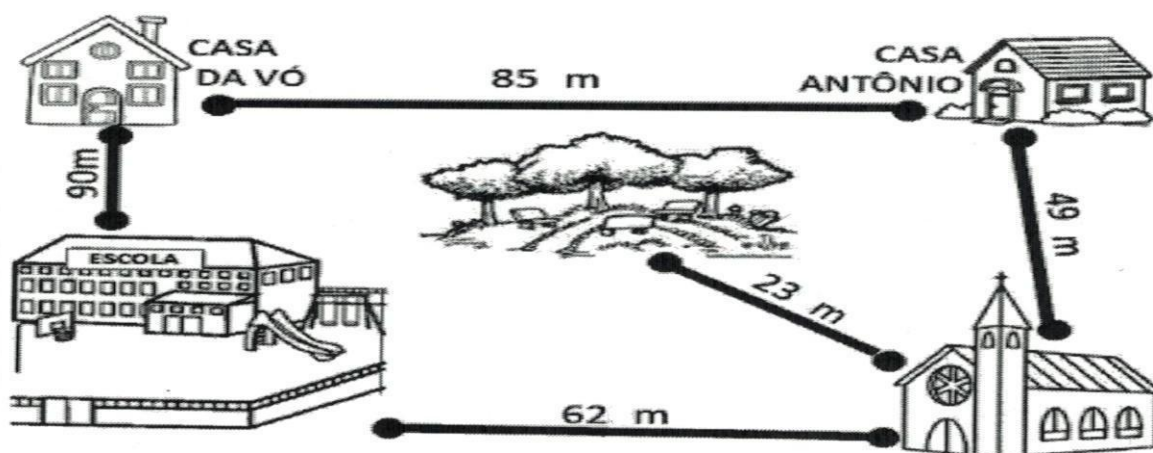
SEXTA

EF02MA17

MATEMÁTICA



1- OBSERVE OS TRAJETOS QUE ANTÔNIO FAZ NO SEU DIA-A-DIA.




A) ANTÔNIO VAI PARA ESCOLA PASSANDO PELA CASA DA VÓ. QUANTOS METROS ELE ANDA? _____

B) PARA VOLTAR DA ESCOLA, ELE PASSA PELO CAMINHO DA IGREJA. QUANTOS METROS ELE ANDA? _____

C) AOS DOMINGOS ANTÔNIO VAI PARA IGREJA E DEPOIS PARA O PARQUE. QUANTOS METROS ELE ANDA? _____

2- OBSERVE E COMPARE AS MEDIDAS DE ALTURAS REPRESENTADAS ABAIXO.



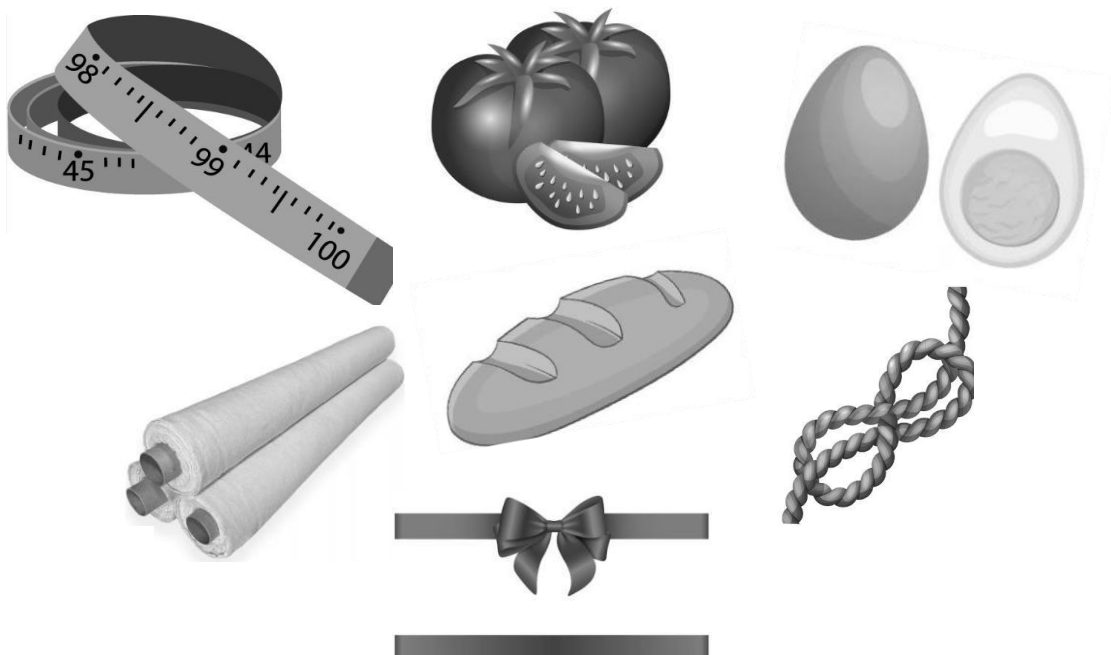
A) QUAL É A ALTURA DA CRIANÇA MAIS BAIXA? _____

B) QUAL É O NOME DA CRIANÇA MAIS ALTA? _____

C) QUAL É A DIFERENÇA ENTRE MARCOS E ANA? _____

D) QUANTO CENTÍMETROS MARIA TEM ACIMA DE UM METRO? _____

3- CIRCULE O QUE PODEMOS COMPRAR EM METRO.



UNIDADE ESCOLAR:

PROFESSOR(A)

ANO DE ESCOLARIDADE

2º ANO

DATA

40ª SEMANA (20/11 – 24/11)

NOME:

HOJE É?

SEGUNDA

TERÇA

QUARTA

QUINTA

SEXTA

CÓDIGO BNCC

EF02HI08

HISTÓRIA



- LEIA O TEXTO ABAIXO.

RESPEITO NÃO TEM COR

APRENDI DESDE PEQUENO
QUE O RESPEITO NÃO TEM COR
SENDO BRANCO, NEGRO OU PARDO
TODOS TÊM O MESMO VALOR!

NA HISTÓRIA DESTE PAÍS
O NEGRO SEMPRE PRESENTE
NO ROSTO O SORRISO LARGO
NA ALMA UM SER VALENTE!

NÃO IMPORTA O CONTINENTE
OU ONDE MORA TODA GENTE
NA GRANDE RODA DO MUNDO
SOMOS DE UMA CORRENTE!

ISABEL CRISTINA S. SOARES

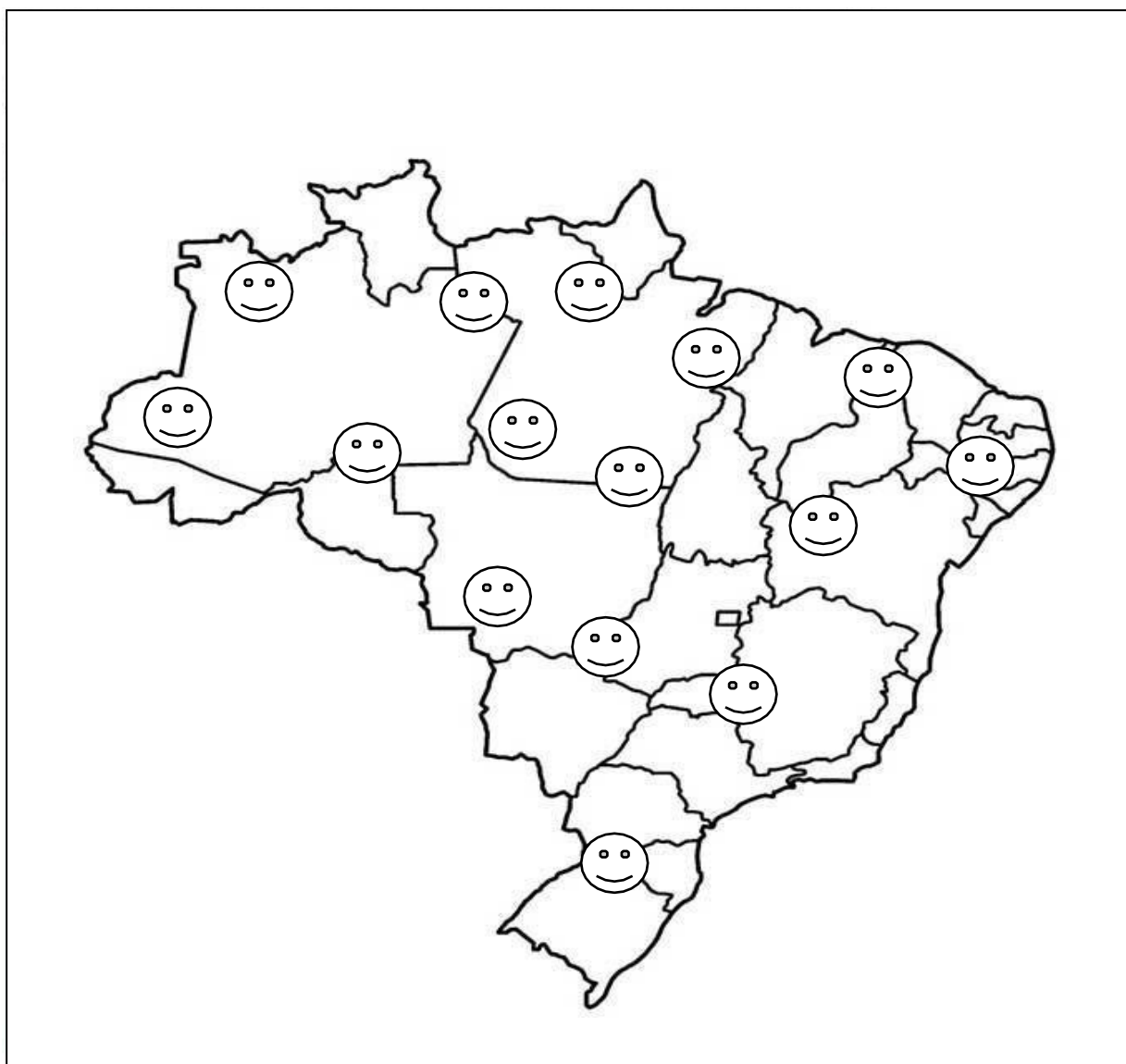
20 DE NOVEMBRO
DIA DA CONSCIÊNCIA NEGRA

ESSA DATA NÃO FOI ESCOLHIDA
AO ACASO, E SIM EM HOMENAGEM A
ZUMBI, LÍDER MÁXIMO DO QUILOMBO
DOS PALMARES E SÍMBOLO DA
RESISTÊNCIA NEGRA, ASSASSINADO
EM 20 DE NOVEMBRO DE 1965.

"ENQUANTO A COR DA PELE FOR MAIS IMPORTANTE QUE O BRILHO DOS OLHOS, HAVERÁ GUERRA."

BOB MARLEY

1. PINTA AS FIGURAS DO MAPA DE CORES DIFERENTES PARA MOSTRAR AS DIVERSIDADES DE RAÇAS EXISTENTES EM NOSSO PAÍS.



2. PINTA AS PLACAS QUE INDICAM DIREITOS DE TODAS AS PESSOAS.

