

PREFEITURA MUNICIPAL DE BOM JESUS DO ITABAPOANA-RJ
SECRETARIA MUNICIPAL DE EDUCAÇÃO, ESPORTE E LAZER

Atividades Orientadoras



Educação de Jovens e Adultos

FASE III

UNIDADE ESCOLAR:

PROFESSORA

DATA

1ª SEMANA DE DEZEMBRO

NOME:

FASE

CÓDIGO BNCC



Leia o texto e responda as questões a seguir:

“Antônio Mendonça saía de sua casa, todos os dias de manhã para ir trabalhar. Na segunda-feira, o Antônio devia chegar mais cedo à sua empresa para ir à reunião dos trabalhadores. No entanto, no domingo à noite esqueceu-se de colocar o despertador e adormeceu na manhã seguinte. Quando chegou à empresa a reunião já tinha terminado.”

01 Como se chama o personagem principal da história?

02 Porque saía todas as manhãs de sua casa?

03 Tinha alguma reunião na quarta-feira?

04 O que é que se esqueceu de fazer no domingo à noite?

05 O que tinha terminado quando chegou à empresa?

06 Com quem era a reunião?

07 Complete as lacunas com o nome das figuras:



Maria faz doces com _____ de pau.

José adora ler _____ .

Fernando tem um _____ de estimação.

A _____ de Ruth é macia.

Antônio pendurou o casaco no _____ .

A _____ de Joaquim é feita de alvenaria.

08 Assinale as palavras que começam pelo mesmo som:

Escada

Prestes – mestre – escola – estalar – estrada

Chapéu

Chuva – escada – cacho – xilofone - marcha

09 Assinale as palavras que terminam pelo mesmo som:

Mãos

Irmãos – cristãos – colchões – pães - coração

Dizer

Cozer – amanhecer – falar – ouvir – beber



UNIDADE ESCOLAR:

PROFESSORA

DATA

1ª SEMANA DE DEZEMBRO

NOME:

FASE

CÓDIGO BNCC



01 Responda as perguntas abaixo:

A Quantos dias tem uma semana? Quais são?

B Quantos meses tem um ano? Quais são?

C Quantos dias tem um ano?

D Quantos dias tem um mês?

E Quantas horas tem um dia?

F Quantos minutos tem uma hora?

G Quantos segundos tem um minuto?

02

Resolva as adições a seguir:

+3 +4 +8 +1 +9 +3 +4

6 ○ ○ ○ ○ ○ ○ ○ ○

+2 +4 +3 +9 +7 +7 +4

8 ○ ○ ○ ○ ○ ○ ○ ○

+3 +1 +3 +8 +7 +8 +6

15 ○ ○ ○ ○ ○ ○ ○ ○

+7 +4 +6 +5 +9 +6 +7

9 ○ ○ ○ ○ ○ ○ ○ ○

03

Ache as 10 diferenças da imagem abaixo.





UNIDADE ESCOLAR:

PROFESSORA

DATA

1ª SEMANA DE DEZEMBRO

NOME:

FASE

CÓDIGO BNCC



01 Relacione as perguntas com as respostas corretas.

- (1) Já tomou o comprimido? () há 15 anos
(2) Quanto custa as calças? () sim, fiz exame a semana passada
(3) Há quanto tempo trabalha? () tomo-os ao deitar

02 Das palavras que se seguem escreva quatro exemplos de coisas que sejam:

Profissões

Bebidas

Coisas que se fazem todos os dias

eletrodoméstico

03 Identifique o erro nas frases e reescreva-as corretamente.

Eu gosto muito do teu irmã.

Hoje fui comprei uns sapatos.

O senhores acabaram a reunião.

Os cães ladrou toda a noite.

O céu está com muitas núvem, deve choveu.

Fechei o livro e comecei o ler.

04 Imagine e escreva o que pode provocar em si as seguintes sensações.

Gelado _____

Conforto _____

Amargo _____

Assustador _____

Doce _____

Áspero _____

Salgado _____

Macio _____

05 Escreva alguns nomes relacionados com:

Frutos: _____ profissões: _____

Terras: _____ divisões de casa: _____

Vestuário: _____ legumes: _____



UNIDADE ESCOLAR:

PROFESSORA

DATA

1ª SEMANA DE DEZEMBRO

NOME:





















FASE

CÓDIGO BNCC

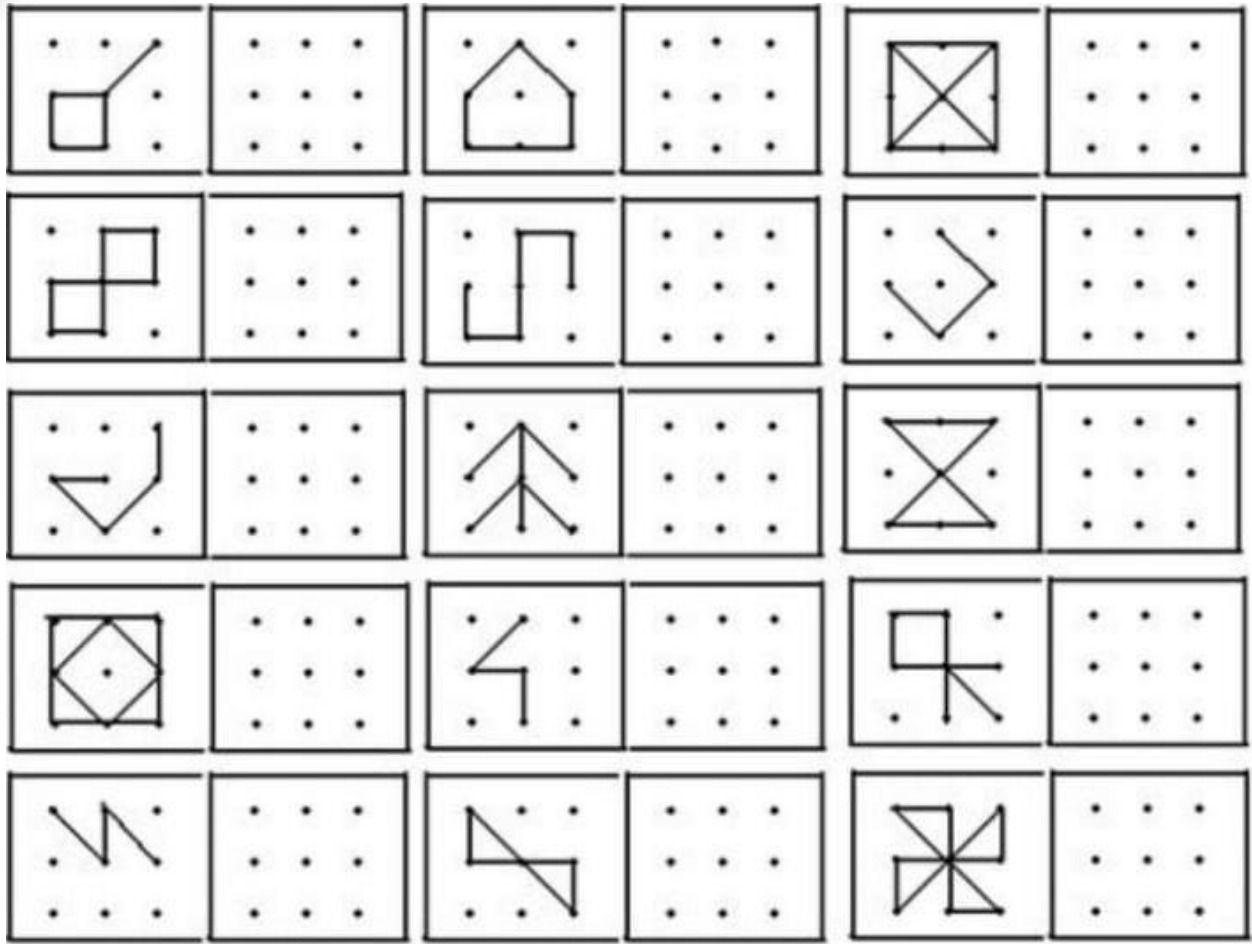
MA

MATEMÁTICA

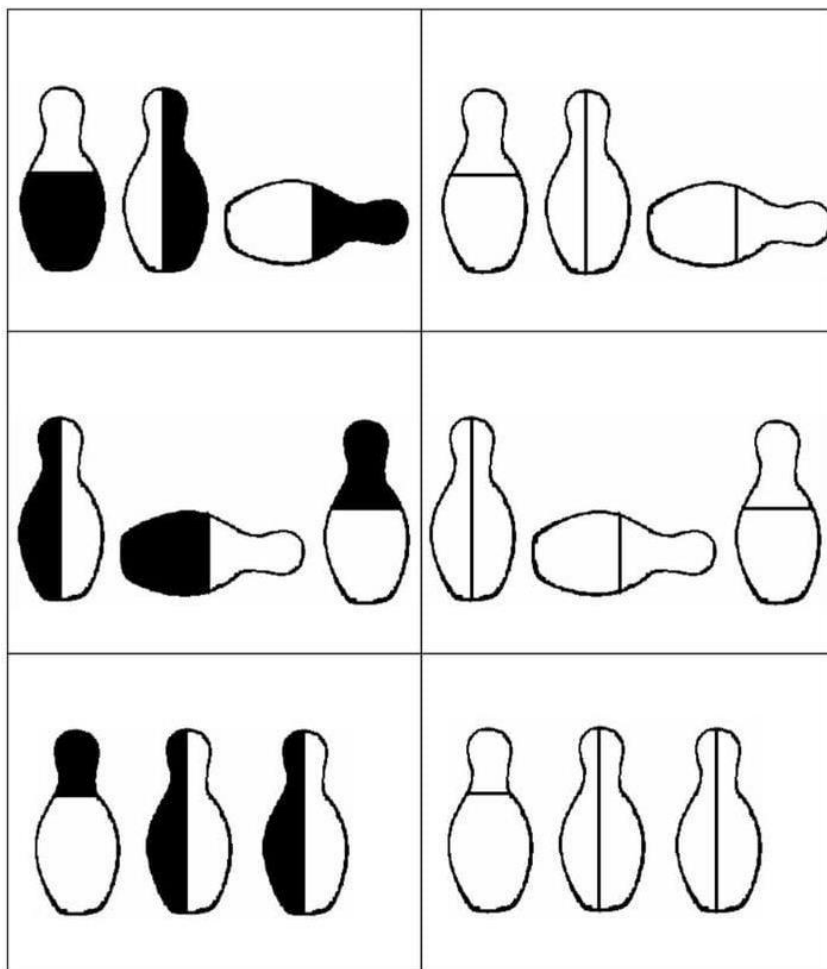
01 Calcule e faça como o modelo:

	-		=	R\$ 1,00
	-		=	
	+		=	
	+		=	
	+		=	
	+		=	
	-		=	
	-		=	
	-		=	
	+		=	

02 Observe as figuras e reproduza nos espaços ao lado.



03 Pinte os pinos de boliche na mesma posição da figura ao lado.





UNIDADE ESCOLAR:

PROFESSORA

DATA

1ª SEMANA DE DEZEMBRO

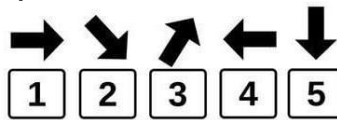
NOME:

FASE

CÓDIGO BNCC

LP **LÍNGUA PORTUGUESA**

01 Complete conforme o exemplo:





→	↘	↗	←	↓
<input type="text"/>	<input type="text"/>	<input type="text"/>	<input type="text"/>	<input type="text"/>
↗	←	↓	←	↓
<input type="text"/>	<input type="text"/>	<input type="text"/>	<input type="text"/>	<input type="text"/>
↗	↓	→	↘	←
<input type="text"/>	<input type="text"/>	<input type="text"/>	<input type="text"/>	<input type="text"/>

02 Procure abaixo e pinte, todos os números 63 de amarelo e de azul os 18.

9	6	3	7	5	3	2	1	1	8
3	1	8	0	4	3	4	3	6	1
8	8	3	8	6	3	2	1	6	3
6	2	1	8	5	7	8	3	8	0
5	1	3	4	6	8	9	3	0	6
1	7	2	5	7	3	6	3	1	8
3	5	1	8	3	5	8	7	2	6
9	6	3	4	0	3	6	6	3	3

03 Ache os erros na figura abaixo:



04 Pinte o ábaco de acordo com o modelo:

