

PREFEITURA MUNICIPAL DE BOM JESUS DO ITABAPOANA-RJ  
SECRETARIA MUNICIPAL DE EDUCAÇÃO, ESPORTE E LAZER

# Atividades Orientadoras



## Educação de Jovens e Adultos

### FASE IV

UNIDADE ESCOLAR:

PROFESSORA

DATA

1ª SEMANA DE DEZEMBRO

NOME:

FASE

CÓDIGO BNCC



Leia o texto e responda as questões a seguir:

“Antônio Mendonça saía de sua casa, todos os dias de manhã para ir trabalhar. Na segunda-feira, o Antônio devia chegar mais cedo à sua empresa para ir à reunião dos trabalhadores. No entanto, no domingo à noite esqueceu-se de colocar o despertador e adormeceu na manhã seguinte. Quando chegou à empresa a reunião já tinha terminado.”

01 Como se chama o personagem principal da história?

---

02 Porque saía todas as manhãs de sua casa?

---

03 Tinha alguma reunião na quarta-feira?

---

04 O que é que se esqueceu de fazer no domingo à noite?

---

05 O que tinha terminado quando chegou à empresa?

---

06 Com quem era a reunião?

---

07 Complete as lacunas com o nome das figuras:



Maria faz doces com \_\_\_\_\_ de pau.

José adora ler \_\_\_\_\_ .

Fernando tem um \_\_\_\_\_ de estimação.

A \_\_\_\_\_ de Ruth é macia.

Antônio pendurou o casaco no \_\_\_\_\_ .

A \_\_\_\_\_ de Joaquim é feita de alvenaria.

08 Assinale as palavras que começam pelo mesmo som:

### Escada

Prestes – mestre – escola – estalar – estrada

### Chapéu

Chuva – escada – cacho – xilofone - marcha

09 Assinale as palavras que terminam pelo mesmo som:

### Mãos

Irmãos – cristãos – colchões – pães - coração

### Dizer

Cozer – amanhecer – falar – ouvir – beber



UNIDADE ESCOLAR:

PROFESSORA

DATA

1ª SEMANA DE DEZEMBRO

NOME:

FASE

CÓDIGO BNCC



**01** Responda as perguntas abaixo:

**A** Quantos dias tem uma semana? Quais são?

---

---

**B** Quantos meses tem um ano? Quais são?

---

---

**C** Quantos dias tem um ano?

---

---

**D** Quantos dias tem um mês?

---

---

**E** Quantas horas tem um dia?

---

---

**F** Quantos minutos tem uma hora?

---

---

**G** Quantos segundos tem um minuto?

---

---

02

Resolva as adições a seguir:

+3 +4 +8 +1 +9 +3 +4

6 ○ ○ ○ ○ ○ ○ ○ ○

+2 +4 +3 +9 +7 +7 +4

8 ○ ○ ○ ○ ○ ○ ○ ○

+3 +1 +3 +8 +7 +8 +6


15 ○ ○ ○ ○ ○ ○ ○ ○

+7 +4 +6 +5 +9 +6 +7

9 ○ ○ ○ ○ ○ ○ ○ ○

03

Ache as 10 diferenças da imagem abaixo.







UNIDADE ESCOLAR:

PROFESSORA

DATA

1ª SEMANA DE DEZEMBRO

NOME:

FASE

CÓDIGO BNCC



**01** Relacione as perguntas com as respostas corretas.

- (1) Já tomou o comprimido? ( ) há 15 anos  
(2) Quanto custa as calças? ( ) sim, fiz exame a semana passada  
(3) Há quanto tempo trabalha? ( ) tomo-os ao deitar

**02** Das palavras que se seguem escreva quatro exemplos de coisas que sejam:

**Profissões**

---

---

---

---

**Bebidas**

---

---

---

---

**Coisas que se fazem todos os dias**

---

---

---

---

**eletrodoméstico**

---

---

---

---

03 Identifique o erro nas frases e reescreva-as corretamente.

Eu gosto muito do teu irmã.

---

Hoje fui comprei uns sapatos.

---

O senhores acabaram a reunião.

---

Os cães ladrou toda a noite.

---

O céu está com muitas núvem, deve choveu.

---

Fechei o livro e comecei o ler.

---

04 Imagine e escreva o que pode provocar em si as seguintes sensações.

Gelado \_\_\_\_\_

Conforto \_\_\_\_\_

Amargo \_\_\_\_\_

Assustador \_\_\_\_\_

Doce \_\_\_\_\_

Áspero \_\_\_\_\_

Salgado \_\_\_\_\_

Macio \_\_\_\_\_

05 Escreva alguns nomes relacionados com:

Frutos: \_\_\_\_\_ profissões: \_\_\_\_\_

Terras: \_\_\_\_\_ divisões de casa: \_\_\_\_\_

Vestuário: \_\_\_\_\_ legumes: \_\_\_\_\_



UNIDADE ESCOLAR:

PROFESSORA

DATA  
1ª SEMANA DE DEZEMBRO





















NOME:

FASE

CÓDIGO BNCC

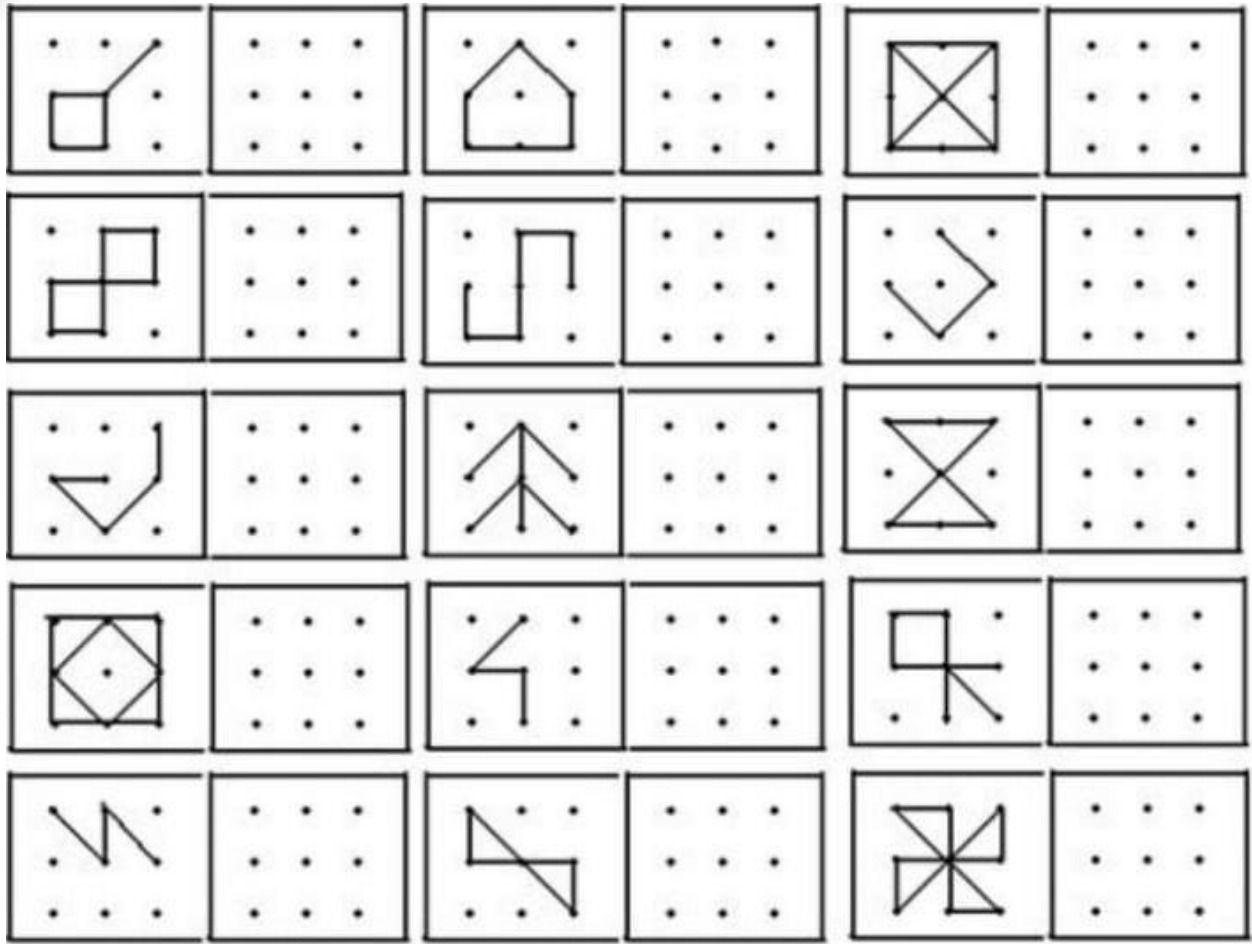
**MA** **MATEMÁTICA**

01 Calcule e faça como o modelo:

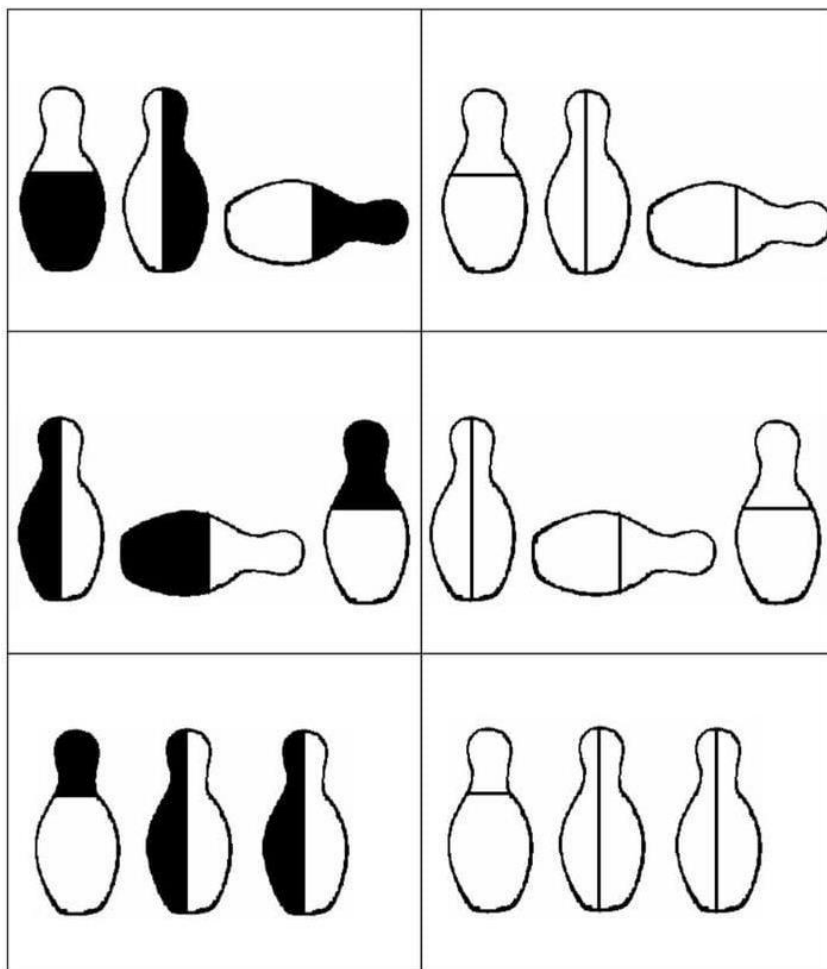
	-		=	R\$ 1,00
	-		=	
	+		=	
	+		=	
	+		=	
	+		=	
	-		=	
	-		=	
	-		=	
	+		=	



02 Observe as figuras e reproduza nos espaços ao lado.



03 Pinte os pinos de boliche na mesma posição da figura ao lado.





UNIDADE ESCOLAR:

PROFESSORA

DATA

1ª SEMANA DE DEZEMBRO

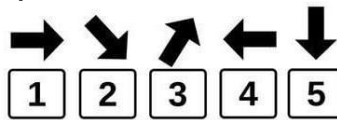
NOME:

FASE

CÓDIGO BNCC

**LP** **LÍNGUA PORTUGUESA**

**01** Complete conforme o exemplo:





→	↘	↗	←	↓
<input type="text"/>	<input type="text"/>	<input type="text"/>	<input type="text"/>	<input type="text"/>
↗	←	↓	←	↓
<input type="text"/>	<input type="text"/>	<input type="text"/>	<input type="text"/>	<input type="text"/>
↗	↓	→	↘	←
<input type="text"/>	<input type="text"/>	<input type="text"/>	<input type="text"/>	<input type="text"/>

**02** Procure abaixo e pinte, todos os números 63 de amarelo e de azul os 18.

9	6	3	7	5	3	2	1	1	8
3	1	8	0	4	3	4	3	6	1
8	8	3	8	6	3	2	1	6	3
6	2	1	8	5	7	8	3	8	0
5	1	3	4	6	8	9	3	0	6
1	7	2	5	7	3	6	3	1	8
3	5	1	8	3	5	8	7	2	6
9	6	3	4	0	3	6	6	3	3

03 Ache os erros na figura abaixo:



04 Pinte o ábaco de acordo com o modelo:

