

PREFEITURA MUNICIPAL DE BOM JESUS DO ITABAPOANA-RJ
SECRETARIA MUNICIPAL DE EDUCAÇÃO, ESPORTE E LAZER

SEMEEL

A mudança está em nossas mãos

Atividades Orientadoras



2º
ano

Ensino Fundamental

UNIDADE ESCOLAR:

PROFESSOR(A)

ANO DE ESCOLARIDADE

DATA

NOME:

HOJE É?

SEGUNDA TERÇA QUARTA QUINTA SEXTA

CÓDIGO BNCC

LÍNGUA PORTUGUESA

TRABALHANDO COM BILHETE

EU ME CHAMO SOFIA.
VOU FAZER MINHA FESTA DE ANIVERSÁRIO COM
O TEMA DE UMA ESTAÇÃO DO ANO.
AH, VOU ENVIAR UM BILHETE PEDINDO AJUDA À
MINHA AMIGA.



MARIANA,
PRECISO FALAR COM VOCÊ
SOBRE A MINHA FESTA DE
ANIVERSÁRIO. VENHA À MINHA
CASA, AMANHÃ, ÀS 14:00 HORAS.

BEIJINHOS,

SOFIA

25/09/2020

1. O QUE A MENINA SOFIA IRÁ FAZER?

2. DE QUAL ESTAÇÃO DO ANO SOFIA ESTÁ FALANDO? COMO VOCÊ CHEGOU A ESTA CONCLUSÃO?

3. DE QUE FORMA SOFIA ENTROU EM CONTATO COM SUA AMIGA?


4. LEIA O BILHETE E RESOLVA AS QUESTÕES.

- PARA QUEM É ESSE BILHETE? PINTE A RESPOSTA CERTA:

MARIA

SOFIA

MARIANA



- QUAL O ASSUNTO DO BILHETE?

- ONDE E QUANDO SERIA O ENCONTRO DAS MENINAS?

- QUEM ENVIOU O BILHETE?

- AGORA, ESCREVA UM BILHETE PARA ALGUÉM, OBSERVANDO OS MESMOS PASSOS DO BILHETE DE SOFIA.

A large rectangular area for writing a letter, framed by a decorative border. The border features a wavy line at the bottom, a scalloped line at the top, and small circles at the corners. There are also floral decorations on the top and bottom edges. Inside the frame, there are seven horizontal lines for writing.

UNIDADE ESCOLAR:

PROFESSOR(A)

ANO DE ESCOLARIDADE

DATA

NOME:

HOJE É?

SEGUNDA TERÇA QUARTA QUINTA SEXTA

CÓDIGO BNCC

EF02MA01 – EF02MA03

123 MATEMÁTICA 123

1. COMPLETE A SEQUÊNCIA NUMÉRICA:


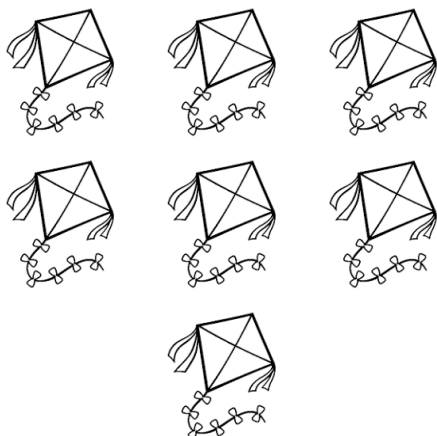
1				5			8		10
		13			16			19	
			24						
31									40
	42					47			



2. PINTE A MAÇÃ COM MAIOR NUMERAL:

3. COMPARE AS QUANTIDADES E MARQUE O NÚMERO QUE REPRESENTA A QUANTIDADE CORRETA, CONFORME O INDICADO:

QUANTIDADE MAIOR



8

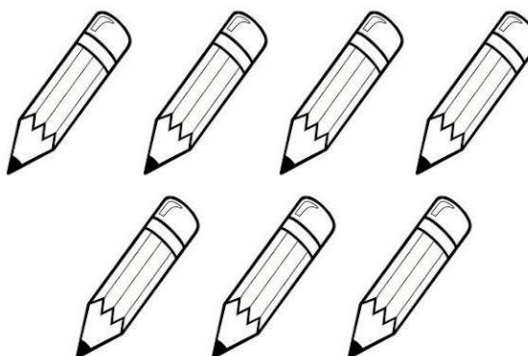

2

5

9

7

QUANTIDADE MENOR



6


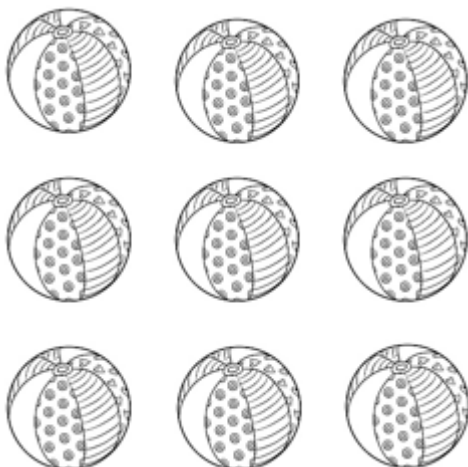
7

8

0

5

QUANTIDADE IGUAL



0

8

6

9

4

UNIDADE ESCOLAR:

PROFESSOR(A)

ANO DE ESCOLARIDADE

DATA

NOME:







HOJE É?

SEGUNDA TERÇA QUARTA QUINTA SEXTA








CÓDIGO BNCC



ABC LÍNGUA PORTUGUESA


1. PINTE OS QUADRINHOS QUE FORMAM O NOME DOS DESENHOS E DEPOIS ESCREVA-OS NOS RETÂNGULOS:


	TO	BI	VI	MA	PO	O	TE	
	FA	SA	CO	PA	PO	CA	TO	
	NA	LO	CA	NE	VI	CA	A	
	NA	BI	BO	CE	PO	LA	NE	
	BOR	BI	BO	CE	LE	O	TA	
	PI	BI	RU	LI	PO	TO	FU	

2. FORME PALAVRAS DE ACORDO COM A LEGENDA:

						
CA	TE	JI	LA	RI	GO	PE







3. SEPARE AS SÍLABAS DAS PALAVRAS ABAIXO E CONTE QUANTAS TEM:

SORVETE....

--	--	--

TELEVISÃO..

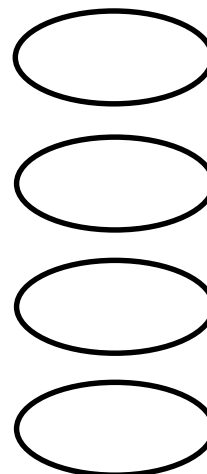
--	--	--	--

FLOR.....

--

POTE.....

--	--



UNIDADE ESCOLAR:

PROFESSOR(A)

ANO DE ESCOLARIDADE

DATA

NOME:

HOJE É?

SEGUNDA

TERÇA

QUARTA

QUINTA



SEXTA

CÓDIGO BNCC


123 MATEMÁTICA 123

ESQUERDA OU DIREITA?

1. ESCREVA, NAS SETAS ABAIXO, A DIREÇÃO PARA QUAL ELAS ESTÃO APONTANDO:



2. CIRCULE O LÁPIS ESTÁ APONTANDO PARA A DIREITA:



3. OBSERVE SUA SALA DE AULA E RESPONDA:

A) QUAL O NOME DA PESSOA QUE ESTÁ À SUA DIREITA?

B) QUAL O NOME DA PESSOA QUE ESTÁ À SUA ESQUERDA?

C) DESENHE ALGUM OBJETO QUE ESTÁ À SUA ESQUERDA:

