

SEMEEL

SECRETARIA MUNICIPAL DE EDUCAÇÃO, ESPORTE E LAZER

A mudança está em nossas mãos

Atividades Orientadoras



Ensino Fundamental



SEMEEL

SECRETARIA MUNICIPAL DE
EDUCAÇÃO, ESPORTE E LAZER

A mudança está em nossas mãos

SEJAM TODOS BEM-VINDOS!

**É dada a largada para mais um ano de
muito aprendizado, novas amizades e
memórias únicas!**

**Que seja o começo de um caminho repleto
de experiências e aprendizagens valiosas!
Que possamos juntos semear conhecimentos
e, no final, colhermos os frutos dessa
parceria de sucesso!**

Um ótimo início de aulas a todos!



UNIDADE ESCOLAR:

PROFESSOR(A)

ANO DE ESCOLARIDADE

DATA

NOME:

HOJE É?

SEGUNDA TERÇA QUARTA QUINTA SEXTA

CÓDIGO BNCC

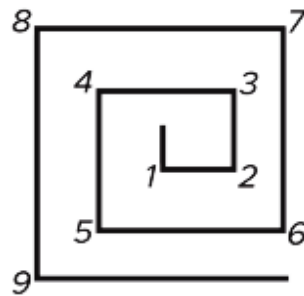
MATEMÁTICA



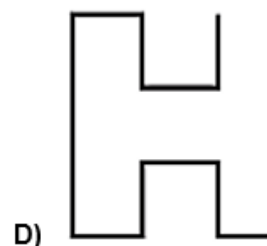
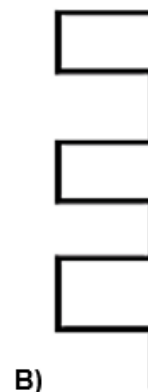
**“O estudo não é apenas um meio para alcançar sucesso, mas também uma forma de expandir a mente e enriquecer a alma.”
Vamos começar mais um ano letivo?**

Problemas matemáticos: A seguir, resolva alguns desafios matemáticos onde você irá exercitar seu cérebro e estimular o seu raciocínio.

Desafio 1: O professor Marcos fez a seguinte figura no quadro:

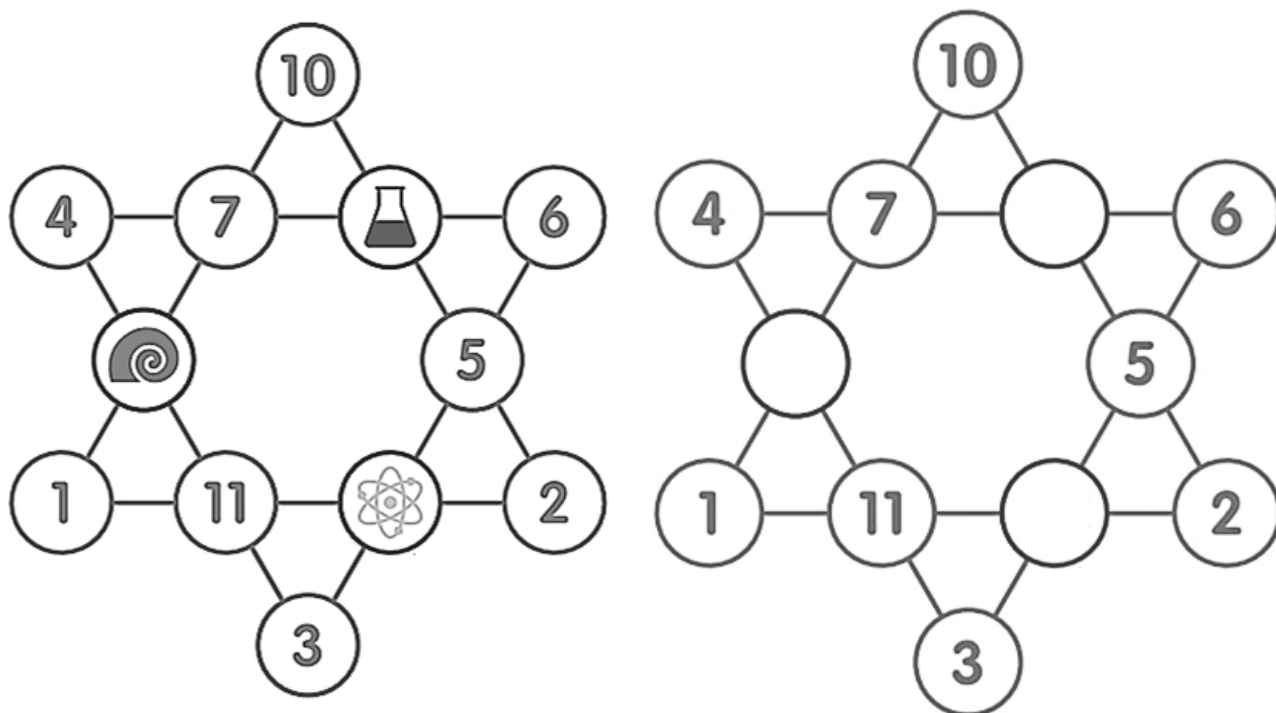


Para cada vértice da figura é registrado um número natural em ordem crescente. Qual das alternativas possui uma figura cuja soma dos números registrados em cada vértice é igual a 66?

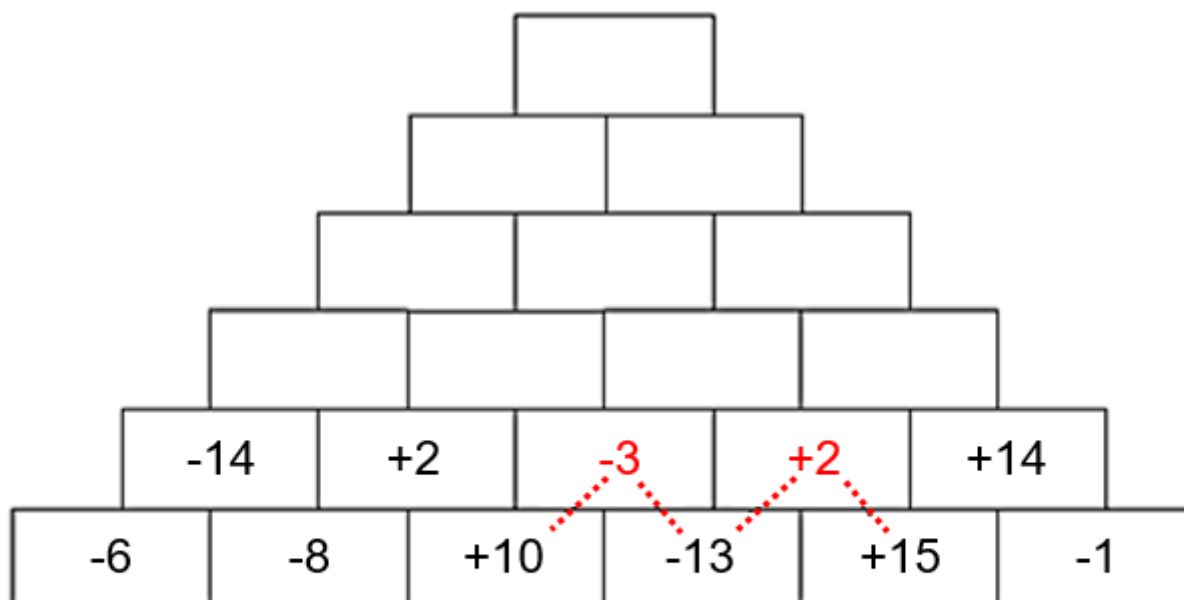


Lembrando: Um vértice é um ponto em que duas ou mais curvas, retas ou arestas se encontram. Como consequência dessa definição, o ponto em que duas retas se encontram para formar um ângulo e os cantos dos polígonos e dos poliedros são vértices.

Desafio 2: Preencha cada círculo com números de 1 a 12, substituindo as imagens, de forma que a soma dos números de cada linha seja sempre a mesma.



Desafio 3: A pirâmide abaixo esconde um segredo em seu topo. Esse segredo é um número inteiro. Complete cada bloco da pirâmide, conforme o modelo e descubra seu segredo.



Observe: $+10 - 13 = -3$
 $-13 + 15 = +2$