

**PREFEITURA MUNICIPAL DE BOM JESUS DO ITABAPOANA-RJ**  
**SECRETARIA MUNICIPAL DE EDUCAÇÃO, ESPORTE E LAZER**

# **Atividades Orientadoras**



## **Educação de Jovens e Adultos**

### **FASE III**



UNIDADE ESCOLAR:

PROFESSORA

DATA

NOME:

FASE

CÓDIGO BNCC



1- Escreva um nome para cada letra do alfabeto:

A		N	
B		O	
C		P	
D		Q	
E		R	
F		S	
G		T	
H		U	
I		V	
J		W	
K		X	
L		Y	
M		Z	



UNIDADE ESCOLAR:

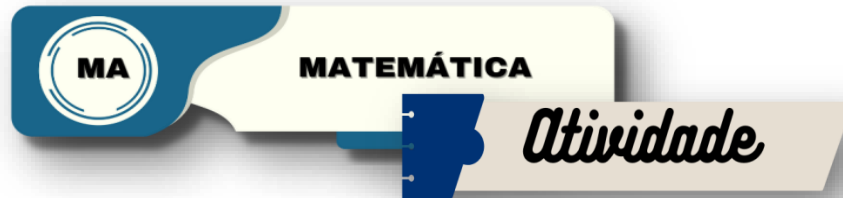
PROFESSORA

DATA

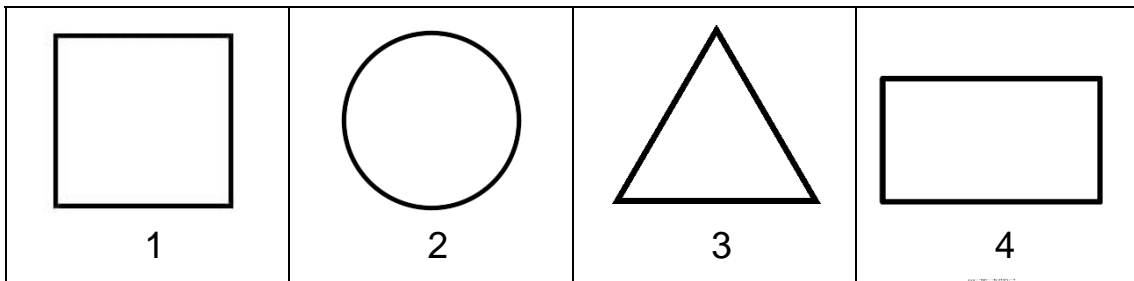
NOME:

FASE

CÓDIGO BNCC



1- Numere a tabela de acordo com o nome das formas geométricas planas:



<input type="checkbox"/>	TRIÂNGULO
<input type="checkbox"/>	QUADRADO
<input type="checkbox"/>	CIRCULO
<input type="checkbox"/>	RETÂNGULO

2- Anote quantos lados tem as formas geométricas planas abaixo:



\_\_\_\_\_



\_\_\_\_\_



\_\_\_\_\_



\_\_\_\_\_

3- De acordo com o que você estudou, como se chamam as formas geométricas acima?

\_\_\_\_\_





UNIDADE ESCOLAR:

PROFESSORA

DATA


NOME:

FASE

CÓDIGO BNCC

**MA** **MATEMÁTICA**  
*Atividade*

1- Conte as formas geométricas e pinte no gráfico a quantidade indicada:



9				
8				
7				
6				
5				
4				
3				
2				
1				
0				



RETÂNGULO



TRIÂNGULO



QUADRADO



CÍRCULO



UNIDADE ESCOLAR:

PROFESSORA

DATA

NOME:

FASE

CÓDIGO BNCC

**LP** **LÍNGUA PORTUGUESA**  
*Atividade*

1- Complete com as letras que vêm antes e depois:

B

D

F



H

J

L

N

P

R



T

V

2- Seguindo a ordem alfabética, diga qual letra ocupa as posições a seguir:

1ª \_\_\_\_\_

13ª \_\_\_\_\_

5ª \_\_\_\_\_

15ª \_\_\_\_\_

8ª \_\_\_\_\_

22ª \_\_\_\_\_