

PREFEITURA MUNICIPAL DE BOM JESUS DO ITABAPOANA-RJ
SECRETARIA MUNICIPAL DE EDUCAÇÃO, ESPORTE E LAZER

SEMEEL

A mudança está em nossas mãos

Atividades Orientadoras



1º ano

Ensino Fundamental

UNIDADE ESCOLAR:

PROFESSOR(A) ANO DE ESCOLARIDADE DATA

1º ANO

1ª SEMANA (04 A 08/03)

NOME:

HOJE É?

CÓDIGO BNCC

SEGUNDA

TERÇA

QUARTA

QUINTA

SEXTA

EF01LP01- EF15LP18 - EF01LP17

LÍNGUA PORTUGUESA

Dengue

POR AREIA NO VASINHO
VIRAR AS GARRAFAS PARA BAIXO
ANOTE BEM ESSE RECADO
COM A DENGUE É BOM TOMAR CUIDADO.



A DENGUE É UMA DOENÇA
QUE PODEMOS EVITAR
MANTENDO O QUINTAL LIMPINHO
E SEM DEIXAR ÁGUA EMPOÇAR.



FEBRE ALTA E PINTNHAS
O CORPO E A CABEÇA A DOER
VAMOS TODOS TER CUIDADO
PRO MOSQUITO NÃO APARECER.




THUANY SILVEIRA SOARES VENADES


1. PINTE CADA PAR DE RIMAS DE UMA COR.

2. QUANTAS PALAVRAS VOCÊ PINTOU?

3. PINTE AS FIGURAS QUE REPRESENTAM OS SINTOMAS DA DENGUE.



4. MARQUE AS OPÇÕES QUE DIZEM COMO COMBATER A DENGUE.



<input type="checkbox"/>	DEVEMOS DEIXAR ÁGUA PARADA NO QUINTAL.
<input type="checkbox"/>	DEVEMOS USAR O REPELENTE PARA AFASTAR OS MOSQUITOS.
<input type="checkbox"/>	PODEMOS DEIXAR GARRAFAS, PNEUS E BACIAS DESCOBERTAS NO QUINTAL.
<input type="checkbox"/>	DEVEMOS CUIDAR PARA NÃO DEIXAR ÁGUA PARADA EM NOSSA CASA.

3. FAÇA UMA LISTA, COM AJUDA DO PROFESSOR, DE OBJETOS QUE PODEM ACUMULAR ÁGUA SE FICAREM JOGADOS PELO QUINTAL:



UNIDADE ESCOLAR:

PROFESSOR(A)

ANO DE ESCOLARIDADE

DATA

NOME:

HOJE É?

SEGUNDA TERÇA QUARTA QUINTA SEXTA

CÓDIGO BNCC

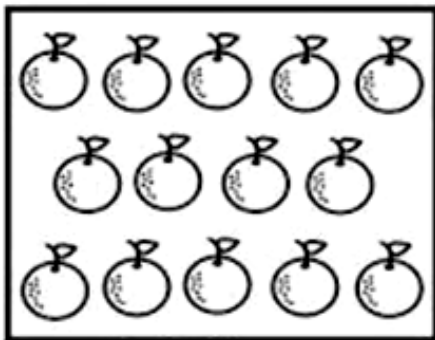
123 MATEMÁTICA 123


1. COMPLETE A SEQUÊNCIA NUMÉRICA COM OS NUMERAIS FALTOSOS.





0			3				7		
		12			15			18	
20				24					29

2. CONTE E REGISTRE A QUANTIDADE:






















3. PINTE PARA REPRESENTAR AS QUANTIDADES:



UNIDADE ESCOLAR:

PROFESSOR(A)

ANO DE ESCOLARIDADE
1º ANO

DATA
1ª SEMANA (04 A 08/03)

NOME:

HOJE É?

SEGUNDA

TERÇA

QUARTA

QUINTA

SEXTA

CÓDIGO BNCC

EF01LP08 - EF01LP17

ABC LÍNGUA PORTUGUESA

ENCONTRO VOCÁLICO

ENCONTRO VOCÁLICO: É O RESULTADO DA JUNÇÃO DE DUAS OU MAIS VOGAIS EM UMA MESMA PALAVRA.

EXEMPLO: CORAÇÃO, MAMÃE, POETA, PERGUNTOU.

1. CIRCULE OS ENCONTROS VOCÁLICOS DAS PALAVRAS ABAIXO:


MÃOS	CADEIRA	MAMÃE	VIOLÃO	CHAPÉU

2. ORDENE AS PALAVRAS ACIMA EM ORDEM ALFABÉTICA:


1 <input type="text"/>	4 <input type="text"/>
2 <input type="text"/>	3 <input type="text"/>
	5 <input type="text"/>



3. FORME UMA FRASE COM A IMAGEM ABAIXO:



4. LEIA A MÚSICA, COM AJUDA DA PROFESSORA, E CIRCULE OS ENCONTROS VOCÁLICOS:



ATIREI O PAU NO GATO TÔ
MAS O GATO TÔ
NÃO MORREU REU REU
DONA CHICA CÁ
ADMIROU-SE SE
DO BERRO, DO BERRO
QUE O GATO DEU:
– MIAU!

CANTIGA POPULAR

5. ESCREVA ABAIXO AS PALAVRAS QUE VOCÊ CIRCULOU:

Blank writing lines for the student to write the words they circled in the song.



6. FORME FRASES COM AS IMAGENS ABAIXO:



Blank writing lines for the student to form a sentence using the crab image.



Blank writing lines for the student to form a sentence using the chair image.

UNIDADE ESCOLAR:

PROFESSOR(A)

ANO DE ESCOLARIDADE

DATA

NOME:

HOJE É?

SEGUNDA

TERÇA

QUARTA

QUINTA


SEXTA

CÓDIGO BNCC

EF01MA05 – EF01MA15

123 MATEMÁTICA 123

1. COMPLETE A SEQUÊNCIA NUMÉRICA E RESPONDA:



A) QUAL É O **MENOR** NÚMERO DA SEQUÊNCIA?

B) QUAL É O **MAIOR** NÚMERO DA SEQUÊNCIA?

C) COPIE DOIS NÚMEROS QUE TERMINEM EM 0:

D) **DESAFIO:** SOU MAIOR QUE O NÚMERO 10 E MENOR QUE O NÚMERO 12. SOU O _____.

E) ESCREVA OS NÚMEROS MAIORES QUE 20: