

PREFEITURA MUNICIPAL DE BOM JESUS DO ITABAPOANA-RJ
SECRETARIA MUNICIPAL DE EDUCAÇÃO, ESPORTE E LAZER

SEMEEL

A mudança está em nossas mãos

Atividades Orientadoras



1º ano

Ensino Fundamental

UNIDADE ESCOLAR:

PROFESSOR(A)

ANO DE ESCOLARIDADE
1º ANO

DATA
2ª SEMANA (11 A 15/03)

NOME:

HOJE É?

SEGUNDA

TERÇA

QUARTA

QUINTA

SEXTA

CÓDIGO BNCC

EF01LP01.RJ – EF01LP07.RJ – EF12LP07

LÍNGUA PORTUGUESA

1. LEIA O TEXTO ABAIXO E DEPOIS CANTE A MÚSICA:

PIRULITO QUE BATE, BATE

PIRULITO QUE BATE, BATE

PIRULITO QUE JÁ BATEU

QUEM GOSTA DE MIM É ELA

QUEM GOSTA DELA SOU EU.



2. PINTE AS LETRAS **P** NO TEXTO.

3. CIRCULE, NO TEXTO, AS PALAVRAS QUE COMEÇAM COM A LETRA **P**.


4. ESCREVA A PALAVRA QUE VOCÊ CIRCULOU.

--	--	--	--	--	--	--	--

5. QUANTAS LETRAS TÊM NA PALAVRA **PIRULITO**?

6. QUAL É A PRIMEIRA LETRA DA PALAVRA **PIRULITO**?

7. QUAL É A ÚLTIMA LETRA DA PALAVRA **PIRULITO**?



8. OBSERVE A PALAVRA E FAÇA O QUE SE PEDE:

P I R U L I T O

A) PINTE AS VOGAIS DE VERMELHO E ESCREVA ABAIXO:

--	--	--



B) PINTE AS CONSOANTES DE AMARELO E ESCREVA ABAIXO:

--	--	--	--

C) FALE A PALAVRA **PIRULITO** BATENDO PALMAS. FAÇA UM X PARA CADA PALMA QUE VOCÊ BATEU.



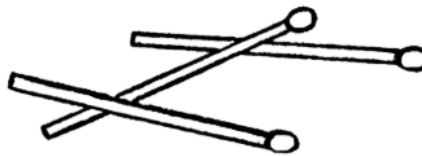
D) ESCREVA CADA SÍLABA EM UM QUADRADO.

--	--	--	--


9. CIRCULE O QUE RIMA COM **PIRULITO**.



PIZZA




PALITO



OVO

10. PINTE A IMAGEM QUE COMEÇA COM A MESMA SÍLABA DA PALAVRA **PIRULITO**.



11. COMPLETE AS PALAVRAS COM AS SÍLABAS FALTOSAS: PA, PE, PI, PO, PU, PÃO.



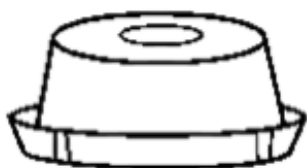
A ____ TO



CO ____



CHU ____ TA



____ DIM




JA ____



____ NELA

12. PINTE, RECORTE E COLE AS IMAGENS EM SEUS RESPECTIVOS NOMES.

PEDRA	PAPEL	PÃO	PIPA	PATO
PICOLÉ	PORCO	PENA	PÉ	PORTA



UNIDADE ESCOLAR:

PROFESSOR(A)

ANO DE ESCOLARIDADE

DATA

NOME:

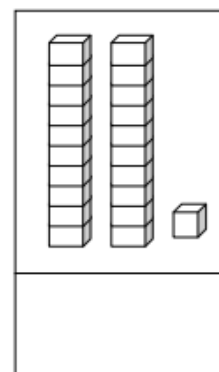
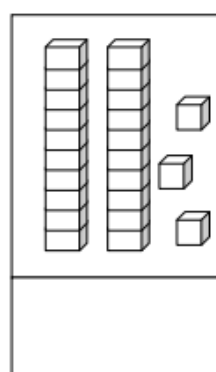
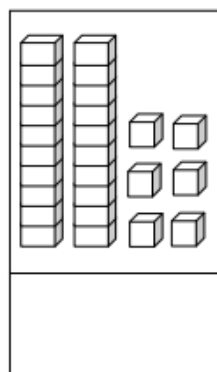
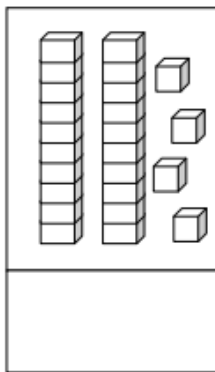
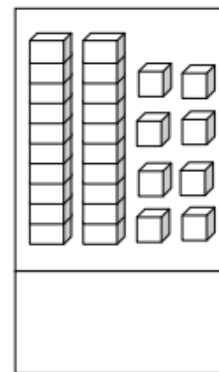
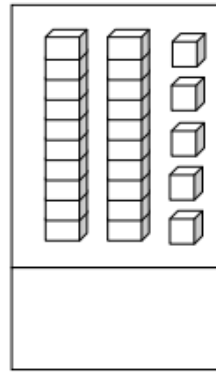
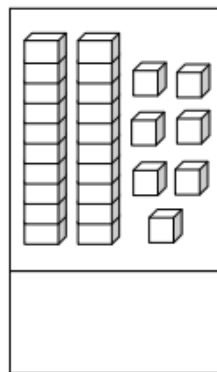
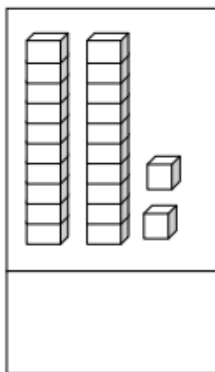
HOJE É?

SEGUNDA TERÇA QUARTA QUINTA SEXTA

CÓDIGO BNCC

123 MATEMÁTICA 123

1. ESCREVA O VALOR CORRESPONDENTE AO MATERIAL DOURADO E DEPOIS ESCREVA-OS EM ORDEM CRESCENTE (DO MENOR PARA O MAIOR):



<input type="text"/>	<input type="text"/>	<input type="text"/>	<input type="text"/>	<input type="text"/>	<input type="text"/>	<input type="text"/>	<input type="text"/>
----------------------	----------------------	----------------------	----------------------	----------------------	----------------------	----------------------	----------------------

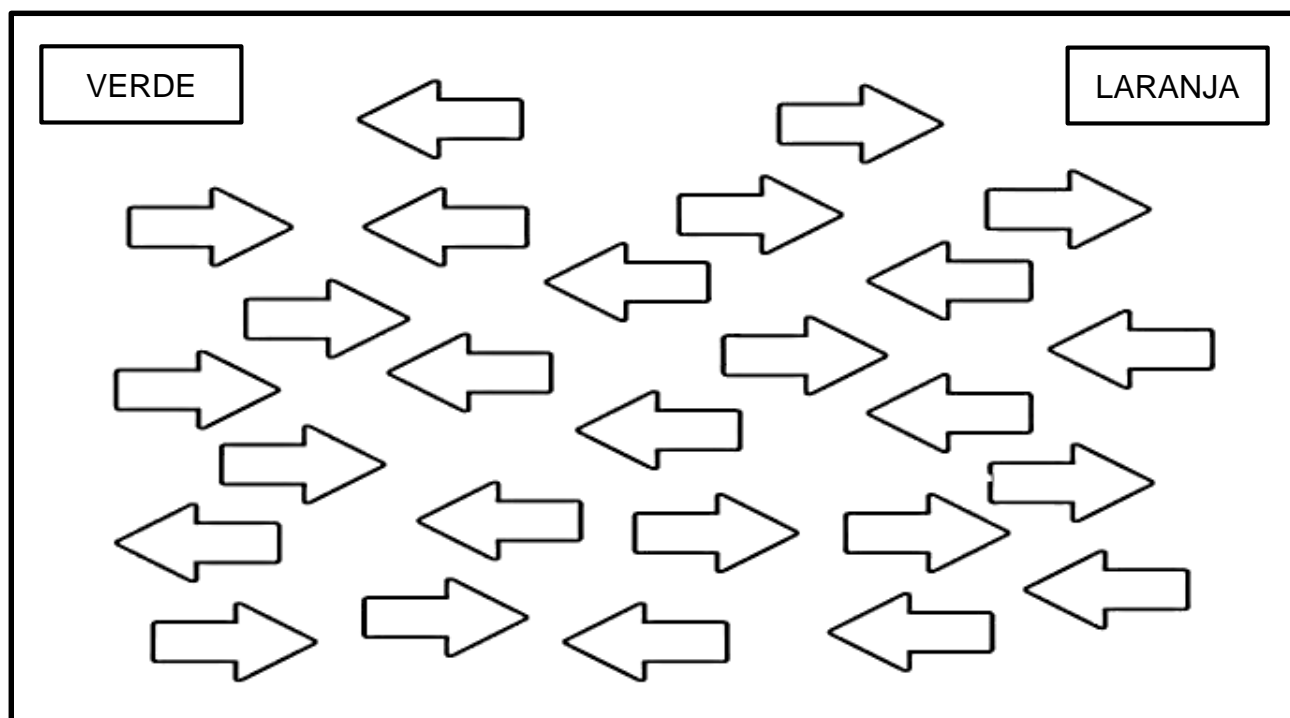
2. COMPLETE A SEQUÊNCIA NUMÉRICA:

1			4				9	
	12				17			
			25					30


3. CONTINUE DESENHANDO A SEQUÊNCIA DAS FIGURAS:



4. PINTE AS FLECHAS QUE APONTAM PARA A DIREITA DE LARANJA E AS QUE APONTAM PARA A ESQUERDA DE VERDE.



5. ORGANIZE OS NUMERAIS ABAIXO NA ORDEM DECRESCENTE (DO MAIOR PARA O MENOR):



UNIDADE ESCOLAR:

PROFESSOR(A)

ANO DE ESCOLARIDADE
1º ANO

DATA
2ª SEMANA (11 A 15/03)

NOME:

HOJE É?

SEGUNDA

TERÇA

QUARTA

QUINTA

SEXTA

CÓDIGO BNCC

EF01LP02 - EF01LP09 - EF01LP10


LÍNGUA PORTUGUESA

O TIL (~) É UM SINAL GRÁFICO E NÃO UM ACENTO.

NA LÍNGUA PORTUGUESA ELE PODE ACOMPANHAR AS VOGAIS A E O.



1. LEIA O TEXTO ABAIXO, ENCONTRE AS PALAVRAS QUE TÊM TIL, PINTE-AS E ESCREVA AO LADO:



O P ESTÁ NA PIPA
NA PANELA E NO PÃO.
ESTÁ NO PATO E NO PULO
NA PIPOCA E NO PIÃO.

2. CIRCULE O NOME DE CADA DESENHO EM DESTAQUE:



BALA

BOTÃO

BALÃO



CORAÇÃO

CANHÃO

COLCHÃO



LIVRO







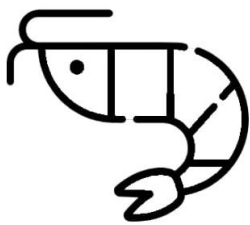
LIMÃO

LITRÃO



3. COLOQUE O NOME DAS FIGURAS NA ORDEM DO ALFABETO:

A- B- C- D- E- F- G- H- I- J- K- L- M-
N- O- P- Q- R- S- T- U- V- W- X- Y- Z



- | | |
|----------|-----------|
| 1- _____ | 6- _____ |
| 2- _____ | 7- _____ |
| 3- _____ | 8- _____ |
| 4- _____ | 9- _____ |
| 5- _____ | 10- _____ |

PRODUÇÃO TEXTUAL



QUE TAL ORGANIZARMOS UMA LISTA DE REGRAS PARA MELHOR CONVIVÊNCIA NA SALA DE AULA?

CADA ALUNO DÁ UMA SUGESTÃO PARA A LISTA E A O(A) PROFESSOR(A) TRANSCREVE EM UM CARTAZ QUE FICARÁ EXPOSTO NA SALA PARA TODOS SEGUIREM.

VAI SER BEM DIVERTIDO!

UNIDADE ESCOLAR:

PROFESSOR(A)

ANO DE ESCOLARIDADE
1º ANO

DATA
2ª SEMANA (11 A 15/03)

NOME:

HOJE É?


SEGUNDA TERÇA QUARTA QUINTA SEXTA

CÓDIGO BNCC


EF01MA05 – EF01MA14


123 MATEMÁTICA 123


1. CONTE AS FORMAS GEOMÉTRICAS E PINTE O GRÁFICO DE ACORDO COM A QUANTIDADE CORRESPONDENTE PARA CADA UMA.




7				
6				
5				
4				
3				
2				
1				
0				



CÍRCULO


RETÂNGULO


TRIÂNGULO



QUADRADO

2. PINTE AS FIGURAS QUE POSSUEM O FORMATO DAS FORMAS GEOMÉTRICAS:



3. COMPLETE A SEQUÊNCIA NUMÉRICA:

0					5				
10				14					19
						26			



4. COMPLETE OS NÚMEROS VIZINHOS:

