

PREFEITURA MUNICIPAL DE BOM JESUS DO ITABAPOANA-RJ
SECRETARIA MUNICIPAL DE EDUCAÇÃO, ESPORTE E LAZER

Atividades Orientadoras



Educação de Jovens e Adultos

FASE II



UNIDADE ESCOLAR:

PROFESSORA

DATA

NOME:

FASE

CÓDIGO BNCC



1- ESCREVA SEU NOME ABAIXO:

A) ESCREVA ABAIXO A QUANTIDADE DE VOGAIS DO SEU NOME:

A

E

I

O

U

B) QUANTAS LETRAS TEM SEU NOME?

C) QUANTAS CONSOANTES TEM SEU NOME?

D) QUAIS AS CONSOANTES QUE ENCONTROU NO SEU NOME?

2- ESCREVA AS SÍLABAS VIZINHAS ABAIXO:

	MI	
	DE	
	PI	
	BO	

UNIDADE ESCOLAR:

PROFESSORA

DATA

NOME:

FASE

CÓDIGO BNCC




1- RESOLVA AS ADIÇÕES ABAIXO E DE ACORDO COM O RESULTADO, PINTE DA COR INDICADA:

$7 + 8 =$	$6 + 7 =$	$8 + 8 =$	$9 + 6 =$	$10 + 8 =$
$9 + 9 =$	$10 + 7 =$	$8 + 5 =$	$8 + 9 =$	$9 + 7 =$

16 VERMELHO	18 AMARELO	15 VERDE	17 AZUL	13 LARANJA
----------------	---------------	-------------	------------	---------------

2- FAÇA UM X NOS CÍRCULOS QUE ESTÃO OS NÚMEROS:





UNIDADE ESCOLAR:

PROFESSORA

DATA

NOME:

FASE

CÓDIGO BNCC



1- JUNTE AS LETRAS E FORME ENCONTROS VOCÁLICOS:

E + I =

O + I =

A + I =

U + I =

A + U =

A + O =

I + A =

E + U =

U + A + U =

2- ESCREVA OS ENCONTROS VOCÁLICOS FORMADOS:

<input type="text"/>	<input type="text"/>	<input type="text"/>	<input type="text"/>	<input type="text"/>	<input type="text"/>	<input type="text"/>	<input type="text"/>	<input type="text"/>
----------------------	----------------------	----------------------	----------------------	----------------------	----------------------	----------------------	----------------------	----------------------


3- COMPLETE OS NOMES DAS FIGURAS COM OS ENCONTROS VOCÁLICOS:



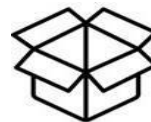
CHAP _____



SA _____



P _____ XE



C _____ XA



CEN _____ RA



UNIDADE ESCOLAR:

PROFESSORA

DATA

NOME:

FASE

CÓDIGO BNCC

MA **MATEMÁTICA**

1- O REFRIGERANTE É VENDIDO EM 4 TAMANHOS DE GARRAFAS DIFERENTES. DE 1 LITRO, 2 LITROS, 3 LITROS E 4 LITROS. QUANTOS LITROS TÊM EM CADA GARRAFA ABAIXO?

MARQUE A RESPOSTA CORRETA:



2 LITROS

3 LITROS

3 LITROS

2 LITROS

1 LITRO

2 LITROS

5 LITROS

3 LITROS

3 LITROS

4 LITROS

4 LITROS

4 LITROS

2- VAMOS COMPARAR OS PESOS. ESCREVA OS NÚMEROS 1, 2, 3 E 4 DO MAIS LEVE PARA O MAIS PESADO:





UNIDADE ESCOLAR:

PROFESSORA

DATA

NOME:

FASE

CÓDIGO BNCC



1- LEIA O TEXTO ABAIXO, COM AJUDA DO PROFESSOR:

OS SERES VIVOS

OS SERES **VIVOS** SÃO TUDO AQUILO QUE TEM **VIDA**,
COMO **PLANTAS**, **ANIMAIS** E **PESSOAS**.
ELES NASCEM, CRESCEM,
PODEM SE REPRODUZIR E MORREM.

2- ENCONTRE NO DIAGRAMA, AS PALAVRAS DESTACADAS NO TEXTO E CIRCULE-AS. PINTE OS ENCONTROS VOCÁLICOS:

P	L	A	N	T	A	S	K	A	I
O	I	P	E	S	S	O	A	S	S
Y	E	U	A	N	I	M	A	I	S
S	E	R	E	S	V	O	I	V	U
U	A	U	S	Q	V	I	V	O	S
E	I	X	Z	V	I	D	A	U	I